

الجمهورية العربية السورية
وزارة التربية والتعليم

الرياضيات

الجزء الثاني

الصف الثالث الثانوي العلمي

2025 – 2026 م

1447 هـ

حقوق الطبع والنشر محفوظة للتوزيع محفوظة للمؤسسة العامة للطباعة
حقوق التأليف والنشر محفوظة لوزارة التربية والتعليم في الجمهورية العربية السورية

طبع أول مرة للعام الدراسي 2016 – 2017 م

خطة توزيع منهج الرياضيات

يخصّص أربع حصص أسبوعياً لكتاب الرياضيات الجزء الثاني

الشهر	الأسبوع الأول	الأسبوع الثاني	الأسبوع الثالث	الأسبوع الرابع
أيلول	المسافة في الفراغ	أنشطة	الأشعة في الفراغ	الارتباط الخطّي لثلاثة أشعة المعلم في الفراغ
تشرين أول	مركز الأبعاد المتناسبة في الفراغ	تمرينات ومسائل: لتتعلّم البحث	تمرينات ومسائل قدماً إلى الأمم	الجداء السلّمي في المستوي الجداء السلّمي في الفراغ
تشرين ثاني	التعامد في الفراغ	تمرينات ومسائل لتتعلّم البحث وقدماً إلى الأمم	المستقيم والمستوي بصفتهما مراكز أبعاد متناسبة	تقاطع مستقيمتين ومستويات
كانون أول	أنشطة	مسائل: قدماً إلى لأمم	مجموعه الأعداد العقديّة مرافق عدد عقدي	الشكل المثليّ لعدد عقدي
كانون ثاني	امتحان الفصل الأول والعطلة الانتصافيّة			طويلة عدد عقدي وزاويته
شباط	الشكل الأسيّ لعدد عقدي	أنشطة	مسائل: قدماً إلى الأمم	استعمال العدد العقديّ
	المعادلة التربيعيّة ذات الأمثال	تمرينات ومسائل: لتتعلّم البحث	تمثيل الأشعة بأعداد عقديّة	الممثل لشعاع، الكتابة العقدية للتحويلات الهندسيّة
آذار	أنشطة	مسائل: قدماً إلى الأمم	التوافق	أنشطة، تمرينات ومسائل:
	تمرينات ومسائل: لتتعلّم البحث	إنشاء قوائم من عناصر مجموعة	منشور ذي الحدين	لتتعلّم البحث
نيسان	مسائل قدماً إلى الأمم	الاستقلال الاحتماليّ لمتحوّلين	أنشطة، تمرينات ومسائل تمرينات ومسائل	تمرينات ومسائل
	الاحتمالات المشروطة	المتحوّلات العشوائيّة		
أيار	تمرينات ومسائل	حل نماذج اختبارات		

المحتوى

① الأشعة في الفراغ 6

1. عموميّات 7
2. الارتباط الخطّي لثلاثة أشعة 10
3. المعلم في الفراغ 14
4. المسافة في الفراغ 18
5. مركز الأبعاد المتناسبة في الفراغ 21
- أنشطة 26
- تمرينات ومسائل 28

② الجداء السّلمي في الفراغ 38

1. الجداء السّلمي في المستوي (تذكرة) 39
2. الجداء السّلمي في الفراغ 42
3. التّعادم في الفراغ 45
4. المعادلة الديكارتيّة لمستوي 48
- أنشطة 52
- تمرينات ومسائل 55

③ المستقيّات والمستويّات في الفراغ 64

1. المستقيم والمستوي بصفتهما مراكز أبعاد متناسبة 67
2. التّمثيلات الوسيطيّة 71
3. تقاطع مستقيّات ومستويّات 74
4. تقاطع ثلاثة مستويّات 77
- أنشطة 81
- تمرينات ومسائل 83

الأعداد العقدية

④

88

1. مجموعة الأعداد العقدية 90
2. مرافق عدد عقدي 93
3. الشكل المثلثي لعدد عقدي 95
4. طويلة عدد عقدي وزاويته 98
5. الشكل الأسّي لعدد عقدي 101
6. المعادلات من الدرجة الثانية ذات الأمثال الحقيقية 104
- أنشطة 107
- تمارينات ومساائل 109

تطبيقات الأعداد العقدية في الهندسة

⑤

112

1. تمثيل الأشعة بأعداد عقدية 113
2. استعمال العدد العقدي الممثل لشعاع 115
3. الكتابة العقدية للتحويلات الهندسية 119
- أنشطة 123
- تمارينات ومساائل 125

التحليل التوافقي

⑥

130

1. إنشاء قوائم من عناصر مجموعة 132
2. التوافيق 136
3. خواص عدد التوافيق $\binom{n}{r}$ ، ومنتشر ذي الحدين 139
- أنشطة 144
- تمارينات ومساائل 147

الاحتمالات

152

1. الاحتمالات المشروطة 154
2. المتحوّلات العشوائيّة 162
3. الاستقلال الاحتماليّ لمتحوّلين عشوائيين 166
4. المتحوّلات العشوائيّة الحدانيّة 169
- أنشطة 175
- تمريّنات ومسائل 179

186

اختبارّات عامّة

194

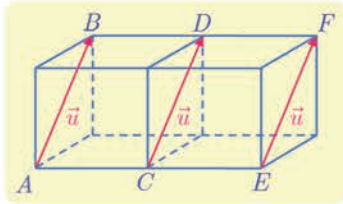
مسرّد المصطلحات العلميّة

1 الأشعة في الفراغ

1 عموميات

1.1. التعاريف وقواعد الحساب

يُعمَّم مفهوم الشعاع، الذي رأيناه في المستوي في الصف الثاني الثانوي، دونما فوارق، إلى الفراغ.



① نقرن بكلّ ثنائية نقاط (A, B) من الفراغ، الشعاع \overrightarrow{AB} .

■ في حالة $A \neq B$ ، يمتلك الشعاع \overrightarrow{AB} :

□ **منحى** هو منحى المستقيم (AB) .

□ **اتجهاً** يتفق مع الانتقال من A إلى B .

□ **طولاً** أو **نظيماً** هو المسافة بين A و B . نرمز إلى نظيم الشعاع \overrightarrow{AB} بالرمز $\|\overrightarrow{AB}\|$,

فيكون $\|\overrightarrow{AB}\| = AB$.

■ في حالة $A = B$ ، الشعاع \overrightarrow{AA} هو **الشعاع الصفري** ويرمز إليه بالرمز $\vec{0}$.

② نقول إنَّ أشعةً **متساوية** عندما تمتلك المنحى ذاته، والاتجاه ذاته، والطول ذاته. نكتب عندئذ،

$$\vec{u} = \overrightarrow{AB} = \overrightarrow{CD} = \overrightarrow{EF}$$

③ إذا لم تكن النقاط الأربع A و B و C و D على استقامة واحدة، عندئذ :

$$\overrightarrow{AB} = \overrightarrow{CD} \text{ « يكافئ » « } ABDC \text{ متوازي أضلاع »}$$

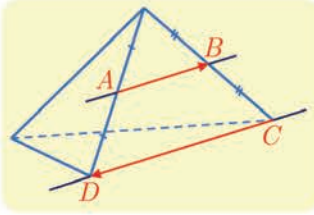
④ أيّاً تكن النقطة A من الفراغ، وأياً يكن الشعاع \vec{u} ، توجد نقطة واحدة B تحقق $\overrightarrow{AB} = \vec{u}$.

⑤ قواعد الحساب المتبعة مع الأشعة في الفراغ، هي ذاتها المتبعة مع الأشعة في المستوي (علاقة شال مثلاً).

2.1. الأشعة المرتبطة خطياً، التوازي والوقوع على استقامة واحدة

يُعرَّف الارتباط الخطي لشعاعين في الفراغ كما هي حال التعريف في المستوي. والأمر ذاته فيما يتعلّق بالمبرهنات والنتائج المترتبة عليها:

تعريف 1



القول إن الشعاعين \overline{AB} و \overline{CD} غير الصفريين، مرتبطان خطياً، يعني أن المستقيمين (AB) و (CD) متوازيان (الانطباق حالة خاصة من التوازي). أي إن لهما المنحى ذاته.
اصطُح أن الشعاع الصفرى وأي شعاع \vec{u} مرتبطان خطياً.

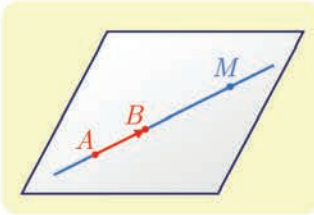
مبرهنة 1



- يكون الشعاعان \vec{u} و \vec{v} مرتبطين خطياً إذا وفقط إذا نتج أحدهما من الآخر بضربه بعدد حقيقي أي إذا وُجد عدد حقيقي k يحقق $\vec{v} = k\vec{u}$ أو وجد عدد حقيقي k' يحقق $\vec{u} = k'\vec{v}$.
- تكون النقاط المتمايزة A و B و C على استقامة واحدة إذا وفقط إذا كان الشعاعان \overline{AC} و \overline{AB} مرتبطين خطياً وهذا بدوره يكافئ وجود عدد حقيقي غير معدوم k يحقق $\overline{AB} = k\overline{AC}$.

ومتلما في المستوي، لدينا المبرهنة الآتية:

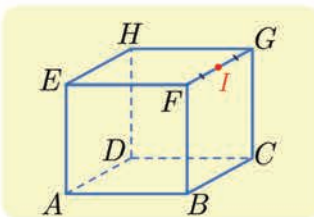
مبرهنة 2



لنكن A و B نقطتين مختلفتين من الفراغ، عندئذ المستقيم (AB) هو مجموعة النقاط M التي تجعل \overline{AM} و \overline{AB} مرتبطين خطياً، أي مجموعة النقاط M التي تحقق $\overline{AM} = t\overline{AB}$ حيث t من \mathbb{R} .

كيف نستفيد من قواعد الحساب؟

مثال



$ABCDEFHG$ مكعب و I منتصف الحرف $[FG]$.

① عيّن النقطة M التي تحقق العلاقة (1) الآتية:

$$\overline{AB} + \overline{AE} + \overline{FI} = \overline{AM}$$

② أثبت صحة العلاقة (2) الآتية:

$$\overline{AB} + \overline{CF} = \overline{AF} + \overline{CB}$$

الحل

① إذا كانت A نقطة معلومة وكان \vec{u} شعاعاً معلوماً، أمكن تعيين النقطة M التي تحقق

$$\overline{AM} = \vec{u}.$$

ومنه فكرة البحث عن شعاع واحد يساوي الشعاع $\overline{AB} + \overline{AE} + \overline{FI}$.

الرباعي $ABFE$ مربع، إذن $\overrightarrow{AB} + \overrightarrow{AE} = \overrightarrow{AF}$ استناداً إلى قاعدة متوازي الأضلاع في جمع الأشعة،
ومنه $\overrightarrow{AB} + \overrightarrow{AE} + \overrightarrow{FI} = \overrightarrow{AF} + \overrightarrow{FI}$. ثم نستفيد من علاقة شال لنجد $\overrightarrow{AF} + \overrightarrow{FI} = \overrightarrow{AI}$ ومنه
 $\overrightarrow{AB} + \overrightarrow{AE} + \overrightarrow{FI} = \overrightarrow{AI}$ وبالتعويض في (1) نجد $\overrightarrow{AI} = \overrightarrow{AM}$ ، ومنه $M = I$.
② لإثبات المساواة (2)، نفكر بتحليل الشعاع \overrightarrow{AB} لإظهار الشعاع \overrightarrow{AF} . فنكتب، استناداً إلى علاقة
شال $\overrightarrow{AB} = \overrightarrow{AF} + \overrightarrow{FB}$ ، إذن

$$\overrightarrow{AB} + \overrightarrow{CF} = \overrightarrow{AF} + \overrightarrow{FB} + \overrightarrow{CF} = \overrightarrow{AF} + \overrightarrow{CF} + \overrightarrow{FB}$$

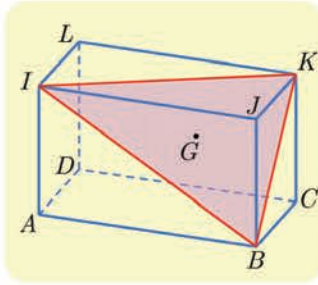
وبالاستفادة من علاقة شال ثانية، نجد $\overrightarrow{AB} + \overrightarrow{CF} = \overrightarrow{AF} + \overrightarrow{CB}$



أنتقى العلاقة التي أثبتها في المثال السابق صحيحة أيًا كانت النقاط A, B, C, F في الفراغ؟

كيف نثبت وقوع نقاط على استقامة واحدة؟

مثال



ليكن $ABCDIJKL$ متوازي سطوح. وليكن G مركز ثقل المثلث BIK .
أثبت أن النقاط D و G و J تقع على استقامة واحدة.

أحد أساليب إثبات وقوع النقاط D و G و J على استقامة واحدة
هو إثبات أن الشعاعين \overrightarrow{DG} و \overrightarrow{DJ} مرتبطان خطياً.



الحل

لما كانت G مركز ثقل المثلث BIK ، كان $\overrightarrow{GB} + \overrightarrow{GI} + \overrightarrow{GK} = \vec{0}$. لنسع إلى إظهار الشعاع \overrightarrow{DG}
بالاستفادة من علاقة شال، نجد

$$\overrightarrow{GD} + \overrightarrow{DB} + \overrightarrow{GD} + \overrightarrow{DI} + \overrightarrow{GD} + \overrightarrow{DK} = \vec{0}$$

ومنه

$$3\overrightarrow{GD} + \overrightarrow{DB} + \overrightarrow{DI} + \overrightarrow{DK} = \vec{0}$$

ومن جهة أخرى لنسع إلى إظهار الشعاع \overrightarrow{DJ} ، نلاحظ أن

$$\begin{aligned} \overrightarrow{DB} + \overrightarrow{DI} + \overrightarrow{DK} &= \overrightarrow{DJ} + \overrightarrow{JB} + \overrightarrow{DJ} + \overrightarrow{JI} + \overrightarrow{AJ} \\ &= 2\overrightarrow{DJ} + \underbrace{\overrightarrow{IA} + \overrightarrow{AJ} + \overrightarrow{JI}}_{\vec{0}} = 2\overrightarrow{DJ} \end{aligned}$$

أو $\vec{0} = 3\overrightarrow{GD} + 2\overrightarrow{DJ}$ أي $3\overrightarrow{GD} = 2\overrightarrow{DJ}$. إذن تقع النقاط D و G و J على استقامة واحدة.

تكريساً للفهم

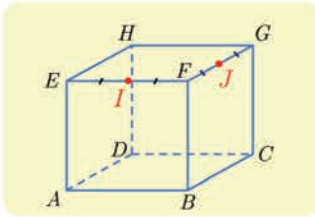
ما فائدة مفهوم الارتباط الخطي لشعاعين في الفراغ؟ 

- لإثبات توازي مستقيمين أو نفي توازيهما.
- لإثبات وقوع ثلاث نقاط على استقامة واحدة أو نفي وقوعها.

تدرب

① $ABCDEFGH$ مكعب. I منتصف $[EF]$ ، J منتصف $[FG]$.

① في كل من الحالات التالية، بين إذا كانت النقطة M المعرّفة بالمساواة الشعاعية المفروضة



تتطبق أو لا تتطبق على أحد رؤوس المكعب. وعلّل إجابتك.

$$\bullet \overrightarrow{AM} = \overrightarrow{AE} + \overrightarrow{AB} + \overrightarrow{AD} \quad \bullet 2 \quad \bullet \overrightarrow{AM} = \overrightarrow{AB} + \overrightarrow{DH} \quad \bullet 1$$

$$\bullet \overrightarrow{AM} = \overrightarrow{AG} + \overrightarrow{BF} \quad \bullet 4 \quad \bullet \overrightarrow{AM} = \overrightarrow{FE} + \overrightarrow{DG} \quad \bullet 3$$

$$\bullet \overrightarrow{AM} = \frac{1}{2}(\overrightarrow{AG} + \overrightarrow{HB}) \quad \bullet 5$$

② في كل من الحالات الآتية، حدّد موقع النقطة N المحقّقة للمساواة الشعاعية المفروضة.

$$\bullet \overrightarrow{AN} = \overrightarrow{AE} + \overrightarrow{BC} + \overrightarrow{HJ} \quad \bullet 2 \quad \bullet \overrightarrow{AN} = \overrightarrow{AB} + \overrightarrow{AE} + \overrightarrow{FJ} \quad \bullet 1$$

$$\bullet \overrightarrow{AN} = \overrightarrow{AD} + \overrightarrow{DC} + \overrightarrow{CF} + \overrightarrow{GH} + \overrightarrow{EI} \quad \bullet 3$$

③ في كل من الحالات الآتية، عبّر عن المجموع الشعاعي المفروض بشعاع واحد (قد يكون

مضروباً بعدد) وذلك باستخدام نقطتين من الشكل حصراً.

$$\bullet \overrightarrow{AE} + \overrightarrow{AF} \quad \bullet 3 \quad \bullet \overrightarrow{BF} + \overrightarrow{EC} \quad \bullet 2 \quad \bullet \overrightarrow{AJ} + \overrightarrow{BA} \quad \bullet 1$$

$$\bullet \frac{1}{2}\overrightarrow{EG} + \overrightarrow{JF} \quad \bullet 4$$

② $ABCDEFGH$ متوازي سطوح.

① أثبت صحة المساواة الشعاعية، في كل من الحالات الآتية:

$$\bullet \overrightarrow{ED} + \overrightarrow{CF} = \vec{0} \quad \bullet 2 \quad \bullet \overrightarrow{EA} + \overrightarrow{EF} + \overrightarrow{BE} = \vec{0} \quad \bullet 1$$

$$\bullet \overrightarrow{FE} + \overrightarrow{FB} + \overrightarrow{FG} = \overrightarrow{FD} \quad \bullet 4 \quad \bullet \overrightarrow{CD} + \overrightarrow{CG} + \overrightarrow{EB} = \vec{0} \quad \bullet 3$$

② وضّع النقاط P و Q و R بحيث يكون:

$$\overrightarrow{AP} = \overrightarrow{AB} + \frac{1}{2}\overrightarrow{AD} + \frac{1}{2}\overrightarrow{AE} \quad \bullet 1$$

$$\bullet \overrightarrow{AQ} = \frac{1}{2}\overrightarrow{AB} + \frac{1}{2}\overrightarrow{AD} + \overrightarrow{AE} \quad \bullet 2$$

$$\bullet \overrightarrow{CR} = \frac{1}{2}\overrightarrow{AE} - \overrightarrow{AB} - \frac{1}{2}\overrightarrow{AD} \quad \bullet 3$$

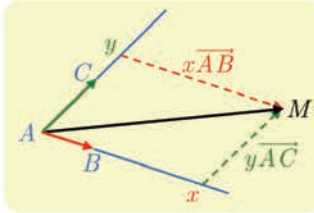
③ عيّن شعاعاً يساوي $\overrightarrow{DC} + \overrightarrow{BD} + \overrightarrow{BF}$ وأثبت أنّ هذا الشعاع يرتبط خطياً بالشعاع \overrightarrow{AH} .

④ أوجد شعاعاً يساوي $\overrightarrow{FE} + \overrightarrow{FG} + \overrightarrow{FB}$ وأثبت أنّ هذا الشعاع يرتبط خطياً بالشعاع \overrightarrow{DF} .

2 الارتباط الخطي لثلاثة أشعة

1.2. الخاصة المميزة لمستوي الفراغ

مبرهنة 3



لتكن A و B و C ثلاث نقاط ليست واقعة على استقامة واحدة. عندئذ المستوي (ABC) هو مجموعة النقاط M المعرفة بالعلاقة:
 $\vec{AM} = x\vec{AB} + y\vec{AC}$ حيث x و y من \mathbb{R}

نقول في هذه الحالة إن \vec{AB} و \vec{AC} **يوجهان** المستوي (ABC) .

ونقول أيضاً إن \vec{AB} و \vec{AC} هما **شعاعا توجيه** في المستوي (ABC) .

يتعيّن مستوي P عموماً بنقطة وشعاعين \vec{u} و \vec{v} غير مرتبطين خطياً، هما شعاعا توجيه P .



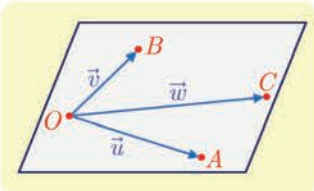
الإثبات (يترك إلى قراءة ثانية)

▪ النقاط A و B و C ليست على استقامة واحدة، فالشعاعان \vec{AB} و \vec{AC} غير مرتبطين خطياً، إذن $(A; \vec{AB}, \vec{AC})$ معلم في المستوي (ABC) . فإذا كانت M نقطة من ذلك المستوي، وُجدت ثنائية حقيقية (x, y) تحقق $\vec{AM} = x\vec{AB} + y\vec{AC}$.

▪ وبالعكس، لنثبت أن كل نقطة M معيّنة بالعلاقة $\vec{AM} = x\vec{AB} + y\vec{AC}$ هي نقطة من المستوي (ABC) . لما كان $(A; \vec{AB}, \vec{AC})$ معلماً في المستوي (ABC) ، إذن توجد نقطة N من هذا المستوي إحداثياتها (x, y) أي $\vec{AN} = x\vec{AB} + y\vec{AC}$ ، وعندئذ يكون $\vec{AM} = \vec{AN}$ ومنه $M = N$. فالنقطة M تنتمي إلى المستوي (ABC) .

2.2. الارتباط الخطي لثلاثة أشعة

تعريف 2



نقول إن الأشعة \vec{u} و \vec{v} و \vec{w} مرتبطة خطياً، إذا وفقط إذا وُجدت نقطة O تجعل النقاط O و A و B و C ، المعرفة وفق $\vec{OA} = \vec{u}$ و $\vec{OB} = \vec{v}$ و $\vec{OC} = \vec{w}$ ، تقع في مستوي واحد.

وعندئذ أي نقطة O من الفراغ تُحقق هذه الخاصة.

ملاحظة: عندما يكون الشعاعان، غير الصفريين \vec{u} و \vec{v} ، مرتبطين خطياً، تكون النقاط O و A و B على استقامة واحدة، فيوجد على الأقل مستوي يحوي المستقيم (OA) والنقطة C ، وعندئذ تكون الأشعة \vec{u} و \vec{v} و \vec{w} مرتبطة خطياً.

مبرهنة 4

\vec{u} و \vec{v} و \vec{w} ثلاثة أشعة. نفترض أن \vec{u} و \vec{v} ليسا مرتبطين خطياً. عندئذ تكون الأشعة \vec{u} و \vec{v} و \vec{w} مرتبطة خطياً إذا وفقط إذا وُجد عدنان حقيقيان a و b يحققان $\vec{w} = a\vec{u} + b\vec{v}$.

الإثبات (ترك إلى قراءة ثانية)

■ لنفترض أن الأشعة \vec{u} و \vec{v} و \vec{w} مرتبطة خطياً. ولتكن O نقطة تقع في مستوي واحد P مع النقاط A و B و C التي تحقق:

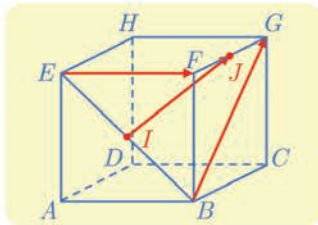
$$\vec{OA} = \vec{u} \quad \text{و} \quad \vec{OB} = \vec{v} \quad \text{و} \quad \vec{OC} = \vec{w}$$

لما كان الشعاعان \vec{u} و \vec{v} غير مرتبطين خطياً، كانا شعاعاً توجيه في المستوي (OAB) أي P . واستناداً إلى التعريف، تنتمي النقطة C إلى هذا المستوي. وعملاً بالمبرهنة 3، يوجد عدنان حقيقيان a و b يحققان $\vec{OC} = a\vec{OA} + b\vec{OB}$ ، أي $\vec{w} = a\vec{u} + b\vec{v}$.

■ وبالعكس، لنفترض أن $\vec{w} = a\vec{u} + b\vec{v}$ حيث a و b من \mathbb{R} . ولتكن O نقطة ما من الفراغ عندئذ نعرّف النقاط A و B و C بالعلاقات

$$\vec{OA} = \vec{u} \quad \text{و} \quad \vec{OB} = \vec{v} \quad \text{و} \quad \vec{OC} = \vec{w}$$

فيكون لدينا $\vec{OC} = a\vec{OA} + b\vec{OB}$ ، وهذا يثبت، بناءً على المبرهنة 3 نفسها، أن C تنتمي إلى المستوي (OAB) . وبذا يتم إثبات المطلوب.



مثال / إثبات ارتباط خطي لأشعة

مكعب $ABCDEFGH$. النقطة I منتصف $[BE]$ و J منتصف $[FG]$. أثبت أن الأشعة \vec{EF} و \vec{BG} و \vec{IJ} مرتبطة خطياً.

الحل

ليس واضحاً من الشكل وجود شعاعين مرتبطين خطياً من بين الأشعة الثلاثة وقد لا يكون ذلك صحيحاً. لنحاول إذن التعبير عن \vec{IJ} بدلالة \vec{EF} و \vec{BG} وهما غير مرتبطين خطياً لأنهما متعامدان. لأجل ذلك، نستفيد من علاقة شال.

فعلى سبيل المثال

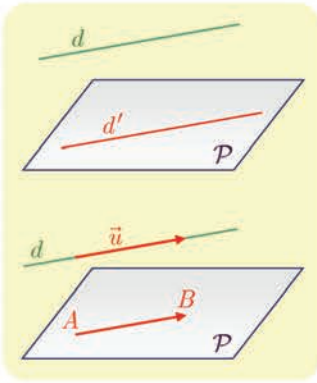
$$\textcircled{1} \quad \overrightarrow{IJ} = \overrightarrow{IE} + \overrightarrow{EF} + \overrightarrow{FJ}$$

$$\textcircled{2} \quad \overrightarrow{IJ} = \overrightarrow{IB} + \overrightarrow{BG} + \overrightarrow{GJ}$$

فإذا أخذنا في الحسبان أن $\overrightarrow{IE} + \overrightarrow{IB} = \vec{0}$ و $\overrightarrow{FJ} + \overrightarrow{GJ} = \vec{0}$ ، بدا طبيعياً أن نجمع $\textcircled{1}$ و $\textcircled{2}$ طرفاً مع طرف، فنجد $2\overrightarrow{IJ} = (\overrightarrow{IE} + \overrightarrow{IB}) + \overrightarrow{EF} + \overrightarrow{BG} + (\overrightarrow{FJ} + \overrightarrow{GJ})$. إذن $2\overrightarrow{IJ} = \overrightarrow{EF} + \overrightarrow{BG}$ ومنه $\overrightarrow{IJ} = \frac{1}{2}\overrightarrow{EF} + \frac{1}{2}\overrightarrow{BG}$. وهذا يثبت الارتباط الخطي للأشعة \overrightarrow{EF} و \overrightarrow{BG} و \overrightarrow{IJ} .

تكريساً للفهم 

كيف نثبت توازي مستقيم ومستوي؟ 



■ هندسياً

لإثبات أن مستقيماً d يوازي مستويًا P ، يمكننا إثبات أن d يوازي مستقيماً d' من P .

■ شعاعياً

لإثبات أن مستقيماً d يوازي مستويًا P ، يمكننا إثبات أن في المستوي P نقطتين A و B تحققان $\overrightarrow{AB} = \vec{u}$ ، و \vec{u} شعاع توجيه للمستقيم d .

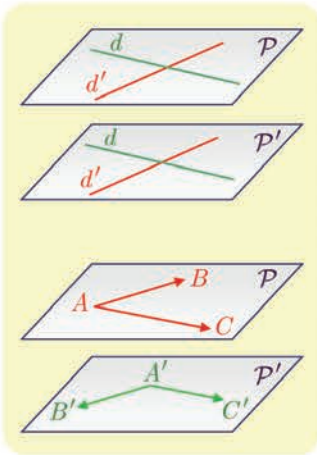
كيف نثبت توازي مستويين؟ 

■ هندسياً

لإثبات توازي مستويين، يمكن إثبات أن مستقيمين متقاطعين من أحدهما، يوازيان مستقيمين متقاطعين من الآخر.

■ شعاعياً

لإثبات توازي مستويين، يكفي إيجاد شعاعين غير مرتبطين خطياً \overrightarrow{AB} و \overrightarrow{AC} من الأول، وشعاعين غير مرتبطين خطياً $\overrightarrow{A'B'}$ و $\overrightarrow{A'C'}$ من الثاني، تُحقق أن الأشعة \overrightarrow{AB} و \overrightarrow{AC} و $\overrightarrow{A'B'}$ مرتبطة خطياً، وكذلك أن الأشعة \overrightarrow{AB} و \overrightarrow{AC} و $\overrightarrow{A'C'}$ مرتبطة خطياً.

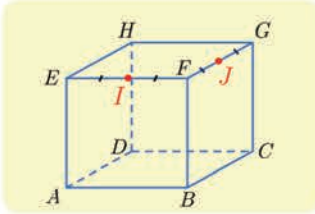


① A و B و C ثلاث نقاط متمايزة من الفراغ. أتكون الأشعة \overrightarrow{AB} و \overrightarrow{AC} و \overrightarrow{BC} مرتبطة خطياً؟

② A و B و C ثلاث نقاط متمايزة من الفراغ. E نقطة تحقق $\overrightarrow{BE} = 4\overrightarrow{BC}$ ، و F نقطة تحقق

$$\overrightarrow{AF} = \frac{1}{2}\overrightarrow{AE}$$

أقع النقاط A و B و C و E و F في مستوي واحد؟



③ مكعب $ABCDEFGH$. I منتصف $[EF]$ و J منتصف $[FG]$.

① أتنتمي النقطة J إلى المستوي (ABI) ؟

② أقع الأشعة \overrightarrow{AB} و \overrightarrow{AI} و \overrightarrow{AJ} في مستوي واحد؟

④ $ABCD$ رباعي وجوه. و M هي النقطة المحققة للعلاقة

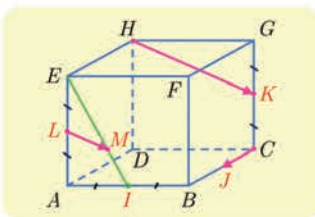
$$\overrightarrow{AM} = \overrightarrow{AD} + \frac{1}{2}\overrightarrow{AB} + \overrightarrow{DC}$$

عبّر عن \overrightarrow{AM} بدلالة \overrightarrow{AB} و \overrightarrow{BC} . واستنتج أن M تنتمي إلى المستوي (ABC) .

⑤ مكعب $ABCDEFGH$. فيه M نقطة تحقق $\overrightarrow{EM} = \frac{1}{3}\overrightarrow{EH}$ ، و N نقطة تحقق $\overrightarrow{AN} = \frac{1}{3}\overrightarrow{AB}$.

① أثبت أن $\overrightarrow{MN} = \overrightarrow{EA} + \frac{1}{3}\overrightarrow{DB}$.

② أتكون الأشعة \overrightarrow{EA} و \overrightarrow{MN} و \overrightarrow{HB} مرتبطة خطياً؟



⑥ مكعب $ABCDEFGH$. I و J و K و L هي بالترتيب منتصفات

$[AB]$ و $[BC]$ و $[CG]$ و $[AE]$. ولنكن النقطة المحققة

$$3\overrightarrow{EM} = 2\overrightarrow{EI}$$

① لماذا M هي مركز ثقل المثلث ABE ؟

② أتكون الأشعة \overrightarrow{LM} و \overrightarrow{CJ} و \overrightarrow{HK} مرتبطة خطياً؟

3 الوعلم في الفراغ

1.3. المَعْلَم في الفراغ

اختيار معلم في الفراغ، هو إعطاء نقطة O تُسمى مبدأ المعلم، وجملة ثلاثة أشعة $(\vec{i}, \vec{j}, \vec{k})$ ليست مرتبطة خطياً. نرمز إلى هذا المعلم بالرمز $(O; \vec{i}, \vec{j}, \vec{k})$. ونسمي عادة الجملة $(\vec{i}, \vec{j}, \vec{k})$ أساس أشعة الفراغ. ونقول إن بُعد الفراغ يساوي 3 لأن عدد أشعة أي أساس فيه يساوي 3.

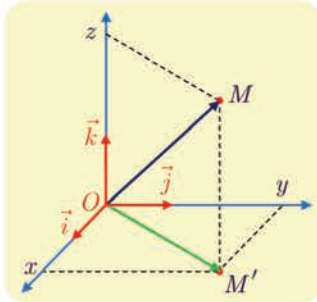
ملاحظة: تُعدُّ المعلم $(O; \vec{i}, \vec{j}, \vec{k})$ و $(O; \vec{i}, \vec{k}, \vec{j})$ و ... و $(O; \vec{j}, \vec{i}, \vec{k})$ معلم مختلفة في الفراغ.

2.3. الإحداثيات

مبرهنة وتعريف 5

$(O; \vec{i}, \vec{j}, \vec{k})$ معلم في الفراغ. عندئذ أيًا كانت النقطة M من الفراغ، توجد ثلاثية (x, y, z) وحيدة من الأعداد الحقيقية، تُحقَّق: $\overline{OM} = x\vec{i} + y\vec{j} + z\vec{k}$. تسمى (x, y, z) إحداثيات النقطة M في المعلم $(O; \vec{i}, \vec{j}, \vec{k})$. x هي فاصلة M و y هي ترتيب M و z هي علو أو راقم M في هذا المعلم.

الإثبات



لما كانت الأشعة \vec{i} و \vec{j} و \vec{k} ليست مرتبطة خطياً، استنتجنا أن المستقيم المارَّ بالنقطة M موجَّهاً بالشعاع \vec{k} يتقاطع مع المستوي (O, \vec{i}, \vec{j}) في نقطة M' . إذن يوجد عدنان x و y يحقَّقان $\overline{OM'} = x\vec{i} + y\vec{j}$. ولما كان الشعاعان \vec{k} و $\overline{M'M}$ مرتبطين خطياً، يوجد عدد حقيقي z يحقَّق $\overline{M'M} = z\vec{k}$. وتبعاً لعلاقة شال $\overline{OM} = \overline{OM'} + \overline{M'M}$ ، ومنه $\overline{OM} = x\vec{i} + y\vec{j} + z\vec{k}$. نقبل وحدانية كتابة \overline{OM} بدلالة \vec{i} و \vec{j} و \vec{k} .

تعريف 3

$(O; \vec{i}, \vec{j}, \vec{k})$ معلم في الفراغ. نقرن بالشعاع \vec{u} النقطة M التي تحقَّق $\overline{OM} = \vec{u}$. نعرِّف مركبات الشعاع \vec{u} بأنها (x, y, z) إحداثيات النقطة M . وعليه يُكتب أي شعاع \vec{u} بطريقة واحدة بالصيغة $\vec{u} = \overline{OM} = x\vec{i} + y\vec{j} + z\vec{k}$.

وكما هي الحال في المستوي، يمكن أن نكتب مركبات الشعاع \vec{u} في عمود: $\vec{u} = \begin{bmatrix} x \\ y \\ z \end{bmatrix}$.

3.3. الحساب باستعمال الإحداثيات

جميع النتائج المتعلقة بالإحداثيات في المستوى، تمتدُّ على الفراغ بإضافة إحداثيّة ثالثة. في معلم معطى

$(O; \vec{i}, \vec{j}, \vec{k})$ ، إذا أعطيت إحداثيات \vec{u} و \vec{v} وفق

$$\vec{v}(x', y', z') \text{ و } \vec{u}(x, y, z)$$

عندئذ:

- أيّا كان العدد الحقيقي k ، كانت مركّبات الشعاع $k\vec{u}$ (kx, ky, kz) مركّبات الشعاع \vec{u} .
- مركّبات الشعاع $\vec{u} + \vec{v}$ هي $(x + x', y + y', z + z')$.
- إذا أعطينا النقطتين $A(x_A, y_A, z_A)$ و $B(x_B, y_B, z_B)$ كان لدينا:
 - مركّبات الشعاع \vec{AB} هي $(x_B - x_A, y_B - y_A, z_B - z_A)$.
 - إحداثيات النّقطة M منتصف القطعة المستقيمة $[AB]$ هي $\left(\frac{x_A + x_B}{2}, \frac{y_A + y_B}{2}, \frac{z_A + z_B}{2}\right)$.

الحساب في معلّم

مثال

نتأمّل، في معلّم $(O; \vec{i}, \vec{j}, \vec{k})$ ، النّقاط $A(1, 2, -3)$ و $B(-1, 3, 3)$ و $C(4, -1, 2)$ و D نقطة تجعل $ABCD$ متوازي أضلاع. احسب إحداثيات D ، ثمّ احسب إحداثيات I مركز متوازي الأضلاع هذا.

الحل

▪ يكون الرباعي $ABCD$ متوازي أضلاع إذا وفقط إذا كان $\vec{AB} = \vec{DC}$. ولكن مركّبات \vec{AB} هي

$$(x_B - x_A, y_B - y_A, z_B - z_A) = (-2, 1, 6)$$

وإذا افترضنا $D(x, y, z)$ ، كانت مركّبات الشعاع \vec{DC} هي $(4 - x, -1 - y, 2 - z)$. وعليه نُكتب

المساواة $\vec{AB} = \vec{DC}$ بالشكل

$$\begin{bmatrix} 4 - x \\ -1 - y \\ 2 - z \end{bmatrix} = \begin{bmatrix} -2 \\ 1 \\ 6 \end{bmatrix}$$

ومنّه $x = 6$ و $y = -2$ و $z = -4$ ، أي $D(6, -2, -4)$.

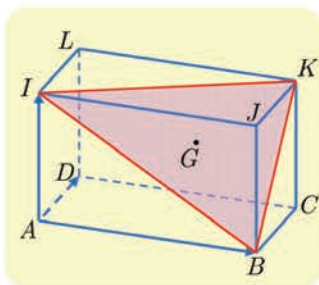
▪ مركز متوازي الأضلاع I ، هو منتصف قطره $[AC]$. فإحداثيات النّقطة I هي

$$\left(\frac{x_A + x_C}{2}, \frac{y_A + y_C}{2}, \frac{z_A + z_C}{2}\right) = \left(\frac{1 + 4}{2}, \frac{2 - 1}{2}, \frac{-3 + 2}{2}\right)$$

$$\text{أو } I\left(\frac{5}{2}, \frac{1}{2}, -\frac{1}{2}\right)$$

مثال

كيف نثبت وقوع نقاط على استقامة واحدة؟



ليكن متوازي سطوح. وليكن G مركز ثقل المثلث BIK . أثبت تحليلياً، بعد اختيار معلم مناسب، أن النقاط G و D و J تقع على استقامة واحدة.



نختار معلماً تكون إحداثيات رؤوس الجسم المعطى بالنسبة إليه

سهلة الحساب.

الحل

نختار، على سبيل المثال، المعلم $(A; \overrightarrow{AB}, \overrightarrow{AD}, \overrightarrow{AI})$ ، فيكون $B(1,0,0)$ و $D(0,1,0)$ و $J(1,0,1)$ و $K(1,1,1)$. ولما كانت G مركز ثقل المثلث BIK ، كان: $\overrightarrow{GB} + \overrightarrow{GI} + \overrightarrow{GK} = \vec{0}$ ، ولكننا نبحث عن مركبات \overrightarrow{AG} ، لذلك نستفيد من علاقة شال لنستنتج مما سبق أن

$$\overrightarrow{GA} + \overrightarrow{AB} + \overrightarrow{GA} + \overrightarrow{AI} + \overrightarrow{GA} + \overrightarrow{AK} = \vec{0}$$

أو

$$3\overrightarrow{GA} = -(\overrightarrow{AB} + \overrightarrow{AI} + \overrightarrow{AK})$$

إذن $\overrightarrow{AG} = \frac{1}{3}(\overrightarrow{AB} + \overrightarrow{AI} + \overrightarrow{AK})$. بإحداثيات G هي

$$\left(\frac{1+0+1}{3}, \frac{0+0+1}{3}, \frac{0+1+1}{3} \right) = \left(\frac{2}{3}, \frac{1}{3}, \frac{2}{3} \right)$$

وبالعودة إلى الأشعة، لما كان $\overrightarrow{DG} = \overrightarrow{AG} - \overrightarrow{AD}$ و $\overrightarrow{DJ} = \overrightarrow{AJ} - \overrightarrow{AD}$ ، استنتجنا أن

$$\overrightarrow{DJ}(1, -1, 1) \quad \text{و} \quad \overrightarrow{DG} \left(\frac{2}{3}, -\frac{2}{3}, \frac{2}{3} \right)$$

إذن $\overrightarrow{DG} = \frac{2}{3}\overrightarrow{DJ}$. والشعاعان \overrightarrow{DG} و \overrightarrow{DJ} مرتبطان خطياً، فالنقاط D و G و J تقع على استقامة

واحدة.

تكريساً للفهم

كيف نتعرف الارتباط الخطي لشعاعين في الفراغ تحليلياً؟

في معلم معطى، يكون الشعاعان $\vec{u}(x, y, z)$ و $\vec{v}(x', y', z')$ ، غير المعدومين، مرتبطين خطياً، إذا وُجد عدد حقيقي k غير معدوم، يحقق $\vec{u} = k\vec{v}$ ، أي $x = kx'$ و $y = ky'$ و $z = kz'$. وهذا يُكافئ أن

$$\frac{x}{x'} = \frac{y}{y'} = \frac{z}{z'} = k \quad \text{في حالة } x' \text{ و } y' \text{ و } z' \text{ من } \mathbb{R}^*$$

تَدْرِبْ

① نتأمل النقاط $A(3,5,2)$ و $B(2,-1,3)$ و $C(0,-2,2)$ و $D(-2,5,1)$ و $E(3,9,2)$ و $F(8,13,3)$ ، في معلم $(O; \vec{i}, \vec{j}, \vec{k})$ للفراغ.

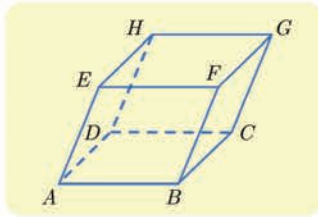
① احسب إحداثيات منتصفات القطع المستقيمة $[AB]$ و $[CD]$ و $[EF]$.

② احسب مركبات الأشعة \overrightarrow{AB} و \overrightarrow{CD} و \overrightarrow{EF} .

③ عيّن إحداثيات النقطة K بحيث يكون الرباعي $ABCK$ متوازي أضلاع.

④ جد مركبات كل من الشعاعين :

$$\vec{v} = 2\overrightarrow{AB} - \frac{1}{2}\overrightarrow{CD} + 3\overrightarrow{EF} \quad \text{و} \quad \vec{u} = 3\overrightarrow{AB} + 2\overrightarrow{CD}$$



② في معلم $(O; \vec{i}, \vec{j}, \vec{k})$ للفراغ. تعطى إحداثيات أربع من رؤوس متوازي السطوح $ABCDEFGH$ المرسوم جانباً، وهي

$$A(2,1,-1) \quad \text{و} \quad B(1,3,-1) \quad \text{و} \quad C(-3,2,0) \quad \text{و} \quad E(3,-1,3)$$

جد إحداثيات الرؤوس الأربعة الأخرى.

③ لدينا، في معلم للفراغ، النقاط $A(3,0,-1)$ و $B(-2,3,2)$ و $C(1,2,-2)$.

① جد إحداثيات النقطة I منتصف $[AB]$.

② جد إحداثيات النقطة D نظيرة I بالنسبة إلى C .

③ جد إحداثيات النقطة M التي تحقق العلاقة $\overrightarrow{BM} = \overrightarrow{AB} + 3\overrightarrow{AC}$.

④ جد إحداثيات النقطة N التي تحقق العلاقة $\overrightarrow{NA} = 2\overrightarrow{NC}$.

④ لدينا النقطتان $A(2,3,-2)$ و $B(5,-1,0)$. جد، **إن أمكن**، في كل حالة، إحداثيات النقطة M المحققة للعلاقة المفروضة.

$$\begin{array}{ll} \overrightarrow{MA} = \overrightarrow{MB} & \text{①} \\ \overrightarrow{MA} = 2\overrightarrow{AB} & \text{②} \\ \overrightarrow{MA} - \overrightarrow{MB} = \overrightarrow{AB} & \text{③} \\ 3\overrightarrow{BA} + \overrightarrow{MB} = \vec{0} & \text{④} \end{array}$$

⑤ أيمكن تعيين a و b لتقع النقاط $A(2,3,0)$ و $B(3,2,1)$ و $M(a,b,2)$ على استقامة واحدة؟

⑥ أيمكن تعيين a ليكون الشعاعان $\vec{u}(2,a,5)$ و $\vec{v}(1,-2,a)$ مرتبطين خطياً؟

⑦ في كل من الحالات الآتية، بين إذا كانت النقاط A و B و C تقع على استقامة واحدة.

$$C(2,0,-3), \quad B(0,2,4), \quad A(3,-1,2) \quad \text{①}$$

$$C(0,-1,7), \quad B(-2,0,5), \quad A(-4,1,3) \quad \text{②}$$

$$C(1,-1,-3), \quad B(1,-1,4), \quad A(1,-1,0) \quad \text{③}$$

4 المسافة في الفراغ

1.4. المعلم المتجانس

نتأمل نقاطاً O و I و J و K من الفراغ، ونكتب $\vec{OI} = \vec{i}$ و $\vec{OJ} = \vec{j}$ و $\vec{OK} = \vec{k}$.

3 تعريفه

نقول إن المعلم $(O; \vec{i}, \vec{j}, \vec{k})$ معلم متجانس إذا تحقق الشرطان:

- المستقيمات (OI) و (OJ) و (OK) متعامدة متتالي.
- نظيم كل من \vec{i} و \vec{j} و \vec{k} يساوي واحدة الطول، أي $\|\vec{i}\| = \|\vec{j}\| = \|\vec{k}\| = 1$.

2.4. تنظيم شعاع، المسافة بين نقطتين

6 مبرهنة

في معلم متجانس يتحقق ما يأتي:

① يُعطى تنظيم الشعاع \vec{u} الذي مركباته (a, b, c) بالعلاقة

$$\|\vec{u}\| = \sqrt{a^2 + b^2 + c^2}$$

② وفي حالة نقطتين $A(x_A, y_A, z_A)$ و $B(x_B, y_B, z_B)$ ، يكون

$$AB = \sqrt{(x_B - x_A)^2 + (y_B - y_A)^2 + (z_B - z_A)^2}$$

الإثبات

① ليكن المعلم المتجانس، ولتكن M النقطة التي تحقق $\vec{u} = \vec{OM}$ ، فيكون $\vec{OM} = a\vec{i} + b\vec{j} + c\vec{k}$ ، لتكن N النقطة من المستوي $(O; \vec{i}, \vec{j})$ التي تحقق $\vec{ON} = a\vec{i} + b\vec{j}$ و $\vec{NM} = c\vec{k}$. فيكون

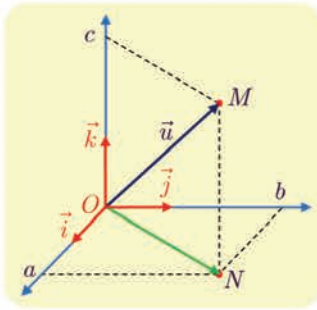
$$NM^2 = c^2 \quad \text{و} \quad ON^2 = a^2 + b^2$$

ولكن المعلم متجانس، فالمستقيمان (NM) و $(O; \vec{k})$ عموديان على المستوي $(O; \vec{i}, \vec{j})$ والمثلث ONM قائم في N ، إذن

$$OM^2 = ON^2 + NM^2 = a^2 + b^2 + c^2$$

ولكن $OM = \|\vec{u}\|$ ، إذن $\|\vec{u}\| = \sqrt{a^2 + b^2 + c^2}$.

② لدينا $AB = \|\vec{AB}\|$ ومركبات \vec{AB} هي $(x_B - x_A, y_B - y_A, z_B - z_A)$ ، إذن استناداً إلى ① نجد الخاصة المطلوبة.



مثال

في معلم متجانس $(O; \vec{i}, \vec{j}, \vec{k})$.

▪ إذا كان $\vec{u} = 3\vec{i} - 2\vec{j} + \vec{k}$ ، كان $\|\vec{u}\| = \sqrt{3^2 + (-2)^2 + 1^2} = \sqrt{14}$

▪ إذا كانت $A(4, -1, 3)$ و $B(2, 3, -2)$ ، كان

$$AB = \sqrt{(2-4)^2 + (3+1)^2 + (-2-3)^2} = \sqrt{45} = 3\sqrt{5}$$

الحساب في معلم

مثال

نتأمل، في معلم متجانس $(O; \vec{i}, \vec{j}, \vec{k})$ ، النقاط الآتية.

$$D\left(\frac{1}{3}, \frac{2}{3}, -\frac{1}{3}\right) \text{ و } C(-2, 3, -2) \text{ و } B(-2, -1, 2) \text{ و } A(2, 3, 2)$$

① احسب المسافات CD, BD, BC, AD, AC, AB .

② بين طبيعة وجوه رباعي الوجوه $ABCD$.

الحل

① حساب الأطوال

$$AB = 4\sqrt{2} \text{ أي } AB^2 = (-2-2)^2 + (-1-3)^2 + (2-2)^2 = 32$$

$$AC = 4\sqrt{2} \text{ أي } AC^2 = (-2-2)^2 + (3-3)^2 + (-2-2)^2 = 32$$

$$AD = \frac{\sqrt{123}}{3} \text{ أي } AD^2 = \left(\frac{1}{3}-2\right)^2 + \left(\frac{2}{3}-3\right)^2 + \left(-\frac{1}{3}-2\right)^2 = \frac{25}{9} + \frac{49}{9} + \frac{49}{9} = \frac{123}{9}$$

$$BC = 4\sqrt{2} \text{ أي } BC^2 = (-2+2)^2 + (3+1)^2 + (-2-2)^2 = 32$$

$$BD = \frac{\sqrt{123}}{3} \text{ أي } BD^2 = \left(\frac{1}{3}+2\right)^2 + \left(\frac{2}{3}+1\right)^2 + \left(-\frac{1}{3}-2\right)^2 = \frac{49}{9} + \frac{25}{9} + \frac{49}{9} = \frac{123}{9}$$

$$CD = \frac{\sqrt{123}}{3} \text{ أي } CD^2 = \left(\frac{1}{3}+2\right)^2 + \left(\frac{2}{3}-3\right)^2 + \left(-\frac{1}{3}+2\right)^2 = \frac{49}{9} + \frac{49}{9} + \frac{25}{9} = \frac{123}{9}$$

② $AB = AC = BC$ ، فالمثلث ABC متساوي الأضلاع.

▪ $AD = BD$ و $BD \neq AB$ ، فالمثلث ABD متساوي الساقين رأسه D وهو ليس مثلثاً قائماً لأن

$$DA^2 + DB^2 \neq AB^2$$

▪ نجد، بالمثل، أن كلاً من المثلثين ACD و BCD مثلث متساوي الساقين.

▪ يضاف إلى ما سبق، أن المثلثات ABD و ACD و BCD مثلثات طبقية.

معادلة كرة مركزها المبدأ

مثال

نتأمل، في معلم متجانس $(O, \vec{i}, \vec{j}, \vec{k})$ ، النقطة A التي إحداثياتها $(1, 2, -4)$.

① جد معادلة الكرة S التي مركزها O ونصف قطرها يساوي 5.

② جد معادلة الكرة S' التي مركزها O وتمر بالنقطة A .



لإيجاد معادلة كرة، يمكن استعمال التعريف الآتي : الكرة S التي مركزها O ونصف قطرها R ، هي مجموعة النقاط M من الفراغ التي تحقق $OM^2 = R^2$.

الحل

① الكرة S التي مركزها O ونصف قطرها 5، هي مجموعة نقاط الفراغ التي تبعد عن O مسافة تساوي 5. فالقول إن النقطة $M(x, y, z)$ تنتمي إلى الكرة S ، يكافئ القول إن $OM = 5$ ، أو $OM^2 = x^2 + y^2 + z^2 = 25$. ويعني هذا أن معادلة الكرة S هي :

$$x^2 + y^2 + z^2 = 25$$

② نصف قطر الكرة S' يساوي OA ، ولما كان $OA^2 = 1^2 + 2^2 + (-4)^2 = 21$ استنتجنا أن معادلة الكرة S' هي $x^2 + y^2 + z^2 = 21$.



تدريب

① احسب نظيم \vec{u} و \vec{v} و \vec{w} في كل من الحالات الآتية:

① $\vec{u}(2, -2, 3)$ و $\vec{v}(4, -4, -2)$ و $\vec{w}(4, 1, -2)$.

② $\vec{u} = 2\vec{i} - 3\vec{j}$ و $\vec{v} = \vec{i} + 5\vec{k}$ و $\vec{w} = \sqrt{2}\vec{i} - \sqrt{3}\vec{j} + \vec{k}$.

② فيما يأتي، بين هل المثلث ABC قائم؟ هل هو متساوي الساقين؟ هل هو متساوي الأضلاع؟

① في حالة $A(1, 3, -1)$ و $B(3, 6, -2)$ و $C(0, 4, 0)$.

② في حالة $A(1, 3, -2)$ و $B(2, -1, 0)$ و $C(6, -3, -1)$.

③ لدينا النقطتان $A(5, 2, -1)$ و $B(3, 0, 1)$. بين أي النقاط C أو D أو E تنتمي إلى المستوي

المحوري للقطعة $[AB]$ ، في حالة $C(-2, 5, -2)$ و $D(1, 1, -3)$ و $E(3, 2, 1)$.



المستوي المحوري لقطعة مستقيمة هو مجموعة النقاط التي تبعد عن طرفيها المسافة نفسها.

④ نتأمل النقاط $A(1, 1, \sqrt{2})$ و $B(\sqrt{2}, -\sqrt{2}, 0)$ و C نظيرة A بالنسبة إلى المبدأ O . أثبت أن المثلث

ABC مثلث قائم ومتساوي الساقين.

⑤ نتأمل النقاط $A(2, 3, -1)$ و $B(2, 8, -1)$ و $C(7, 3, -1)$ و $D(-1, 3, 3)$ و $E(5, 3, 3)$. أثبت أن B

و C و D و E تقع على كرة واحدة مركزها A .

5 مركز الأبعاد المتناسبة في الفراغ

يُعمَّم تعريف مركز الأبعاد المتناسبة الذي درسناه في الصَّف الثاني الثانوي إلى حالة الفراغ دون عناء، وفي حالة نقطتين أو ثلاث نقاط، يؤول هذا المفهوم إلى الحالة السابقة إذ تجري الدراسة عندئذ على مستقيم أو في مستوي. سنهتّم إذن بمركز جملة مؤلّفة من أربع نقاط.

4 تعريف

إنّ مركز الأبعاد المتناسبة G للنقاط المثقّلة الأربع (A, α) و (B, β) و (C, γ) و (D, δ) حيث $\alpha + \beta + \gamma + \delta \neq 0$ ، هو النّقطة الوحيدة G التي تحقّق العلاقة

$$\alpha \overrightarrow{GA} + \beta \overrightarrow{GB} + \gamma \overrightarrow{GC} + \delta \overrightarrow{GD} = \vec{0}$$

إنّ إثبات وجود ووحداية النّقطة G ، مماثلّ تماماً لحالة ثلاث نقاط. كما إنّ براهين المبرهنات الآتية مماثلة لتلك الموافقة للمبرهنات التي رأيناها في وحدة مركز الأبعاد المتناسبة العام الماضي.

7 مبرهنة

ليكن G مركز الأبعاد المتناسبة للنقاط المثقّلة الأربع (A, α) و (B, β) و (C, γ) و (D, δ) حيث $\alpha + \beta + \gamma + \delta \neq 0$ ، عندئذ، أيّا كانت النّقطة M ، كان :

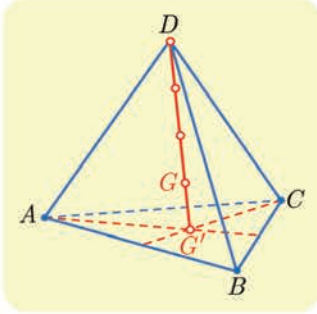
$$\alpha \overrightarrow{MA} + \beta \overrightarrow{MB} + \gamma \overrightarrow{MC} + \delta \overrightarrow{MD} = (\alpha + \beta + \gamma + \delta) \overrightarrow{MG}$$

ملاحظة: عندما نقول إنّ G هي مركز الأبعاد المتناسبة لنقاط مثقّلة، فإنّ قولنا هذا يفترض أنّ مجموع المعاملات أو الأمثال لا يساوي الصّفر.

8 مبرهنة (الخاصة التجميعية)

ليكن G مركز الأبعاد المتناسبة للنقاط المثقّلة الأربع (A, α) و (B, β) و (C, γ) و (D, δ) حيث $\alpha + \beta + \gamma + \delta \neq 0$ ، عندئذ، إذا كان H مركز الأبعاد المتناسبة لثلاث نقاط منها مثل (A, α) و (B, β) و (C, γ) ، كان G مركز الأبعاد المتناسبة للنقطتين $(H, \alpha + \beta + \gamma)$ و (D, δ) .

ملاحظة: إذا كانت H مركز الأبعاد المتناسبة للنقطتين (A, α) و (B, β) ، وكانت K مركز الأبعاد المتناسبة للنقطتين (C, γ) و (D, δ) ، كانت G مركز الأبعاد المتناسبة للنقطتين $(H, \alpha + \beta)$ و $(K, \gamma + \delta)$.



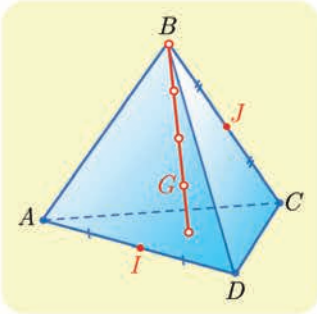
ليكن $ABCD$ رباعي وجوه، وليكن G مركز الأبعاد المتناسبة للنقاط $(A,1)$ و $(B,1)$ و $(C,1)$ و $(D,1)$. لتعيين موضع G ، نستبدل، على سبيل المثال، بالنقاط $(A,1)$ و $(B,1)$ و $(C,1)$ مركزها G' وهو مركز ثقل المثلث ABC . واعتماداً على المبرهنة 8، G هو مركز الأبعاد المتناسبة للنقطتين $(G',3)$ و $(D,1)$ ، إذن تُحقّق G العلاقة

$$\overrightarrow{G'G} = \frac{1}{4} \overrightarrow{G'D}$$

تُسمى النقطة G **مركز ثقل رباعي الوجوه** $ABCD$. وهي تقع على القطعة المستقيمة $[G'D]$ التي تسمى **المتوسط** المرسوم من D لرباعي الوجوه وتقع في نهاية الربع الأول من هذا المتوسط من طرف G' .



نرى بإثبات مماثل أنّ G تقع في نهاية الربع الأول من كلّ من المتوسطات المرسومة من A و B و C أيضاً. فالمتوسطات الأربعة لرباعي الوجوه تتقاطع في نقطة واحدة هي G . وهي تقسم كلّ متوسط بنسبة 4 : 3 من جهة الرأس.



$ABCD$ رباعي وجوه مركز ثقله G . I منتصف $[AD]$ ، J منتصف $[BC]$. أثبت أنّ I و J و G تقع على استقامة واحدة.



لكي نثبت أنّ النقاط I و J و G تقع على استقامة واحدة، يمكننا أن نثبت مثلاً أنّ G هي مركز أبعاد متناسبة للنقطتين (I, α) و (J, β) .

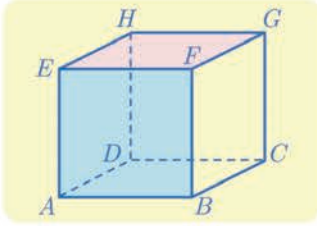
لما كان G مركز ثقل $ABCD$ ، فهو إذن مركز الأبعاد المتناسبة للنقاط $(A,1)$ و $(B,1)$ و $(C,1)$ و $(D,1)$. ولكنّ I منتصف $[AD]$ ، هو مركز الأبعاد المتناسبة للنقطتين $(A,1)$ و $(D,1)$. و J هو مركز الأبعاد المتناسبة للنقطتين $(B,1)$ و $(C,1)$. واستناداً إلى الخاصّة النجميّة، النقطة G هي مركز الأبعاد المتناسبة للنقطتين $(I,2)$ و $(J,2)$. فالنقاط I و J و G تقع على استقامة واحدة، وتكون G في منتصف $[IJ]$.



نستنتج من هذا التمرين أن القطع المستقيمة الواصلة بين منتصفين متقابلين في رباعي الوجوه، متناصفة ونقطة التقائها هي مركز ثقل رباعي الوجوه.

مثال

إثبات وقوع نقاط من الفراغ في مستوي واحد



مكعب $ABCDEFGH$. أثبت أن النقطة K المعرّفة بالعلاقة

$$2\overrightarrow{AK} = \overrightarrow{CB} + \overrightarrow{CA} + 3\overrightarrow{AG}$$

تقع في المستوي (BCG) . ارسم النقطة K .



لإثبات أن نقطة K تنتمي إلى مستوي (BCG) ، يكفي إثبات أن

K هي مركز أبعاد متناسبة للنقاط (B, α) و (C, β) و (G, γ) .

الحل

■ لإثبات أن K هي نقطة من المستوي (BCG) ، نبحث عن علاقة بين الأشعة \overrightarrow{KB} و \overrightarrow{KC} و \overrightarrow{KG} . باستخدام علاقة شال، نكتب العلاقة المفروضة $2\overrightarrow{AK} - \overrightarrow{CB} - \overrightarrow{CA} - 3\overrightarrow{AG} = \vec{0}$ بالصيغة المكافئة:

$$2\overrightarrow{AK} - \overrightarrow{CK} - \overrightarrow{KB} - \overrightarrow{CK} - \overrightarrow{KA} - 3\overrightarrow{AK} - 3\overrightarrow{KG} = \vec{0}$$

أو

$$\overrightarrow{KB} - 2\overrightarrow{KC} + 3\overrightarrow{KG} = \vec{0}$$

ولما كان $1 + (-2) + 3 \neq 0$ ، استنتجنا أن K هي مركز الأبعاد المتناسبة للنقاط $(B, 1)$ و $(C, -2)$ و $(G, 3)$. وهذا يثبت انتماء K إلى المستوي (BCG) .

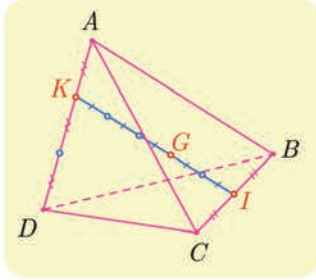
■ لرسم النقطة K ، نبدأ برسم L مركز الأبعاد المتناسبة للنقطتين $(G, 3)$ و $(C, -2)$ ، إذ نكتب العلاقة $3\overrightarrow{LG} - 2\overrightarrow{LC} = \vec{0}$ بالصيغة $\overrightarrow{GL} = -2\overrightarrow{GC}$ ، فنرسم L على امتداد $[CG]$ على أن تقع G بين C و L ونُحَقِّق $GL = 2GC$.

وأخيراً نرسم K ، مركز النقطتين $(B, 1)$ و $(L, 1)$ ، أي منتصف القطعة $[BL]$.

تكريباً للفهم

ماذا يفيد مفهوم مركز الأبعاد المتناسبة في الفراغ؟

- يفيد في إثبات وقوع نقاط على استقامة واحدة.
- يفيد في إثبات وقوع نقاط في مستوي واحد.
- يفيد في إثبات تقاطع مستقيمات.



① بالاستفادة من المعلومات المبينة في الشكل المجاور، عَيِّن

الأعداد الأربعة a و b و c و d ليتحقق ما يأتي :

① مركز الأبعاد المتناسبة للنقطتين (A, a) و (D, d) .

② مركز الأبعاد المتناسبة للنقطتين (B, b) و (C, c) .

③ مركز الأبعاد المتناسبة للنقاط المثقلة

(A, a) و (B, b) و (C, c) و (D, d) .

② عَيِّن مركز ثقل المثلث ABC ، في حالة $A(-4, -1, 2)$ و $B(-2, 1, 0)$ و $C(6, 3, -5)$.

③ لدينا ثلاث نقاط في الفراغ A و B و C .

① أثبت وجود نقطة وحيدة M تُحقق $\vec{MA} + \vec{MB} - \vec{MC} = \vec{0}$.

② ما القول عن M عندما تكون A و B و C على استقامة واحدة؟

③ ما القول عن الرباعي $ACBM$ عندما لا تقع A و B و C على استقامة واحدة؟

④ ليكن $ABCD$ رباعي وجوه و k عدد حقيقي غير معدوم ولا يساوي 1. لتكن I و J و K و L

النقاط المعرفة بالعلاقات: $\vec{AI} = k\vec{AB}$ و $\vec{AJ} = k\vec{AD}$ و $\vec{CK} = k\vec{CD}$ و $\vec{CL} = k\vec{CB}$.

① أثبت أن $\vec{IJ} = k\vec{BD} = \vec{LK}$ واستنتج أن النقاط الأربع I و J و K و L تقع في مستوٍ واحد.

② ما طبيعة الشكل الرباعي $IJKL$ ؟

أفكار يجب تمثيلها

■ يجري التعامل مع الأشعة في الفراغ مثلما في المستوي.

□ إذ تعريف المساواة نفسه.

□ وطريقة الجمع نفسها.

□ وطريقة الضرب بعدد نفسها.

□ وطرائق الحساب نفسها.

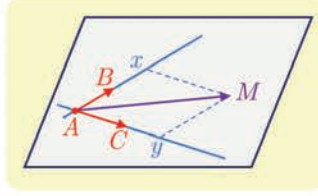
■ المستقيم (AB) هو مجموعة النقاط M التي تحقق $\vec{AM} = t\vec{AB}$ حيث t من \mathbb{R} . وهذا يتفق

مع حالة الهندسة المستوية.

■ وكما في الهندسة المستوية، نقول إن النقاط A و B و C تقع على استقامة واحدة عندما يكون

الشعاعان \vec{AB} و \vec{AC} مرتبطين خطياً.

وكما في الهندسة المستوية، يكون شعاعان \vec{u} و \vec{v} ، غير معدومين، مرتبطين خطياً، عندما يوجد عدد حقيقي k بحيث يكون $\vec{u} = k\vec{v}$.



المستوي (ABC) هو مجموعة النقاط M التي تحقق العلاقة $\vec{AM} = x\vec{AB} + y\vec{AC}$ حيث x و y متحولان في \mathbb{R} .

يفيد مفهوم الارتباط الخطي لثلاثة أشعة في الفراغ، في إثبات وقوع أربع نقاط في المستوي نفسه. لأنّ القول « تقع النقاط A و B و C و D في مستوي واحد » يكافئ أنّ الأشعة \vec{AB} و \vec{AC} و \vec{AD} مرتبطة خطياً.

لإثبات أنّ ثلاثة أشعة \vec{u} و \vec{v} و \vec{w} مرتبطة خطياً، يكفي إثبات وجود عددين حقيقيين a و b يُحققان العلاقة $\vec{w} = a\vec{u} + b\vec{v}$.

إنّ نقطة O ، وثلاثة أشعة \vec{i} و \vec{j} و \vec{k} ليست مرتبطة خطياً، تولّف معلماً للفراغ نرمز إليه بالرمز $(O; \vec{i}, \vec{j}, \vec{k})$.

في معلّم متجانس للفراغ، إذا كان $\vec{u}(x, y, z)$ ، كان $\|\vec{u}\|^2 = x^2 + y^2 + z^2$.

منعكسات يجب امتلاكها.

- لإثبات مساواة شعاعية، فكّر في علاقة شال.
- فكّر بالاستفادة من أداة جديدة هي « الارتباط الخطي لثلاثة أشعة »
 - لإثبات انتماء نقاط على مستوي واحد.
 - لإثبات توازي مستقيمين ومستويين.
 - لإثبات توازي مستويين.
- فكّر في أنّ استعمال معلّم يمكن أن يكون عوناً في حلّ مسألة، فعلى سبيل المثال، في حالة مكعب أو رباعي وجوه، يوجد معلم مناسب « طبيعي ».
- لإيجاد مركز الأبعاد المتناسبة لأربع نقاط من الفراغ، يمكن استبدال باثنتين أو بثلاث منها مركزها بعد أن نسند إليه معاملاً يساوي مجموع معاملاتهما.

أخطاء يجب تجنبها.

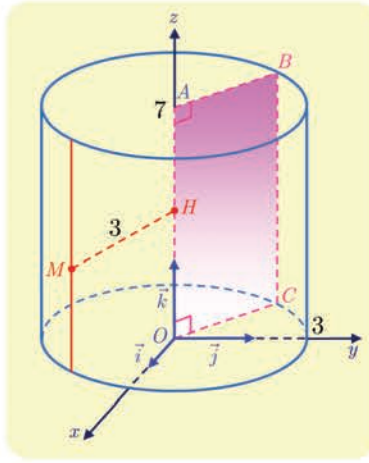
- للتعامل مع مسائل المسافات، لا تختز معلماً كيفياً، بل، اختر، حصراً، معلماً متجانساً.
- أن يكون شعاعاً توجيه مستقيمين في الفراغ غير مرتبطين خطياً، لا يكفي بالضرورة لتأكيد تقاطع هذين المستقيمين، بل يجب إضافة إلى ذلك، إثبات وقوعهما في مستوي واحد.

أنشطة

نشاط 1 معادلة أسطوانة ومعادلة مخروط

1 معادلة أسطوانة

لتكن النقطة التي إحداثياتها $(0,0,7)$ في معلم متجانس معطى في الفراغ $(O; \vec{i}, \vec{j}, \vec{k})$. نتأمل الأسطوانة المولدة من دوران الضلع $[BC]$ من المستطيل $OABC$ حول المستقيم (OA) حيث $AB = 3$. ولتكن نقطة متحولة من الأسطوانة، و H مسقطها القائم على القطعة المستقيمة $[OA]$.



① نفترض أن $M(x,y,z)$. ما إحداثيات النقطة H ؟ أثبت أن إحداثيات M تُحقق العلاقتين:

$$0 \leq z \leq 7 \text{ و } x^2 + y^2 = 9$$

② بالعكس، إذا كانت $M(x,y,z)$ نقطة من الفراغ تُحقق إحداثياتها $x^2 + y^2 = 9$ و $0 \leq z \leq 7$.

فأثبت أن $MH = 3$ ، واستنتج أن M تقع على الأسطوانة.

النتيجة: معادلة هذه الأسطوانة هي $x^2 + y^2 = 9$ و $0 \leq z \leq 7$.

③ أيُّ النقاط الآتية تقع على الأسطوانة $D(3,0,3)$ و $E(\sqrt{3}, \sqrt{6}, 4)$ و $F(1,3,1)$ ؟

④ اجد معادلة للأسطوانة التي محورها (O, \vec{j}) وقاعدتها الدائرة التي مركزها O ونصف قطرها 2.

ب. أعد السؤال ④. في حالة مركز قاعدة الأسطوانة هو النقطة $Q(0,8,0)$.

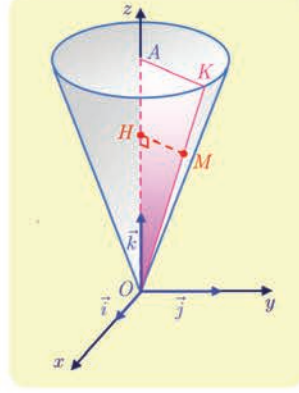
⑤ اجد معادلة الأسطوانة التي محورها (O, \vec{i}) ومركز قاعدتها $T(3,0,0)$ ونصف قطرها $\sqrt{6}$.

⑥ صِف مجموعة النقاط $M(x,y,z)$ التي تحقق إحداثياتها العلاقات

$$1 \leq z \leq 4 \text{ و } x^2 + y^2 = 25$$

② معادلة مخروط

لنكن A النقطة التي إحداثياتها $(0, 0, 5)$ في معلم متجانس معطى في الفراغ $(O; \vec{i}, \vec{j}, \vec{k})$. لنأمل المخروط المولد من دوران الصّلع $[OK]$ من المثلث OAK حول OA مع $AK = 2$.



① لنكن M نقطة من المخروط، و H مسقطها القائم على القطعة $[OA]$.

a. أثبت أن $\frac{MH}{OH} = \frac{2}{5}$ ، ثم $MH^2 = \frac{4}{25}OH^2$.

b. اكتب المساواة السابقة بدلالة إحداثيات M ولنكن (x, y, z) . وأثبت أنه إذا كانت $M(x, y, z)$

نقطة من المخروط، كان $x^2 + y^2 - \frac{4}{25}z^2 = 0$ و $0 \leq z \leq 5$.

② بالعكس، لنكن $M(x, y, z)$ نقطة من الفراغ تُحقّق إحداثياتها العلاقات

$$x^2 + y^2 - \frac{4}{25}z^2 = 0 \text{ و } 0 \leq z \leq 5$$

أثبت أنه إذا كان $z \neq 0$ ، كان $\frac{MH}{OH} = \frac{2}{5}$. واستنتج أن M تقع على المخروط. لا تنسَ حالة

$$z = 0$$

النتيجة: معادلة هذا المخروط هي $x^2 + y^2 - \frac{4}{25}z^2 = 0$ مع $0 \leq z \leq 5$.

③ عيّن من بين النقاط الآتية، تلك التي تقع على المخروط، مبرراً إجابتك :

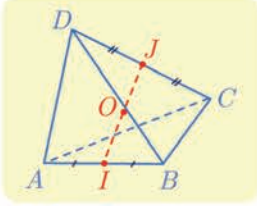
$$T(2, 2\sqrt{3}, 10) \text{ و } S(1, 1, 3) \text{ و } R(-2, 1, 5) \text{ و } Q(2, 0, 5)$$

④ اكتب معادلة للمخروط الذي رأسه O ومحوره (O, \vec{i}) وقاعدته الدائرة التي مركزها $B(4, 0, 0)$

ونصف قطرها 3.

تمرينات ومسائل

1 $ABCD$ رباعي وجوه. فيه I منتصف $[AB]$ و J منتصف $[CD]$ و O منتصف $[IJ]$.



① املاً الفراغ : $\overrightarrow{AB} + \overrightarrow{CD} = \overrightarrow{AD} + \dots + \overrightarrow{CD}$. واستنتج أن

$$\overrightarrow{AB} + \overrightarrow{CD} = \overrightarrow{AD} + \overrightarrow{CB}$$

② بسطاً كلاً من $\overrightarrow{AI} + \overrightarrow{IJ} + \overrightarrow{JD}$ و $\overrightarrow{BI} + \overrightarrow{IJ} + \overrightarrow{JD}$. استنتج أن

$$\overrightarrow{AC} + \overrightarrow{BD} = 2\overrightarrow{IJ}$$

③ لماذا $\overrightarrow{OA} + \overrightarrow{OB} = 2\overrightarrow{OI}$ و $\overrightarrow{OC} + \overrightarrow{OD} = 2\overrightarrow{OJ}$ ؟ استنتج أن

$$\overrightarrow{OA} + \overrightarrow{OB} + \overrightarrow{OC} + \overrightarrow{OD} = \vec{0}$$

④ لتكن K منتصف $[AD]$ ، و L منتصف $[BC]$. أثبت أن $\overrightarrow{IK} = \frac{1}{2}\overrightarrow{BD}$ و $\overrightarrow{LJ} = \frac{1}{2}\overrightarrow{BD}$.

استنتج أن $IKJL$ متوازي أضلاع.

2 $ABCD$ رباعي وجوه. وضّع على شكل النقاط الآتية:

① I مركز الأبعاد المتناسبة للنقطتين $(A,1)$ و $(B,2)$.

② J مركز الأبعاد المتناسبة للنقطتين $(C,2)$ و $(D,1)$.

③ K مركز الأبعاد المتناسبة للنقاط $(A,1)$ و $(B,2)$ و $(C,2)$ و $(D,1)$.

④ L مركز الأبعاد المتناسبة للنقطتين $(A,1)$ و $(B,-2)$.

⑤ M مركز الأبعاد المتناسبة للنقاط $(A,1)$ و $(B,-2)$ و $(C,-1)$.

⑥ N مركز الأبعاد المتناسبة للنقاط $(A,1)$ و $(B,-2)$ و $(C,-1)$ و $(D,1)$.

3 في المقولات الآتية، بين الصحيح من الخطأ معللاً إجابتك.

① ABC مثلث. مهما كانت D من الفراغ كانت الأشعة \overrightarrow{DA} و \overrightarrow{DB} و \overrightarrow{DC} مرتبطة خطياً.

② $ABCD$ رباعي الوجوه. لتكن I النقطة المعرفة بالعلاقة $2\overrightarrow{IA} = \overrightarrow{DA} + \overrightarrow{BC} + \overrightarrow{CA}$. عندئذ

تقع I على أحد حروف رباعي الوجوه.

③ نتأمل الأشعة \overrightarrow{AD} و \overrightarrow{AC} و \overrightarrow{AB} . نفترض أن أي شعاعين منها ليسا مرتبطين خطياً، عندها

تكون الأشعة \overrightarrow{AD} و \overrightarrow{AC} و \overrightarrow{AB} غير مرتبطة خطياً.

④ النقاط $A(5,1,3)$ و $B(2,-\sqrt{5},-2)$ و $C(3,-3,3)$ متساوية البعد عن $K(2,0,1)$.

⑤ النقاط $C(4,0,0)$ و $D(0,-2,0)$ و $E(1,2,6)$ و $F(5,1,1)$ تنتمي إلى المستوي المحوري

للقطعة المستقيمة التي طرفيها $A(4,-2,2)$ و $B(2,2,0)$.



لنتعلم البحث معاً

4 إثبات وقوع تقاطع في مستوى واحد

نتأمل، في المعلم $(O; \vec{i}, \vec{j}, \vec{k})$ ، النقاط الآتية :

$$A(2,0,1) \text{ و } B(1,-2,1) \text{ و } C(5,5,0) \text{ و } D(-3,-5,6) \text{ و } E(3,1,2)$$

أثبت انتماء النقاط A و B و C و D إلى مستوى واحد P ، وتبين إذا كانت النقطة E تنتمي إلى المستوى P .

نحو الحل

غير مجد هنا رسم شكل. إذ تكمن الفائدة الوحيدة من الرسم في العمل على إظهار نقاط تقع على استقامة واحدة. ولكن قد تبدو النقاط في شكل فراغي على استقامة واحدة دون أن تكون كذلك. في حين ندعونا معرفة إحداثيات النقاط المفروضة إلى التعامل مع المسألة تحليلياً. يتعلق الأمر بمعرفة إذا كانت النقاط A و B و C و D واقعة في مستوى واحد. لهذا، نتحرى وجود شعاعين غير مرتبطين خطياً من بين الأشعة \overrightarrow{AB} و \overrightarrow{AC} و \overrightarrow{AD} .

$$1. \text{ احسب مركبات كل من } \overrightarrow{AB} \text{ و } \overrightarrow{AC} \text{ و } \overrightarrow{AD}.$$

$$2. \text{ استنتج أن } \overrightarrow{AC} \text{ و } \overrightarrow{AB} \text{، على سبيل المثال، غير مرتبطين خطياً.}$$

استناداً إلى المبرهنة 4، يؤول إقرار انتماء نقطة D إلى المستوي (ABC) ، إلى وجود عددين حقيقيين a و b يحققان $\overrightarrow{AD} = a\overrightarrow{AB} + b\overrightarrow{AC}$.

1. اكتب المساواة الشعاعية السابقة بلغة الإحداثيات، وتحقق أنك ستحصل على جملة من ثلاث

معادلات خطية بالمجهولين a و b هي:

$$\begin{cases} -a + 3b = -5 \\ -2a + 5b = -5 \\ -b = 5 \end{cases}$$

2. لحل مثل هذه الجملة من المعادلات، اختر جملة من معادلتين من هذه المعادلات الثلاث

وحلها. هل العددين a و b اللذان وجدتهما حولاً للمعادلة الثالثة؟ أكمل.

3. تصرّف بالمثل مع النقطة E .

أنجز الحل واكتبه بلغة سليمة.

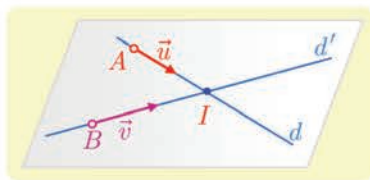
في معلم $(O; \vec{i}, \vec{j}, \vec{k})$ ، لدينا النقطتان $A(3, -1, 1)$ و $B(3, -3, -1)$ ، والشعاعان $\vec{u}(1, 0, -2)$ و $\vec{v}(2, 1, -3)$. d هو المستقيم المارّ بالنقطة A والموجّه بالشعاع \vec{u} ، و d' هو المستقيم المارّ بالنقطة B والموجّه بالشعاع \vec{v} . أثبت أنّ المستقيمين d و d' متقاطعان، ثمّ عيّن نقطة تقاطعهما.

نحو الحل

ليس مفيداً، هنا، رسمُ شكلٍ بالنقاط والأشعة والمستقيمات المفترضة. إذ قد يبدو مستقيمان في الفراغ متقاطعين، دون أن يكونا كذلك، لأنهما غير واقعين في مستوٍ واحد. يتعلّق الأمر بإثبات تقاطع مستقيمين من الفراغ، إذن يجب إثبات أنّهما غير متوازيين ويقعان في مستوٍ واحد. وتدعونا معرفة إحداثيات النقاط ومركبات الأشعة إلى التعامل مع المسألة **تحليلياً**.

1. أثبت أنّ \vec{u} و \vec{v} غير مرتبطين خطياً.

2. ما قولك بشأن المستقيمين d و d' ؟



يبقى إثبات وقوع المستقيمين d و d' في مستوٍ واحد. المستقيم d والنقطة B يعينان مستوياً P طالما B لا تقع على d . فلا إثبات أنّ d و d' يقعان في مستوٍ واحد، يكفي إثبات أنّ الأشعة \vec{u} و \vec{v} مرتبطة خطياً.

1. تحقق، بذكر المبرهنة ذات الصلة، أنّ المسألة تؤوّل إلى إثبات وجود عددين حقيقيين a و b

$$\text{يحققان } \vec{AB} = a\vec{u} + b\vec{v}.$$

2. اكتب المساواة السابقة بلغة الإحداثيات، فتحصل على جملة من ثلاث معادلات خطية بمجهولين.

3. اختر اثنتين من المعادلات الثلاث التي حصلت عليها، ثم حلّ الجملة المؤلفة منهما. أياكون العددين الحقيقيين a و b اللذان وجدتهما حلاً للمعادلة الثالثة؟ أتمم.

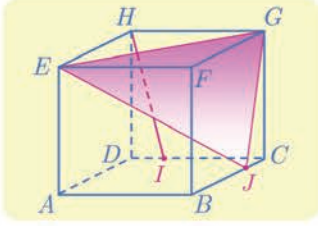
لحساب إحداثيات $I(x, y, z)$ ، نقطة تقاطع المستقيمين d و d' . نسعى، بالتعامل شعاعياً، إلى التوثق من أنّ I تقع على كلّ من d و d' .

1. تحقق من وجود عددين حقيقيين α و β يحققان $\vec{AI} = \alpha\vec{u}$ و $\vec{BI} = \beta\vec{v}$.

2. اكتب هاتين المساواتين بلغة الإحداثيات لتستنتج α و β ومن ثمّ إحداثيات النقطة I .

أنجز الحلّ واكتبه بلغة سليمة.

6 النوازي في الفراغ



لنتأمل المكعب $ABCDEFGH$. النقطة I من الحرف $[CD]$ تُحقّق المساواة $\overrightarrow{DI} = \frac{1}{4}\overrightarrow{DC}$ ، والنقطة J من $[BC]$ تحقّق المساواة $\overrightarrow{BJ} = \frac{3}{4}\overrightarrow{BC}$. أثبت أنّ المستقيم (HI) يوازي المستوي (EGJ) .

نحو الحل

لا يُظهر الشكل مستقيماً من المستوي (EGJ) موازياً (HI) . إذ لو كان مستقيماً من المستوي (EGJ) موازياً (HI) ، لتأكد لنا أنّ المستقيم (HI) يوازي المستوي (EGJ) . لنفكر إذن بالتعامل مع المسألة تحليلياً. نختار $(A; \overrightarrow{AB}, \overrightarrow{AD}, \overrightarrow{AE})$ معلماً للفراغ، لأنه من السهل تعيين إحداثيات نقاط الشكل في هذا المعلم. عيّن في هذا المعلم إحداثيات النقاط G, E, J, I, H .

لإثبات أنّ المستقيم (HI) يوازي المستوي (EGJ) ، باستعمال الأشعة، يكفي، على سبيل المثال، إثبات أنّ الأشعة \overrightarrow{HI} و \overrightarrow{EG} و \overrightarrow{EJ} واقعة في مستوٍ واحد.

1. أثبت أنّ هذا يقودنا إلى إثبات وجود عددين حقيقيين x و y يُحقّقان

$$\overrightarrow{HI} = x\overrightarrow{EG} + y\overrightarrow{EJ}$$

2. اكتب هذه المساواة الشعاعية بلغة الإحداثيات: ستحصل على جملة من ثلاث معادلات بمجهولين.

3. اختر اثنتين من المعادلات الثلاث التي حصلت عليها، ثم حلّ الجملة المؤلفة منهما. هل العددين الحقيقيين x و y اللذان وجدتهما حلول للمعادلة الثالثة؟

أنجز الحلّ واكتبه بلغة سليمة.

حلّ آخر

فيما سبق، لم نسع إلى إظهار مستقيم في المستوي (EGJ) يوازي (HI) ، فلجاناً إلى التعامل مع الإحداثيات. ولكن دراسة تقاطع المكعب مع المستوي (EGJ) ، تظهر مستقيماً من هذا القبيل. المستويان (EFG) و (ABC) متوازيان، والمستوي (EGJ) يقطعهما بفصلين مشتركين متوازيين.

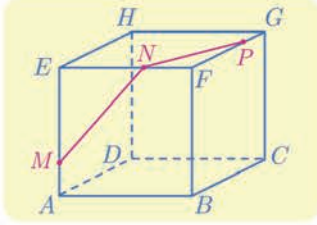
1. ارسم الفصل المشترك للمستويين (EGJ) و (ABC) ، ولتكن K نقطة تقاطعه مع (AB) . بين لماذا $\overrightarrow{AK} = \frac{1}{4}\overrightarrow{AB}$ ؟ أثبت أنّ $\overrightarrow{EK} = \overrightarrow{HI}$.

2. ماذا تستنتج بشأن المستقيمين (HI) و (EK) ؟ وكذلك بشأن المستقيم (HI) والمستوي (EGJ) ؟

أنجز الحلّ الآخر واكتبه بلغة سليمة.

7

متقطع مكعب مسنور



مكعب $ABCDEFGH$. M و N و P ثلاث نقاط من الأحرف $[AE]$ و $[EF]$ و $[FG]$ بالترتيب، كما في الشكل المجاور. يُطلب إيجاد مقطع المكعب بالمستوي (MNP) .

نحو الحل

نريد تعيين تقاطع المستوي (MNP) مع وجوه المكعب. ولكن بمَ نبدأ؟ نعلم أنه عندما يقطع المستوي (MNP) وجهين متقابلين من المكعب، وهما في مستويين متوازيين، يكون الفصلان المشتركان الناتجان متوازيين.

1. أي وجه من وجوه المكعب يتقاطع مع (MNP) ويوازي (MN) ؟
2. أي وجه من وجوه المكعب يتقاطع مع (MNP) ويوازي (NP) ؟
3. أي وجه تختار إذن لتتعامل معه؟

لنبدأ، على سبيل المثال، بالبحث عن تقاطع المستوي (MNP) مع الوجه $(DCGH)$. لإيجاد الفصل المشترك لهذين المستويين، يكفي إيجاد نقطة مشتركة بينهما. لنبحث إذن عن نقطة من هذا القبيل.

1. لماذا نقطة تقاطع (PN) و (HG) ملائمة؟ ارمز إلى تلك النقطة بالرمز Q .
2. المستقيم المارّ بالنقطة Q موازياً للمستقيم (MN) ، يقطع (CG) في R ويقطع (DC) في S . حدّد الفصل المشترك للمستوي (MNP) والوجه $(DCGH)$.

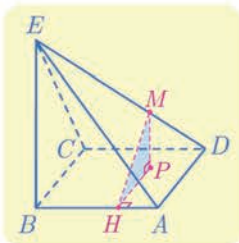
1. لماذا يفيد المستقيم المارّ بالنقطة S موازياً (PN) ، في تحديد الفصل المشترك للمستوي (MNP) والوجه $(ABCD)$ ؟ لتكن T نقطة تقاطعه مع $[AD]$.

2. ما الفصل المشترك للمستوي (MNP) مع كلٍّ من الوجهين $(BCGF)$ و $(ADHE)$ ؟

أنجز الحل الآخر واكتبه بلغة سليمة.

حساب مسافة

8



هرم $ABCDE$ رأسه E وقاعدته مربع. $[BE]$ عمودي على المستوي $(ABCD)$ ، $EB = 4\sqrt{2}$ و $AB = 4$. M نقطة من القطعة $[ED]$ نَحَقّق $3DM = DE$. لتكن P المسقط القائم للنقطة M على المستوي $(ABCD)$ و H المسقط القائم للنقطة P على المستقيم (AB) . احسب طول القطعة المستقيمة $[MH]$.

نحو الحل

تدعونا مختلف أوضاع التعماد والتساوي في الشكل إلى التعامل تحليلياً مع هذا التمرين. يحضرنا،

$$\vec{BE} = 4\sqrt{2}\vec{k} \text{ و } \vec{BC} = 4\vec{j} \text{ و } \vec{BA} = 4\vec{i} \text{ حيث } (B; \vec{i}, \vec{j}, \vec{k})$$

1. جد، في هذا المعلم، إحداثيات كل من النقطتين E و D .

2. حدّد إحداثيات النقطة M .

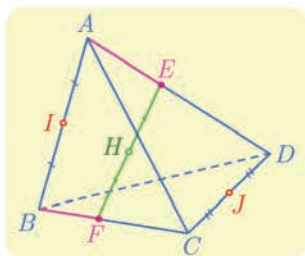
P هي المسقط القائم للنقطة M على المستوي $(ABCD)$ ، فنُستنتج إحداثيات P ، بسهولة، من

إحداثيات النقطة M . وبالمثل، تُستنتج إحداثيات النقطة H من إحداثيات P .

1. حدّد إحداثيات كل من النقطتين H و P .

2. احسب طول $[MH]$.

أنجز الحل الآخر واكتبه بلغة سليمة.



9 $ABCD$ رباعي وجوه، و a عدد حقيقي. I و J هما، بالترتيب،

منتصفا $[AB]$ و $[CD]$. و E و F نقطتان تحققان، العلاقتين:

$$\vec{AE} = a\vec{AD} \text{ و } \vec{BF} = a\vec{BC}. \text{ وأخيراً } H \text{ هي منتصف } [EF].$$

أثبت أنّ I و J و H تقع على استقامة واحدة.

نحو الحل

نهدف إلى إثبات وقوع ثلاث نقاط من الفراغ على استقامة واحدة. تدعونا الفرضيات التي تحدّد

نقاط الشكل إلى استعمال مركز الأبعاد المتناسبة أداة للإثبات. يكفي إذن، على سبيل المثال،

إثبات أنّ H هي مركز أبعاد متناسبة للنقطتين I و J . وقد أسندنا إليهما تقنين مناسبين.

1. تيقّن أنّ E هي مركز الأبعاد المتناسبة للنقطتين $(A, 1-a)$ و (D, a) ، وأنّ F هي مركز

الأبعاد المتناسبة للنقطتين $(B, 1-a)$ و (C, a) .

2. بالاستفادة من الخاصّة التجميعيّة، أثبت أنّ H هي مركز الأبعاد المتناسبة للنقاط $(A, 1-a)$

و $(B, 1-a)$ و (C, a) و (D, a) .

3. استنتج أنّ النقاط I و J و H تقع على استقامة واحدة.

أنجز الحل الآخر واكتبه بلغة سليمة.



قُدماً إلى الأمام

10 A و B و C ثلاث نقاط ليست على استقامة واحدة من الفراغ. و D و E نقطتان تحققان:

$$\overrightarrow{AE} = 3\overrightarrow{CE} \text{ و } 3\overrightarrow{AD} = 2\overrightarrow{AB}$$

① أثبت أن النقاط A و B و C و D و E تقع في مستوٍ واحد.

② لتكن I منتصف $[CD]$ و J منتصف $[BE]$. أثبت وقوع A و I و J على استقامة واحدة.

11 $ABCD$ رباعي وجوه. و E و F و G هي نظائر A بالنسبة إلى منتصفات $[BC]$ و $[CD]$ و

و $[DB]$ بالترتيب.

① أثبت أن $\overrightarrow{AC} = \overrightarrow{BE}$ و $\overrightarrow{AC} = \overrightarrow{DF}$.

② استنتج أن للقطعتين $[DE]$ و $[FB]$ المنتصف نفسه.

③ أثبت أن المستقيمات (BF) و (DE) و (CG) متلاقية في نقطة واحدة.

12 $ABCD$ رباعي وجوه. و E هي نظيرة A بالنسبة إلى C ، و F و G هما النقطتان اللتان

تجعلان $EBCF$ و $FDAG$ متوازي الأضلاع.

① أثبت أن $\overrightarrow{DG} = \overrightarrow{DA} + \overrightarrow{DE} + \overrightarrow{BC}$.

② استنتج أن $\overrightarrow{DG} = 2\overrightarrow{DC} + \overrightarrow{BC}$ ، ثم أن النقاط B و C و D و G تقع في مستوٍ واحد.

13 نتأمل في معلم $(O; \vec{i}, \vec{j}, \vec{k})$ النقاط $A(3, 2, 1)$ و $B(1, 2, 0)$ و $C(3, 1, -2)$.

① أثبت أن النقاط A و B و C ليست على استقامة واحدة.

② عند أية قيمة للوسيط m تنتمي النقطة $M(m, 1, 3)$ إلى المستوي (ABC) ؟

③ ما العلاقة بين x و y لتقع النقاط A و B و C و $D(x, y, 3)$ في مستوٍ واحد؟

14 مجموعة تقاطع

لتكن \mathcal{E} مجموعة النقاط $M(x, y, z)$ التي تحقق إحداثياتها العلاقة: $x - 2y + 3z - 5 = 0$.

① أثبت أن النقاط $A(7, 1, 0)$ و $B(5, 0, 0)$ و $C(2, 0, 1)$ تنتمي إلى المجموعة \mathcal{E} .

② أثبت أن النقاط A و B و C تحدّد مستوياً \mathcal{P} .

③ a . أثبت أن مركبات الشعاع \overrightarrow{BM} هي $(2y - 3z, y, z)$.

b . استنتج أن $\overrightarrow{BM} = y\overrightarrow{BA} + z\overrightarrow{BC}$. ماذا يمكنك أن تستنتج من ذلك؟

④ بالعكس، أثبت أن أية نقطة $M(x, y, z)$ من المستوي \mathcal{P} تحقق المعادلة:

$$x - 2y + 3z - 5 = 0$$

ما هي المجموعة \mathcal{E} ؟

15) نتأمل في معلم $(O; \vec{i}, \vec{j}, \vec{k})$ المستقيم d المار بالنقطة $A(2, 0, 5)$ والموجه بالشعاع $\vec{v}(1, 2, 1)$ والمستقيم d' المار بالنقطة $B(2, 2, -1)$ والموجه بالشعاع $\vec{v}(1, 2, 1)$. هل d و d' متقاطعان؟ في حالة الإيجاب، عين نقطة تقاطعهما.

16) جد على محور الفواصل نقطة C متساوية البعد عن النقطتين $A(2, -1, 3)$ و $B(0, 5, -1)$.

17) ليكن α عدداً حقيقياً، ولنتأمل النقاط الثلاث $A(3, 1, -3)$ و $B(-1, 5, -3)$ و $C(-1, 1, \alpha)$. أثبت أن المثلث ABC متساوي الساقين، أيّاً كان α . أيمكن أن يكون متساوي الأضلاع؟

18) نتأمل النقطتين $A(2, 1, 0)$ و $B(-1, 4, 2)$.

- ① أوجد نقطة متساوية البعد عن A و B .
- ② أوجد العدد الحقيقي λ الذي يجعل النقطة $C(1, 1, \lambda)$ متساوية البعد عن A و B .
- ③ أثبت أن «نقطة $M(x, y, z)$ من المستوي المحوري للقطعة $[AB]$ » إذا وفقط إذا تحقق الشرط « $3x - 3y - 2z + 8 = 0$ ».

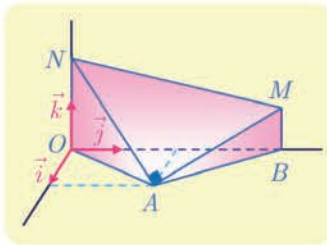
19) بُعد نقطة عن مستقيم

نتأمل النقاط $A(2, 3, 0)$ و $B(2, 3, 6)$ و $M(4, -1, 2)$. نهدف إلى حساب بُعد M عن المستقيم (AB) .

- ① أثبت أن M لا تقع على المستقيم (AB) .
- ② أثبت أن لكل نقطة K من المستقيم (AB) إحداثيات من النمط $(2, 3, z)$.
- ③ احسب MK^2 بدلالة z .
- ④ عند أية قيمة للعدد z يكون MK أصغر ما يمكن؟ حدّد إذن بُعد M عن (AB) .

20) المسافات وحجم هرم

m و n عدنان حقيقيّان موجبان يُحقّقان $n > m > 0$. نتأمل النقاط $A(\sqrt{3}, 3, 0)$ و $B(0, 6, 0)$ و $M(0, 6, m)$ و $N(0, 0, n)$ في معلم متجانس $(O; \vec{i}, \vec{j}, \vec{k})$. عين m و n ليكون المثلث MAN قائماً في A وحجم المجسم $AOBMN$ يساوي $5\sqrt{3}$.



- 21 نتأمل رباعي وجوه $ABCD$ ، ونقطتين E و F معرفتين وفق $\overrightarrow{BE} = \frac{1}{4}\overrightarrow{BC}$ و $\overrightarrow{AF} = \frac{2}{3}\overrightarrow{AD}$.
 أثبت أن G ، مركز الأبعاد المتناسبة للنقاط $(A,1)$ و $(B,3)$ و $(C,1)$ و $(D,2)$ ، يقع على $[EF]$.
 ثم عيّن النقطة G على $[EF]$.

- 22 نتأمل رباعي وجوه $ABCD$. ونقطتين I و J معرفتين وفق $\overrightarrow{IA} = 2\overrightarrow{IB}$ و $\overrightarrow{JC} = 2\overrightarrow{JD}$.

① أيمكن أن تنطبق إحدى النقطتين I و J على الأخرى؟

② أثبت أنه، أيًا كانت النقطة M من الفراغ، كان :

$$\overrightarrow{MC} - 2\overrightarrow{MD} = -\overrightarrow{MJ} \quad \text{و} \quad \overrightarrow{MA} - 2\overrightarrow{MB} = -\overrightarrow{MI}$$

③ جد مجموعة نقاط الفراغ M التي تحقق:

$$\|\overrightarrow{MB} + \overrightarrow{MC} + \overrightarrow{MD}\| = \|\overrightarrow{3MA} - \overrightarrow{MB} - \overrightarrow{MC} - \overrightarrow{MD}\|$$

- 23 لدينا في معلم متجانس $(O; \vec{i}, \vec{j}, \vec{k})$ النقطتان $A(2, -1, 2)$ و $B(-2, 1, -2)$. نقرن بكل نقطة

$M(x, y, z)$ ، من الفراغ، المقدار $f(M) = MA^2 + MB^2$.

① احسب $f(M)$ بدلالة x و y و z .

② أثبت أن مجموعة النقاط M التي تحقق $f(M) = 18$ مؤلفة من نقطة واحدة.

③ أثبت أن مجموعة النقاط M التي تحقق $f(M) = 30$ كرة مركزها O . أوجد نصف قطرها.

④ أثبت أنه، وفق شرط على العدد الحقيقي k ، مجموعة النقاط M المحققة للعلاقة $f(M) = k$

هي كرة مركزها O .

- 24 نتأمل رباعي الوجوه $ABCD$ رباعي وجوه.

① M نقطة من الحرف $[AC]$. جد مقطع رباعي الوجوه بالمستوي المار بالنقطة M موازيًا

للمستوي (BCD) .

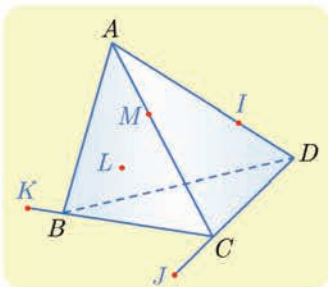
② I نقطة من الحرف $[AD]$ ، و J نقطة من المستقيم (CD) ،

و K نقطة من المستقيم (BC) . عيّن مقطع رباعي الوجوه

بالمستوي (IJK) .

③ L نقطة من المستوي (ABD) . أوجد مقطع رباعي الوجوه

بالمستوي (KJL) .



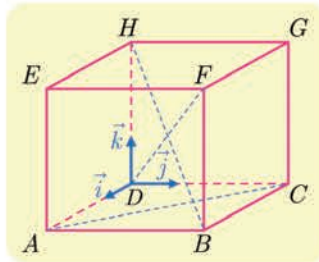
ننأمل مكعباً $ABCDEFGH$ ، والنقاط I و J و K و L منتصفات $[AE]$ و $[BG]$ و $[EG]$ و $[AB]$ بالترتيب. والنقطة M مركز الأبعاد المتناسبة للنقاط $(A,1)$ و $(B,1)$ و $(G,1)$ و $(E,1)$.

- ① أثبت أن M تنتمي إلى $[IJ]$ وعين موضعها على هذه القطعة.
- ② أثبت أن M تنتمي إلى $[KL]$ وعين موضعها على هذه القطعة.
- ③ استنتج أن I و J و K و L تقع في مستوٍ واحد وعين طبيعة الرباعي $ILJK$.

2 الجداء السلمي في الفراغ

انطلاقاً نشطة

الحساب في المكعب. نهدف إلى التعبير بصيغة تحليلية عن التعمد في الفراغ. لنتأمل مكعباً $ABCDEFGH$ طول ضلعه يساوي 3. ولنتأمل المعلم $(O; \vec{i}, \vec{j}, \vec{k})$ المشار إليه في الشكل.



- ① اكتب إحداثيات جميع رؤوس المكعب.
- ② a. علّل تعامد المستقيمين (AB) و (FG) .
b. عيّن (x, y, z) مركبات الشعاع \overrightarrow{AB} و (x', y', z') مركبات الشعاع \overrightarrow{FG} .
c. احسب المقدار $xx' + yy' + zz'$.
- ③ a. علّل تعامد المستقيمين (AC) و (BF) .
b. عيّن (x, y, z) مركبات الشعاع \overrightarrow{AC} و (x', y', z') مركبات الشعاع \overrightarrow{BF} .
c. احسب المقدار $xx' + yy' + zz'$.
- ④ a. ارسم الرباعي $DBFH$ بالأبعاد الحقيقية. أياكون المستقيمان (DF) و (HB) متعامدين؟
b. عيّن (x, y, z) مركبات الشعاع \overrightarrow{DF} و (x', y', z') مركبات الشعاع \overrightarrow{HB} .
c. احسب المقدار $xx' + yy' + zz'$.
- ⑤ a. ليكن I مركز الوجه $EFGH$. ما إحداثيات I ؟
b. لتكن (x, y, z) مركبات الشعاع \overrightarrow{DF} المحسوبة سابقاً، احسب (x', y', z') مركبات الشعاع \overrightarrow{BI} .
c. احسب المقدار $xx' + yy' + zz'$ ، ماذا تقترح؟
- ⑥ a. وضح I على الشكل المرسوم في ④.
b. لإثبات تعامد (BI) و (DF) ، تؤول المسألة إلى مسألة في المستوي. باختيار معلم متجانس في المستوي (DBF) ، أعط إحداثيات نقاط الشكل، واحسب الجداء السلمي $\overrightarrow{BI} \cdot \overrightarrow{DF}$ ، ماذا تستنتج؟

1 الجداء السلمي في المستوى (تذكرة)

1.1. العبارات المختلفة للجداء السلمي

① في المستوى، الجداء السلمي لشعاعين \vec{u} و \vec{v} هو العدد الحقيقي

$$\vec{u} \cdot \vec{v} = \frac{1}{2} \left(\|\vec{u} + \vec{v}\|^2 - \|\vec{u}\|^2 - \|\vec{v}\|^2 \right)$$

② إذا كان الشعاعان \vec{u} و \vec{v} غير معدومين كان

$$\vec{u} \cdot \vec{v} = \|\vec{u}\| \cdot \|\vec{v}\| \cos(\vec{u}, \vec{v}) = \|\vec{u}\| \cdot \|\vec{v}\| \cos \theta$$

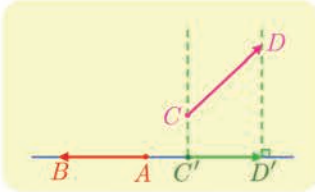
حيث θ هو قياس الزاوية الهندسية للشعاعين \vec{u} و \vec{v} .

③ إذا كانت مركبات الشعاعين \vec{u} و \vec{v} في معلم متجانس هي (x, y) و (x', y') بالترتيب كان

$$\vec{u} \cdot \vec{v} = xx' + yy'$$

④ إذا كان $\vec{C'D'}$ هو المسقط القائم للشعاع \vec{CD} على المستقيم (AB) كان

$$\vec{CD} \cdot \vec{AB} = \vec{C'D'} \cdot \vec{AB}$$



2.1. التعامد والمسافة

مبرهنة وتعريف 1

القول إن الشعاعين \vec{u} و \vec{v} متعامدان، يعني أن جداءهما السلمي معدوم: $\vec{u} \cdot \vec{v} = 0$. وهذا يكافئ في معلم متجانس أن $xx' + yy' = 0$ حيث (x, y) و (x', y') هي مركبات الشعاعين \vec{u} و \vec{v} بالترتيب.

ومن جهة أخرى، لما كانت الزاوية الهندسية بين الشعاع وذاته تساوي الصفر استنتجنا أن $\vec{u} \cdot \vec{u} = \|\vec{u}\|^2$ ، وعليه، في حالة نقطتين A و B في المستوى يكون لدينا $\vec{AB} \cdot \vec{AB} = AB^2$.

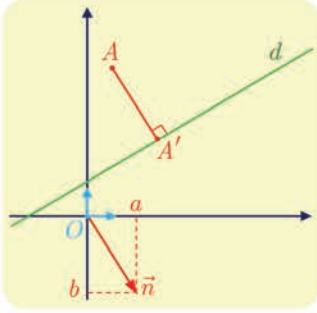
3.1. بُعد نقطة عن مستقيم

مبرهنة 2

في معلم متجانس، بُعد النقطة $A(\alpha, \beta)$ عن المستقيم d الذي معادلته $ax + by + c = 0$

$$\text{يساوي } \frac{|a\alpha + b\beta + c|}{\sqrt{a^2 + b^2}}$$

الإثبات



الشعاع $\vec{n}(a, b)$ شعاعٌ ناظم على المستقيم d ، وبوجه خاص $\vec{n} \neq \vec{0}$. لنرمز $A'(\alpha', \beta')$ إلى المسقط القائم للنقطة A على d ، المسافة المطلوبة هي AA' . ولكن الشعاعين \vec{n} و $\overrightarrow{AA'}$ مرتبطان خطياً إذن

$$(*) \quad \left| \vec{n} \cdot \overrightarrow{AA'} \right| = \|\vec{n}\| \cdot AA' = \sqrt{a^2 + b^2} \cdot AA'$$

ولكن مركبتي الشعاع $\overrightarrow{AA'}$ هما $(\alpha' - \alpha, \beta' - \beta)$ إذن

$$\begin{aligned} \vec{n} \cdot \overrightarrow{AA'} &= a(\alpha' - \alpha) + b(\beta' - \beta) = a\alpha' + b\beta' - a\alpha - b\beta \\ &= \underbrace{a\alpha' + b\beta' + c}_0 - (a\alpha + b\beta + c) = -(a\alpha + b\beta + c) \end{aligned}$$

إذ استفدنا من وقوع النقطة $A'(\alpha', \beta')$ على d لنستنتج أن $a\alpha' + b\beta' + c = 0$. وبالتعويض في (*) نجد المساواة المطلوبة.

تكريساً للفهم

كيف نُجري الحسابات باستعمال الجداء السلمي؟

■ أيًا كانت الأشعة \vec{u} و \vec{v} و \vec{w} والأعداد الحقيقية a و b كان

$$\vec{u} \cdot (\vec{v} + \vec{w}) = \vec{u} \cdot \vec{v} + \vec{u} \cdot \vec{w} \quad \text{②} \quad \vec{u} \cdot \vec{v} = \vec{v} \cdot \vec{u} \quad \text{①}$$

$$(\vec{u} + \vec{v}) \cdot \vec{w} = \vec{u} \cdot \vec{w} + \vec{v} \cdot \vec{w} \quad \text{④} \quad (a\vec{u}) \cdot (b\vec{v}) = ab(\vec{u} \cdot \vec{v}) \quad \text{③}$$

■ لا يحقق الجداء السلمي جميع خواص ضرب الأعداد، فمثلاً $\vec{u} \cdot \vec{v} = \vec{u} \cdot \vec{w}$ لا تقتضي $\vec{v} = \vec{w}$.

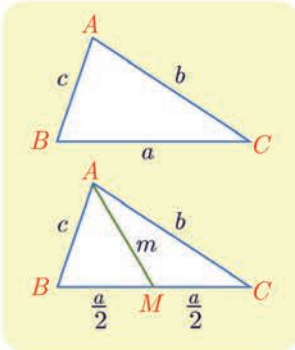
ولكن المساواة $\vec{u} \cdot \vec{v} = \vec{u} \cdot \vec{w}$ تكافئ $\vec{u} \cdot (\vec{v} - \vec{w}) = 0$ أي إن الشعاعين \vec{u} و $\vec{v} - \vec{w}$ متعامدان.

كيف نحسب $\vec{u} \cdot \vec{v}$ عندما يكون \vec{u} و \vec{v} مرتبطين خطياً؟

■ إذا كان الشعاعان مرتبطين خطياً ولهما الجهة نفسها كان $\vec{u} \cdot \vec{v} = \|\vec{u}\| \|\vec{v}\|$. وإذا كانا متعاكسين

بالجهة كان $\vec{u} \cdot \vec{v} = -\|\vec{u}\| \|\vec{v}\|$. وفي جميع الأحوال $|\vec{u} \cdot \vec{v}| = \|\vec{u}\| \|\vec{v}\|$.

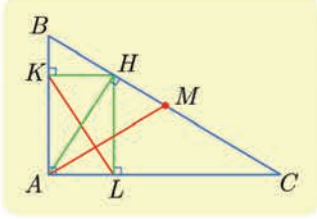
تطبيقات



■ علاقة الكاشي: $a^2 = b^2 + c^2 - 2bc \cos A$

■ مبرهنة المتوسط: $b^2 + c^2 = 2m^2 + \frac{a^2}{2}$

■ في متوازي الأضلاع: مجموع مربعات أطول الأضلاع يساوي مجموع مربعي طولي القطرين.



ABC مثلث قائم في A ، و M منتصف $[BC]$ ، و H موقع الارتفاع المرسوم من A . ليكن L و K المسقطين القائمين للنقطة H على $[AB]$ و $[AC]$ بالترتيب. أثبت تعامد المستقيمين (AM) و (KL) .

الحل

سنستعمل الجداء السلمي. لإثبات تعامد المستقيمين (AM) و (KL) ، نبين أن $\vec{AM} \cdot \vec{KL} = 0$. لما كانت M منتصف $[BC]$ كان $\vec{AM} = \frac{1}{2}(\vec{AB} + \vec{AC})$ لنحسب إذن $\vec{AB} \cdot \vec{KL}$ و $\vec{AC} \cdot \vec{KL}$. بالاستفادة من المسقط القائم على (AB) نجد:

$$\vec{AB} \cdot \vec{KL} = \vec{AB} \cdot \vec{KA} = \vec{AB} \cdot \vec{HA}$$

وبالاستفادة من المسقط القائم على (AC) نجد:

$$\vec{AC} \cdot \vec{KL} = \vec{AC} \cdot \vec{AL} = \vec{AC} \cdot \vec{AH}$$

إذن

$$\begin{aligned} \vec{AM} \cdot \vec{KL} &= \frac{1}{2}(\vec{AB} \cdot \vec{KL} + \vec{AC} \cdot \vec{KL}) = \frac{1}{2}(\vec{AB} \cdot \vec{HA} + \vec{AC} \cdot \vec{AH}) \\ &= \frac{1}{2}(\vec{AC} - \vec{AB}) \cdot \vec{AH} = \frac{1}{2}\vec{BC} \cdot \vec{AH} = 0 \end{aligned}$$

لأنه استناداً إلى الفرض (AH) عمودي على (BC) . ومنه تعامد المستقيمين (AM) و (KL) .

تدرب

نُعطي في هذه الفقرة معلماً متجانساً $(O; \vec{i}, \vec{j})$.

① احسب $\vec{u} \cdot \vec{v}$ و $\vec{v} \cdot \vec{w}$ و $\vec{w} \cdot \vec{u}$ في الحالتين :

① $\vec{u} = 2\vec{i} - 3\vec{j}$ و $\vec{v} = \frac{1}{2}\vec{i} + 5\vec{j}$ و $\vec{w} = \frac{1}{3}\vec{i} - 2\vec{j}$

② $\vec{u}(2, -1)$ و $\vec{v}(-\frac{1}{2}, 3)$ و $\vec{w}(5, 2)$.

② أعط في الحالتين الآتيتين معادلة المستقيم المار بالنقطة A والعمودي على المستقيم d :

① $A(5, 3)$ و $d : 2x + 5y - 5 = 0$ ② $A(-1, 2)$ و $d : x - 3y + 2 = 0$

③ أثبت في حالة أربع نقاط A و B و C و D من المستوي أن:

$$2\vec{AC} \cdot \vec{DB} = AB^2 - BC^2 + CD^2 - DA^2$$

④ أعط في الحالتين الآتيتين بُعد النقطة A عن المستقيم d :

① $A(-2, 4)$ و $d : 2x + y - 5 = 0$ ② $A(-\sqrt{2}, 2)$ و $d : \sqrt{2}x - 3y - 1 = 0$

الجداء السلمي في الفراغ

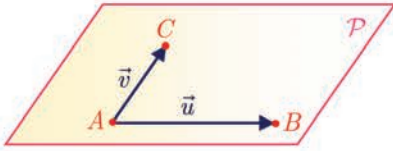
فيما يأتي نفترض أننا اخترنا في الفراغ واحدة للطول.

1.2. تعريف

تعريف 2

في الفراغ، الجداء السلمي لشعاعين \vec{u} و \vec{v} هو العدد الحقيقي

$$\vec{u} \cdot \vec{v} = \frac{1}{2} (\|\vec{u} + \vec{v}\|^2 - \|\vec{u}\|^2 - \|\vec{v}\|^2)$$



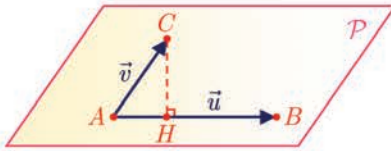
لاحظ أن شعاعين يقعان بالضرورة في مستوى، أي إذا

تأملنا ثلاث نقاط A و B و C بحيث يكون $\vec{u} = \overrightarrow{AB}$ و $\vec{v} = \overrightarrow{AC}$ ، فيوجد على الأقل مستوى P يحوي النقاط A و B و C ، وتكون واحدة الطول في P هي نفسها في الفراغ، وهكذا

يتفق تعريف الجداء السلمي للشعاعين \overrightarrow{AC} و \overrightarrow{AB} في الفراغ مع تعريف الجداء السلمي لهذين الشعاعين في المستوي P . ينتج من ذلك أن العبارات الآتية للجداء السلمي، التي جرى إثبات صحتها في المستوي، تبقى صحيحة في الفراغ:

■ إذا كان α قياساً للزاوية الهندسية للشعاعين \vec{u} و \vec{v} كان $\vec{u} \cdot \vec{v} = \|\vec{u}\| \cdot \|\vec{v}\| \cos \alpha$ وعلى

$$\text{وجه الخصوص } \overrightarrow{AB} \cdot \overrightarrow{AB} = \|\overrightarrow{AB}\|^2 = AB^2$$



■ وإذا كانت H هي المسقط القائم في المستوي P للنقطة

C على المستقيم (AB) كان

$$\vec{u} \cdot \vec{v} = \overrightarrow{AB} \cdot \overrightarrow{AC} = \overrightarrow{AB} \cdot \overrightarrow{AH}$$

2.2. العبارة التحليلية للجداء السلمي

مبرهنة 3

نفترض أن مركبات الشعاعين \vec{u} و \vec{v} في معلم متجانس هي (x, y, z) و (x', y', z') بالترتيب،

$$\text{عندئذ: } \vec{u} \cdot \vec{v} = xx' + yy' + zz'$$

الإثبات

ضمن شروط المبرهنة لدينا

$$\|\vec{v}\|^2 = x'^2 + y'^2 + z'^2 \quad \text{و} \quad \|\vec{u}\|^2 = x^2 + y^2 + z^2$$

و

$$\begin{aligned} \|\vec{u} + \vec{v}\|^2 &= (x + x')^2 + (y + y')^2 + (z + z')^2 \\ &= x^2 + y^2 + z^2 + x'^2 + y'^2 + z'^2 + 2xx' + 2yy' + 2zz' \end{aligned}$$

إذن

$$\vec{u} \cdot \vec{v} = xx' + yy' + zz'$$

تفيد المبرهنة السابقة في إثبات صحة قواعد الحساب التي تُماثل نظيراتها في المستوي دون عناء.

المبرهنة الآتية تلخص هذه القواعد:

مبرهنة 4

أياً كانت الأشعة \vec{u} و \vec{v} و \vec{w} والأعداد الحقيقية a و b كان

$$\vec{u} \cdot (\vec{v} + \vec{w}) = \vec{u} \cdot \vec{v} + \vec{u} \cdot \vec{w} \quad \text{②} \quad \vec{u} \cdot \vec{v} = \vec{v} \cdot \vec{u} \quad \text{①}$$

$$(\vec{u} + \vec{v}) \cdot \vec{w} = \vec{u} \cdot \vec{w} + \vec{v} \cdot \vec{w} \quad \text{④} \quad (a\vec{u}) \cdot (b\vec{v}) = ab(\vec{u} \cdot \vec{v}) \quad \text{③}$$

الإثبات

متروك تمريناً للقارئ.

حساب جداء سلمي دون معلّم

مثال

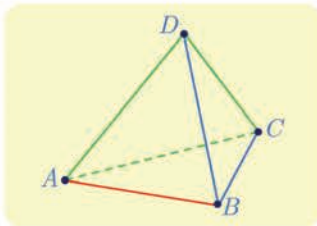
① $ABCD$ رباعي وجوه منتظم. كل وجه فيه مثلث متساوي الأضلاع طول ضلعه a . احسب

$$\vec{AB} \cdot \vec{AC} \quad \text{و} \quad \vec{AB} \cdot \vec{AD} \quad \text{و} \quad \vec{AB} \cdot \vec{CD}$$

② $ABCDEFGH$ مكعب طول ضلعه a . احسب $\vec{AE} \cdot \vec{AF}$ و $\vec{AE} \cdot \vec{CH}$ و $\vec{AE} \cdot \vec{AG}$

$$\text{و} \quad \vec{AF} \cdot \vec{HC}$$

الحل

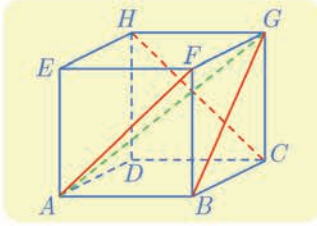


$$\text{① أولاً، لدينا } \vec{AB} \cdot \vec{AC} = AB \cdot AC \cos \widehat{BAC} = a^2 \cos \frac{\pi}{3} = \frac{a^2}{2}$$

$$\text{وبالمثل } \vec{AB} \cdot \vec{AD} = \frac{a^2}{2} \text{، وأخيراً، لأن } \vec{CD} = \vec{AD} - \vec{AC} \text{ استنتجنا أن}$$

$$\vec{AB} \cdot \vec{CD} = \vec{AB} \cdot (\vec{AD} - \vec{AC})$$

$$= \vec{AB} \cdot \vec{AD} - \vec{AB} \cdot \vec{AC} = \frac{a^2}{2} - \frac{a^2}{2} = 0$$



② لأن E هي المسقط القائم للنقطة F على (AE) استنتجنا أن

$$\overrightarrow{AE} \cdot \overrightarrow{AF} = \overrightarrow{AE} \cdot \overrightarrow{AE} = a^2$$

■ ولأن $CH = BE$ هي المسقط القائم للنقطة B على (AE)

$$\overrightarrow{AE} \cdot \overrightarrow{CH} = \overrightarrow{AE} \cdot \overrightarrow{BE} = \overrightarrow{AE} \cdot \overrightarrow{AE} = a^2$$

■ ولأن H هي المسقط القائم للنقطة G على المستوي (ADH) ، و E هي المسقط القائم للنقطة H

$$\overrightarrow{AE} \cdot \overrightarrow{AG} = \overrightarrow{AE} \cdot \overrightarrow{AH} = \overrightarrow{AE} \cdot \overrightarrow{AE} = a^2$$

$$\overrightarrow{AF} \cdot \overrightarrow{HC} = \overrightarrow{AF} \cdot \overrightarrow{EB} = 0$$

حساب جداء سلمي في معلم

مثال

نُعطى في معلم متجانس $(O; \vec{i}, \vec{j}, \vec{k})$ النقاط $A(1,0,0)$ و $B(0,1,0)$ و $C(0,0,1)$ و $D(0,2,0)$

و $E(1,1,1)$. النقطة M هي منتصف $[AB]$. احسب $\overrightarrow{AB} \cdot \overrightarrow{AC}$ و $\overrightarrow{AE} \cdot \overrightarrow{AD}$ و $\overrightarrow{OE} \cdot \overrightarrow{CM}$

الحل

■ مركبات الشعاعين \overrightarrow{AB} و \overrightarrow{AC} هي $(-1,0,1)$ و $(-1,1,0)$ بالترتيب إذن $\overrightarrow{AB} \cdot \overrightarrow{AC} = 1$

■ مركبات الشعاعين \overrightarrow{AE} و \overrightarrow{AD} هي $(0,1,1)$ و $(-1,2,0)$ بالترتيب إذن $\overrightarrow{AE} \cdot \overrightarrow{AD} = 2$

■ لما كان $M(\frac{1}{2}, \frac{1}{2}, 0)$ استنتجنا أن مركبات الشعاعين \overrightarrow{CM} و \overrightarrow{OE} هي $(1,1,1)$ و $(\frac{1}{2}, \frac{1}{2}, -1)$ بالترتيب

$$\overrightarrow{OE} \cdot \overrightarrow{CM} = 0$$

تدريب

نُعطى في هذه الفقرة معلماً متجانساً $(O; \vec{i}, \vec{j}, \vec{k})$.

① احسب $\vec{u} \cdot \vec{v}$ و $\vec{v} \cdot \vec{w}$ و $\vec{w} \cdot \vec{u}$ في الحالتين :

$$\vec{u}(1 + \sqrt{2}, \sqrt{3}, 0) \text{ و } \vec{v}(1 - \sqrt{2}, 0, -1) \text{ و } \vec{w}(0, -\sqrt{3}, 1) \quad ①$$

$$\vec{u}(\frac{2}{3}, -\frac{1}{6}, \frac{1}{2}) \text{ و } \vec{v}(\frac{1}{2}, -2, \frac{2}{3}) \text{ و } \vec{w}(1, 0, 1) \quad ②$$

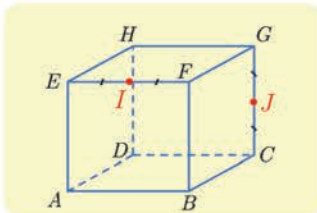
② إذا علمت أن تنظيم \vec{u} يساوي 5 ونظيم \vec{v} يساوي 3 وأن $\vec{u} \cdot \vec{v} = -4$ فاحسب المقادير الآتية:

$$\vec{v} \cdot (\vec{u} - \vec{v}) \quad ② \quad \vec{u} \cdot (\vec{u} + \vec{v}) \quad ①$$

$$(\vec{u} + \vec{v}) \cdot (\vec{u} - 3\vec{v}) \quad ④ \quad (2\vec{u}) \cdot (\vec{v} - 3\vec{u}) \quad ③$$

③ نتأمل هرمأ $S-ABCD$ قاعدته مربع ورأسه S . وطول كل حرف من حروفه وأضلاع قاعدته

يساوي a . احسب $\overrightarrow{SA} \cdot \overrightarrow{AC}$ و $\overrightarrow{SA} \cdot \overrightarrow{SC}$ و $\overrightarrow{SA} \cdot \overrightarrow{SB}$



④ $ABCDEF GH$ مكعب طول ضلعه a . فيه I منتصف $[EF]$ و J

منتصف $[CG]$. احسب

$$\overrightarrow{JH} \cdot \overrightarrow{JD} \text{ و } \overrightarrow{EI} \cdot \overrightarrow{IA} \text{ و } \overrightarrow{EI} \cdot \overrightarrow{GJ} \text{ و } \overrightarrow{EI} \cdot \overrightarrow{FC} \text{ و } \overrightarrow{EI} \cdot \overrightarrow{EA}$$

3 التعامد في الفراغ

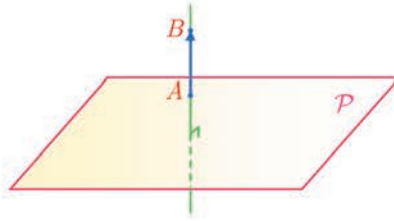
1.3. الأشعة المتعامدة

تعريف 3

- في الفراغ، يتعامد شعاعان \vec{u} و \vec{v} إذا وفقط إذا كان $\vec{u} \cdot \vec{v} = 0$.
- وهذا يعني أنه في حالة $\vec{u} = \overrightarrow{AB} \neq \vec{0}$ و $\vec{v} = \overrightarrow{CD} \neq \vec{0}$ فإن تعامد الشعاعين \vec{u} و \vec{v} يُكافئ تعامد المستقيمين (AB) و (CD) .
- وأتة إذا كان $\vec{u}(x, y, z)$ و $\vec{v}(x', y', z')$ في **معلم متجانس** فإن تعامد الشعاعين \vec{u} و \vec{v} يُكافئ $xx' + yy' + zz' = 0$.

2.3. الشعاع الناظم على مستوٍ

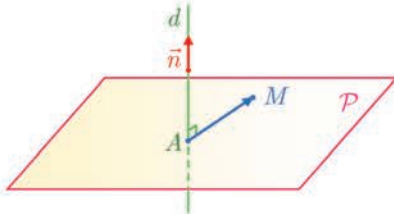
تعريف 4



تعريفًا، القول إن الشعاع غير الصفري \overrightarrow{AB} شعاع ناظم على المستوي P يعني أن المستقيم (AB) عمودي على P . أي يكون $\vec{n} \neq \vec{0}$ شعاعاً ناظماً على المستوي P إذا وفقط إذا كان منحاه عمودياً على P .

3.3. تعامد مستقيم ومستوٍ

ليكن d مستقيماً شعاع توجيهه \vec{n} ، ولتكن A نقطة من d . المستوي P العمودي على d في A هو مجموعة النقاط M التي تحقق أن المستقيم (AM) عمودي على d (بالإضافة إلى النقطة A ذاتها). إذن P هو مجموعة النقاط M التي تحقق أن الشعاع \overrightarrow{AM} عمودي على \vec{n} . فالشعاع \vec{n} هو إذن شعاع ناظم على P .



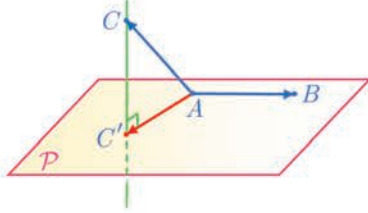
وعليه:

المستوي المار بالنقطة A ويقبل \vec{n} شعاعاً ناظماً هو مجموعة النقاط M التي تحقق $\overrightarrow{AM} \cdot \vec{n} = 0$

تكريساً للفهم

لحساب $\overrightarrow{AB} \cdot \overrightarrow{AC}$ يمكن استبدال المسقط القائم للشعاع \overrightarrow{AC} على مستوي يحوي (AB) بالشعاع $\overrightarrow{AC'}$.

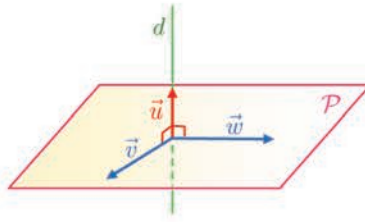
لنفترض أن A و B نقطتان من مستوي P ، والنقطة C لا تنتمي إلى المستوي P . عندئذ يوجد مستقيم وحيد عمودي على P ويمر بالنقطة C . يقطع هذا المستقيم المستوي P في نقطة C' ، نسميها المسقط القائم للنقطة C على المستوي P . ويكون



$$\overrightarrow{AB} \cdot \overrightarrow{AC} = \overrightarrow{AB} \cdot (\overrightarrow{AC'} + \overrightarrow{C'C}) = \overrightarrow{AB} \cdot \overrightarrow{AC'} + \overrightarrow{AB} \cdot \overrightarrow{C'C}$$

ولكن المستقيمين (AB) و (CC') متعامدان، إذن $\overrightarrow{AB} \cdot \overrightarrow{C'C} = 0$ و $\overrightarrow{AB} \cdot \overrightarrow{AC} = \overrightarrow{AB} \cdot \overrightarrow{AC'}$

الخلاصة: لا تتغير قيمة الجداء السلمي لشعاعين \overrightarrow{AB} و \overrightarrow{AC} عند استبدال المسقط القائم للشعاع \overrightarrow{AC} على المستقيم (AB) أو على مستوي يحوي (AB) بالشعاع $\overrightarrow{AC'}$.



كيف نترجم شعاعياً تعامد مستقيم مع مستوي؟

إذا كان الشعاع الموجه \vec{u} لمستقيم d عمودياً على زوج (\vec{v}, \vec{w}) من الأشعة المستقلة خطياً في مستوي P ، كان d عمودياً على P .

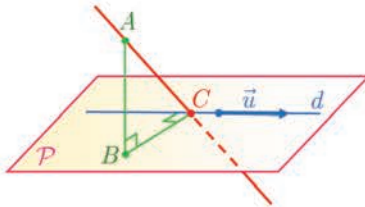
كيف نعين الأوضاع النسبية لمستويين اعتماداً على الأشعة الناطمة؟

ليكن \vec{n}_1 شعاعاً ناظماً على مستوي P ، وليكن \vec{n}_2 شعاعاً ناظماً على مستوي Q .

- إذا كان \vec{n}_1 و \vec{n}_2 مرتبطين خطياً كان المستويان P و Q متوازيين (أو منطبقين) وإذا كانا غيرمرتبطين خطياً كان المستويان متقاطعين.
- وإذا كان \vec{n}_1 و \vec{n}_2 متعامدين كان المستويان P و Q متعامدين، والعكس صحيح أيضاً.

تعامد مستقيمين (خاصة الأعمدة الثلاثة)

مثال



المستقيم d محتوي في المستوي P . والنقطة B هي المسقط القائم للشعاع \overrightarrow{AC} على P . والنقطة A خارج P على P . والمسقط القائم للنقطة B على d . عندئذ المستقيمان (AC) و d متعامدان.

لإثبات تعامد مستقيمين يمكننا إثبات تعامد شعاع موجه لأحدهما مع شعاع موجه للآخر.



الحل

ليكن \vec{u} شعاعاً موجهاً للمستقيم d ، \overrightarrow{BC} هو المسقط القائم للشعاع \overrightarrow{AC} على المستوي P ، والمستقيم (BC) عمودي على d إنشاءً إذن $\overrightarrow{BC} \cdot \vec{u} = \overrightarrow{AC} \cdot \vec{u} = 0$. وهي النتيجة المرجوة.

نُعطي في هذه الفقرة معلماً متجانساً $(O; \vec{i}, \vec{j}, \vec{k})$.

① بين فيما يأتي بين إذا كان الشعاعان \vec{u} و \vec{v} متعامدين أوعين الوسيط α ليكونا كذلك.

$$\vec{v}\left(-\frac{2}{5}, 2, 3\right), \quad \vec{u}\left(\frac{5}{4}, -\frac{3}{2}, \frac{1}{2}\right) \quad \text{①}$$

$$\vec{v}\left(-\sqrt{2}, 1, 1\right), \quad \vec{u}\left(\sqrt{2}, 1 + \sqrt{2}, 1 - \sqrt{2}\right) \quad \text{②}$$

$$\vec{v}\left(-\frac{2}{5}, 3, \alpha\right), \quad \vec{u}\left(2, -\frac{1}{2}, 5\right) \quad \text{③}$$

$$\vec{v}\left(\alpha, 2\alpha, \frac{1}{2}\right), \quad \vec{u}\left(\sqrt{3}, \frac{1}{3}, 2\right) \quad \text{④}$$

② نتأمل النقطتين $A(2, -5, 1)$ و $B(0, 2, 6)$. والمستقيم d المار بالنقطة $C(-2, 3, 1)$ وشعاع توجيهه

$$\vec{u} = -4\vec{i} + \vec{j} - 3\vec{k}. \text{ أثبت أن } d \text{ عمودي على المستقيم } (AB).$$

③ أطوال الأشعة \vec{u} و \vec{v} و $\vec{u} + \vec{v}$ هي بالترتيب 6 و 8 و 10. أياكون الشعاعان \vec{u} و \vec{v} متعامدين؟

④ نتأمل شعاعين \vec{u} و \vec{v} ، ونفترض أن $\vec{u} + \vec{v}$ و $\vec{u} - \vec{v}$ متعامدان. أثبت أن للشعاعين \vec{u} و \vec{v} الطول نفسه.

4 المعادلة الديكارتية لمستوى

1.4. المعادلة الديكارتية لمستوى

مبرهنة 5

في معلم متجانس.

- ① لكل مستوى \mathcal{P} معادلة ديكارتية من الشكل $ax + by + cz + d = 0$ حيث الأعداد a و b و c ليست جميعها معدومة. وعندها يكون $\vec{n}(a, b, c)$ شعاعاً ناظماً على \mathcal{P} .
- ② وبالعكس، إذا أعطيت الأعداد a و b و c و d ، ولم تكن a و b و c جميعها معدومة، فإن مجموعة النقاط $M(x, y, z)$ التي تحقق $ax + by + cz + d = 0$ هي مستوى يقبل $\vec{n}(a, b, c)$ شعاعاً ناظماً.

الإثبات

- ① ليكن \mathcal{P} مستوياً وليكن $\vec{n}(a, b, c)$ شعاعاً ناظماً عليه، في هذه الحالة لا تكون الأعداد a و b و c معدومة معاً. لنختار نقطة $A(x_0, y_0, z_0)$ من \mathcal{P} . عندئذ يكون \mathcal{P} هو مجموعة النقاط $M(x, y, z)$ التي تحقق $\overrightarrow{AM} \cdot \vec{n} = 0$. وهذا يكافئ

$$a(x - x_0) + b(y - y_0) + c(z - z_0) = 0$$

أو

$$ax + by + cz + d = 0$$

وقد عرّفنا $d = -ax_0 - by_0 - cz_0$.

- ② وبالعكس، لنكن \mathcal{E} مجموعة النقاط $M(x, y, z)$ التي تحقق $ax + by + cz + d = 0$ ، حيث الأعداد a و b و c ليست معدومة معاً. عندها من الممكن دوماً اختيار أعداد x_0 و y_0 و z_0 تُحقق $d = -ax_0 - by_0 - cz_0$ (مثلاً في حالة $a \neq 0$ يمكننا أن نختار $x_0 = -d/a$ و $y_0 = z_0 = 0$). وهكذا تكون $A(x_0, y_0, z_0)$ نقطة من \mathcal{E} . والقول إن $M(x, y, z)$ نقطة ما من \mathcal{E} يكافئ:

$$a(x - x_0) + b(y - y_0) + c(z - z_0) = 0$$

أي إن الشعاع $\vec{n}(a, b, c)$ عمودي على الشعاع \overrightarrow{AM} . والنقطة M تنتمي إلى المستوي \mathcal{P} المار بالنقطة A ويقبل $\vec{n}(a, b, c)$ شعاعاً ناظماً. وهذا يثبت المطلوب.

2.4. بُعد نقطة عن مستو



مبرهنة 6

في معلم متجانس. لتكن $ax + by + cz + d = 0$ معادلة المستوي \mathcal{P} . عندئذ يُعطى بُعد النقطة

$$\text{dist}(A, \mathcal{P}) = \frac{|a\alpha + b\beta + c\gamma + d|}{\sqrt{a^2 + b^2 + c^2}}$$

بالعلاقة $A(\alpha, \beta, \gamma)$ عن المستوي \mathcal{P}

الإثبات

الشعاع $\vec{n}(a, b, c)$ شعاعٌ ناظم على المستوي \mathcal{P} ، وبوجه خاص $\vec{n} \neq \vec{0}$. لنرمز $A'(\alpha', \beta', \gamma')$ إلى المسقط القائم للنقطة A على \mathcal{P} ، المسافة المطلوبة هي $\text{dist}(A, \mathcal{P}) = AA'$. ولكن الشعاعين \vec{AA}' و \vec{n} مرتبطان خطياً إذن

$$(*) \quad \left| \vec{n} \cdot \overrightarrow{AA'} \right| = \|\vec{n}\| \cdot AA' = \sqrt{a^2 + b^2 + c^2} \cdot AA'$$

ولكن مركبات الشعاع $\overrightarrow{AA'}$ هي $(\alpha' - \alpha, \beta' - \beta, \gamma' - \gamma)$ إذن

$$\begin{aligned} \vec{n} \cdot \overrightarrow{AA'} &= a(\alpha' - \alpha) + b(\beta' - \beta) + c(\gamma' - \gamma) \\ &= a\alpha' + b\beta' + c\gamma' - a\alpha - b\beta - c\gamma \\ &= \underbrace{a\alpha' + b\beta' + c\gamma' + d}_0 - (a\alpha + b\beta + c\gamma + d) \\ &= -(a\alpha + b\beta + c\gamma + d) \end{aligned}$$

إذ استفدنا من وقوع النقطة $A'(\alpha', \beta', \gamma')$ في \mathcal{P} لنستنتج أن $a\alpha' + b\beta' + c\gamma' + d = 0$ وبالتعويض في (*) نجد

$$\text{dist}(A, \mathcal{P}) = \frac{|a\alpha + b\beta + c\gamma + d|}{\sqrt{a^2 + b^2 + c^2}}$$

إيجاد المعادلة الديكارتية لمستوي

مثال

نأمل، في معلم متجانس $(O; \vec{i}, \vec{j}, \vec{k})$ ، النقطة $A(2, 1, -3)$ و الشعاع $\vec{n}(1, 1, 2)$. أعط معادلة للمستوي \mathcal{P} المارّ بالنقطة A ويقبل \vec{n} شعاعاً ناظماً.

الحل

تنتمي النقطة $M(x, y, z)$ إلى المستوي المطلوب \mathcal{P} إذا وفقط إذا تحقّق الشرط $\overrightarrow{MA} \cdot \vec{n} = 0$. وهذا يكافئ

$$1 \times (x - 2) + 1 \times (y - 1) + 2 \times (z + 3) = 0$$

أو $x + y + 2z + 3 = 0$. وهي المعادلة المطلوبة.

تقاطع مستويين أو توازيهما

مثال

في الحالات الآتية نعطي المستويين P و Q ويُطلب معرفة إذا كانا متوازيين أو متقاطعين أو متعامدين.

$$Q : x + 2y - z + 1 = 0, \quad P : x - 4y + 7 = 0 \quad \textcircled{1}$$

$$Q : 2x - 4y + 6z = 0, \quad P : x - 2y + 3z - 1 = 0 \quad \textcircled{2}$$

$$Q : 2x + y - z + 1 = 0, \quad P : x + 2y + 4z - 5 = 0 \quad \textcircled{3}$$

الحل

① نلاحظ أن $\vec{n}_1(1, -4, 0)$ شعاع ناظم على P ، و $\vec{n}_2(1, 2, -1)$ شعاع ناظم على Q . الشعاعان \vec{n}_1 و \vec{n}_2 ليسا مرتبطين خطياً لأن مركباتهما ليست متناسبة، أي لا يوجد عدد حقيقي k يحقق $\vec{n}_1 = k\vec{n}_2$. إذن المستويان P و Q متقاطعان. ومن الطبيعي أن نتساءل إذا كانا متعامدين. فنحسب $\vec{n}_1 \cdot \vec{n}_2 = -7 \neq 0$ لنرى أن \vec{n}_1 و \vec{n}_2 ليسا متعامدين. فالمستويان P و Q غير متعامدين.

② هنا نجد أن المستويين P و Q متوازيين وغير منطبقين لأن المبدأ $O(0, 0, 0)$ ينتمي إلى Q ولا ينتمي إلى P .

③ في هذه الحالة نجد أن الشعاعين الناظمين على P و Q متعامدان فالمستويان المذكوران متعامدان.

تَدْرِبْ

يُعطى في هذه الفقرة معلماً متجانساً $(O; \vec{i}, \vec{j}, \vec{k})$.

① في كل من الحالات الآتية اكتب معادلة للمستوي المار بالنقطة A ويقبل الشعاع \vec{n} شعاعاً ناظماً:

$$\vec{n}(2, -3, -1), \quad A(\sqrt{2}, -2, 5) \quad \textcircled{2} \quad \vec{n}(1, -1, 0), \quad A(1, 0, 5) \quad \textcircled{1}$$

$$\vec{n}(\sqrt{3}, 2, 0), \quad A(0, -3, 0) \quad \textcircled{4} \quad \vec{n}\left(\frac{2}{3}, 4, -1\right), \quad A\left(\frac{1}{2}, 3, -1\right) \quad \textcircled{3}$$

② في كل من الحالات الآتية اكتب معادلة للمستوي Q المار بالنقطة A موازياً للمستوي P :

$$P : z = 2, \quad A(0, 0, 0) \quad \textcircled{2} \quad P : 2x - y + 3z = 4, \quad A(1, 0, 1) \quad \textcircled{1}$$

$$P : 5x - 3y + 4z = 8, \quad A(-1, 2, -3) \quad \textcircled{4} \quad P : x + y = 5, \quad A(0, 3, 0) \quad \textcircled{3}$$

③ ادرس تعامد كل زوج من المستويات الآتية:

$$R : 2x - 3y + 5z + 4 = 0 \quad \text{و} \quad Q : 6x - 11y - 9z - 5 = 0 \quad \text{و} \quad P : 7x + 3y - z - 1 = 0$$

④ في كل من الحالات الآتية بين إذا كان المستويان P و Q متقاطعين.

$$P : x - y + z = 0, \quad Q : x - y + z - 3 = 0 \quad \textcircled{1}$$

$$P : 2x + y + 5 = 0, \quad Q : 4x + 2y + z + 5 = 0 \quad \textcircled{2}$$

⑤ احسب بُعد النقطة $A(5, -3, 4)$ عن المستوي $P : 2x - y + 3z - 5 = 0$. وكذلك احسب بعد

$$النقطة $B(2, 2, 5)$ عن المستوي $Q : y - z = 0$$$

أفكار يجب تمثُّلها



■ بعد اختيار واحدة للأطوال في الفضاء. يجري التعبير عن الجداء السلمي لشعاعين \vec{u} و \vec{v} كما في حالة المستوي أي.

$$\vec{u} \cdot \vec{v} = \frac{1}{2} \left(\|\vec{u} + \vec{v}\|^2 - \|\vec{u}\|^2 - \|\vec{v}\|^2 \right) \quad \square$$

$$\vec{u} \cdot \vec{v} = \|\vec{u}\| \|\vec{v}\| \cos \alpha \quad \square$$

حيث α هي قياس الزاوية الهندسية للشعاعين \vec{u} و \vec{v} .

■ إذا كانت H المسقط القائم للنقطة C على المستقيم (AB) أو على مستو يحوي (AB) كان

$$\vec{AB} \cdot \vec{AC} = \vec{AB} \cdot \vec{AH}$$

■ تحليلياً إذا كان $\vec{u}(x, y, z)$ و $\vec{v}(x', y', z')$ في معلم متجانس كان $\vec{u} \cdot \vec{v} = xx' + yy' + zz'$.

■ كما في حالة المستوي، يفيد الجداء السلمي في الفراغ في مسائل التعمد وحساب المسافة وتمام جيب زاوية.

■ مفهوم الشعاع الناظم على مستو مفيد وأساسي، فهو يتيح التفسير الشعاعي لتعمد وتوازي المستقيمات والمستويات. وهو لا يكون معدوماً أبداً.

■ المستوي المار بالنقطة A ويقبل شعاعاً \vec{n} شعاعاً ناظماً هو مجموعة نقاط الفراغ M التي تحقق الشرط $\vec{AM} \cdot \vec{n} = 0$. وهذا الخاصة المميزة هي التي تفيد في كتابة المعادلة الديكارتية لمستو.

■ تذكر أن بُعد النقطة $A(\alpha, \beta, \gamma)$ عن مستو معادلته $ax + by + cz + d = 0$ يعطى بالعلاقة

$$\frac{|a\alpha + b\beta + c\gamma + d|}{\sqrt{a^2 + b^2 + c^2}}$$

منعكسات يجب امتلاكها.



■ إذا كانت $ax + by + cz + d = 0$ معادلة مستو فتذكر أن $\vec{n}(a, b, c)$ شعاع ناظم عليه. وأن كل نقطة $M(x, y, z)$ تحقق مركباتها معادلة المستوي تقع عليه.

■ التفسير الشعاعي للتعمد والتوازي.

■ لا تنس أن استعمال معلم متجانس مفيد في الإثبات. عندئذ نختار معلماً تكون فيه إحداثيات النقاط المفتاحية بسيطة.

أخطاء يجب تجنبها.



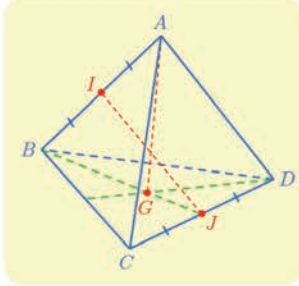
■ للتعامل مع مسائل المسافات أو التعمد، لا تختز معلماً كفيماً، بل، اختر، حصراً، معلماً متجانساً.

أنشطة

نشاط 1 خواص رباعي الوجوه المنتظم

رباعي الوجوه المنتظم هو مجسم له أربعة وجوه كل منها مثلث متساوي الأضلاع. نسمي حرفين متقابلين كل حرفين لا يشتركان برأس.

1 خواص عامة



لتكن $ABCD$ رباعي وجوه منتظم ولنضع $AB = a$.

① نهدف إلى إثبات أن كل حرفين متقابلين متعامدان، وأن المستقيم

الواصل بين منتصف حرفين متقابلين عمودي على كل منهما.

a. احسب $\overrightarrow{AB} \cdot \overrightarrow{AC}$ و $\overrightarrow{AB} \cdot \overrightarrow{BC}$ و $\overrightarrow{AB} \cdot \overrightarrow{AD}$.

b. أثبت تعامد المستقيمين (AB) و (CD) .

c. ماذا تستنتج بشأن المستقيمين (AC) و (BD) والمستقيمين (AD) و (BC) ؟

d. ليكن I منتصف $[AB]$ و J منتصف $[CD]$. نبيّن أن $\overrightarrow{IJ} = \frac{1}{2}\overrightarrow{AB} + \overrightarrow{BC} + \frac{1}{2}\overrightarrow{CD}$ ، واستنتج

أن المستقيم (IJ) عمودي على كل من المستقيمين (AB) و (CD) .

② في رباعي الوجوه $ABCD$ ، الارتفاع النازل من A هو المستقيم المار بالنقطة A عمودياً على المستوي (BCD) .

a. ليكن G مركز ثقل المثلث BCD . احسب $\overrightarrow{AG} \cdot \overrightarrow{CD}$ و $\overrightarrow{AG} \cdot \overrightarrow{BD}$ ، واستنتج أن (AG) هو الارتفاع النازل من A .

b. عيّن بقيّة الارتفاعات في رباعي الوجوه $ABCD$.

③ نسمي مركز رباعي الوجوه المنتظم $ABCD$ النقطة O مركز الأبعاد المتناسبة لرؤوس رباعي الوجوه وقد أسدنا إليها الأمثال ذاتها: $\overrightarrow{OA} + \overrightarrow{OB} + \overrightarrow{OC} + \overrightarrow{OD} = \vec{0}$.

a. أثبت أن النقاط A و O و G تقع على استقامة واحدة واحسب AG و AO .

b. أثبت أن O هو منتصف القطعة المستقيمة $[IJ]$.

c. احسب الأطوال OB و OI .

d. أثبت أن النقطة O متساوية البعد عن جميع رؤوس رباعي الوجوه.

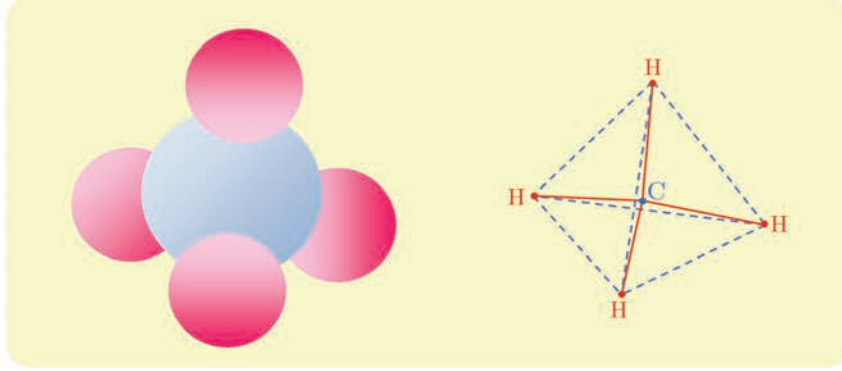
④ نهدف إلى حساب الزاوية الهندسية \widehat{AOB} .

a. احسب $\overrightarrow{OA} \cdot \overrightarrow{OB}$ بأسلوبين أحدهما بكتابة $(\overrightarrow{OI} + \overrightarrow{IA}) \cdot (\overrightarrow{OI} + \overrightarrow{IB})$.

b. استنتج قيمة تقريبية للزاوية \widehat{AOB} بالدرجات. وبين أن $\widehat{AOB} = \widehat{BOC} = \widehat{COD} = \widehat{DOA}$.

2 تطبيق في الكيمياء

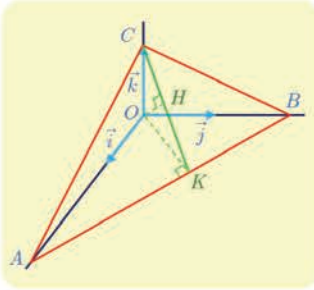
نجد أدناه تمثيلاً لجزيئة الميثان. تقع نوى ذرات الهيدروجين الأربع H على رؤوس رباعي وجوه منتظم. تقع نواة ذرة الكربون C داخل رباعي الوجوه على المسافة نفسها من كل واحدة من رؤوس رباعي الوجوه أي في مركزه. لتبسيط تمثيل جزيئة الميثان، نستعمل المخطّط المبين أدناه، حيث متّنا الرّوابط بخطوط متّصلة وحروف رباعي الوجوه بخطوط متقطّعة لتتذكّرها. هذا المخطّط هو الصيغة الستيريوكيميائية للميثان. أتاحت قياسات تحديد طول الرّوابط C-H بمقدار $1.09 \times 10^{-10} \text{ m}$.



- ① أعط تقريباً لقياس الزاوية بين رابطتين من النوع C-H.
- ② عيّن طول حرف رباعي الوجوه أي المسافة بين ذرتي هيدروجين.

نشاط 2 استعمال معلم

1 رباعي الوجوه ثلاثي الزوايا القائمة



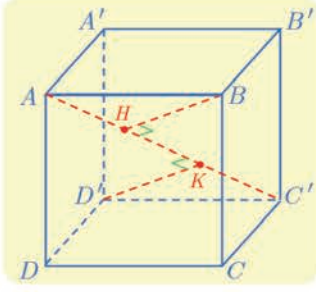
نتأمّل رباعي الوجوه $OABC$ ثلاثي الزوايا القائمة رأسه O ، أي إنّ المستقيمات (OA) و (OB) و (OC) متعامدة متئي متئي. لنفترض إضافة إلى ذلك أنّ $OC = 1$ و $OB = 2$ و $OA = 3$. نرمز بالرمز H إلى المسقط القائم للنقطة O على المستوي (ABC) .

- ① نريد إثبات أنّ H هي نقطة تلاقي ارتفاعات المثلث ABC . لنختر إذن معلماً متجانساً $(O; \vec{i}, \vec{j}, \vec{k})$ بوضع $\vec{i} = \frac{1}{3}\vec{OA}$ و $\vec{j} = \frac{1}{2}\vec{OB}$ و $\vec{k} = \vec{OC}$.

- a. احسب إحداثيات H .
 - b. احسب $\vec{OC} \cdot \vec{AB}$ و $\vec{OH} \cdot \vec{AB}$ واستنتج أنّ المستقيم (AB) عمودي على المستوي (OCH) .
 - c. احسب $\vec{AB} \cdot \vec{CH}$ و $\vec{AC} \cdot \vec{BH}$ واستنتج أنّ H هي نقطة تلاقي ارتفاعات المثلث ABC .
- ② أثبت أنّ المسقط القائم لكل من النقطتين C و O على المستقيم (AB) هو النقطة K ذاتها، واحسب إحداثيات K .

- b. أعط تقريباً لقياس الزاوية \widehat{OKC} .

2 بعض خواص المكعب



ليكن $ABCD A' B' C' D'$ مكعباً طول حرفه a . النّقطة H هي المسقط القائم للرأس B على المستقيم (AC') . نريد إثبات أنّ النّقطة H هي أيضاً المسقط القائم لكلّ من A' و D على المستقيم (AC') .

سنستعمل المعلم المتجانس $(D'; \vec{i}, \vec{j}, \vec{k})$ حيث

$$\overrightarrow{D'D} = a\vec{i} \text{ و } \overrightarrow{D'C'} = a\vec{j} \text{ و } \overrightarrow{D'A'} = a\vec{k}$$

1 اكتب في هذا المعلم إحداثيات رؤوس المكعب.

2 لحساب (x, y, z) إحداثيات النّقطة H :

a . اكتب بدءاً من المساواة $\overrightarrow{BH} \cdot \overrightarrow{AC'} = 0$ ، علاقة بين x و y و z و a .

b . اكتب علاقة بين x و y و z و a و λ حيث λ معرفة بالعلاقة $\overrightarrow{AH} = \lambda \overrightarrow{AC'}$. واستنتج قيمة λ ثمّ احداثيات H .

3 لإثبات أنّ المسقط القائم للنّقطة A' على (AC') هي النّقطة H ذاتها، يكفي أن نثبت أنّ $(A'H)$ عمودي على (AC') . أثبت تعامد الشعاعين $\overrightarrow{AC'}$ و $\overrightarrow{A'H}$.

4 أثبت أنّ المسقط القائم للنّقطة D على (AC') هي النّقطة H ذاتها.

5 لتكن K المسقط القائم للنّقطة D' على (AC') .

a . ماذا نقول عن الطول $C'K$ ؟

b . حدّد موقع K على المستقيم (AC') .

c . ما هي النّقاط الأخرى من المكعب التي مسقطها القائم على (AC') هي النّقطة K ذاتها.

تمرينات ومساائل

1 تُعطى معلماً متجانساً في المستوي.

① بين أزواج الأشعة المتعامدة من بين الأشعة الآتية:

$$\vec{s}\left(2, -\frac{4}{5}\right) \text{ و } \vec{t}\left(\frac{1}{2}, -\frac{1}{5}\right) \text{ و } \vec{w}\left(-\frac{1}{2}, \frac{1}{5}\right) \text{ و } \vec{v}(-2, -5) \text{ و } \vec{u}(2, 5)$$

② في الحالتين الآتيتين اكتب معادلة لمحور القطعة المستقيمة $[AB]$:

$$B(-1, 2), \quad A(4, 1) \quad \text{①}$$

$$B(-2, \frac{1}{3}), \quad A(-5, 3) \quad \text{②}$$

③ نتأمل النقاط $A(-5, 2)$ و $B(1, -1)$ و $C(-3, 3)$ و $E(-\frac{9}{4}, -1)$. أتكون النقطة E متساوية البعد عن المستقيمتين التي تولفها أضلاع المثلث ABC ؟

2 $ABCD$ مربع. I منتصف $[AB]$ و J منتصف $[BC]$. أثبت أن المستقيمتين (DJ) و (CI) متعامدان.

3 تُعطى معلماً متجانساً في الفراغ.

① بين في كل من الحالتين الآتيتين إذا كان الشعاعان \vec{u} و \vec{v} متعامدين:

$$\vec{v}\left(2, -\frac{3}{2}, 1\right), \quad \vec{u}(1, -2, 5) \quad \text{①}$$

$$\vec{v}(\sqrt{2}, \sqrt{3}, 1), \quad \vec{u}(\sqrt{2}, \sqrt{3}, 0) \quad \text{②}$$

② نتأمل النقاط $A(4, 1, -2)$ و $B(-1, 2, 4)$ و $C(0, 2, -5)$ و $D(1, -2, -\frac{7}{2})$. ونعرّف M

منتصف القطعة المستقيمة $[AB]$. احسب

$$\vec{AB} \cdot \vec{AC} \text{ و } \vec{AB} \cdot \vec{CD} \text{ و } \vec{DB} \cdot \vec{AC} \text{ و } \vec{MB} \cdot \vec{CD}$$

③ بين في كل من الحالات الآتية إذا كان المستويان \mathcal{P} و \mathcal{Q} متعامدين:

$$\mathcal{Q} : x + 2y + z - 3 = 0, \quad \mathcal{P} : x + 2y - 5z + 7 = 0 \quad \text{①}$$

$$\mathcal{Q} : y - 2z + 3 = 0, \quad \mathcal{P} : x - 3y + 2 = 0 \quad \text{②}$$

④ احسب في كل من الحالتين الآتيتين بُعد النقطة A عن المستوي \mathcal{P} :

$$\mathcal{P} : x + y - 2z + 4 = 0, \quad A(0, \sqrt{2}, 1) \quad \text{①}$$

$$\mathcal{P} : 3x + y - \frac{z}{2} + 7 = 0, \quad A(5, -2, 0) \quad \text{②}$$

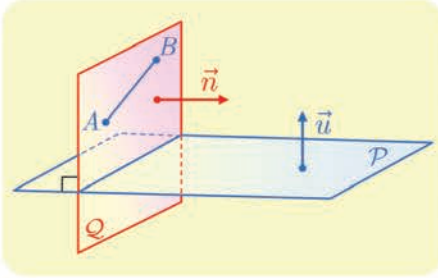


لنتعلم البحث معاً

4 مسنوبات متعامدة

نتأمل، في المعلم المتجانس $(O; \vec{i}, \vec{j}, \vec{k})$ ، النقطتين الآتيتين: $A(1, -1, 2)$ و $B(2, 0, 4)$ والمستوي P الذي معادلته $x - y + 3z - 4 = 0$. جد معادلةً للمستوي Q العمودي على P ويمرّ بالنقطتين A و B .

نحو الحل



نريد تعيين معادلة لمستوي Q مار بنقطة (بل اثنتين). وإذا كنا نعرف شعاعاً ناظماً $\vec{n}(a, b, c)$ على Q استطعنا تعيين المستوي. أتوجد فرضيات في المسألة تفيد في تعيين \vec{n} ؟ المستويان P و Q متعامدان فرضاً إذن يكون كل شعاع ناظم \vec{u} على P شعاعاً عمودياً على \vec{n} ، كما إنّ المستقيم (AB) محتوي في Q فالشعاع \overrightarrow{AB} عمودي أيضاً على \vec{n} .

1. أعط مركبات شعاع ناظم \vec{u} على P .
2. علّل صحة المساواتين $\vec{u} \cdot \vec{n} = 0$ و $\overrightarrow{AB} \cdot \vec{n} = 0$.

لدينا إذن جملة المعادلتين

$$\begin{cases} a - b + 3c = 0 \\ a + b + 2c = 0 \end{cases}$$

لا تكفي هاتان المعادلتان لتعيين قيم a و b و c ، وهذا ليس مفاجئاً لأننا نعلم أنه يوجد عدد لانهائي من الأشعة النازمة على مستوي. ولأنه يكفي تعيين ثلاثية واحدة (a, b, c) تحقق الجملة، يمكننا مثلاً أن نختار قيمة إحدى المركبات. فمثلاً لنضع $c = 2$.

1. أثبت في هذه الحالة أن $a = -5$ ، $b = 1$.
2. تحقق أن $\vec{n}(-5, 1, 2)$ شعاع ناظم على Q .
3. اكتب معادلة للمستوي Q .

أنجز الحل واكتبه بلغة سليمة.

5 بُعد نقطة عن مستقيم في الفراغ

في معلم متجانس $(O; \vec{i}, \vec{j}, \vec{k})$ ، لدينا النقطة $A(3, -1, 2)$ والمستويان P و Q :

$$P: 2x - y + z - 4 = 0$$

$$Q: x + y + 2z - 5 = 0$$

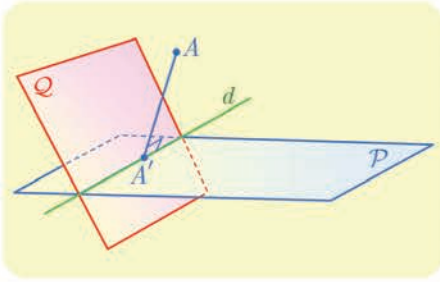
أثبت تقاطع المستويين P و Q ، واحسب بُعد A عن المستقيم d الذي يمثل فصلهما المشترك.

نحو الحل

للتحقق من تقاطع المستويين P و Q ، نستعمل الأشعة الناقمة على كل منهما.

1. عيّن شعاعاً ناظماً \vec{n}_1 على P ، وشعاعاً ناظماً \vec{n}_2 على Q .

2. استنتج أن P و Q متقاطعان.



بُعد A عن d يساوي بُعد A عن A' حيث A' هي

المسقط القائم للنقطة A على d . بالطبع إذا وقعت A

على d كان $A = A'$ ومن ثم $AA' = 0$. نتيقن أن

A ، في الحقيقة، لا تقع على أي من المستويين

P أو Q .

إحدى الطرائق لحساب AA' تتمثل في تعيين إحداثيات A' . تنتمي هذه النقطة إلى كل من

P و Q بإحداثياتها تحقق معادلتيهما. بالإضافة إلى ما سبق المستقيم (AA') عمودي على d ،

فإذا كان \vec{u} شعاعاً موجهاً للمستقيم d فإن A' هي النقطة الوحيدة من d التي تُحقق

$\vec{AA'} \cdot \vec{u} = 0$. علينا إذن تعيين شعاع \vec{u} يوجه المستقيم d ، ولهذا نبحث عن نقطتين B و C

من d .

1. تذكر أن $M(x, y, z)$ تقع على d . إذا تحقق الشرطان

$$2x - y + z - 4 = 0 \text{ و } x + y + 2z - 5 = 0$$

2. مثلاً لتعيين نقطة $B(x, y, z)$ من d . نختار $x = 0$ ونعيّن y و z الموافقتين. ولتعيين

$C(x, y, z)$ من d . نختار $x = 1$ ونعيّن y و z . وهذا يتيح لنا تعيين $\vec{BC} = \vec{u}$.

3. أثبت أن (a, b, c) إحداثيات A' تُحقق جملة المعادلات

$$\begin{cases} 2a - b + c - 4 = 0 & (1) \\ a + b + 2c - 5 = 0 & (2) \\ a + b - c = 0 & (3) \end{cases}$$

4. استنتج من (2) و (3) أن $3c = 5$ ثم احسب إحداثيات A' ، واستنتج المطلوب.

أنجز الحل واكتبه بلغة سليمة.

6 تقاطع مستقيم ومستوي

في معلم متجانس $(O; \vec{i}, \vec{j}, \vec{k})$ ، نتأمل نقطتين $A(2, -1, 0)$ و $B(-1, 3, 5)$ والمستوي P الذي يقبل معادلة $2x - 3y + z - 5 = 0$. أثبت أن المستقيم (AB) يقطع المستوي P وعين إحداثيات C نقطة التقاطع.

نحو الحل

لإثبات وجود النقطة C علينا إثبات أن المستقيم (AB) لا يوازي المستوي P . أعط شعاعاً موجّهاً للمستقيم (AB) وشعاعاً ناظماً على P . واستنتج وجود C .

علينا إذن تعيين (a, b, c) إحداثيات النقطة C .

1. علّل وجود ثابت k يحقق $\vec{AC} = k\vec{AB}$.

2. استنتج عبارات a و b و c بدلالة k .

3. عين k اعتماداً على وقوع C في P . واستنتج إحداثيات C .

أنجز الحل واكتبه بلغة سليمة.

7 مستقيم عمودي على مستوي

في معلم متجانس $(O; \vec{i}, \vec{j}, \vec{k})$ ، نتأمل نقطتين $A(2, 5, 3)$ و $B(-1, 0, -1)$ ، ومستويًا P يقبل $\vec{u}(1, 1, -2)$ و $\vec{v}(3, -1, -1)$ شعاعين موجّهين. أثبت أن المستقيم (AB) عمودي على المستوي P .

نحو الحل

يكفي لإثبات المطلوب أن نبرهن أن الشعاع \vec{AB} عمودي على شعاعين غير مرتبطين خطياً من المستوي P .

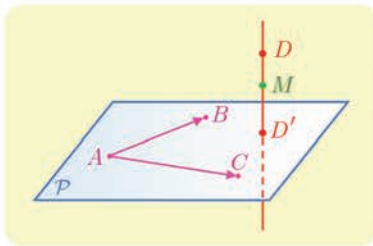
1. أعط شعاعاً \vec{w} موجّهاً للمستقيم (AB) . وتيقن أن الشعاعين \vec{u} و \vec{v} غير مرتبطين خطياً.

2. أثبت أن \vec{w} عمودي على كل من \vec{u} و \vec{v} .

أنجز الحل الآخر واكتبه بلغة سليمة.

8 المسقط القائم على مستوي

في معلم متجانس $(O; \vec{i}, \vec{j}, \vec{k})$ ، نتأمل النقاط $A(1, 2, 0)$ و $B(0, 0, 1)$ و $C(1, 5, 5)$. يُطلب تعيين D' المسقط القائم للنقطة $D(-11, 9, -4)$ على المستوي (ABC) .



لنرسم شكلاً مبسطاً. كيف نجد إحداثيات النقطة D' ؟ نعلم أنّ المستقيم (DD') عمودي على المستوي (ABC) ، فهو من ثمّ عمودي على جميع مستقيمت هذا المستوي. الفكرة، إذن، تكمن في التعبير شعاعياً عن هذا التّعامد.

1. اشرح لماذا $M(x, y, z)$ تنتمي إلى (DD') إذا وفقط إذا كان $\overrightarrow{DM} \cdot \overrightarrow{AC} = 0$ و $\overrightarrow{DM} \cdot \overrightarrow{AB} = 0$

2. اكتب تحليلياً الشرطين السابقين.

3. استنتج أنّ (DD') هو مجموعة النقاط $M\left(x, \frac{62-5x}{13}, \frac{3x-19}{13}\right)$ حيث x عدد حقيقي.

علينا كتابة معادلة للمستوي (ABC) لأنّ D' هي النقطة M من (DD') التي تنتمي إلى هذا المستوي. ولكن أي شعاع موجّه للمستقيم (DD') هو شعاع ناظم على (ABC) .

1. بإعطاء قيمتين مختلفتين للمتحوّل x أعط إحداثيات نقطتين مختلفتين من (DD') .

2. استنتج مركبات شعاع موجّه للمستقيم (DD') ، أي شعاع ناظم على (ABC) .

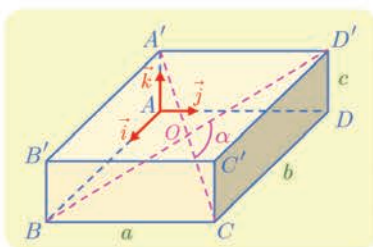
3. اكتب معادلة للمستوي (ABC) .

4. عيّن قيمة x التي تجعل النقطة M من 3. عنصراً من (ABC) . استنتج إحداثيات D' .

أنجز الحل الآخر واكتبه بلغة سليمة.



قُدماً إلى الأمام



9 متوازي مستطيلات. يتقاطع قطراه $ABCD A'B'C'D'$ متوازي مستطيلات. يتقاطع قطراه AC' و BD' في O . نضع $\alpha = \widehat{COD'}$ ، ونفترض أنّ $BC = a$ و $CD = b$ و $DD' = c$. نهدف في هذه المسألة إلى حساب $\cos \alpha$. نختار معلماً متجانساً $(A, \vec{i}, \vec{j}, \vec{k})$ بحيث يكون \overrightarrow{AB} و \vec{i} مرتبطين خطياً، و \overrightarrow{AD} و \vec{j} مرتبطين خطياً، وكذلك $\overrightarrow{AA'}$ و \vec{k} مرتبطين خطياً.

① أعط إحداثيات جميع رؤوس متوازي المستطيلات وإحداثيات مركزه O .

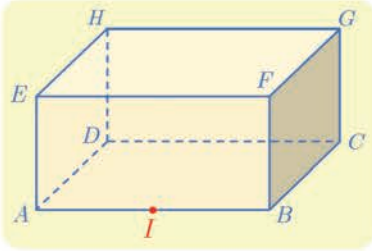
② أثبت أنّ $\cos \alpha = \frac{a^2 - b^2 - c^2}{a^2 + b^2 + c^2}$. ادرس على وجه الخصوص حالة المكعب.

10 في الحالتين الآتيتين، احسب بُعد A عن المستوي P :

① $A(1,2,-3)$ و $P : 2x - y + z + 1 = 0$

② $A(-1,1,1)$ و P هو المستوي المارّ بالنقاط $B(0,1,0)$ و $C(-1,1,0)$ و $D(-1,-2,-3)$

11 متوازي مستطيلات، فيه $AB = 2$ و $BC = GC = 1$. لتكن النقطة I



منتصف $[AB]$.

① أعط معلماً متجانساً مبدؤه A ويمكن التعبير عن إحداثيات

رؤوس متوازي المستطيلات فيه ببساطة.

② اكتب معادلة للمستوي (IFH) .

③ احسب بُعد G عن المستوي (IFH) .

④ احسب بُعد G عن المستقيم (IH) . أينتمي المسقط القائم للنقطة G على المستوي (IFH)

إلى المستقيم (IH) ؟

12 في معلم متجانس $(O; \vec{i}, \vec{j}, \vec{k})$ ، لدينا النقطة $A(2,2,-1)$ ، والمستويين P و Q :

$$P : x - y + z = 0$$

$$Q : 3x + z - 1 = 0$$

احسب بُعد A عن المستقيم d الذي يمثل الفصل المشترك للمستويين P و Q .

13 نتأمل في معلم متجانس $(O; \vec{i}, \vec{j}, \vec{k})$ ، لدينا النقطة $A(2,1,2)$ ، والمستويين P و Q :

$$P : x + y - 2z - 1 = 0$$

$$Q : x + y + z = 0$$

① أثبت أن المستويين P و Q متعامدان.

② احسب بُعد A عن كل من المستويين P و Q .

③ استنتج بُعد النقطة A عن الفصل المشترك للمستويين P و Q .

14 في كل من الحالات الآتية، تُعطى نقطتين A و B والمعادلة الديكارتيّة لمستوي P . تبيّن في كل

حالة أن المستقيم (AB) ليس عمودياً على P . ثم أعط معادلة للمستوي Q العمودي على P

والمارّ بالنقطتين A و B .

$B(0,1,1), A(1,0,0), P : x + y + z = 0$ ①

$B(1,0,1), A(1,2,0), P : x + z = 0$ ②

$B(1,1,1), A(2,3,-1), P : 2x + z - 4 = 0$ ③

15 تتأمل في معلم متجانس $(O; \vec{i}, \vec{j}, \vec{k})$ ، المستويين P و Q :

$$Q: x + y + z + 1 = 0 \quad \text{و} \quad P: x - 2y + 3z - 5 = 0$$

- ① علّل كون المستويين P و Q متقاطعين. نرسم بالرمز d إلى فصلهما المشترك.
- ② أثبت أنّ d هو مجموعة النقاط $M\left(-\frac{5}{3}z + 1, \frac{2}{3}z - 2, z\right)$ عندما تتحوّل z في \mathbb{R} .
- ③ أعط شعاعاً موجّهاً للمستقيم d .
- ④ اكتب معادلة للمستوي R العموديّ على كل من P و Q ويمر بالنقطة $A(2, 5, -2)$.

16 تتأمل في معلم متجانس $(O; \vec{i}, \vec{j}, \vec{k})$ ، النقاط:

$$E(1, -1, 1) \quad \text{و} \quad D(0, 4, 0) \quad \text{و} \quad C(4, 0, 0) \quad \text{و} \quad B(1, 0, -1) \quad \text{و} \quad A(2, 1, 3)$$

- ① أثبت أنّ النقاط C و D و E ليست واقعة على استقامة واحدة.
- ② أثبت أنّ المستقيم (AB) عمودي على المستوي (CDE) .

17 تتأمل في معلم متجانس $(O; \vec{i}, \vec{j}, \vec{k})$ ، النقاط:

$$D(3, 3, -3) \quad \text{و} \quad C(1, -1, 1) \quad \text{و} \quad B(4, -2, 3) \quad \text{و} \quad A(2, 4, 3)$$

- ① أثبت أنّ النقاط A و B و C ليست واقعة على استقامة واحدة.
- ② عيّن إحداثيات المسقط القائم D' للنقطة D على المستوي (ABC) .

18 تتأمل في معلم متجانس $(O; \vec{i}, \vec{j}, \vec{k})$ النقطتين $\Omega(2, -1, 3)$ و $A(-1, 0, 1)$. نهدف إلى كتابة

معادلة للكرة S التي مركزها Ω وتمرّ بالنقطة A .

- ① احسب ΩA .
- ② لتكن $M(x, y, z)$ نقطة من الفراغ احسب ΩM^2 بدلالة x و y و z .
- ③ أثبت أنّ « $M(x, y, z)$ نقطة من S » إذا وفقط إذا تحقّق الشرط « $\Omega M^2 = \Omega A^2$ » واستنتج معادلة للكرة S المطلوبة.

19 في معلم متجانس $(O; \vec{i}, \vec{j}, \vec{k})$. اكتب معادلة الكرة التي مركزها Ω وتمرّ بالنقطة A .

$$\textcircled{1} \quad \Omega(0, 0, 1) \quad \text{و} \quad A(1, 1, 1) \quad \textcircled{2} \quad \Omega(0, 5, -1) \quad \text{و} \quad A(1, -2, 3)$$

20 في معلم متجانس $(O; \vec{i}, \vec{j}, \vec{k})$. اكتب معادلة الكرة التي مركزها Ω ونصف قطرها r .

$$\textcircled{1} \quad \Omega(1, 2, 3) \quad \text{و} \quad r = 2 \quad \textcircled{2} \quad \Omega(0, 5, -1) \quad \text{و} \quad r = \sqrt{3}$$

21 في معلم متجانس $(O; \vec{i}, \vec{j}, \vec{k})$. عيّن طبيعة مجموعة النقاط $M(x, y, z)$ في الحالات الآتية:

$$\textcircled{1} \quad x^2 + y^2 + z^2 - 2x + 6y - 2 = 0 \quad \textcircled{2} \quad x^2 + y^2 + z^2 - 10x + 2z + 26 = 0$$

$$\textcircled{3} \quad x^2 + y^2 + z^2 + x + y + z = 0 \quad \textcircled{4} \quad x^2 + y^2 + z^2 - 4x + 5 = 0$$

22 في معلم متجانس $(O; \vec{i}, \vec{j}, \vec{k})$ تتأمل النقطة $A(2, -2, 2)$ والمستوي $\mathcal{P} : x + 2y + 3z = 5$.
اكتب معادلة للكرة التي مركزها A وتمس المستوي \mathcal{P} .

23 في معلم متجانس $(O; \vec{i}, \vec{j}, \vec{k})$ نتأمل النقطتين $A(2, 1, 2)$ و $B(-2, 0, 2)$.
① أعط معادلة للمجموعة \mathcal{E} المكوّنة من النقاط $M(x, y, z)$ التي تُحقّق $\vec{MA} \cdot \vec{MB} = 0$.
② ما طبيعة المجموعة \mathcal{E} ؟

24 تتأمل نقطتين مختلفتين A و B في الفراغ. نضع $r = \frac{1}{2}AB$ ، ونعرّف I منتصف $[AB]$.
① أثبت أنه في حالة نقطة ما M من الفراغ تتحقّق المساواة: $\vec{MA} \cdot \vec{MB} = MI^2 - r^2$.
② أثبت أن مجموعة نقاط الفراغ التي تحقّق $\vec{MA} \cdot \vec{MB} = 0$ هي الكرة التي مركزها I ونصف قطرها r ، وهي أيضاً الكرة التي تقبل $[AB]$ قطراً فيها.

25 في معلم متجانس $(O; \vec{i}, \vec{j}, \vec{k})$ نتأمل النقطتين $A(1, 1, 1)$ و $B(0, -1, -1)$.
① أعط معادلة للمجموعة \mathcal{E} المكوّنة من النقاط $M(x, y, z)$ التي تُحقّق $MA = 2MB$.
② ما طبيعة المجموعة \mathcal{E} ؟
③ أعط معادلة للمجموعة \mathcal{P} المكوّنة من النقاط $M(x, y, z)$ التي تُحقّق $MA = MB$.
④ ما طبيعة المجموعة \mathcal{P} ؟

26 تتأمل نقطتين مختلفتين A و B في الفراغ. وعدداً موجباً غير معدوم k . نعرّف \mathcal{E}_k مجموعة نقاط الفراغ M التي تحقّق الشرط $AM = k \cdot BM$.
① حالة $k = 1$.

① لتكن I منتصف $[AB]$ أثبت أن

$$\vec{BA} \cdot \vec{MI} = \frac{1}{2}(\vec{MA} - \vec{MB}) \cdot (\vec{MA} + \vec{MB}) = \frac{MA^2 - MB^2}{2}$$

② استنتج أن \mathcal{E}_1 هي المستوي \mathcal{P} المارّ بمنتصف القطعة المستقيمة $[AB]$ والعمودي على (AB) . (المستوي المحوري للقطعة المستقيمة $[AB]$).

② حالة $k \neq 1$.

① لتكن I مركز الأبعاد المتناسبة للنقطتين $(A, 1)$ و (B, k) ، ولتكن J مركز الأبعاد المتناسبة للنقطتين $(A, 1)$ و $(B, -k)$. أثبت أن

$$\vec{MI} \cdot \vec{MJ} = \frac{1}{1 - k^2}(\vec{MA} - k\vec{MB}) \cdot (\vec{MA} + k\vec{MB}) = \frac{MA^2 - k^2 MB^2}{1 - k^2}$$

② استنتج أن \mathcal{E}_k هي الكرة S التي تقبل القطعة المستقيمة $[IJ]$ قطراً فيها.

في معلم متجانس $(O; \vec{i}, \vec{j}, \vec{k})$ نتأمل النِّقاط

. $D(0, 0, -3)$ و $C(3, -3, -1)$ و $B(2, 2, 2)$ و $A(4, 0, -3)$

- ① أعطِ معادلة للمستوي المحوري P_1 للقطعة المستقيمة $[AB]$.
- ② أعطِ معادلة للمستوي المحوري P_2 للقطعة المستقيمة $[BC]$.
- ③ أعطِ معادلة للمستوي المحوري P_3 للقطعة المستقيمة $[CD]$.
- ④ علِّل لماذا إذا تقاطعت المستويات P_1 و P_2 و P_3 في نقطة واحدة Ω . كانت Ω مركزاً لكرة تمرّ بالنقاط A و B و C و D .
- ⑤ بحلِّ جملة من ثلاث معادلات بثلاثة مجاهيل أثبت أنّ المستويات P_1 و P_2 و P_3 تتقاطع في نقطة واحدة Ω .
- ⑥ احسب نصف قطر الكرة S المارة بالنِّقاط A و B و C و D .
- ⑦ اكتب معادلة للكرة S المارة برؤوس رباعيِّ الوجوه $ABCD$.

3 المستقيمات والمستويات في الفراغ

انطلاقة نشطة

حل جملة معادلات خطية

1 الطريقة الأولى : الحذف بالتعويض

نهدف إلى حل جملة المعادلات الآتية ذات المجاهيل (x, y, z) :

$$(S) \begin{cases} 2x - y + 3z = 0 & (1) \\ x - 2y + z = 1 & (2) \\ x + y - z = 2 & (3) \end{cases}$$

تسمى الجملة (S) **جملة ثلاث معادلات خطية بثلاثة مجاهيل** وتعتمد طريقة الحذف بالتعويض على إرجاع هذه الجملة إلى جملة معادلتين خطيتين بمجهولين عن طريق معاملة أحد هذه المجاهيل بصفته مقداراً ثابتاً، فمثلاً تُكتب المعادلتان (2) و (3) بالشكل

$$\begin{cases} x - 2y = 1 - z \\ x + y = 2 + z \end{cases}$$

ثم نحل هذه الجملة بالمجهولين (x, y) .

1 تحقق أن $x = \frac{5+z}{3}$ و $y = \frac{1+2z}{3}$.

نعوض قيمتي $x = f(z) = \frac{5+z}{3}$ و $y = g(z) = \frac{1+2z}{3}$ في المعادلة (1) لنحصل على معادلة وحيدة بالمجهول z .

2 تحقق أنك تحصل على $z = -1$ ، ومن ثم $x = \frac{4}{3}$ و $y = -\frac{1}{3}$.

تبرهن النظرية، وهذا ما نقبل به، أننا بهذا الأسلوب نحصل على مجموعة الحلول. وهكذا نكون قد أثبتنا أن للجملة (S) حلاً وحيداً هو $(x, y, z) = (\frac{4}{3}, -\frac{1}{3}, -1)$.

عندما نصل إلى معادلة لا يظهر فيها إلا متحول واحد، z مثلاً، عندئذ نناقش كما يأتي:

- إذا لم يكن للمعادلة حل، استنتجنا أن ليس للجملة (S) حلول.
- إذا أخذت المعادلة الصيغة $0 \cdot z = 0$ استنتجنا أن للجملة (S) عدداً لا نهائياً من الحلول. وتكتب مجموعة الحلول بالشكل $(x, y, z) = (f(z), g(z), z)$ حيث z عدد حقيقي.

② الطريقة الثانية : الحذف بالجمع

نهدف إلى حل جملة المعادلات الآتية ذات المجاهيل (x, y, z) :

$$(S) \begin{cases} x + y + z = 0 & (L_1) \\ x + y - z = -2 & (L_2) \\ x - y + z = 4 & (L_3) \end{cases}$$

نسمي معادلة من الصيغة $aL_1 + bL_2$ ، حيث a و b عدنان حقيقيان، عبارة خطية في L_1 و L_2 .

① اجمع المعادلتين L_1 و L_2 ، وكذلك المعادلتين L_2 و L_3 . ما هي المعادلات التي تحصل عليها؟

② استنتج قيم x و y و z .

③ تحقق أن الثلاثية التي حصلت عليها هي حل للجملة المعطاة. ماذا تستنتج؟



عندما نُجري مثل هذه التحويلات على غير هدى، ليس هناك ما يجعلنا نستنتج أن الحل أو

الحلول التي نجدها هي حلول للجملة الأصلية، مما يحتم علينا التيقن من تحقيق هذه الحلول للجملة

الأصلية. المثال الآتي يوضح هذا الأمر:

مثال

لنتأمل الجملتين الآتيتين :

$$(S') \begin{cases} 2x + 2y = 3 & (L_1 + L_2) \\ 2y - 2z = 6 & (L_2 - L_3) \\ 2x + 2z = -3 & (L_1 + L_3) \end{cases} \text{ و } (S) \begin{cases} x + y + z = 1 & (L_1) \\ x + y - z = 2 & (L_2) \\ x - y + z = -4 & (L_3) \end{cases}$$

هنا يمكنك أن تتيقن بسهولة أن $(0, \frac{3}{2}, -\frac{3}{2})$ حل للجملة (S') ولكنه ليس حلاً للجملة (S) .

③ الطريقة الثالثة : طريقة غاوس

هذه الطريقة تشبه طريقة الحذف بالجمع المشار إليها أعلاه ولكنها تتميز بأن الجملة النهائية التي نحصل

عليها **تكافئ** الجملة الأصلية أي يكون لهما مجموعة الحلول ذاتها.

نهدف إلى حل الجملة

$$(S) \begin{cases} x - 3y + 2z = 1 & (L_1) \\ 2x - y + 3z = 9 & (L_2) \\ 3x - 2y + 4z = 11 & (L_3) \end{cases}$$

① **المرحلة الأولى:** نسعى إلى حذف x من L_2 و L_3 بالاستفادة من عبارات خطية تشمل L_1 . لهذا

الهدف نضرب L_2 بالمقدار $-\frac{1}{2}$ و L_3 بالمقدار $-\frac{1}{3}$ بحيث يظهر الحد $-x$. ثم نجمع L_1 إلى كل

منهما ونصلح النتيجة. تحقق من صحة الخطوات المبينة فيما يأتي:

$$\begin{cases} x - 3y + 2z = 1 & (L_1) \\ -x + \frac{1}{2}y - \frac{3}{2}z = -\frac{9}{2} & (-\frac{1}{2}L_2) \\ -x + \frac{2}{3}y - \frac{4}{3}z = -\frac{11}{3} & (-\frac{1}{3}L_3) \end{cases} \rightsquigarrow \begin{cases} x - 3y + 2z = 1 & (L_1) \\ -\frac{5}{2}y + \frac{1}{2}z = -\frac{7}{2} & (L_1 - \frac{1}{2}L_2) \\ -\frac{7}{3}y + \frac{2}{3}z = -\frac{8}{3} & (L_1 - \frac{1}{3}L_3) \end{cases}$$

وبعد إصلاح المعادلتين الأخيرتين بضرب طرفي الثانية بالعدد 2 - وطرفي الثالثة بالعدد 3 - نصل إلى الجملة الجديدة

$$(S') \begin{cases} x - 3y + 2z = 1 & (L_1) \\ 5y - z = 7 & (L_2') \\ 7y - 2z = 8 & (L_3') \end{cases}$$

② المرحلة الثانية: نسعى إلى حذف y من L_3' بالاستفادة من L_2' . لتحقيق ذلك نضرب L_3' بالعدد $-\frac{5}{7}$ كي يظهر فيها الحد $-5y$ ثم نجمع إلى المعادلة الناتجة المعادلة L_2' :

$$\begin{cases} x - 3y + 2z = 1 & (L_1) \\ 5y - z = 7 & (L_2') \\ 7y - 2z = 8 & (L_3') \end{cases} \rightsquigarrow \begin{cases} x - 3y + 2z = 1 & (L_1) \\ 5y - z = 7 & (L_2') \\ \frac{3}{7}z = \frac{9}{7} & (L_2' - \frac{5}{7}L_3') \end{cases}$$

وبعد إصلاح المعادلة الأخيرة بضرب طرفيها بالعدد $\frac{7}{3}$ نصل إلى الجملة الجديدة:

$$(S'') \begin{cases} x - 3y + 2z = 1 & (L_1) \\ 5y - z = 7 & (L_2') \\ z = 3 & (L_3'') \end{cases}$$

تبرهن النظرية، وهذا ما نقبل به، أن حلول الجملة (S'') هي حلول الجملة (S) ذاتها.

③ استنتج مجموعة حلول الجملة (S) .

من المهم ملاحظة أننا نكتب في كل مرة جملاً معادلات، وأتينا نكرر كتابة السطر الأول من (S) والسطر الثاني من (S') .

وعندما نحصل على جملة تكون فيها المعادلتان الأخيرتان متكافئتين (لهما الحل ذاتها)، فعندها تقبل الجملة الأصلية (S) عدداً لا نهائياً من الحلول، كما يبين المثال الآتي:

مثال

تؤول الجملة $\begin{cases} x + y - 2z = 3 \\ 3y - z = 1 \\ 6y - 2z = 2 \end{cases}$ إلى $\begin{cases} x + y = 2z + 3 \\ 3y = z + 1 \end{cases}$ ومنه $y = \frac{1+z}{3}$ و $x = \frac{8+5z}{3}$. إذن

مجموعة حلول هذه الجملة هي مجموعة الثلاثيات $\left(\frac{8+5z}{3}, \frac{1+z}{3}, z\right)$ حيث z عدد حقيقي.

وأخيراً عندما نحصل على جملة تكون فيه المعادلتان الأخيرتان متناقضتين، لا يكون للجملة أية حلول.

فمثلاً ليس للجملة $\begin{cases} x + 2y - 3z = 3 \\ 3y - z = 1 \\ 3y - z = 0 \end{cases}$ حلول.

1.1.1 المستقيمات والقطع المستقيمة في الفراغ

كما هي الحال في المستوي، في الفراغ أيضاً المستقيم (AB) هو مجموعة النقاط M التي تحقق $\overrightarrow{AM} = t\overrightarrow{AB}$ عندما تتحول t في مجموعة الأعداد الحقيقية \mathbb{R} . والقطعة المستقيمة $[AB]$ هي مجموعة النقاط M التي تحقق $\overrightarrow{AM} = t\overrightarrow{AB}$ عندما تتحول t في المجال $[0,1]$. ومنه المبرهنة الآتية:

مبرهنة 1

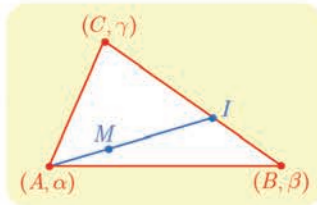
- ① المستقيم (AB) هو مجموعة مراكز الأبعاد المتناسبة للنقطتين المُثَقَّلَتين $(A, 1-t)$ و (B, t) عندما تتحول t في مجموعة الأعداد الحقيقية \mathbb{R} .
- ② القطعة المستقيمة $[AB]$ هي مجموعة مراكز الأبعاد المتناسبة للنقطتين المُثَقَّلَتين $(A, 1-t)$ و (B, t) عندما تتحول t في المجال $[0,1]$.

الإثبات

في حالة عدد حقيقي t ، القول إن M هي مركز الأبعاد المتناسبة للنقطتين المُثَقَّلَتين $(A, 1-t)$ و (B, t) يعني أن $(1-t)\overrightarrow{AM} + t\overrightarrow{BM} = \vec{0}$ أو $\overrightarrow{AM} = t(\overrightarrow{AM} + \overrightarrow{MB}) = t\overrightarrow{AB}$. ومنه نستنتج النقطتين ① و ② مباشرة.

القطعة المستقيمة $[AB]$ هي أيضاً مجموعة مراكز الأبعاد المتناسبة للنقطتين المُثَقَّلَتين (A, α) و (B, β) حيث $\alpha \geq 0$ و $\beta \geq 0$ و $\alpha + \beta > 0$. في الحقيقة، إن مركز الأبعاد المتناسبة للنقطتين المُثَقَّلَتين (A, α) و (B, β) هو نفسه مركز الأبعاد المتناسبة للنقطتين المُثَقَّلَتين $(A, \frac{\alpha}{\alpha+\beta})$ و $(B, \frac{\beta}{\alpha+\beta})$ ، فهو إذن مركز الأبعاد المتناسبة للنقطتين المُثَقَّلَتين $(A, 1-t)$ و (B, t) وقد وضعنا $t = \frac{\beta}{\alpha+\beta} \in [0,1]$.

نتيجة 2



إن داخل المثلث ABC هو مجموعة مراكز الأبعاد المتناسبة للنقاط المثقلة (A, α) و (B, β) و (C, γ) حيث $\alpha > 0$ و $\beta > 0$ و $\gamma > 0$.

في الحقيقة، لنفترض أن M نقطة من هذا النوع ولنضع I مركز الأبعاد المتناسبة للنقطتين المُثَقَّلَتين (B, β) و (C, γ) ، عندئذ تقع I داخل القطعة المستقيمة $[BC]$ ، واستناداً إلى الخاصية التجميعية، تكون M مركز الأبعاد المتناسبة للنقطتين المُثَقَّلَتين (A, α) و $(I, \beta + \gamma)$ ، فهي إذن تقع داخل القطعة المستقيمة $[AI]$ ، فهي إذن داخل المثلث ABC .

وبالعكس، إذا كانت M نقطة واقعة داخل المثلث ABC ، قطع المستقيم (AM) المستقيم (BC) في نقطة I واقعة بين B و C ، إذن يوجد $\beta > 0$ و $\gamma > 0$ بحيث تكون I مركز الأبعاد المتناسبة للنقطتين المتقلبتين (B, β) و (C, γ) . ولكن تقع M داخل القطعة المستقيمة $[AI]$ فيوجد $\alpha > 0$ بحيث تكون M مركز الأبعاد المتناسبة للنقطتين المتقلبتين (A, α) و $(I, \beta + \gamma)$. واستناداً إلى الخاصّة التجميعيّة، تكون M مركز الأبعاد المتناسبة للنقاط المتقلّبة (A, α) و (B, β) و (C, γ) .

2.1. المستويات في الفراغ

لنتذكّر أن المستوي (ABC) هو مجموعة النقاط M التي تحقّق $\overrightarrow{AM} = x\overrightarrow{AB} + y\overrightarrow{AC}$ حيث x و y عدنان حقيقيان كيفيان.

مبرهنة 3

إنّ انتماء نقطة M إلى المستوي (ABC) يكافئ وجود عددين x و y بحيث تكون M مركز الأبعاد المتناسبة للنقاط المتقلّبة $(A, 1 - x - y)$ و (B, x) و (C, y) .

الإثبات

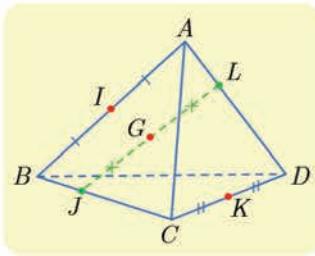
في حالة عددين حقيقيّين x و y تُكافئ المساواة $\overrightarrow{AM} = x\overrightarrow{AB} + y\overrightarrow{AC}$ ، ما يأتي:

$$\begin{aligned}\overrightarrow{AM} &= x(\overrightarrow{AM} + \overrightarrow{MB}) + y(\overrightarrow{AM} + \overrightarrow{MC}) \\ &= -(x + y)\overrightarrow{MA} + x\overrightarrow{MB} + y\overrightarrow{MC}\end{aligned}$$

أو

$$(1 - x - y)\overrightarrow{MA} + x\overrightarrow{MB} + y\overrightarrow{MC} = \vec{0}$$

أي إنّ M هي مركز الأبعاد المتناسبة للنقاط المتقلّبة $(A, 1 - x - y)$ و (B, x) و (C, y) .



إثبات وقوع نقاط على استقامة واحدة

مثال

$ABCD$ رباعي وجوه، I و K منتصفا الحرفين $[AB]$ و $[CD]$ ،

و J و L نقطتان معرفتان بالعلاقنتين $\overrightarrow{AL} = \frac{1}{3}\overrightarrow{AD}$

و $\overrightarrow{CJ} = \frac{2}{3}\overrightarrow{CB}$ ، وأخيراً G هي منتصف $[JL]$ أثبت أنّ النقاط G

و I و K تقع على استقامة واحدة.

لإثبات وقوع ثلاث نقاط على استقامة واحدة يكفي إثبات أنّ إحداها هي مركز الأبعاد المتناسبة



لنقطتين الأخرين.

- ② أعط في الحالات الآتية α و β لتكون M مركز الأبعاد المتناسبة للنقطتين (A, α) و (B, β) .
- ① $\overrightarrow{AM} = \frac{2}{7}\overrightarrow{AB}$ ② $2\overrightarrow{AM} + \overrightarrow{AB} = \vec{0}$ ③ $\overrightarrow{MA} - 3\overrightarrow{AB} = \vec{0}$

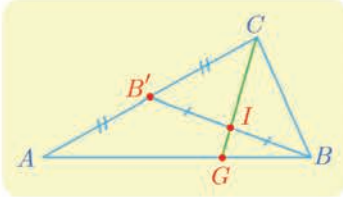
- ③ في الشكل الآتي التدرجات متساوية. عبّر في كل حالة عن كل واحدة من النقاط A و B و C بصفتها مركز الأبعاد المتناسبة للنقطتين الآخرين.



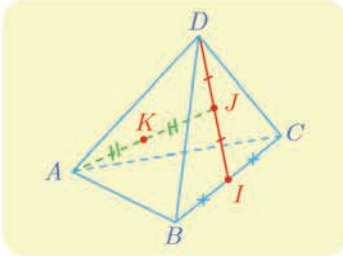
- ④ نتأمل مثلثاً ABC . في كل حالة مما يأتي، جِدْ عددين x و y بحيث $\overrightarrow{AM} = x\overrightarrow{AB} + y\overrightarrow{AC}$
- ① M مركز الأبعاد المتناسبة للنقاط $(A, -1)$ و $(B, 1)$ و $(C, 1)$.
- ② M مركز الأبعاد المتناسبة للنقاط $(A, 3)$ و $(B, 1)$ و $(C, 2)$.
- ⑤ نتأمل مثلثاً ABC . في كل حالة مما يأتي، جِدْ الأعداد α و β و γ لتكون M مركز الأبعاد المتناسبة للنقاط (A, α) و (B, β) و (C, γ) .

① $\overrightarrow{AM} = 2\overrightarrow{AB} - \overrightarrow{AC}$ ② $\overrightarrow{BM} = \overrightarrow{BA} - \overrightarrow{BC}$

③ $\overrightarrow{CM} = 3\overrightarrow{CA} + 2\overrightarrow{CB}$ ④ $\overrightarrow{AM} = \overrightarrow{MB} + \frac{1}{2}\overrightarrow{AC}$



- ⑥ انطلاقاً من الشكل المجاور. جِدْ الأمثال α و β و γ لتكون I مركز الأبعاد المتناسبة للنقاط (A, α) و (B, β) و (C, γ) .
- واستنتج λ التي تحقق $\overrightarrow{GA} + \lambda\overrightarrow{GB} = \vec{0}$.



- ⑦ انطلاقاً من الشكل المجاور. جِدْ الأمثال α و β و γ و δ لتكون K مركز الأبعاد المتناسبة للنقاط (A, α) و (B, β) و (C, γ) و (D, δ) .

- ⑧ $ABCD$ رباعي وجوه. استعمل الخاصّة التجميعيّة لتعيين موضع النقطة G في الحالات الآتية:
- ① G مركز الأبعاد المتناسبة للنقاط $(A, 1)$ و $(B, 1)$ و $(C, 1)$ و $(D, 3)$.
- ② G مركز الأبعاد المتناسبة للنقاط $(A, -1)$ و $(B, 2)$ و $(C, -1)$ و $(D, -2)$.
- ② G مركز الأبعاد المتناسبة للنقاط $(A, 1)$ و $(B, 2)$ و $(C, 3)$ و $(D, 6)$.

2 التمثيلات الوسيطة

1.2. التمثيل الوسيطي لمستقيم

لنفترض أن المستقيم d معرّف بنقطة $A(x_0, y_0, z_0)$ وبشعاع موجّه $\vec{u}(a, b, c)$. تنتمي النقطة $M(x, y, z)$ إلى d إذا وفقط إذا وُجد عدد حقيقي t بحيث $\vec{AM} = t\vec{u}$ ، وهذا يُترجم باستعمال المركبات كما يأتي: يوجد t بحيث $x - x_0 = at$ و $y - y_0 = bt$ و $z - z_0 = ct$ ، ومنه المبرهنة:

مبرهنة 4

إنّ المستقيم d المارّ بالنقطة $A(x_0, y_0, z_0)$ والموجّه بالشعاع $\vec{u}(a, b, c)$. هو مجموعة النقاط $M(x, y, z)$ التي تحقّق

$$(S) \begin{cases} x = at + x_0 \\ y = bt + y_0 \\ z = ct + z_0 \end{cases}, \quad t \in \mathbb{R}$$

تسمّى الجملة (S) تمثيلاً وسيطياً للمستقيم d في المعلم $(O; \vec{i}, \vec{j}, \vec{k})$ ، ويسمى t وسيطاً. نقرن بكلّ عدد حقيقي t نقطة وحيدة $M(at + x_0, bt + y_0, ct + z_0)$ من المستقيم d . وبالعكس يوافق كلّ نقطة M من d عدد حقيقي وحيد t يحقّق $\vec{AM} = t\vec{u}$.

مثال

في حالة $A(1, 2, 3)$ و $B(2, 3, 1)$ يكون الشعاع $\vec{AB}(1, 1, -2)$ شعاعاً موجّهاً للمستقيم (AB) ويقبل

$$\begin{cases} x = t + 1 \\ y = t + 2 \\ z = -2t + 3 \end{cases}, \quad t \in \mathbb{R}$$
 التمثيل الوسيطي: المستقيم (AB)

2.2. التمثيل الوسيطي لقطعة مستقيمة ولنصف مستقيم

لنكن $A(x_0, y_0, z_0)$ و $B(x_1, y_1, z_1)$ نقطتين من الفراغ، ولنضع $\vec{AB} = \vec{u}(a, b, c)$ عندئذ القطعة المستقيمة $[AB]$ هي مجموعة النقاط $M(x, y, z)$ التي تحقّق

$$\begin{cases} x = at + x_0 \\ y = bt + y_0 \\ z = ct + z_0 \end{cases}, \quad t \in [0, 1]$$

ونصف المستقيم $[AB)$ الذي مبدؤه A ويمرّ بالنقطة B هو مجموعة النقاط $M(x, y, z)$ التي تُحقّق

$$\begin{cases} x = at + x_0 \\ y = bt + y_0 \\ z = ct + z_0 \end{cases}, \quad t \in [0, +\infty[$$

تكرّيباً للفهم

كيف نعرّف تمثيلين وسيطيين مختلفين للمستقيم نفسه ؟ 

مثال

لنتأمل الجملتين

$$(S') \begin{cases} x = -9t + 4 \\ y = -12t + 4 \\ z = 3t \end{cases}, \quad t \in \mathbb{R} \quad \text{و} \quad (S) \begin{cases} x = 3t + 1 \\ y = 4t \\ z = -t + 1 \end{cases}, \quad t \in \mathbb{R}$$

يمثل (S) التمثيل الوسيطي للمستقيم d الموجّه بالشعاع $\vec{u}(3,4,-1)$ والمارّ بالنقطة $A(1,0,1)$. أمّا (S') فهو تمثيل وسيطي لمستقيم d' موجّه بالشعاع $\vec{u}'(-9,-12,3)$. ولكن $\vec{u}' = -3\vec{u}$ إذن \vec{u} هو أيضاً شعاع توجيه للمستقيم d' ، والنقطة $A(1,0,1)$ من d تنتمي أيضاً إلى d' (يكفي أن نختار $t = \frac{1}{3}$ في التمثيل الوسيطي (S') للمستقيم d'). إذن $d = d'$ والجملتان (S) و (S') هما تمثيلان وسيطيان للمستقيم d ذاته.

كيف ندرس تقاطع مستقيمين معرفين وسيطياً ؟ 

مثال

لنتأمل المستقيمين :

$$(d') \begin{cases} x = 3t + 2 \\ y = -t - 1 \\ z = t + 1 \end{cases}, \quad t \in \mathbb{R} \quad \text{و} \quad (d) \begin{cases} x = t + 1 \\ y = 2t - 3 \\ z = -t + 2 \end{cases}, \quad t \in \mathbb{R}$$

القول إنّ $I(x,y,z)$ تنتمي إلى $d \cap d'$ يعني أنها نقطة واقعة على كل من d و d' . ووقوع I على d يعني أنّه يوجد عدد حقيقي t يحقق $x = t + 1$ و $y = 2t - 3$ و $z = -t + 2$. ولكن **انتبه** لا يعني انتماء I إلى d' أيضاً أنّ $x = 3t + 2$ و $y = -t - 1$ و $z = t + 1$. إذ ليس هناك أي سبب يجعل قيمة الوسيط t التي توافق I على d هي ذاتها قيمة الوسيط t التي توافق النقطة I على d' . يجب استعمال حرف آخر (s مثلاً) للدلالة على الوسيط على المستقيم d' . وعليه القول إنّ $I(x,y,z)$ هي نقطة تقاطع المستقيمين d و d' تكافئ وجود عدد حقيقي t و عدد حقيقي s بحيث

$$\begin{cases} t + 1 = 3s + 2 \\ 2t - 3 = -s - 1 \\ -t + 2 = s + 1 \end{cases}$$

نجد من ثمّ $t = 1$ و $s = 0$ ، وعليه يشترك المستقيمان d و d' بالنقطة $I(2,-1,1)$.

مَثَالٌ تعرف وضع مستقيمين في الفراغ

ادرس وضع المستقيمين d و d' المعرفين كما يأتي:

$$d' : \begin{cases} x = t \\ y = -3t - 3, \quad t \in \mathbb{R} \\ z = -t + 1 \end{cases} \quad \text{و} \quad d : \begin{cases} x = t + 1 \\ y = -3t + 2, \quad t \in \mathbb{R} \\ z = -3t + 3 \end{cases}$$

لتعيين وضع مستقيمين معرفين وسيطياً ندرس أولاً الارتباط الخطي لأشعثهما الموجهة \vec{u} و \vec{u}' .



الحل

للمستقيمين d و d' شعاعين موجهين $\vec{u}(1, -3, -3)$ و $\vec{u}'(1, -3, -1)$ بالترتيب. ولأن مركبات هذين الشعاعين ليست متناسبة استنتجنا أن الشعاعين \vec{u} و \vec{u}' غير مرتبطين خطياً. وعليه، إما أن يكون المستقيمان d و d' **متقاطعين** أو أن يكونا متخالفين (أي غير واقعين في مستو واحد). لنبحث إذا كانا متقاطعين، علينا حل الجملة

$$\begin{cases} t + 1 = s & (1) \\ -3t + 2 = -3s - 3 & (2) \\ -3t + 3 = -s + 1 & (3) \end{cases} \rightsquigarrow \begin{cases} t - s = -1 & (1) \\ -3t + 3s = -5 & (2) \\ -3t + s = -2 & (3) \end{cases}$$

ولكن المعادلتين (1) و (2) متناقضتان، وليس لهذه الجملة حلول. إذن لا يقع المستقيمان d و d' في مستو واحد.



نُعطي في هذه الفقرة معلماً متجانساً $(O; \vec{i}, \vec{j}, \vec{k})$.

① أعط معادلة وسيطية للمستقيم d :

① المستقيم d يمر بالنقطة $A(-1, 2, 0)$ وموجه بالشعاع $\vec{u}(0, 1, -1)$.

② حيث $d = (AB)$ و $A(2, 1, -1)$ و $B(3, -1, 1)$.

② نتأمل النقطتين $A(-2, 1, 0)$ و $B(2, 3, 1)$. أعط تمثيلاً وسيطياً لكل من

① المستقيم (AB) . ② القطعة المستقيمة $[AB]$.

③ نصف المستقيم $[AB]$. ④ نصف المستقيم $[BA]$.

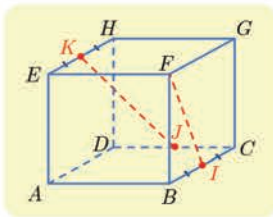
③ $ABCDEFHG$ مكعب طول ضلعه 1. فيه I منتصف $[BC]$ و J

منتصف $[CD]$ و K منتصف $[EH]$. نتأمل المعلم $(A; \overrightarrow{AB}, \overrightarrow{AD}, \overrightarrow{AE})$.

① أعط تمثيلاً وسيطياً لكل من (IK) و (FJ) .

② أين تقاطع المستقيمان (IK) و (FJ) ؟ هل تقع النقاط I و J و K و F

في مستو واحد؟




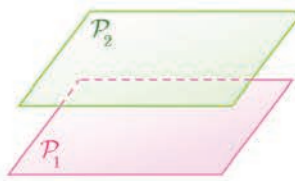

3 تقاطع مستقيمتين ومستويين

تُعطى في هذه الفقرة جملة متجانسة $(O; \vec{i}, \vec{j}, \vec{k})$.

1.3. تقاطع مستويين

لنتأمل مستويين $P_1 : a_1x + b_1y + c_1z + d_1 = 0$ و $P_2 : a_2x + b_2y + c_2z + d_2 = 0$. يمكننا، من حيث المبدأ، معرفة إذا كان هذان المستويان متوازيين أو متقاطعين انطلاقاً من كون الأشعة النازمة عليهما مرتبطة خطياً أو غير ذلك. وعلى وجه الخصوص، عندما يكون هذان المستويان متقاطعين، نحصل على إحداثيات نقاط التقاطع بحلّ الجملة المكوّنة من معادلتَي المستويين. لهذه الجملة عددٌ لا نهائي من الحلول ممثّلة بنقاط المستقيم Δ الفصل المشترك للمستويين P_1 و P_2 . يُلخّص الجدول الآتي الحالات المختلفة لمجموعة حلول الجملة (S)

$$(S) \begin{cases} a_1x + b_1y + c_1z + d_1 = 0 & (1) \\ a_2x + b_2y + c_2z + d_2 = 0 & (2) \end{cases}$$

المستويان متقاطعان	المستويان متوازيان ومختلفان	المستويان مطبقان
 <p>حلول الجملة (S) هي نقاط Δ، المستقيم Δ ليس معرفاً بتمثيل وسيطي، بل هو مجموعة النقاط $M(x, y, z)$ حيث (x, y, z) هي حلول (S).</p>	 <p>ليس للجملة (S) حلول.</p>	 <p>حلول الجملة (S) كلّ ثلاثيّة (x, y, z) تكون حلاً للمعادلة (1) أو (2).</p>

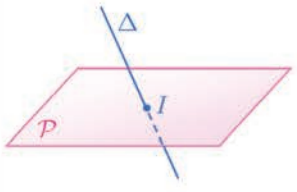
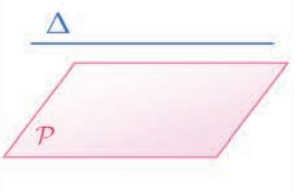
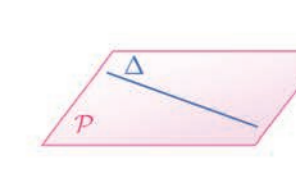
2.3. تقاطع مستقيم ومستو

لنتأمل مستويًا $P : ax + by + cz + d = 0$ له شعاع ناظم $\vec{n}(a, b, c)$. ومستقيماً Δ موجّه بالشعاع $\vec{u}(\alpha, \beta, \gamma)$ ويمر بالنقطة $A(x_0, y_0, z_0)$. يمكننا، من حيث المبدأ، معرفة إذا كان Δ موازياً للمستوي P أو قاطعاً له تبعاً لكون \vec{u} عمودياً على \vec{n} أو لم يكن.

وبوجه خاص، إذا قطع Δ المستوي P ، فإن إحداثيات نقطة التقاطع هي الثلاثية (x, y, z) حل الجملة (S) الآتية:

$$(S) \begin{cases} ax + by + cz + d = 0 \\ x = \alpha t + x_0 \\ y = \beta t + y_0 \\ z = \gamma t + z_0 \end{cases}$$

يلخص الجدول الآتي الحالات المختلفة:

المستقيم يتقاطع مع المستوي	المستقيم يوازي المستوي	المستقيم محتوي في المستوي
		
تقبل (S) حلاً وحيداً ممثلاً بالنقطة I.	ليس للجملة (S) حلول.	للجملة (S) عدد لا نهائي من الحلول ممثلة بنقاط Δ .

مثال / تعيين التمثيل الوسيطي للفصل المشترك لمستويين

نتأمل المستويين $P_1: 2x + y - z + 2 = 0$ و $P_2: x + 2y - z + 1 = 0$. نتيقن أن هذين المستويين متقاطعان، ثم جد تمثيلاً وسيطياً لفصلهما المشترك d .

الحل

للمستويين P_1 و P_2 الشعاعين الناظمين $\vec{n}_1(2, 1, -1)$ و $\vec{n}_2(1, 2, -1)$ بالترتيب. الشعاعان \vec{n}_1 و \vec{n}_2 غير مرتبطين خطياً لأن مركباتهما غير متناسبة، إذن المستويان P_1 و P_2 متقاطعان. تنتمي $M(x, y, z)$ إلى

$$d \begin{cases} 2x + y - z + 2 = 0 \\ x + 2y - z + 1 = 0 \end{cases} \text{ إذا وفقط إذا تحقق الشرطان:}$$

لحل هذه الجملة، نستعمل طريقة الحذف بالتعويض، فنعبّر مثلاً عن x و y بدلالة z :

$$\begin{cases} 2x + y = z - 2 & L_1 \\ x + 2y = z - 1 & L_2 \end{cases} \rightsquigarrow \begin{cases} 2x + y = z - 2 & L_1 \\ \frac{3}{2}y = \frac{1}{2}z & L_2 - \frac{1}{2}L_1 \end{cases} \rightsquigarrow \begin{cases} 2x + y = z - 2 & L_1 \\ y = \frac{1}{3}z & L'_2 \end{cases}$$

ومنه $x = \frac{1}{3}z - 1$ و $y = \frac{1}{3}z$. يأخذ المجهول z أية قيمة حقيقية. يمكننا إذن أن نرمز إليه بالرمز

$z = 3t$ تسهيلاً للكتابة ليصبح انتماء $M(x, y, z)$ إلى d مكافئاً للشرط

$$(d) \begin{cases} x = t - 1 \\ y = t \\ z = 3t \end{cases}, \quad t \in \mathbb{R}$$

فحصل بذلك على تمثيل وسيطي للفصل المشترك d .

مأمال

تعيين تقاطع مستقيم ومستوي

نتأمل النقطتين $A(2,1,-2)$ و $B(-1,2,1)$ والمستوي $\mathcal{P}: 2x - y + z - 2 = 0$. نتيقن أن (AB) يقطع المستوي \mathcal{P} في نقطة I يُطلب تعيين إحداثياتها.

الحل

للمستقيم (AB) شعاع موجّه $\vec{u} = \overrightarrow{AB} = (-3, 1, 3)$ ، وللمستوي \mathcal{P} شعاع ناظم $\vec{n}(2, -1, 1)$. ونلاحظ أن $\vec{n} \cdot \vec{u} = -4 \neq 0$ ، فالشعاعان \vec{n} و \vec{u} غير متعامدين مما يثبت تقاطع المستقيم (AB) والمستوي \mathcal{P} . إحداثيات نقطة التقاطع I هي الثلاثية (x, y, z) حلّ الجملة الآتية:

$$\begin{cases} 2x - y + z - 2 = 0 \\ x = -3t + 2 \\ y = t + 1 \\ z = 3t - 2 \end{cases} \rightsquigarrow \begin{cases} t = -\frac{1}{4} \\ x = -3t + 2 \\ y = t + 1 \\ z = 3t - 2 \end{cases} \rightsquigarrow \begin{cases} t = -\frac{1}{4} \\ x = \frac{11}{4} \\ y = \frac{3}{4} \\ z = -\frac{11}{4} \end{cases}$$

ومنه يقطع (AB) المستوي \mathcal{P} في $I(\frac{11}{4}, \frac{3}{4}, -\frac{11}{4})$.



نُعطي في هذه الفقرة معلماً متجانساً $(O; \vec{i}, \vec{j}, \vec{k})$.

① في الحالات الآتية تحقق من تقاطع المستويين \mathcal{P}_1 و \mathcal{P}_2 وأعط تمثيلاً وسيطياً لفصلهما المشترك.

① $\mathcal{P}_1: x + y = 2$ و $\mathcal{P}_2: x + z = 1$

② $\mathcal{P}_1: -x + y + z = 3$ و $\mathcal{P}_2: 2x - y + 2z = 1$

② في الحالات الآتية، أعط تمثيلاً وسيطياً للمستقيم d' وبين إذا كان $d' \parallel d$ أو كان d منطبقاً على d' .

① $d': \begin{cases} x + y - 2z = 3 \\ x - y - 2z = 5 \end{cases}$, $d: \begin{cases} x = 2t - 1 \\ y = 2 \\ z = t + 1 \end{cases}$ ② $d': \begin{cases} 3x - y - 2z = 1 \\ x - y - z = 0 \end{cases}$, $d: \begin{cases} x = t \\ y = -t \\ z = 2t - 1 \end{cases}$

③ في الحالات الآتية أثبت تقاطع المستقيم d مع المستوي \mathcal{P} وعين إحداثيات نقطة التقاطع.

① $d = (AB)$ حيث $A(-1, 2, 3)$ و $B(1, 2, -1)$ ، و $\mathcal{P}: x + y + z = 1$

② d يمر بالنقطة $A(2, -1, 0)$ ويوجّهه الشعاع $\vec{u} = \vec{i} - 2\vec{j}$ و $\mathcal{P}: \frac{x}{2} + \frac{y}{3} - \frac{z}{6} = 1$

④ في الحالات الآتية، ادرس تقاطع المستقيم d والمستوي \mathcal{P} .

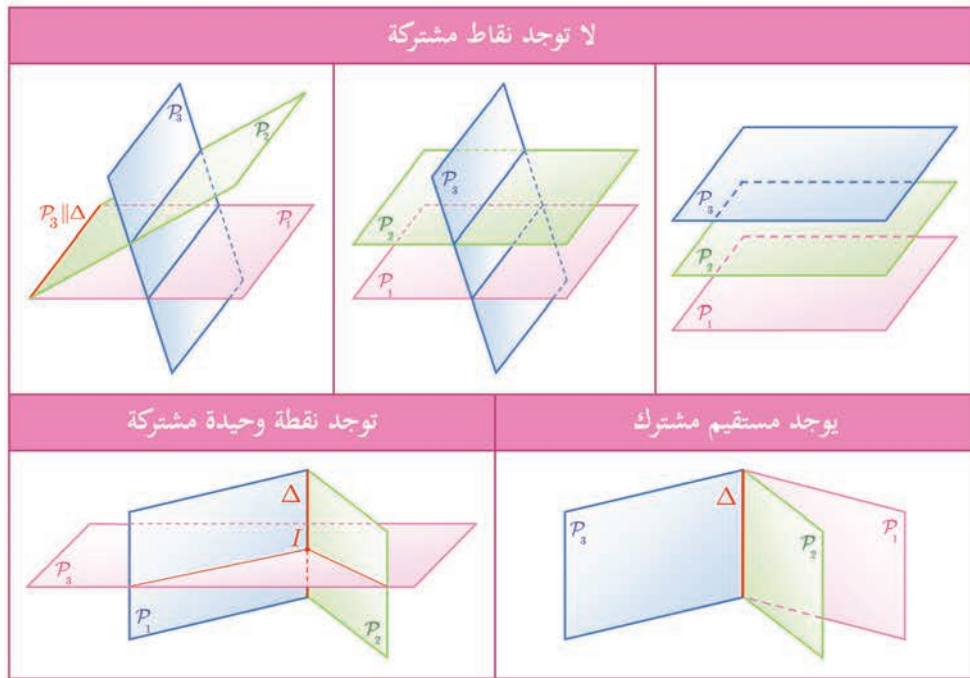
① $\mathcal{P}: x - y + z = 1$, $d: \begin{cases} x = 2t - 1 \\ y = t \\ z = 1 - 3t \end{cases}$ ② $\mathcal{P}: 2x + 3y - z = 0$, $d: \begin{cases} x = s + 1 \\ y = 2s + 1 \\ z = 8s - 3 \end{cases}$

4 تقاطع ثلاثة مستويات

نُعطى في هذه الفقرة جملة متجانسة $(O; \vec{i}, \vec{j}, \vec{k})$.

1.4. تقاطع ثلاثة مستويات

لنلاحظ أولاً أنه في حالة انطباق اثنين من المستويات الثلاثة تؤول مسألة التقاطع إلى تقاطع مستويين وقد درسناها في الفقرة السابقة. لذلك سنفترض فيما يأتي أن المستويات الثلاثة P_1 و P_2 و P_3 مختلفة مثنى مثنى. ولتعيين تقاطعها تأتي الفكرة دراسة التقاطع $P_1 \cap P_2$ أولاً، ثم تقاطع $P_1 \cap P_2$ مع P_3 بالاستفادة من دراستنا السابقة في حال كون $P_1 \cap P_2$ مستقيماً. نبيّن في ما يأتي الحالات المختلفة:



2.4. الترجمة الجبرية للمسألة

لتكن P_1 و P_2 و P_3 ثلاثة مستويات معادلاتها

$$P_1 : a_1x + b_1y + c_1z + d_1 = 0$$

$$P_2 : a_2x + b_2y + c_2z + d_2 = 0$$

$$P_3 : a_3x + b_3y + c_3z + d_3 = 0$$

تؤول دراسة تقاطع هذه المستويات إلى حلّ جملة ثلاث معادلات خطية بثلاثة مجاهيل:

$$(S) \begin{cases} a_1x + b_1y + c_1z + d_1 = 0 \\ a_2x + b_2y + c_2z + d_2 = 0 \\ a_3x + b_3y + c_3z + d_3 = 0 \end{cases}$$

نلخص فيما يأتي الحالات المختلفة:

مجموعة حلول الجملة (S)	تقاطع المستويات P_1 و P_2 و P_3
خالية	لا توجد نقاط مشتركة
حلٌ وحيد (x, y, z) يمثل إحداثيات النقطة I	نقطة مشتركة واحدة I
جميع الثلاثيات (x, y, z) التي تمثل حلول المعادلتين اللتين تعرفان Δ .	مستقيم Δ معرّف باثنتين من المعادلات الثلاث
جميع الثلاثيات (x, y, z) التي تحقق إحدى المعادلات.	المستوي (حالة $P_1 = P_2 = P_3$).

تكرساً للفهم 

أفيد التفسير الهندسي في حل بعض جمل المعادلات ؟ 

نعم، فهو يتيح معرفة سابقة لعدد حلول الجملة، مما يجعل التحقق من صحة الحل الجبري يسيراً.

مثال

يؤول حل الجملة

$$\begin{cases} x + y - 2z = -1 \\ 3x + y - z = -1 \\ -2x - 2y + 4z = 1 \end{cases}$$

إلى دراسة تقاطع المستويات الآتية: $P_1 : x + y - 2z + 1 = 0$ و $P_2 : 3x + y - z + 1 = 0$ و $P_3 : -2x - 2y + 4z - 1 = 0$ وهي تقبل بالترتيب الأشعة النازمة $\vec{n}_1(1, 1, -2)$ و $\vec{n}_2(3, 1, -1)$ و $\vec{n}_3(-2, -2, 4)$. ولكن $\vec{n}_3 = -2\vec{n}_1$ إذن \vec{n}_3 و \vec{n}_1 مرتبطان خطياً والمستويان P_3 و P_1 متوازيان. بالقسمة على -2 تأخذ معادلة المستوي P_3 الصيغة $x + y - 2z = -\frac{1}{2}$ ، وهذا يبرهن أن المستويين P_3 و P_1 غير منطبقين. إذن تقاطع المستويات P_1 و P_2 و P_3 مجموعة خالية، وليس للجملة المعطاة حلول.

تعيين تقاطع ثلاثة مستويات

مثال

نتأمل المستويات :

$$P_1 : -x + 2y + 3z - 5 = 0$$

$$P_2 : 3x - y - 4z + 5 = 0$$

$$P_3 : 2x + 3y - 2z + 2 = 0$$

أثبت أن هذه المستويات تتقاطع في نقطة واحدة يطلب تعيين إحداثياتها.

يتعلق الأمر بالبحث عن حل جبري للجملة

$$(S) \begin{cases} -x + 2y + 3z = 5 & (L_1) \\ 3x - y - 4z = -5 & (L_2) \\ 2x + 3y - 2z = -2 & (L_3) \end{cases}$$

لنتبع طريقة غاوس، لحذف x من المعادلتين الثانية والثالثة نجمع إلى (L_2) ثلاثة أمثال الأولى ونجمع إلى (L_3) مثلي الأولى :

$$(S) \rightsquigarrow \begin{cases} -x + 2y + 3z = 5 & (L_1) \\ 5y + 5z = 10 & (L_2 + 3L_1) \\ 7y + 4z = 8 & (L_3 + 2L_1) \end{cases} \rightsquigarrow \begin{cases} -x + 2y + 3z = 5 & (L_1) \\ y + z = 2 & (L'_2) \\ 7y + 4z = 8 & (L'_3) \end{cases}$$

ثم، لحذف y من المعادلة الأخيرة (L'_3) نطرح منها سبعة أمثال (L'_2) . فنجد

$$(S) \rightsquigarrow \begin{cases} -x + 2y + 3z = 5 & (L_1) \\ y + z = 2 & (L'_2) \\ -3z = -6 & (L'_3 - 7L'_2) \end{cases} \rightsquigarrow \begin{cases} -x + 2y + 3z = 5 & (L_1) \\ y + z = 2 & (L'_2) \\ z = 2 & (L''_3) \end{cases}$$

ومنه $y = 0$ و $x = 1$. فالجملة تقبل حلاً وحيداً $(x, y, z) = (1, 0, 2)$. والمستويات P_1 و P_2 و P_3 تتقاطع في نقطة واحدة هي $I(1, 0, 2)$.



نعطي في هذه الفقرة معلماً متجانساً $(O; \vec{i}, \vec{j}, \vec{k})$. في كل من الحالات الآتية نعطي معادلات ثلاثة مستويات، حلّ الجملة الخطية الموافقة وبيّن إذا كانت هذه المستويات تشترك في نقطة فقط، أو في مستقيم مشترك، أو لا تشترك بأيّة نقطة:

$$\begin{cases} P_1 : & x - 2y - 3z = 3 \\ P_2 : & 2x - y - 4z = 7 \\ P_3 : & 3x - 3y - 5z = 8 \end{cases} \quad \text{2} \quad \begin{cases} P_1 : & 5x + y + z = -5 \\ P_2 : & 2x + 13y - 7z = -1 \\ P_3 : & x - y + z = 1 \end{cases} \quad \text{1}$$

$$\begin{cases} P_1 : & 2x - y + 3z = 2 \\ P_2 : & x + 2y + z = 1 \\ P_3 : & 3x - 4y + 5z = 3 \end{cases} \quad \text{4} \quad \begin{cases} P_1 : & 2x - y + 3z = 0 \\ P_2 : & x + 2y + z = 0 \\ P_3 : & 3x - 4y + 5z = 0 \end{cases} \quad \text{3}$$

$$\begin{cases} P_1 : & x + y + z = 1 \\ P_2 : & x - 2y + z = 1 \\ P_3 : & 3x - 4y + 3z = -1 \end{cases} \quad \text{6} \quad \begin{cases} P_1 : & 2x - y + 3z = 2 \\ P_2 : & x + 2y + z = 1 \\ P_3 : & 3x - 4y + 5z = 4 \end{cases} \quad \text{5}$$

أفكار يجب تمثيلها



- المستقيم (AB) هو مجموعة مراكز الأبعاد المتناسبة للنقطتين A و B ، وبالعكس. وعندما $\overrightarrow{AM} = t\overrightarrow{AB}$ تكون M مركز الأبعاد المتناسبة للنقطتين $(A, 1-t)$ و (B, t) .
- القطعة المستقيمة $[AB]$ هي مجموعة مراكز الأبعاد المتناسبة للنقطتين A و B بعد تزويدهما بأمتال موجبة (أو لها الإشارة ذاتها).
- المستوي (ABC) هو مجموعة مراكز الأبعاد المتناسبة للنقاط A و B و C .
- داخل المثلث ABC هي مجموعة مراكز الأبعاد المتناسبة للنقاط A و B و C بعد تزويدها بأمتال موجبة تماماً (أو لها الإشارة ذاتها).
- القول إن النقطة $M(x, y, z)$ تقع على المستقيم d المارّ بالنقطة $A(x_0, y_0, z_0)$ والموجّه بالشعاع $\overrightarrow{AM} = t\vec{u}$ ، هذا يعبر تحليلاً عن المساواة
$$\begin{cases} x = at + x_0 \\ y = bt + y_0 \\ z = ct + z_0 \end{cases}, t \in \mathbb{R}$$
، يُكافئ القول $\vec{u}(a, b, c)$.
- كل قيمة للوسيط t تعين نقطة ونقطة واحدة فقط من المستقيم d .
- بعد تزويد الفضاء بمعلم متجانس، تؤول مسألة دراسة تقاطع مستقيم ومستو، أو تقاطع عدّة مستويات إلى حلّ جملة معادلات خطية.

منعكسات يجب امتلاكها



- لإثبات وقوع ثلاث نقاط على استقامة واحدة ففكر بإثبات أن إحداها مركز الأبعاد المتناسبة للنقطتين الأخرين.
- لإثبات وقوع أربع نقاط في مستو واحد ففكر بإثبات أن إحداها مركز الأبعاد المتناسبة للنقاط الأخرى.
- تذكر أن التمثيل الوسيط لمستقيم يعطي مباشرة شعاع توجيه له، وإحداثيات نقطة منه.

أخطاء يجب تجنبها

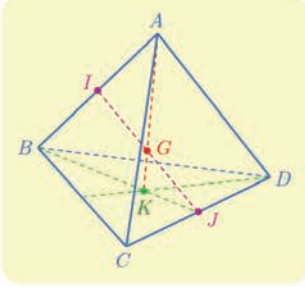


- المعادلة $ax + by + cz + d = 0$ ليست معادلة مستقيم في الفراغ بل هي معادلة مستو فيه.

أنشطة

نشاط 1 مستقيمتان متقاطعة في الفراغ

1 خواص عامة لخواص رباعي الوجوه



ليكن $ABCD$ رباعي وجوه ما. ولنكن G مركز الأبعاد المتناسبة لرؤوسه مزودة جميعها بالأمثال 1 ذاتها. وليكن K مركز ثقل المثلث BCD . وكذلك ليكن I و J منتصفي $[AB]$ و $[CD]$ بالترتيب.

① نسمى القطعة المستقيمة التي تصل الرأس بمركز ثقل الوجه المقابل **متوسطاً** في رباعي الوجوه. نهدف إلى إثبات تلاقي المتوسطات جميعها في نقطة واحدة هي النقطة G . ولهذا نسمي G مركز ثقل رباعي الوجوه.

a. استعمل الخاصّة التجميعيّة لتثبت أنّ G تقع على $[AK]$ وأنّ $AG = \frac{3}{4}AK$.

b. أثبت بالمثل أنّ G تقع على المتوسطات الثلاثة الأخرى.

② نهدف في هذا السؤال إلى إثبات أنّ القطع المستقيمة الواصلة بين منتصفات الأحرف المتقابلة في رباعي الوجوه تتلاقى أيضاً في G ، وأنّ G تقع في منتصف كل منها.

a. أثبت أنّ G هي مركز الأبعاد المتناسبة للنقطتين $(I, 2)$ و $(J, 2)$. واستنتج أنّ G تقع في منتصف $[IJ]$.

b. أثبت صحّة الخاصّة المشار إليها في ②.

2 مسألة مستقيمتان متقاطعة

ليكن $ABCD$ رباعي وجوه ما. ولنعرّف النقاط P و Q و R و S كما يأتي :

$$\overrightarrow{DS} = \frac{1}{4}\overrightarrow{DC} \text{ و } \overrightarrow{BR} = \frac{1}{5}\overrightarrow{BA} \text{ و } \overrightarrow{AQ} = \frac{3}{4}\overrightarrow{AD} \text{ و } \overrightarrow{BP} = \frac{1}{5}\overrightarrow{BC}$$

نريد إثبات تلاقي المستقيمين (PQ) و (RS) .

① a. أثبت أنّ P هو مركز الأبعاد المتناسبة للنقطتين $(B, 4)$ و $(C, 1)$. وأنّ Q هو مركز الأبعاد المتناسبة للنقطتين $(A, 1)$ و $(D, 3)$.

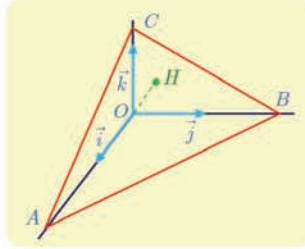
b. ليكن G مركز الأبعاد المتناسبة للنقاط $(A, 1)$ و $(B, 4)$ و $(C, 1)$ و $(D, 3)$. بين أنّ G تقع على المستقيم (PQ) .

② أثبت بأسلوب مماثل أنّ G تقع أيضاً على (RS) ، فالمستقيمان (PQ) و (RS) متقاطعان.

③ لتكن I منتصف $[AC]$. أثبت تلاقي المستقيمين (IG) و (BD) ، وعين نقطة تقاطعهما.

نشاط 2 بعد نقطة عن مستو

نتأمل في معلم متجانس $(O; \vec{i}, \vec{j}, \vec{k})$ النقاط $A(a, 0, 0)$ و $B(0, b, 0)$ و $C(0, 0, c)$ حيث a و b و c أعداد موجبة تماماً. نهدف إلى إثبات علاقة بين بُعد O عن المستوي (ABC) والمسافات OA و OB و OC .



①. أثبت أن $\frac{x}{a} + \frac{y}{b} + \frac{z}{c} = 1$ معادلة للمستوي (ABC) .

b. استنتج تمثيلاً وسيطياً للمستقيم Δ المار بالنقطة O عمودياً على المستوي (ABC) .

②. لتكن H نقطة تقاطع المستقيم Δ مع المستوي (ABC) .

a. احسب إحداثيات H بدلالة a و b و c .

b. تحقق أن H هي نقطة تلاقي ارتفاعات المثلث ABC .

c. نضع $h = OH$ أثبت أن $\frac{1}{h^2} = \frac{1}{a^2} + \frac{1}{b^2} + \frac{1}{c^2}$.



تمرينات ومسائل 🤖

1 ليكن $ABCD$ رباعي الوجوه. وليكن α عدداً حقيقياً، و I منتصف $[AB]$ و J منتصف $[CD]$. النقطتان E و F معرفتان بالعلاقتين $\overrightarrow{AE} = \alpha \overrightarrow{AD}$ و $\overrightarrow{BF} = \alpha \overrightarrow{BC}$. وأخيراً H هي منتصف $[EF]$.

① تحقق أن E هي مركز الأبعاد المتناسبة للنقطتين $(A, 1-\alpha)$ و (D, α) ، وكذلك أن النقطة F هي مركز الأبعاد المتناسبة للنقطتين $(B, 1-\alpha)$ و (C, α) .

② أثبت أن النقطة H هي مركز الأبعاد المتناسبة للنقاط $(A, 1-\alpha)$ و $(B, 1-\alpha)$ و (C, α) و (D, α) .

b. استنتج وقوع النقاط I و J و H على استقامة واحدة.

2 $ABCD$ رباعي وجوه. أثبت في كل من الحالتين الآتيتين أن النقاط M و B و C و D تقع

في مستو واحد، ثم وضح النقطة M .

$$\overrightarrow{MA} + \overrightarrow{MB} + \overrightarrow{MC} = \overrightarrow{DA} \quad ①$$

$$\overrightarrow{MB} + 2\overrightarrow{AD} = 2\overrightarrow{AM} - \overrightarrow{MC} \quad ②$$

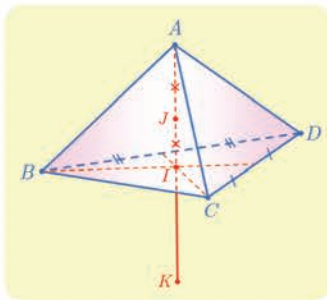
3 تُعطى معلماً متجانساً في الفراغ $(O; \vec{i}, \vec{j}, \vec{k})$. تُعطى النقطتين $A(1, 0, 0)$ و $B(4, 3, -3)$.

① أتكون مجموعة النقاط M مراكز الأبعاد المتناسبة للنقطتين $(A, 1-\alpha)$ و (B, α) عندما

تتحول α في \mathbb{R} ، هي نفسها المستقيم المارّ بالنقطة A وشعاع توجيهه $\vec{i} + \vec{j} - \vec{k}$ ؟

② أتكون مجموعة النقاط M مراكز الأبعاد المتناسبة للنقاط $(A, 1-x-y)$ و (B, x) و (O, y)

عندما تتحول x و y في \mathbb{R} ، هي نفسها المستوي المارّ بالنقطة O ويقبل $\vec{i} + \vec{j} - \vec{k}$ وشعاعي توجيهه؟



4 ليكن $ABCD$ رباعي الوجوه. وليكن I مركز ثقل المثلث

BCD ، و J منتصف $[AI]$ و K نظيرة A بالنسبة إلى I . عبّر

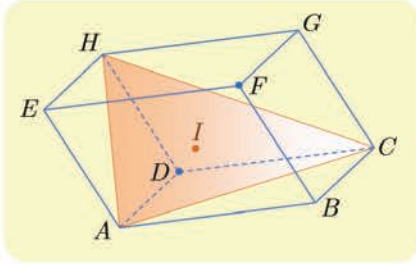
عن J و K بصفتيها مراكز الأبعاد المتناسبة للنقاط A و B

و C و D بعد تزويدها بأمثال مناسبة.



لنتعلم البحث معاً

5 الوقوع على استقامة واحدة



ليكن $ABCDEFGH$ متوازي سطوح، وليكن I مركز ثقل المثلث AHC . أثبت أن النقاط D و I و F تقع على استقامة واحدة. وعيّن موقع I على $[DF]$.

نحو الحل

الفكرة الأولى التي تخطر لنا هي محاولة إيجاد ثابت k يحقق $\vec{DI} = k\vec{DF}$ ، يبدو هذا صعباً للوهلة الأولى، ومنه تأتي الفكرة المعتادة القائمة على تحليل أحد هذه الأشعة أو جميعها والاستفادة من علاقة شال. أثبت انطلاقاً من تعريف I أن $3\vec{DI} = \vec{DA} + \vec{DC} + \vec{DH}$.

ولكن $ABCDEFGH$ متوازي سطوح. استند من ذلك لتبرهن أن

$$\vec{DA} + \vec{DC} + \vec{DH} = \vec{DF}$$

أنجز الحل واكتبه بلغة سليمة.

طريقة ثانية :

يمكننا أيضاً التفكير بطريقة تحليلية. لإثبات الوقوع على استقامة واحدة لا نحتاج إلى معلم متجانس. لذلك نتأمل المعلم $(D; \vec{DA}, \vec{DC}, \vec{DH})$.

1. أعط تمثيلاً وسيطياً للمستقيم (DF) .

2. احسب إحداثيات النقطة I .

3. تحقق أن I تقع على المستقيم (DF) وعيّن قيمة t التي تحقق $\vec{DI} = t\vec{DF}$.

أنجز الحل واكتبه بلغة سليمة.

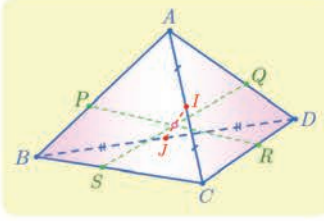
6 تعيين نقطة تلاقي مستقيمتين

نتأمل رباعي وجوه $ABCD$. لتكن x من $]0,1[$ ، ولتكن P و Q و R و S النقاط التي تحقق

$$\begin{aligned} \vec{AP} &= x\vec{AB}, & \vec{AQ} &= x\vec{AD} \\ \vec{CR} &= x\vec{CD}, & \vec{CS} &= x\vec{CB} \end{aligned}$$

النقطتان I و J هما منتصفا الحرفين $[AC]$ و $[BD]$. أثبت تلاقي المستقيمتين (IJ) و (PR) و (QS) في نقطة واحدة.

نحو الحل



نعرف فعالية الخاصة التجميعية في حل مسائل التلاقي، وفرضيات مثل $\overrightarrow{AP} = x\overrightarrow{AB}$ تعني أن P هي مركز أبعاد متناسبة للنقطتين A و B .

1. بين أن P هي مركز الأبعاد المتناسبة للنقطتين $(A, 1-x)$ و (B, x) .
 2. عبّر بالمثل عن النقاط Q و R و S .
- تأمل إذن النقطة G مركز الأبعاد المتناسبة للنقاط $(A, 1-x)$ و $(C, 1-x)$ و (B, x) و (D, x) .
1. أثبت استناداً إلى الخاصة التجميعية أن G تقع على كل من القطع المستقيمة $[PR]$ و $[QS]$ و $[IJ]$.
 2. ماذا تستنتج؟

أنجز الحل وكتبه بلغة سليمة.



قُدماً إلى الأمام

7. نتأمل رباعي وجوه $ABCD$. K نقطة من $[AB]$ تحقق $AK = \frac{1}{3}AB$ ، و L نقطة من القطعة المستقيمة $[CD]$ تحقق $CL = \frac{2}{3}CD$. وأخيراً I هي منتصف $[AD]$ ، و J هي منتصف $[BC]$. نعرّف G مركز الأبعاد المتناسبة للنقاط $(A, 2)$ و $(B, 1)$ و $(C, 1)$ و $(D, 2)$.
 1. أثبت أن النقاط G و I و J تقع على استقامة واحدة.
 2. أثبت أن النقاط G و K و L تقع على استقامة واحدة.
 3. استنتج وقوع النقاط I و J و K و L في مستوٍ واحد.

8. نتأمل رباعي وجوه $ABCD$. والنقاط P و Q و R هي نقاط تجعل $ABPC$ و $ABQD$ و $ACRD$ متوازيات أضلاع. نهدف إلى إثبات تلاقي المستقيمات (DP) و (CQ) و (BR) .
 1. أثبت أن النقطة P هي مركز الأبعاد المتناسبة للنقاط $(A, -1)$ و $(B, 1)$ و $(C, 1)$.
 2. عبّر بالمثل عن Q بصفتها مركز أبعاد متناسبة للنقاط A و B و D . وكذلك، عبّر عن R بصفتها مركز أبعاد متناسبة للنقاط A و C و D .
 3. بالاستفادة من نقطة I ، وهي مركز أبعاد متناسبة مُختارة للنقاط A و B و C و D ، ومن الخاصة التجميعية، أثبت تلاقي المستقيمات (DP) و (CQ) و (BR) ، وعيّن موقع I على هذه المستقيمات.

9

نتأمل ثلاث نقاط A و B و C من الفراغ، وعددًا حقيقيًا k من المجال $[-1,1]$. ترمز G_k إلى مركز الأبعاد المتناسبة للنقاط $(A, k^2 + 1)$ و (B, k) و $(C, -k)$.

① مثل النقاط A و B و C و I منتصف القطعة المستقيمة $[BC]$ ، وأنشئ النقطتين G_1 و G_{-1} .

② a . أثبت أنه مهما كان العدد k من $[-1,1]$ كان $\overrightarrow{AG_k} = -\frac{k}{1+k^2} \overrightarrow{BC}$.

b . ادرس تغيرات التابع f المعرّف على المجال $[-1,1]$ بالصيغة $f(x) = -\frac{x}{1+x^2}$.

c . استنتج مجموعة النقاط G_k عندما تتحوّل k في المجال $[-1,1]$.

③ عيّن المجموعة \mathcal{E} المكوّنة من النقاط M التي تحقّق

$$\|2\overrightarrow{MA} + \overrightarrow{MB} - \overrightarrow{MC}\| = \|2\overrightarrow{MA} - \overrightarrow{MB} + \overrightarrow{MC}\|$$

④ عيّن المجموعة \mathcal{F} المكوّنة من النقاط M التي تحقّق

$$\|2\overrightarrow{MA} + \overrightarrow{MB} - \overrightarrow{MC}\| = \|2\overrightarrow{MA} - \overrightarrow{MB} - \overrightarrow{MC}\|$$

⑤ نزودّ الفضاء بمعلم متجانس $(O; \vec{i}, \vec{j}, \vec{k})$. ونفترض أنّ النقاط A و B و C معطاة كما يأتي:

$A(0, 0, 2)$ و $B(-1, 2, 1)$ و $C(-1, 2, 5)$ ، وأنّ G_k و \mathcal{E} و \mathcal{F} معرفة كما في السابق.

a . احسب إحداثيات النقطتين G_1 و G_{-1} ، وأثبت أنّ المجموعتين \mathcal{E} و \mathcal{F} متقاطعتان.

b . احسب نصف قطر الدائرة Γ الناتجة من تقاطع المجموعتين \mathcal{E} و \mathcal{F} .

10

نتأمل معلماً متجانساً $(O; \overrightarrow{OA}, \overrightarrow{OB}, \overrightarrow{OC})$. ليكن G مركز ثقل المثلث ABC .

① احسب إحداثيات G ، وتحقّق أنّ (OG) عمودي على (ABC) .

② تعرّف النقاط $A'(2, 0, 0)$ و $B'(0, 2, 0)$ و $C'(0, 0, 3)$ المستوي $(A'B'C')$.

a . اكتب معادلة للمستوي $(A'B'C')$.

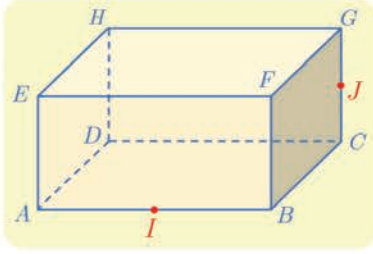
b . أثبت أنّ $M(x, y, z)$ تنتمي إلى المستقيم (AC) إذا وجد عدد k بحيث $\begin{cases} x = 1 - k \\ y = 0 \\ z = k \end{cases}$.

c . احسب إحداثيات النقطة K المشتركة بين المستقيم (AC) والمستوي $(A'B'C')$.

③ a . احسب إحداثيات النقطة L المشتركة بين المستقيم (BC) والمستوي $(A'B'C')$.

b . أثبت توازي المستقيمتين (AB) و $(A'B')$ و (KL) .

④ عيّن تقاطع المستويين (ABC) و $(A'B'C')$ بدلالة النقاط المعرّفة سابقاً.



11

ليكن $ABCDEFGH$ متوازي مستطيلات فيه $AB = 2$ و $BC = GC = 1$. النقطة I هي منتصف $[AB]$ و J هي منتصف $[CG]$.

نتأمل المعلم المتجانس $(A; \frac{1}{2}\overrightarrow{AB}, \overrightarrow{AD}, \overrightarrow{AE})$.

- ① احسب المسافتين DJ و IJ .
- ② أثبت أن المستقيمين (DI) و (IJ) متعامدان. واحسب $\cos \widehat{IJD}$.
- ③ أعط معادلة للمستوي (DIJ) .
- ④ احسب بُعد H عن المستوي (DIJ) .
- ④ احسب حجم رباعي الوجوه $HDIJ$.
- ⑤ أعط تمثيلاً وسيطياً للمستقيم d المار بالنقطة J عمودياً على المستوي (HDI) .
- ⑥ احسب إحداثيات النقطة J' نقطة تقاطع المستقيم d والمستوي (HDI) .
- ⑦ جد بطرائق مختلفة بُعد النقطة J عن المستوي (HDI) .

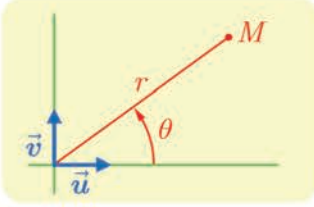
12

في معلم متجانس $(O; \vec{i}, \vec{j}, \vec{k})$ ، نتأمل الهرم $S-OABC$ حيث $\overrightarrow{OA} = \vec{i}$ و $\overrightarrow{OB} = \vec{i} + \vec{j}$ و $\overrightarrow{OC} = \vec{j}$ و $\overrightarrow{OS} = \vec{k}$. وليكن t عدداً يحقق $0 < t < 1$. نهدف إلى تعيين مقطع الهرم بالمستوي \mathcal{P} الذي معادلته $x + y = t$ ، وتعيين قيمة t التي تجعل مساحة المقطع أعظمية.

- ① a يقطع المستوي \mathcal{P} المستقيمات (OA) و (OC) و (SC) و (SB) و (SA) في D و E و F و G و H بالترتيب. ارسم شكلاً وبيّن طبيعة هذا المقطع.
- ② b أثبت أن الرباعي $DEFH$ مستطيل، وعبر عن مساحته بدلالة t .
- ③ c احسب إحداثيات النقطة G ، ثم مساحة المثلث FGH بدلالة t .
- ④ d استنتج عبارة $A(t)$ مساحة المقطع المنشود بدلالة t .
- ⑤ ادرس اطراد A على المجال $]0, 1[$ ، واستنتج قيمة t التي تجعل مساحة المقطع أعظمية.
- ⑥ استنتج أن المستوي المار بمركز ثقل المثلث OAC ويقبل \overrightarrow{AC} و \overrightarrow{OS} شعاعي توجيهه يوافق مقطعاً أعظمي المساحة.

4 الأعداد العقدية

انطلاقة نشطة

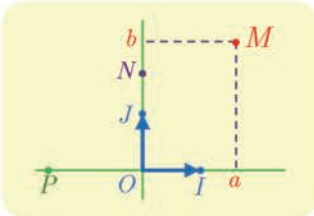


لنتأمل معلماً متجانساً $(O; \vec{u}, \vec{v})$ في المستوي. إذا كانت M نقطة مختلفة عن O أمكننا تعيين موقع M بواسطة بُعد M عن O : $r = OM$ والزاوية $\theta = (\vec{u}, \overrightarrow{OM})$. في حالة نقطة M مختلفة عن O نسمي الزوج (r, θ) الذي يحقق $r = OM$ و $\theta = (\vec{u}, \overrightarrow{OM})$ زوجاً من الإحداثيات القطبية للنقطة M . ونعبر عن ذلك بالكتابة $M(r; \theta)$. وإذا كانت الإحداثيات الديكارتية للنقطة M هي (x, y) كان:

$$r = \sqrt{x^2 + y^2}, \quad x = r \cos \theta, \quad y = r \sin \theta$$

لن نستعرض إنشاءً دقيقاً من وجهة نظر الرياضيات لمجموعة الأعداد العقدية التي يُرمز إليها عادة بالرمز \mathbb{C} . ولكننا سنعمد مقارنة قريبة من مقارنة غاوس الذي كتب في رسالة تعود إلى عام 1811 ما يأتي: مثلما يمكننا تمثيل مجموعة الأعداد الحقيقية بواسطة خط مستقيم...، كذلك يمكننا أن نتخيل الأعداد الحقيقية والتخيلية ممثلة بواسطة مستوي حيث توافق كل نقطة محددة بفاصلتها a وترتيبها b العدد العقدي $a + ib$ ، ويقترن اسم الرياضياتي السويسري أرجان Argand الذي عاش في الفترة 1768-1822 بهذا التمثيل للأعداد العقدية.

1 التمثيل



نتأمل معلماً متجانساً $(O; \overrightarrow{OI}, \overrightarrow{OJ})$. نقبل أن محور الفواصل يمثل مجموعة الأعداد الحقيقية \mathbb{R} ، وعليه يُمثل العدد الحقيقي x بالنقطة $P(x, 0)$. ونصطلح أن كل نقطة أخرى في المستوي هي أيضاً عدد، ولكنه ليس عدداً حقيقياً معتاداً بل **عدد عقدي**.

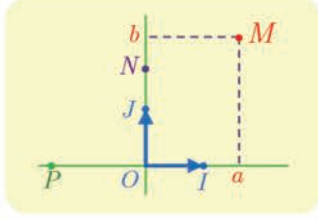
① نصطلح أن النقطة $J(0, 1)$ تمثل العدد العقدي الذي يُرمز إليه بالرمز i . وأن النقطة $N(0, y)$ تمثل العدد iy (أو $i \times y$) لاحظ أن $\overrightarrow{ON} = y\overrightarrow{OJ}$.

■ وضع النقاط N_1 و N_2 و N_3 التي تمثل الأعداد $y_1 = i \times 3$ و $y_2 = i \times 0$ و $y_3 = i \times (-1)$

ثم اكتب إحداثيات كل منها.

■ ما هي الأعداد التي تمثلها النقاط $N_4(0, 5)$ و $N_5(0, -2)$ ؟

② نصلح أن النقطة $M(a, b)$ تمثل العدد العقدي $a + ib$ ، الذي هو مجموع العدد الحقيقي a والعدد العقدي ib . لاحظ أن $\vec{OM} = a\vec{OI} + b\vec{OJ}$.



■ وضع النقاط M_1 و M_2 و M_3 التي تمثل الأعداد

$$z_3 = 5 + i \times (-2) \text{ و } z_2 = -1 + i \times 4 \text{ و } z_1 = 2 + i \times 3$$

ثم اكتب إحداثيات كل منها.

■ ما هي الأعداد العقدية التي تمثلها النقاط $M_4(1, 2)$ و $M_5(-3, 2, 4)$ ؟

الخلاصة: تمثل كل نقطة $M(a, b)$ العدد العقدي $a + ib$. ويمثل كل عدد عقدي



$z = a + ib$ بنقطة M إحداثياتها (a, b) .

② الحساب باستعمال هذه الأعداد الجديدة

تجري الحسابات على الأعداد العقدية بأسلوب الأعداد الحقيقية ذاته مع إضافة واحدة هي أننا عند حساب i^2 نضع -1 . فمثلاً

$$(3 + 2i) + (5 - 3i) = 8 - i$$

$$\begin{aligned} (3 + 2i) \cdot (5 - 3i) &= 15 - 9i + 10i - 6i^2 \\ &= 15 + i - 6 \times (-1) \\ &= 21 + i \end{aligned}$$

■ احسب المقادير الآتية :

$$B = (-2 + 7i) - (4 - 3i), \quad A = (-2 + 7i) + (4 - 3i)$$

$$D = (3 + 4i)(3 - 4i), \quad C = (-2 + 7i)(4 - 3i)$$

■ احسب أيضاً :

$$B = (1 - i)^2, \quad A = 2i(3 + 4i)$$

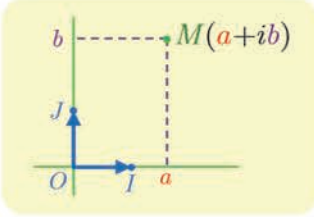
$$D = (-1 + \sqrt{3}i)^3, \quad C = i^3$$

■ احسب بوجه عام $(a + ib)(a' + ib')$ حيث a و a' و b و b' هي أعداد حقيقية.

1 مجموعة الأعداد العقدية

نتأمل معلماً متجانساً $(O; \vec{OI}, \vec{OJ})$ في المستوي.

1.1 الشكل الجبري للعدد العقدي



نصطلح أن كل نقطة من المستوي تمثل عدداً، نسميه **عدداً عقدياً**، واحداً فقط. تمثل النقطة $J(0,1)$ العدد العقدي الذي يُرمز إليه i ، وكل نقطة $M(a,b)$ تمثل العدد العقدي $z = a + ib$ ، وعندها نقول إن النقطة M هي **صورة** العدد العقدي z . نرمز إلى مجموعة الأعداد العقدية بالرمز \mathbb{C} .

كل عدد حقيقي x هو أيضاً عدد عقدي لأن $x = x + i \times 0$ ، ويسمى كل عدد عقدي من النمط ib (حيث b عدد حقيقي) عدداً تخيلاً بحتاً. وهكذا يمثل محور الفواصل مجموعة الأعداد الحقيقية، ويمثل محور الترتيب مجموعة الأعداد التخيلية البحتة.

تعريف 1

تسمى الكتابة $z = a + ib$ حيث a و b عدنان حقيقيان، **الشكل الجبري** للعدد العقدي z .

- نسمي a **الجزء الحقيقي** للعدد العقدي z ونكتب $a = \text{Re}(z)$.
- ونسمي b **الجزء التخيلي** للعدد العقدي z ونكتب $b = \text{Im}(z)$.
- القول إن z حقيقي يعني أن $\text{Im}(z) = 0$.
- والقول إن z تخيلي بحت يعني أن $\text{Re}(z) = 0$.
- نسمي **طويلة العدد العقدي** z المقدار $|z| = \sqrt{a^2 + b^2}$ وهو يمثل الطول OM بُعد النقطة $M(a,b)$ عن المبدأ O .
- وأخيراً يتساوى عدنان عقديان إذا مثلاً النقطة ذاتها في المستوي أي $a + ib = a' + ib'$ إذا وفقط إذا كان $(a = a' \text{ و } b = b')$.

2.1 قواعد الحساب في \mathbb{C}

- نصطلح أن $i \times i = i^2 = -1$.
- نزود مجموعة الأعداد العقدية \mathbb{C} بعمليتين: الجمع والضرب، لهما خواص العمليات المماثلة في \mathbb{R} ، فقط نستبدل -1 بالمقدار $i^2 = i \times i$ عند ظهوره في الحسابات.

▪ وعليه في حالة عددين عقديين z و z' يُكتبان بالشكل الجبري كما يأتي $z = a + ib$

$$z' = a' + ib' \text{ لدينا}$$

$$z + z' = (a + ib) + (a' + ib') = (a + a') + i(b + b')$$

$$zz' = (a + ib)(a' + ib') = aa' - bb' + i(ab' + ba')$$

▪ استناداً إلى قواعد الحساب المشار إليها أعلاه، في حالة عددين حقيقيين a و b يكون

$$(a + ib)(a - ib) = a^2 - iab + iab - i^2b^2 = a^2 + b^2$$



من المفيد ملاحظة أن

$$\text{Re}(z + z') = \text{Re}(z) + \text{Re}(z') \text{ و } \text{Im}(z + z') = \text{Im}(z) + \text{Im}(z')$$

ولكن من **الخطأ** الاعتقاد أن الجزء الحقيقي لجداء ضرب يساوي جداء ضرب الجزئين الحقيقيين مثلاً كما توضح ذلك قاعدة الضرب.

تكريساً للفهم

؟ ما الشرط لتكون الكتابة $a + ib$ شكلاً جبرياً لعدد عقدي ؟

يجب أن يكون a و b عددين حقيقيين. لأنهما في الحقيقة فاصلة وترتيب النقطة M التي يمثلها هذا العدد العقدي.

؟ لماذا نستعمل الرمز $|z|$ للدلالة على طول العدد العقدي z ؟

لأن هذا المفهوم يُعمم مفهوم القيمة المطلقة لعدد حقيقي، فكل عدد حقيقي a يُكتب بالشكل $a = a + i \times 0$ ، ومن ثم تكون طويلته $\sqrt{a^2}$ ، وهي كما نعلم تساوي القيمة المطلقة للعدد a . إذن القيمة المطلقة لعدد حقيقي تساوي طويلته إذا نظرنا إليه بصفته عدداً عقدياً.

؟ ما عكس عدد عقدي ؟

إن عكس العدد العقدي $z = a + ib$ هو $-z = -a - ib$ لأن $(a + ib) + (-a - ib) = 0$. وهندسياً النقطة M' الموافقة للعدد $-z$ هي نظيرة النقطة M (الموافقة للعدد z) بالنسبة إلى المبدأ O .

؟ ما مقلوب عدد عقدي غير معدوم ؟

إن مقلوب العدد العقدي $z = a + ib$ حيث $z \neq 0$ هو العدد $\frac{1}{z} = \frac{1}{a + ib}$ ولكن هذا العدد ليس موضوعاً بالشكل الجبري المألوف لذلك نضرب البسط والمقام بالعدد $a - ib$ ، مستفيدين من

الخاصة التي رأيناها سابقاً: $(a + ib)(a - ib) = a^2 + b^2$. لنجد

$$\frac{1}{z} = \frac{a - ib}{a^2 + b^2} = \frac{a}{a^2 + b^2} + i \frac{-b}{a^2 + b^2}$$

نضع $z_1 = 3 + 2i$ و $z_2 = 2 - i$. اكتب بالشكل الجبري كلاً من الأعداد العقدية الآتية:

$$z_1 + z_2 \text{ و } z_1 z_2 \text{ و } \frac{1}{z_1} \text{ و } \frac{1}{z_2}$$

الحل

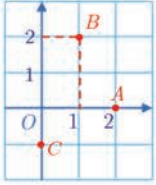
- نلاحظ أولاً أن $z_1 + z_2 = (3 + 2i) + (2 - i) = 5 + i$
- وكذلك $z_1 z_2 = (3 + 2i)(2 - i) = 6 - 3i + 4i - 2i^2 = 8 + i$
- العدد العقدي z_1 غير معدوم إذن له مقلوب ولدينا

$$\frac{1}{z_1} = \frac{1}{3 + 2i} = \frac{3 - 2i}{9 + 4} = \frac{3}{13} - \frac{2}{13}i$$

- ونجد بالمثل أن

$$\frac{1}{z_2} = \frac{1}{2 - i} = \frac{2 + i}{5} = \frac{2}{5} + \frac{1}{5}i$$

تدريب



- ① ليكن x عدداً عقدياً تمثله نقطة M في المستوي. وليكن $z_1 = 2 + xi$ و $z_2 = 3 + x + 4i$. اكتب بالشكل الجبري في حالة $M = A$ أو $M = B$ أو $M = C$ ، حيث A و B و C مبيّنة في الشكل المجاور.

- ② في حالة عدد عقدي z نضع $P(z) = z^3 - (1 - i)z^2 - (4 - 5i)z + (4 + 6i)$. احسب كلاً من $P(i)$ و $P(-2)$ و $P(3 - 2i)$.

- ③ بسّط العبارتين:

$$z = \frac{\sqrt{2} + i}{\sqrt{2} - i} + \frac{\sqrt{2} - i}{\sqrt{2} + i} \quad \text{①} \quad \text{و} \quad w = (1 + i)^8 \quad \text{②}$$

- ④ أعط الشكل الجبري للأعداد العقدية الآتية:

$$z_2 = (1 + i)^2 \quad \text{②} \quad z_1 = (2 + i)(3 - 2i) \quad \text{①}$$

$$z_4 = (1 + 2i)(1 - 2i) \quad \text{④} \quad z_3 = (1 - i)^2 \quad \text{③}$$

$$z_6 = (4 - 3i)^2 \quad \text{⑥} \quad z_5 = (3 + i\sqrt{5})(3 - i\sqrt{5}) \quad \text{⑤}$$

$$z_8 = \frac{1}{2 - i} \quad \text{⑧} \quad z_7 = \frac{4 - 6i}{3 + 2i} \quad \text{⑦}$$

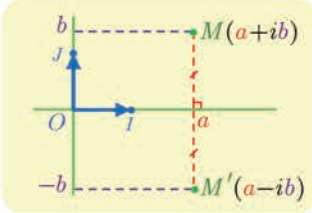
$$z_{10} = \left(\frac{4 - 6i}{2 - 3i} \right) \left(\frac{1 + 3i}{3 + 2i} \right) \quad \text{⑩} \quad z_9 = \frac{3 - 6i}{3 + i} + \frac{4}{3 - i} \quad \text{⑨}$$

مرافق عدد عقدي

2

1.2. التعريف

تعريفه 2



إن مرافق العدد العقدي $z = a + ib$ حيث a و b حقيقيان، هو العدد العقدي $a - ib$ الذي نرمز إليه \bar{z} .

لاحظ أن النقطة M' الموافقة للعدد العقدي $\bar{z} = a - ib$ هي نظيرة النقطة M الموافقة للعدد العقدي $z = a + ib$ بالنسبة إلى محور الفواصل. ونلاحظ أن $|z| = |\bar{z}|$ لأن $OM = OM'$.

فمثلاً في حالة $z_1 = 1 + i$ و $z_2 = 3$ و $z_3 = -2i$ لدينا $\bar{z}_1 = 1 - i$ و $\bar{z}_2 = 3$ و $\bar{z}_3 = 2i$.

2.2. نتائج مباشرة

- إن مرافق العدد العقدي \bar{z} هو العدد العقدي z ذاته $\overline{(\bar{z})} = z$.
- إذا كان $z = a + ib$ و a و b عدنان حقيقيان كان $z + \bar{z} = 2a$ و $z - \bar{z} = 2ib$ إذن
- $\text{Re}(z) = \frac{z + \bar{z}}{2}$ و $\text{Im}(z) = \frac{z - \bar{z}}{2i}$
- نستنتج مما سبق أن العدد العقدي z يكون حقيقياً إذا وفقط إذا كان $\bar{z} = z$ ، وأنه يكون تخيلياً بحتاً إذا وفقط إذا كان $\bar{z} = -z$.
- وأخيراً لأن $z\bar{z} = (a + ib)(a - ib) = a^2 + b^2 = |z|^2$ استنتجنا العلاقة الأساسية:

$$z\bar{z} = |z|^2$$

مبرهنة 1

- 1 إن مرافق مجموع عددين عقديين يساوي مجموع مرافقيهما : $\overline{z + w} = \bar{z} + \bar{w}$.
- 2 إن مرافق جداء عددين عقديين يساوي جداء مرافقيهما : $\overline{zw} = \bar{z} \times \bar{w}$.
- 3 إن مرافق خارج قسمة عددين عقديين يساوي خارج قسمة مرافقيهما : $\overline{\left(\frac{z}{w}\right)} = \frac{\bar{z}}{\bar{w}}$ ، $w \neq 0$.

الإثبات

1 لنفترض أن $z = a + ib$ و $w = c + id$ عندئذ $z + w = a + c + i(b + d)$ ومن ثم

$$\overline{z + w} = a + c - i(b + d) = a - ib + c - id = \bar{z} + \bar{w}$$

ونترك للقارئ إثبات صحة الخاصتين 2 و 3 بالمثل.

ملاحظة : يمكن تعميم الخواص السابقة دون عناء على مجموع n عدداً عقدياً أو جداء ضرب n عدداً عقدياً. وبوجه خاص لدينا، في حالة عدد طبيعي غير معدوم n :

$$\overline{(z^n)} = (\bar{z})^n$$

تكرساً للفهم 

? ما الفائدة من استعمال مرافق عدد عقدي ؟

- إنه يفيد في حساب الشكل الجبري لخارج قسمة بسبب كون العدد $z\bar{z}$ عدداً حقيقياً.
- ويفيد في إعطاء شرط لازم وكاف ليكون عدد عقدي ما حقيقياً أو تخيلياً بحتاً.

مثال حساب الشكل الجبري لخارج قسمة

اكتب بالشكل الجبري كلاً من الأعداد العقدية الآتية:

$$z_2 = \frac{1}{2+i} - \frac{1}{3-i} \quad \text{و} \quad z_1 = \frac{2-i}{3+2i}$$

لحساب الشكل الجبري لخارج قسمة نضرب كلاً من البسط والمقام بمرافق المقام.



الحل

▪ لما كان مرافق $3+2i$ يساوي $3-2i$ استنتجنا أن

$$z_1 = \frac{(2-i)(3-2i)}{(3+2i)(3-2i)} = \frac{4-7i}{9+4} = \frac{4}{13} - \frac{7}{13}i$$

▪ وكذلك في الحالة الثانية :

$$\begin{aligned} z_2 &= \frac{2-i}{(2+i)(2-i)} - \frac{3+i}{(3-i)(3+i)} \\ &= \frac{2-i}{4+1} - \frac{3+i}{9+1} = \frac{4-2i}{10} - \frac{3+i}{10} = \frac{1}{10} - \frac{3}{10}i \end{aligned}$$

تَدْرِبْ 

① اكتب بدلالة \bar{z} مرافق كل من الأعداد العقدية الآتية:

$$Z = \frac{3z^2 - 2iz + 4}{2z - 3i} \quad \text{②} \quad Z = (z-1)(z+i) \quad \text{①}$$

$$Z = (1+2iz)^3 \quad \text{④} \quad Z = z^3 + 2iz^2 + 1 - 3i \quad \text{③}$$

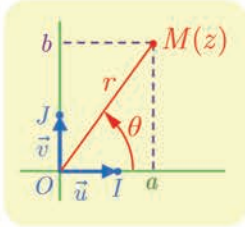
② حلّ كلاً من المعادلات الآتية بالمجهول z :

$$2iz + \bar{z} = 3 + 3i \quad \text{②} \quad z - 2\bar{z} = 2 \quad \text{①}$$

$$\frac{\bar{z}-1}{\bar{z}+1} = i \quad \text{④} \quad 2\bar{z} = i - 1 \quad \text{③}$$

3 الشكل المثلثي لعدد عقدي

في هذه الفقرة وفي الفقرات اللاحقة نزود المستوي بمعلم متجانس $(O; \vec{u}, \vec{v})$ ، حيث $\vec{OI} = \vec{u}$ و $\vec{OJ} = \vec{v}$.



سنقرن بكل نقطة $M(a, b)$ العدد العقدي $z = a + ib$. ولكن إذا كانت M مختلفة عن O كان للنقطة M إحداثيات قطبية $(r; \theta)$ ، حيث $r = OM = \sqrt{a^2 + b^2}$ و $\theta = (\vec{OI}, \vec{OM})$.

نستنتج إذن أن $a = r \cos \theta$ و $b = r \sin \theta$ ، ومن ثم

$$z = r(\cos \theta + i \sin \theta)$$

تعريف 3

ليكن z عدداً عقدياً غير معدوم، $z = a + ib$ حيث a و b عدداً حقيقيان أحدهما على الأقل غير معدوم.

- نسمي **زاوية للعدد العقدي** z ، ونرمزها $\arg z$ ، أي قياس بالراديان للزاوية (\vec{OI}, \vec{OM}) .
- نسمي الصيغة $z = r(\cos \theta + i \sin \theta)$ الشكل المثلثي للعدد العقدي z حيث $r = |z|$ و $\arg z = \theta$ (2π)¹.



انطلاقاً من $z = r(\cos \theta + i \sin \theta)$ نلاحظ أن

$$\begin{aligned} \bar{z} &= r(\cos \theta - i \sin \theta) = r(\cos(-\theta) + i \sin(-\theta)) \\ -z &= r(-\cos \theta - i \sin \theta) = r(\cos(\theta + \pi) + i \sin(\theta + \pi)) \end{aligned}$$

إذن

$$\arg(-z) = \pi + \arg z \quad \text{و} \quad \arg \bar{z} = -\arg z$$

نتيجة 3

في حالة عدد عقدي z شكله الجبري $a + ib$ وشكله المثلثي $r(\cos \theta + i \sin \theta)$:

- عند معرفة r و θ يكون $a = r \cos \theta$ و $b = r \sin \theta$.
- عند معرفة a و b يكون $r = |z| = \sqrt{a^2 + b^2}$ و θ هي معرفة بالشرطين

$$\cos \theta = \frac{a}{r} \quad \text{و} \quad \sin \theta = \frac{b}{r}$$

¹ تذكر أن الكتابة $\theta = \varphi$ (2π) تعني أن $\theta = \varphi + 2\pi k$ حيث k عدد من \mathbb{Z} .

- إذا كان $z = 1 - i$ كان $r = \sqrt{2}$ و $\cos \theta = \frac{1}{\sqrt{2}}$ و $\sin \theta = -\frac{1}{\sqrt{2}}$. إذن يمكن أن نختار $\theta = -\frac{\pi}{4}$ زاوية للعدد العقدي z . إذن $z = \sqrt{2} \left(\cos\left(-\frac{\pi}{4}\right) + i \sin\left(-\frac{\pi}{4}\right) \right)$.
- إذا كان $z = 2 \left(\cos\left(\frac{5\pi}{6}\right) + i \sin\left(\frac{5\pi}{6}\right) \right)$ كان $z = -\sqrt{3} + i$.



إذا تساوى العددين $z = r(\cos \theta + i \sin \theta)$ و $z' = r'(\cos \theta' + i \sin \theta')$ وهما مكتوبان بشكلهما المثلثي كان $r = r'$ و $\theta = \theta' + 2\pi$ ، لماذا؟

تكريباً للفهم

ما فائدة الشكل المثلثي لعدد عقدي؟

- تفيد هذه الصيغة بتوضيح الصلة مع المعنى الهندسي للعدد العقدي، عن طريق تفسير الطويلة بدلالة البعد عن المبدأ والزاوية باعتبارها قياساً لزاوية موجهة بين أشعة.
- وهي كما سنرى مفيدة في إيجاد طريقة فعالة جداً لحساب جداء ضرب الأعداد العقدية، وقواها.

متى لا تُمثل الكتابة $z = r(\cos \theta + i \sin \theta)$ دوماً شكلاً مثلثياً لعدد عقدي؟

- عندما لا يتحقق الشرط $r > 0$. فمثلاً في حالة $z = -2(\cos \theta + i \sin \theta)$ نكتب

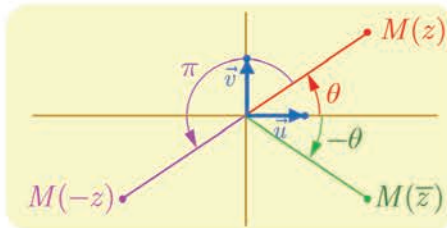
$$z = 2(-\cos \theta - i \sin \theta) = 2(\cos(\theta + \pi) + i \sin(\theta + \pi))$$

فنستنتج أن $|z| = 2$ و $\arg z = \theta + \pi + 2\pi$

ما الخواص التي تجب معرفتها بشأن زاوية عدد عقدي؟

في حالة عدد عقدي غير معدوم z :

- يكون z حقيقياً إذا وفقط إذا كان $\arg z = 0 + 2\pi$ أو $\arg z = \pi + 2\pi$.
- يكون z تخيلياً بحتاً إذا وفقط إذا كان $\arg z = \frac{\pi}{2} + 2\pi$ أو $\arg z = -\frac{\pi}{2} + 2\pi$.
- ولدينا دوماً $\arg \bar{z} = -\arg z + 2\pi$ و $\arg(-z) = \arg z + \pi + 2\pi$.



مثال الانتقال من الشكل الجبري إلى الشكل المثلثي وبالعكس

- ① ليكن $z_1 = \sqrt{3} + i$. أعط الشكل المثلثي للعدد z_1 .
- ② ليكن z_2 العدد العقدي الذي طويلته 3 وزاويته $-\frac{\pi}{4}$. أعط الشكل الجبري للعدد z_2 .

الحل

- ① للعدد z_1 الشكل $a + ib$ حيث $a = \sqrt{3}$ و $b = 1$. إذن $r = \sqrt{a^2 + b^2} = 2$ ، الزاوية θ تتعين بالشرطين $\cos \theta = \frac{\sqrt{3}}{2}$ و $\sin \theta = \frac{1}{2}$. إذن $\theta = \frac{\pi}{6} + 2\pi k$ ($k \in \mathbb{Z}$) ومنه $z_1 = 2(\cos \frac{\pi}{6} + i \sin \frac{\pi}{6})$.
- ② هنا لدينا $r = 3$ و $\theta = -\frac{\pi}{4}$ إذن: $z_2 = 3(\cos(-\frac{\pi}{4}) + i \sin(-\frac{\pi}{4})) = \frac{3\sqrt{2}}{2} - \frac{3\sqrt{2}}{2}i$.

تدريب

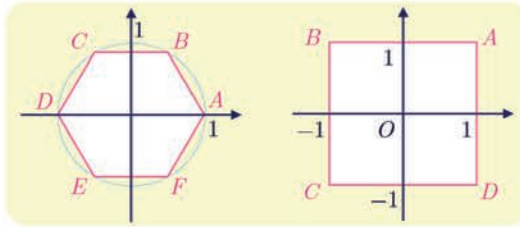
- ① مثل الأعداد الآتية في المستوي العقدي، ثم أعط زاوية لكل منها انطلاقاً من اعتبارات هندسية ودون إجراء حسابات.

$$1 + i, -1 - i, 5, -3, 3i, 4 - 4i, -5i, 3 + 3i$$

- ② اكتب بالشكل المثلثي كلاً من الأعداد العقدية الآتية:

$$\begin{array}{ll} z_2 = 2 + 2i\sqrt{3} & \textcircled{2} \quad z_1 = -\sqrt{2} + i\sqrt{2} & \textcircled{1} \\ z_4 = -2i & \textcircled{4} \quad z_3 = 4 - 4i & \textcircled{3} \\ z_6 = \frac{4}{1-i} & \textcircled{6} \quad z_5 = -\frac{1}{4} + \frac{i\sqrt{3}}{4} & \textcircled{5} \end{array}$$

- ③ في الشكل المجاور متثلنا في معلم متجانس مربعاً $ABCD$ ومسدساً $ABCDEF$. أعط الأعداد العقدية التي تمثل كلاً من رؤوس كلٍّ منهما.



- ④ في كل من الحالات الآتية، عين مجموعة النقاط M التي يحقق العدد العقدي z الذي يمثلها الشرط المعطى:

$$\begin{array}{ll} \arg z = -\frac{2\pi}{3} & \textcircled{2} \quad \arg z = \frac{\pi}{3} & \textcircled{1} \\ |z| = 3 & \textcircled{4} \quad \arg z = \pi & \textcircled{3} \\ \operatorname{Im}(z) = 1 & \textcircled{6} \quad \operatorname{Re}(z) = -2 & \textcircled{5} \end{array}$$

4 خواص طويلة عدد عقدي وزاويته

1.4. طويلة وزاوية جداء ضرب أعداد عقدية

مبرهنة 4

أياً كان العددان العقديان غير المعدومين z و z' كان

$$\arg(zz') = \arg z + \arg z' \pmod{2\pi} \quad \text{و} \quad |zz'| = |z| \times |z'|$$

الإثبات

لنفترض أن $z = r(\cos \theta + i \sin \theta)$ و $z' = r'(\cos \theta' + i \sin \theta')$ حيث

$$\theta' = \arg z' \quad \text{و} \quad r' = |z'| \quad \text{و} \quad \theta = \arg z \quad \text{و} \quad r = |z|$$

عندئذ

$$\begin{aligned} z \times z' &= r(\cos \theta + i \sin \theta) \times r'(\cos \theta' + i \sin \theta') \\ &= rr'((\cos \theta \cos \theta' - \sin \theta \sin \theta') + i(\cos \theta \sin \theta' + \sin \theta \cos \theta')) \\ &= rr'(\cos(\theta + \theta') + i \sin(\theta + \theta')) \end{aligned}$$

ولأن $rr' > 0$ استنتجنا أن $|zz'| = rr'$ وأن $\arg(zz') = \theta + \theta'$.

مثال

ليكن $z = 2\left(\cos\left(\frac{\pi}{5}\right) + i \sin\left(\frac{\pi}{5}\right)\right)$ و $z' = 3\left(\cos\left(-\frac{\pi}{4}\right) + i \sin\left(-\frac{\pi}{4}\right)\right)$ عندئذ

$$\arg(zz') = \frac{\pi}{5} - \frac{\pi}{4} = -\frac{\pi}{20} \quad \text{و} \quad |zz'| = 2 \times 3 = 6$$

$$.zz' = 6\left(\cos\left(-\frac{\pi}{20}\right) + i \sin\left(-\frac{\pi}{20}\right)\right) \text{ ومنه}$$

ونثبت بالتدرج على العدد n النتيجة المهمة الآتية:

نتيجة 5

أياً كان العدد العقدي غير المعدوم z ، وأياً كان العدد الطبيعي n كان

$$\arg(z^n) = n \arg z \pmod{2\pi} \quad \text{و} \quad |z^n| = |z|^n$$

وبصياغة أخرى، عند وضع $z = r(\cos \theta + i \sin \theta)$ نجد

$$(r(\cos \theta + i \sin \theta))^n = r^n (\cos n\theta + i \sin n\theta)$$

أما الحالة الخاصة الموافقة لعدد عقدي طويلته تساوي 1 أي $r = 1$ فتعطينا

$$(\cos \theta + i \sin \theta)^n = \cos n\theta + i \sin n\theta \quad \text{دستور دوموافر}$$

2.4. طويلة وزاوية خارج قسمة عددين عقديين

مبرهنة 6

أياً كان العددان العقديان غير المعدومين z و z' كان

$$\arg\left(\frac{z}{z'}\right) = \arg z - \arg z' \pmod{2\pi} \quad \text{و} \quad \left|\frac{z}{z'}\right| = \frac{|z|}{|z'|}$$

$$\text{وبوجه خاص } \arg\left(\frac{1}{w}\right) = -\arg w \pmod{2\pi} \quad \text{و} \quad \left|\frac{1}{w}\right| = \frac{1}{|w|} \quad \text{في حالة } w \neq 0.$$

الإثبات

لنضع $w = \frac{z}{z'}$ فيكون $z = wz'$ ، ومن ثمّ $|z| = |w| \times |z'|$ و $\arg z = \arg w + \arg z' \pmod{2\pi}$ ، ومنه النتيجة المرجوة.

مثال

ليكن $z = 4\left(\cos\left(\frac{2\pi}{3}\right) + i\sin\left(\frac{2\pi}{3}\right)\right)$ و $z' = \frac{3}{2}\left(\cos\left(-\frac{\pi}{6}\right) + i\sin\left(-\frac{\pi}{6}\right)\right)$ عندئذ

$$\arg\left(\frac{z}{z'}\right) = \frac{2\pi}{3} - \left(-\frac{\pi}{6}\right) = \frac{5\pi}{6} \quad \text{و} \quad \left|\frac{z}{z'}\right| = \frac{4}{3/2} = \frac{8}{3}$$

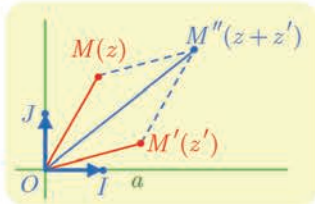
$$\text{ومنه } \frac{z}{z'} = \frac{8}{3}\left(\cos\left(\frac{5\pi}{6}\right) + i\sin\left(\frac{5\pi}{6}\right)\right)$$

تكريساً للفهم

ما هي قواعد حساب الطويلة؟ 

تذكر أن طويلة جداء ضرب عددين عقديين تساوي جداء ضرب الطويلتين، وطويلة خارج قسمتهما

هي خارج قسمة الطويلتين.



ولكن عموماً طويلة مجموع عددين عقديين لا تساوي مجموع

الطويلتين؛ تأمل مثلاً $z \neq 0$ و $z' = -z$ عندئذ $|z + z'| = 0$

و $|z| + |z'| > 0$ ، ولكن لدينا **مراجعة المثلث** $|z + z'| \leq |z| + |z'|$

المبيّنة في الشكل المجاور $OM'' \leq OM + OM'$.

مثال

$$\text{أعطِ الشكل الجبري لكلّ من العددين : } z = (1 - i\sqrt{3})^5 \quad \text{و} \quad w = \frac{(1 + i)^4}{(\sqrt{3} + i)^3}$$

عند حساب القوى يُفضّل استعمال التمثيل المثلثي.



① لنضع $z' = 1 - i\sqrt{3}$ ، نلاحظ أن $|z'| = 2$ و $\arg z' = -\frac{\pi}{3}$ ، إذن

$$z' = 2\left(\cos\left(-\frac{\pi}{3}\right) + i\sin\left(-\frac{\pi}{3}\right)\right)$$

نستنتج من ذلك أن

$$\begin{aligned} z &= z'^5 = 2^5 \left(\cos\left(-\frac{5\pi}{3}\right) + i\sin\left(-\frac{5\pi}{3}\right)\right) \\ &= 2^5 \left(\cos\left(\frac{\pi}{3}\right) + i\sin\left(\frac{\pi}{3}\right)\right) = 16 + 16\sqrt{3}i \end{aligned}$$

② هنا أيضاً نلاحظ أن $1 + i = \sqrt{2}\left(\cos\left(\frac{\pi}{4}\right) + i\sin\left(\frac{\pi}{4}\right)\right)$ ومنه

$$(1 + i)^4 = \left(\sqrt{2}\right)^4 \left(\cos\left(\frac{4\pi}{4}\right) + i\sin\left(\frac{4\pi}{4}\right)\right) = -4$$

وكذلك $\sqrt{3} + i = 2\left(\cos\left(\frac{\pi}{6}\right) + i\sin\left(\frac{\pi}{6}\right)\right)$ ومنه

$$(\sqrt{3} + i)^3 = 2^3 \left(\cos\left(\frac{\pi}{2}\right) + i\sin\left(\frac{\pi}{2}\right)\right) = 8i$$

$$\text{إذن } w = -4 / (8i) = \frac{i}{2}$$



① اكتب بالشكل المثلثي كلاً من الأعداد.

$$z = \left(\frac{\sqrt{3} - i}{i}\right)^5 \quad \text{③} \quad z = \frac{1 - i\sqrt{3}}{1 + i} \quad \text{②} \quad z = (1 - i)^2 \quad \text{①}$$

② نعطى العددين العقديين $z_1 = \frac{\sqrt{6} - i\sqrt{2}}{2}$ و $z_2 = 1 - i$

① اكتب بالشكل المثلثي كلاً من الأعداد z_1 و z_2 و $\frac{z_1}{z_2}$.

② اكتب بالشكل الجبري $\frac{z_1}{z_2}$.

③ استنتج أن $\cos\frac{\pi}{12} = \frac{\sqrt{6} + \sqrt{2}}{4}$ و $\sin\frac{\pi}{12} = \frac{\sqrt{6} - \sqrt{2}}{4}$

③ اكتب بالشكل المثلثي العدد العقدي $1 + i\sqrt{3}$ واستنتج الشكل المثلثي للعدد $1 - i\sqrt{3}$ ، وأخيراً

احسب العددين:

$$z_2 = (1 + i\sqrt{3})^5 - (1 - i\sqrt{3})^5 \quad \text{②} \quad z_1 = (1 + i\sqrt{3})^5 + (1 - i\sqrt{3})^5 \quad \text{①}$$

④ اكتب بالشكل المثلثي كلاً من الأعداد العديّة الآتية

$$z = \left(\sin\frac{\pi}{5} + i\cos\frac{\pi}{5}\right)^6 \quad \text{②} \quad z = \left(\cos\frac{\pi}{8} + i\sin\frac{\pi}{8}\right)^6 \quad \text{①}$$

$$z = (1 + i)^{2016} \quad \text{④} \quad z = (1 + i)\left(\cos\frac{\pi}{9} + i\sin\frac{\pi}{9}\right) \quad \text{③}$$

5 الشكل الأسّي لعدد عقدي

1.5. حالة عدد عقدي طويلته تساوي الواحد

يُكتب كلُّ عدد عقدي طويلته تساوي الواحد بالصيغة $\cos \theta + i \sin \theta$ ، وبالعكس طويّلة كل عدد من هذا الشكل تساوي 1. نرسم عادة إلى مجموعة الأعداد العقدية التي تساوي طويّلتها الواحد بالرمز \mathbb{U} . أي

$$\mathbb{U} = \{z \in \mathbb{C} : |z| = 1\} = \{\cos \theta + i \sin \theta : \theta \in \mathbb{R}\}$$

يجعلنا هذا نفكر بالتابع $\mathcal{E}(\theta) = \cos \theta + i \sin \theta$ الذي يقرب بكل عدد حقيقي θ العدد $\mathcal{E}(\theta) = \cos \theta + i \sin \theta$ من \mathbb{U} . يُحقّق التابع \mathcal{E} الخاصّة المهمة الآتية :

$$\mathcal{E}(\theta + \theta') = \mathcal{E}(\theta) \cdot \mathcal{E}(\theta')$$

في الحقيقة

$$\begin{aligned} \mathcal{E}(\theta) \cdot \mathcal{E}(\theta') &= (\cos \theta + i \sin \theta)(\cos \theta' + i \sin \theta') \\ &= (\cos \theta \cos \theta' - \sin \theta \sin \theta') + i(\sin \theta \cos \theta' + \cos \theta \sin \theta') \\ &= \cos(\theta + \theta') + i \sin(\theta + \theta') \\ &= \mathcal{E}(\theta + \theta') \end{aligned}$$

وعليه نرى أنّ التابع \mathcal{E} يؤدي دوراً يشبه دور التابع الأسّي، فهو يحوّل المجموع إلى جداء ضرب، ومنه جاءت فكرة وضع الرمز الجديد $e^{i\theta}$ دلالة على $\mathcal{E}(\theta)$ ومنه التعريف الآتي:

4 تعريفه

يُرمز إلى العدد العقدي الذي طويّلته تساوي الواحد وزاويته تساوي θ بالرمز $e^{i\theta}$ فيكون

$$e^{i\theta} = \cos \theta + i \sin \theta$$

وعلى وجه الخصوص لدينا $e^{i\pi} = -1$ و $e^{i\frac{\pi}{2}} = i$.



لما كان $0 = i \times 0$ صار هناك تعريفان للعدد e^0 تحقّق أنّهما متفقان.

2.5. الحالة العامة

يُكتب كلُّ عدد عقدي غير معدوم z بالصيغة $z = |z|(\cos \theta + i \sin \theta)$ ، واستناداً إلى ما سبق يُكتب هذا العدد بالشكل $e^{i\theta}|z|$. ومنه التعريف الآتي :

5 تعريفه

الشكل الأسّي لعدد عقدي غير معدوم z زاويته θ هو الصيغة $e^{i\theta}|z|$.

وبالاستفادة مما أثبتناه في الفقرة السابقة المتعلقة بالتمثيل المثلثي نجد :

مبرهنة 7

في حالة عددين موجبين تماماً r و r' و عددين حقيقيين θ و θ' لدينا

$$\frac{re^{i\theta}}{r'e^{i\theta'}} = \frac{r}{r'}e^{i(\theta-\theta')} \quad \odot \quad re^{i\theta} \times r'e^{i\theta'} = rr'e^{i(\theta+\theta')} \quad \odot$$

$$re^{i\theta} = r'e^{i\theta'} \Leftrightarrow (r = r', \theta = \theta'(2\pi)) \quad \odot \quad \overline{re^{i\theta}} = re^{-i\theta} \quad \odot$$

ونترك للقارئ إثبات النتيجة المهمة ولكن بسيطة الإثبات الآتية:

نتيجة 8

① **دستور دومافر:** أيًا كان العدد الحقيقي θ والعدد الصحيح n كان

$$\cdot (e^{i\theta})^n = e^{in\theta}$$

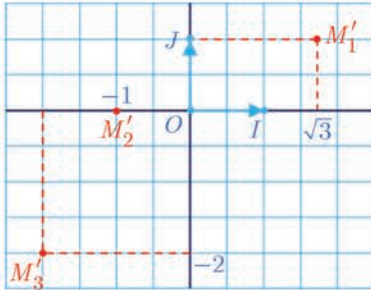
② **علاقنا أويلر:** أيًا كان العدد الحقيقي θ كان

$$\cos \theta = \frac{e^{i\theta} + e^{-i\theta}}{2} \quad \text{أو} \quad \sin \theta = \frac{e^{i\theta} - e^{-i\theta}}{2i}$$

الانتقال من الشكل الجبري إلى الأسّي وبالعكس

مثال

① وُضِعَ النقاط M_1 و M_2 و M_3 صور الأعداد $z_1 = 2e^{i\frac{\pi}{4}}$ و $z_2 = \frac{3}{2}e^{i\frac{\pi}{2}}$ و $z_3 = \sqrt{3}e^{-i\frac{2\pi}{3}}$



ثمَّ عَيِّنَ الشكل الجبري لكل من هذه الأعداد العقدية.

② وبالعكس، اكتب بالشكل الأسّي الأعداد العقدية التي تمثل

النقاط M_1 و M_2 و M_3 المرسومة في الشكل.

③ احسب المقادير $\frac{z_1}{z_2}$ و $z_1 \times z_2$ و $(z_3)^5$ بالشكل الأسّي.

الحل

① نعرف طولية وزاوية كل من هذه الأعداد. فمثلاً لتعيين M_1

نرسم نصف المستقيم $[OA]$ الذي يصنع زاوية قدرها $\frac{\pi}{4}$ مع \vec{OI} . ثمَّ

نعين عليه M_1 بحيث $OM_1 = 2$. ونعين بالمثل M_2 و M_3 .

ونحسب $z_1 = \sqrt{2} + i\sqrt{2}$ و $z_2 = \frac{3}{2}i$ و $z_3 = -\frac{\sqrt{3}}{2} - \frac{3}{2}i$

② ونجد بقراءة الشكل

$$\cdot z'_3 = 2\sqrt{2}e^{-i\frac{3\pi}{4}} \quad \text{و} \quad z'_2 = e^{i\pi} \quad \text{و} \quad z'_1 = 2e^{i\frac{\pi}{6}}$$

③ ونجد أخيراً باستعمال قواعد حساب القوى

$$z_1 z_2 = 2 \times \frac{3}{2} e^{i(\frac{\pi}{4} + \frac{\pi}{2})} = 3e^{i\frac{3\pi}{4}} \quad \odot$$

$$\frac{z_1}{z_2} = \frac{2}{3/2} e^{i(\frac{\pi}{4} - \frac{\pi}{2})} = \frac{4}{3} e^{-i\frac{\pi}{4}} \quad \odot$$

$$z_3^5 = (\sqrt{3})^5 (e^{-i\frac{2\pi}{3}})^5 = 9\sqrt{3} e^{-i\frac{10\pi}{3}} = 9\sqrt{3} e^{i\frac{2\pi}{3}} \quad \odot$$

تعيين الشكل الأسّي لعدد عقدي

مثال

ليكن θ عدداً من المجال $]-\frac{\pi}{2}, \frac{\pi}{2}[$. أعط الشكل الأسّي للعدد العقدي $z = 1 + e^{2i\theta}$.

الحل

نلاحظ أنّ

$$\begin{aligned} z &= 1 + \cos 2\theta + i \sin 2\theta = 2 \cos^2 \theta + i(2 \sin \theta \cos \theta) \\ &= 2 \cos \theta (\cos \theta + i \sin \theta) = (2 \cos \theta) e^{i\theta} \end{aligned}$$

ولكن $\cos \theta > 0$ في حالة θ من $]-\frac{\pi}{2}, \frac{\pi}{2}[$. إذن الشكل الأسّي المطلوب هو $z = (2 \cos \theta) e^{i\theta}$.

تدريب

① نضع $z_1 = e^{i\pi/3}$ و $z_2 = 3e^{-i\pi/4}$ و $z_3 = \sqrt{2}e^{2i\pi/3}$. جد الشكل الأسّي للأعداد الآتية

$$z_1 z_2, \quad \frac{z_1}{z_2}, \quad z_1^3, \quad z_1 z_2 z_3, \quad z_3^4, \quad \frac{z_2}{z_3}$$

② اكتب بالشكل الأسّي كلاً من الأعداد العقدية الآتية:

$$z_2 = (1 + i)\sqrt{3}e^{i\pi/3} \quad \text{②} \quad z_1 = 2\sqrt{3} + 6i \quad \text{①}$$

$$z_4 = (1 + i\sqrt{3})^4 \quad \text{④} \quad z_3 = (1 - \sqrt{2})e^{i\pi/4} \quad \text{③}$$

$$z_6 = (1 + i\sqrt{3})^4 e^{4i\pi/3} \quad \text{⑥} \quad z_5 = \frac{6}{1 + i} \quad \text{⑤}$$

$$z_8 = \frac{(2\sqrt{3} + 2i)^5}{(1 - i)^4} \quad \text{⑧} \quad z_7 = \left(\frac{1 + i}{\sqrt{3} + i} \right)^5 \quad \text{⑦}$$

$$z_{10} = 3ie^{i\pi/3} \quad \text{⑩} \quad z_9 = -12e^{i\pi/4} \quad \text{⑨}$$

③ نضع $Z = \frac{-\sqrt{2}}{1 + i} e^{i\pi/3}$ بيّن أي الخواص الآتية صحيحة:

$$Z = -(1 - i)e^{i\pi/3} \quad \text{②} \quad |Z| = 1 \quad \text{①}$$

$$Z = e^{i\frac{13\pi}{12}} \quad \text{④} \quad \arg Z = -\frac{\pi}{12} \quad \text{③}$$

6 المعادلة من الدرجة الثانية ذات الأمثال الحقيقية

نذكر أن المعادلة من الدرجة الثانية ذات الأمثال الحقيقية هي كل معادلة من الشكل $aX^2 + bX + c = 0$ ، بالمجهول X حيث a و b و c ثلاثة أعداد **حقيقية** و $a \neq 0$. وحل هذه المعادلة في \mathbb{C} هو إيجاد جميع الأعداد العقدية w التي تحقق $aw^2 + bw + c = 0$ ، نسمي w حلاً للمعادلة أو جذراً لها. سنبرهن أن لهذه المعادلة عموماً حلين في \mathbb{C} يمكن أن يكونا منطبقين.

لحل هذه المعادلة نعتمد كما في حالة \mathbb{R} إلى تحليل $az^2 + bz + c$ إلى جداء ضرب عاملين، ولهذا الهدف نسعى إلى كتابته بالشكل القانوني متذكّرين أن قواعد الحساب في \mathbb{C} هي نفسها قواعد الحساب في \mathbb{R} . فإذا وضعنا كما جرت العادة $\Delta = b^2 - 4ac$ أمكننا أن نكتب

$$az^2 + bz + c = a \left(\left(z + \frac{b}{2a} \right)^2 - \frac{b^2 - 4ac}{4a^2} \right) = a \left(\left(z + \frac{b}{2a} \right)^2 - \frac{\Delta}{4a^2} \right)$$

ولأن $a \neq 0$ استنتجنا أن حل المعادلة $az^2 + bz + c = 0$ يؤول إلى حل

$$\left(z + \frac{b}{2a} \right)^2 - \frac{\Delta}{4a^2} = 0$$

حيث نسمي العدد Δ مُميّز المعادلة.

⊙ إذا كان $\Delta > 0$ فنحن نعلم أن للمعادلة حلين حقيقيين وحلين فقط، ولأن \mathbb{R} محتواة في \mathbb{C} استنتجنا أن للمعادلة في \mathbb{C} حلين هما

$$z_2 = \frac{-b + \sqrt{\Delta}}{2a} \quad \text{و} \quad z_1 = \frac{-b - \sqrt{\Delta}}{2a}$$

⊙ إذا كان $\Delta = 0$ فللمعادلة حلّ وحيد فقط هو $z = -\frac{b}{2a}$ نسميه جذراً مضاعفاً.

⊙ إذا كان $\Delta < 0$ نستفيد من المساواة $\Delta = (i\sqrt{-\Delta})^2$ لنكتب

$$\left(z + \frac{b}{2a} \right)^2 - \frac{\Delta}{4a^2} = \left(z + \frac{b}{2a} \right)^2 - \left(\frac{i\sqrt{-\Delta}}{2a} \right)^2 = \left(z + \frac{b + i\sqrt{-\Delta}}{2a} \right) \left(z + \frac{b - i\sqrt{-\Delta}}{2a} \right)$$

إذن في هذه الحالة يكون للمعادلة $az^2 + bz + c = 0$ حلان عقديان مترافقان هما

$$z_2 = \frac{-b + i\sqrt{-\Delta}}{2a} \quad \text{و} \quad z_1 = \frac{-b - i\sqrt{-\Delta}}{2a}$$

مثال

لحل المعادلة $z^2 + 6z + 34 = 0$ نلاحظ هنا أن $a = 1$ و $b = 6$ و $c = 34$. بحساب المميّز

نجد $\Delta = b^2 - 4ac = -100 < 0$ ، إذن للمعادلة حلان عقديان:

$$z_2 = \frac{-6 + 10i}{2} = -3 + 5i \quad \text{و} \quad z_1 = \frac{-6 - 10i}{2} = -3 - 5i$$



بوجه عام إذا كان z_1 و z_2 جذري المعادلة $az^2 + bz + c = 0$ حيث $a \neq 0$ فيمكن تفريق كثير الحدود من الدرجة الثانية $aX^2 + bX + c$ بالشكل

$$aX^2 + bX + c = a(X - z_1)(X - z_2)$$

وهنا يمكن أن يكون z_1 و z_2 حقيقيين مختلفين ($\Delta > 0$) أو $z_1 = z_2$ ($\Delta = 0$) أو عقديين مترافقين ($\Delta < 0$).



① حلّ في \mathbb{C} كلاً من جمل المعادلات الآتية بالمجهولين z و z' :

$$\begin{cases} 3z + z' = 2 - 5i \\ z - z' = -2 + i \end{cases} \quad \text{①}$$

$$\begin{cases} 3z + z' = 5 + 2i \\ -z + z' = 1 - 2i \end{cases} \quad \text{②}$$

$$\begin{cases} 2iz + z' = 2i \\ 3z - iz' = 1 \end{cases} \quad \text{③}$$

② حلّ في \mathbb{C} كلاً من المعادلات الآتية:

$$2z^2 - 6z + 5 = 0 \quad \text{①}$$

$$z^2 - 5z + 9 = 0 \quad \text{②}$$

$$z^2 + z + 1 = 0 \quad \text{③}$$

$$z^2 - 2z + 3 = 0 \quad \text{④}$$

$$z^2 - 2(1 + \sqrt{2})z + 2(\sqrt{2} + 2) = 0 \quad \text{⑤}$$

$$z^2 - 2(\cos \theta)z + 1 = 0 \quad (\theta \in \mathbb{R}), \quad \text{⑥}$$

③ جد عددين عقديين p و q كي تقبل المعادلة $z^2 + pz + q = 0$ العددين $1 + 2i$ و $3 - 5i$ جذرين لها.

④ احسب جداء الضرب $(z^2 + 2z - 3)(z^2 + 2z + 5)$ ثم حلّ في \mathbb{C} المعادلة

$$z^4 + 4z^3 + 6z^2 + 4z - 15 = 0$$

أفكار يجب تمثيلها



- يرتبط الشكل الجبري $z = a + ib$ حيث a و b حقيقيان، بالنقطة $M(z)$ التي إحداثياتها الديكارتيان (a, b) . المحور الحقيقي هو محور الفواصل، والمحور التخيلي البحت هو محور الترتيب.
- ويرتبط الشكل المثلثي لعدد عقدي غير معدوم $z = r(\cos \theta + i \sin \theta)$ بالإحداثيات القطبية. عندما $z = a + ib = r(\cos \theta + i \sin \theta)$ نجد $a = r \cos \theta$ و $b = r \sin \theta$ و $r^2 = a^2 + b^2$.
- هندسياً، النقطة $M(\bar{z})$ هي نظيرة $M(z)$ بالنسبة إلى المحور الحقيقي. ومرافق مجموع عددين عقديين، أو جداء ضربيهما أو خارج قسمتهما هو مجموع مرافقي هذين العددين أو جداء ضرب مرافقيهما أو خارج قسمة مرافقيهما.
- بين العددين العقديين z و \bar{z} لدينا العلاقات $z\bar{z} = |z|^2$ ، و $z + \bar{z} = 2\text{Re}(z)$ فهو إذن حقيقي، و $z - \bar{z} = 2i \text{Im}(z)$ وهو إذن تخيلي بحت.
- لضرب أعداد عقدية غير معدومة نضرب طويلاتها ونجمع زواياها، ولقسمة عددين عقديين غير معدومين نقسم الطويلتين ونطرح الزاويتين.
- تجرى الحسابات في \mathbb{C} مثلما في \mathbb{R} مع $i^2 = -1$.
- للمعادلة $az^2 + bz + c = 0$ حيث a و b و c أعداد حقيقية و $a \neq 0$ دوماً جذران في \mathbb{C} . وهما بحسبان كما في حالة \mathbb{R} عندما $\Delta > 0$ أو $\Delta = 0$. وعندما يكون $\Delta < 0$ نكتب $\Delta = i^2(-\Delta)$ والجذران هما: $z_1 = \frac{-b - i\sqrt{-\Delta}}{2a}$ و $z_2 = \frac{-b + i\sqrt{-\Delta}}{2a}$

منعكسات يجب امتلاكها.



- ففكر باستعمال المرافق \bar{z} عند البحث عن الشكل الجبري لخارج قسمة.
- لإثبات أن z حقيقي يمكن استعمال واحدة من الخواص الآتية: $\text{Im } z = 0$ أو $\bar{z} = z$ أو $\arg z = 0$ أو $\arg z = \pi$ في حالة $z \neq 0$.
- لإثبات أن z تخيلي بحت يمكن استعمال واحدة من الخواص الآتية: $\text{Re } z = 0$ أو $\bar{z} = -z$ أو $\arg z = \frac{\pi}{2}$ أو $\arg z = -\frac{\pi}{2}$ في حالة $z \neq 0$.

أخطاء يجب تجنبها.



- لا تستعمل المتراجحات بين أعداد عقدية.

أنشطة

نشاط 1 كثيرات الحدود

نعمم مفهوم التابع الكثير الحدود ليصبح أي تابع P معرف على \mathbb{C} ويأخذ قيمه في \mathbb{C} من الشكل:

$$z \mapsto a_n z^n + a_{n-1} z^{n-1} + \dots + a_1 z + a_0$$

- حيث $a_n, a_{n-1}, \dots, a_1, a_0$ هي أعداد عقدية، وإذا كانت $a_n, a_{n-1}, \dots, a_1, a_0$ حقيقية قلنا إن P ذو أمثال حقيقية. وإذا كان $a_n \neq 0$ قلنا إن درجة P تساوي n . نقبل صحة الخواص الآتية:
- إذا كان z_0 جذراً لكثير حدود P درجته n (أي $P(z_0) = 0$) وُجد كثير حدود Q درجته $n-1$ بحيث $P(z) = (z - z_0)Q(z)$.
 - لكل كثير حدود P درجته n ، عدداً من الجذور يساوي n في \mathbb{C} على أن نكرّر كل جذر بقدر درجة مضاعفته.

1 مثال على كثير حدود من الدرجة الثالثة

- نهدف إلى حل المعادلة (1) $z^3 - 3z^2 + 3z + 7 = 0$
- ① علّل وجود كثير حدود من الدرجة الثانية Q يحقق: $z^3 - 3z^2 + 3z + 7 = (z + 1)Q(z)$.
 - ② عيّن Q ثم حلّ المعادلة $Q(z) = 0$.
 - ③ لتكن A و B و C نقاط المستوي التي تمثل حلول المعادلة (1) أثبت أن ABC مثلث متساوي الأضلاع.

2 مثال على كثير حدود من الدرجة الرابعة

- نهدف إلى حلّ المعادلة (2) $z^4 - 6z^3 + 24z^2 - 18z + 63 = 0$
- ① أثبت بوجه عام أنه إذا كانت أمثال P حقيقية، وكان z_0 جذراً للمعادلة $P(z) = 0$ كان \bar{z}_0 أيضاً جذراً للمعادلة $P(z) = 0$.
 - ② تحقق أن $i\sqrt{3}$ جذر للمعادلة (2). ماذا تستنتج بالاستفادة من ①؟
 - ③ استنتج وجود كثير حدود من الدرجة الثانية Q يجعل المعادلة (2) تكتب $(z^2 + 3)Q(z) = 0$.
 - ④ حلّ المعادلة (2). لتكن A و B و C و D نقاط المستوي التي تمثل حلول المعادلة (2) أثبت أن هذه النقاط تقع على دائرة واحدة. عيّن مركزها ونصف قطرها.

نشاط 2 الجذور التربيعية لعدد عقدي

نُعطى عدداً عقدياً غير الصفر $w = a + ib$ ونهدف إلى حلّ المعادلة $z^2 - w = 0$ (*) . هناك أسلوبان ممكنان:

▪ يمكن أن نكتب $w = Re^{i\varphi}$ ثم نبحث عن $z = re^{i\theta}$ تحقق (*). نيقن عندئذ أن $r = \sqrt{R}$ وأن $z_0 = \sqrt{R}e^{i\frac{\varphi}{2}}$ حيث $z \in \{z_0, -z_0\}$ ، إذن $\theta = \frac{\varphi}{2} + \pi(2\pi)$ أو $\theta = \frac{\varphi}{2}(2\pi)$

▪ ويمكن أن نبحث عن $z = x + iy$ تحقق (*). وهنا علينا حلّ جملة المعادلتين غير الخطيتين:

$$\begin{cases} x^2 - y^2 = a & (1) \\ 2xy = b & (2) \end{cases}$$

هنا يمكننا أيضاً أن نستفيد من المعادلة المُساعدة $|z|^2 = |w|$ التي تنتج مباشرة من (*) وتعطي المعادلة (3) الآتية: $x^2 + y^2 = \sqrt{a^2 + b^2}$. وهكذا نحل في \mathbb{R} جملة المعادلتين (1) و (3) ثم نختار من مجموعة الحلول الناتجة تلك التي تحقق المعادلة (2).

1 تعيين الجذور التربيعية للعدد i

① اكتب i بالشكل الأسّي. ② حل المعادلة $z^2 = i$.

2 تعيين الجذور التربيعية للعدد $1 + i$

① أثبت أن حل المعادلة $(x + iy)^2 = 1 + i$ في \mathbb{R} . يؤول إلى تعيين x و y تحقّقان

$$\begin{cases} x^2 - y^2 = 1, \\ x^2 + y^2 = \sqrt{2} \\ 2xy = 1 \end{cases}$$

② حل المعادلة $z^2 = 1 + i$.

③ حل المعادلة $z^2 = 1 + i$ بأسلوب ثان، واستنتج النسب المثلثية للزاوية $\frac{\pi}{8}$.

نشاط 3 الأعداد العقدية والتوابع المثلثية

عندما يكون z و z' عددين عقديين طويلاً كل منهما تساوي الواحد وزاويتاهما a و b بالترتيب، تكون طويلاً zz' مساوية الواحد وزاويته $a + b$. بكتابة zz' بطريقتين أثبت أن

$$\sin(a + b) = \sin a \cos b + \cos a \sin b \quad \text{و} \quad \cos(a + b) = \cos a \cos b - \sin a \sin b$$

▪ ما العلاقات التي تستنتجها عند استبدال $-b$ بالمقدار b ؟ استنتج أن

$$\begin{aligned} \cos a \cos b &= \frac{1}{2}(\cos(a + b) + \cos(a - b)), & \sin a \sin b &= \frac{1}{2}(\cos(a - b) - \cos(a + b)) \\ \sin a \cos b &= \frac{1}{2}(\sin(a + b) + \sin(a - b)), & \cos a \sin b &= \frac{1}{2}(\sin(a + b) - \sin(a - b)) \end{aligned}$$

▪ ما العلاقات التي تستنتجها عند تعويض $a + b = p$ و $a - b = q$ ؟

▪ استفد مما سبق لتحلّ في \mathbb{R} المعادلة المثلثية: $\cos 3x - \cos 5x = \sin 6x + \sin 2x$.

تمرينات ومسائل

1 لتكن النقاط A و B و C و D نقاطاً تمثل بالترتيب الأعداد العقدية $a = 1$ و $b = e^{i\pi/3}$

$$.d = \frac{\sqrt{3}}{2} e^{-i\pi/6} \text{ و } c = \frac{3}{2} + \frac{\sqrt{3}}{2} i$$

① اكتب c بالشكل الأسّي، و اكتب d بالشكل الجبري.

② اضع النقاط A و B و C و D في مستوٍ مزوّد بمعلم متجانس.

b . أثبت أنّ الرباعي $OACB$ معين.

2 ① اكتب بالشكل الأسّي حلول المعادلة :

$$(1) \quad (z^2 + 3\sqrt{3}z + 9)(z^2 - 3\sqrt{3}z + 9) = 0$$

② أثبت أنّ النقاط A و B و C و D التي تمثل جذور المعادلة السابقة هي رؤوس مستطيل.

3 بسط كتابة العدد العقدي

$$Z = \frac{1 + \cos x - i \sin x}{1 + \cos x + i \sin x}$$

موضّحاً قيم x التي يكون عندها هذا المقدار موجوداً.

4 ① ليكن z عدداً عقدياً ما، وليكن u عدداً عقدياً طويلته تساوي الواحد وهو مختلف عن الواحد.

أثبت أنّ $\frac{z - u\bar{z}}{1 - u}$ عددٌ حقيقي.

② نفترض أنّ $u \neq 1$ وأنّ $\frac{z - u\bar{z}}{1 - u}$ عددٌ حقيقي أثبت أنّه إما أن يكون z حقيقياً أو أن يكون

$$.|u| = 1$$

5 اكتب بالشكل الجبري كلاً من العددين :

$$z_2 = (3 + i)^4 \quad \text{و} \quad z_1 = \frac{\cos x + i \sin x}{\cos x - i \sin x}$$

6 ليكن z و z' عددين عقديين أثبت أنّ :

$$|z + z'|^2 + |z - z'|^2 = 2|z|^2 + 2|z'|^2$$

7 ليكن المثلث ABC . أثبت تكافؤ الخاصّتين الآتيتين :

① المثلث متساوي الساقين ورأسه A .

$$.2 \sin \hat{B} \cos \hat{C} = \sin \hat{A} \quad \text{②}$$



لنتعلم البحث معاً

8 تعيين مجموعة

ليكن a عدداً عقدياً معطى. لتكن \mathcal{E} مجموعة الأعداد العقدية z التي تحقق :

$$z^2 - a^2 = \bar{z}^2 - \bar{a}^2$$

عين المجموعة \mathcal{E} ومثلها في مستوٍ مزوّد بمعلم.

نحو الحل

الفكرة الأولى التي تخطر لنا هي بوضع $z = x + iy$ و $a = \alpha + i\beta$ حيث x و y و α و β

هي أعداد حقيقية، ثم نسعى إلى إيجاد معادلة ديكارتية للمجموعة \mathcal{E} .

① أثبت بهذا الأسلوب أنّ $M(x, y)$ تنتمي إلى \mathcal{E} إذا وفقط إذا كان $xy = \alpha\beta$.

② ناقش الحالتين $\alpha\beta = 0$ و $\alpha\beta \neq 0$ ثم عين \mathcal{E} في هاتين الحالتين.

هناك أسلوب آخر، نلاحظ أنّ مرافق $z^2 - a^2$ هو $\bar{z}^2 - \bar{a}^2$ أثبت تكافؤ الخواص

▪ z تنتمي إلى \mathcal{E} .

▪ $z^2 - a^2$ حقيقي.

▪ الجزء التخيلي للمقدار $z^2 - a^2$ يساوي 0 أو $\text{Im}(z^2) = \text{Im}(a^2)$.

استنتج مجدداً المجموعة \mathcal{E} .

أنجز الحل واكتبه بلغة سليمة.



قُدماً إلى الأمام

9 نتأمل عددين عقديين z و w يحققان $|z|=1$ و $|w|=1$ و $zw \neq -1$ أثبت أنّ العدد العقدي

$$Z = \frac{z+w}{1+zw}$$
 عدد حقيقي.

10 نتأمل كثير الحدود $P(z) = z^4 - 19z^2 + 52z - 40$.

① عين عددين حقيقيين a و b يحققان $P(z) = (z^2 + az + b)(z^2 + 4z + 2a)$.

② حلّ في \mathbb{C} المعادلة $P(z) = 0$.

11 حلّ في \mathbb{C} المعادلة $z^3 - (3+4i)z^2 - 6(3-2i)z + 72i = 0$ إذا علمت أنها تقبل حلاً

تخيلياً بحتاً.

12 ليكن $\alpha = e^{2i\pi/5}$. نضع $A = \alpha + \alpha^4$ و $B = \alpha^2 + \alpha^3$.

① أثبت أن $1 + \alpha + \alpha^2 + \alpha^3 + \alpha^4 = 0$ واستنتج أن A و B هما جذرا المعادلة من الدرجة

الثانية: $x^2 + x - 1 = 0$ (1) .

② عبّر عن A بدلالة $\cos\left(\frac{2\pi}{5}\right)$.

③ حلّ المعادلة (1) واستنتج قيمة $\cos\left(\frac{2\pi}{5}\right)$.

13 ليكن θ عدداً حقيقياً من المجال $]-\pi, \pi[$. نعرّف $t = \frac{e^{i\frac{\theta}{2}} - e^{-i\frac{\theta}{2}}}{e^{i\frac{\theta}{2}} + e^{-i\frac{\theta}{2}}}$.

① احسب المقادير $\frac{2t}{1+t^2}$ و $\frac{2t}{1-t^2}$ و $\frac{1+t^2}{1-t^2}$ بدلالة النسب المثلثية للعدد θ .

② أثبت صحّة العلاقات:

$$\tan \theta = \frac{2 \tan \frac{\theta}{2}}{1 - \tan^2 \frac{\theta}{2}} \quad \text{و} \quad \cos \theta = \frac{1 - \tan^2 \frac{\theta}{2}}{1 + \tan^2 \frac{\theta}{2}} \quad \text{و} \quad \sin \theta = \frac{2 \tan \frac{\theta}{2}}{1 + \tan^2 \frac{\theta}{2}}$$

14 ① حلّ في \mathbb{C} المعادلات $z^2 = w$ في الحالات الآتية

① $w = -3 + 4i$ ② $w = -21 - 20i$ ③ $w = -7 + 24i$

② حل في \mathbb{C} المعادلات الآتية:

① $z^2 + (1 + 4i)z - 5 - i = 0$

② $2iz^2 + (3 + 7i)z + 4 + 2i = 0$

③ $z^2 + (1 + 8i)z - 17 + i = 0$

15 في حالة عدد عقدي $z \neq -1$ نضع $Z = \frac{2 + \bar{z}}{1 + \bar{z}}$ ونفترض أن $z = x + iy$ و $Z = X + iY$

حيث x و y و X و Y هي أعداد حقيقية.

① احسب X و Y بدلالة العددين x و y .

② أثبت أن مجموعة النقاط $M(z)$ التي يكون عندها Z حقيقياً هي مستقيم محذوف منه نقطة.

③ أثبت أن مجموعة النقاط $M(z)$ التي يكون عندها Z تخيلياً بحتاً هي دائرة محذوف منها نقطة.

16 عيّن في كل حالة مجموعة الأعداد العقدية z التي تحقّق الشرط المعطى

① المقدار $(z + 1)(\bar{z} - 2)$ حقيقي.

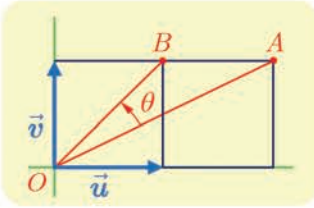
② العدد z مختلف عن $4i$ و $\frac{z + 2i}{z - 4i}$ عدد حقيقي.

5 تطبيقات الأعداد العقدية

في الهندسة

انطلاقاً نشطة

نتأمل معلماً متجانساً $(O; \vec{u}, \vec{v})$ في المستوي.



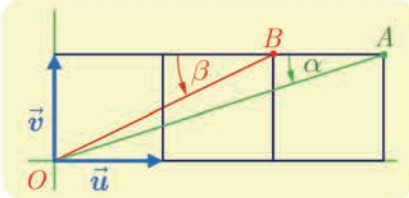
- 1 بيّن الشكل المجاور مربعين طول ضلع كل منهما يساوي الواحد. يُطلب حساب النسبة $r = \frac{OB}{OA}$ وتعيين قياس للزاوية $\theta = (\overrightarrow{OA}, \overrightarrow{OB})$.

بالطبع يمكن استعمال الطرائق التقليدية، ولكننا هنا سنسعى إلى استعمال الأعداد العقدية.

1 أعط z_A و z_B العددان العقديان اللذان يمثلان A و B .

2 اشرح العلاقة بين $Z = \frac{z_B}{z_A}$ والعددين المطلوبين r و θ .

3 احسب Z واستنتج قيم r و $\cos \theta$ و $\sin \theta$.



- 2 بيّن الشكل المجاور ثلاثة مربعات طول ضلع كل منهما يساوي الواحد. يُطلب حساب $\alpha + \beta$ مجموع قياسي الزاويتين المبينتين في الشكل.

1 أعط z_A و z_B العددين العقديين اللذين يمثلان A و B .

2 اشرح العلاقة بين كل من α و β وزاويتي العددين العقديين z_A و z_B .

3 بيّن أنّ المطلوب هو حساب زاوية العدد العقدي $Z = z_A \cdot z_B$.

4 احسب Z واستنتج قيمة $\alpha + \beta$.

1 تهليل الأشعة بأعداد عقدية

في هذه الوحدة، نتأمل معلماً متجانساً $(O; \vec{u}, \vec{v})$ في المستوي.

1.1. تعريف ونتائج

كما نقرن بكل نقطة $M(x, y)$ العدد العقدي $z_M = x + iy$ ، كذلك نقرن بكل شعاع $\vec{w}(a, b)$ العدد العقدي $z = a + ib$. ومنه التعريف:

تعريف 1

العدد العقدي المُمثل للشعاع \vec{w} الذي مركبته (a, b) ، هو العدد العقدي $z = a + ib$. والعدد العقدي المُمثل للشعاع \vec{AB} هو $z_B - z_A$ حيث z_B و z_A هما العددان العقديان اللذان يمثلان B و A بالترتيب.

في الحقيقة، إذا كان $z_B = x_B + iy_B$ و $z_A = x_A + iy_A$ كان $A(x_A, y_A)$ و $B(x_B, y_B)$ ، ومن ثمَّ كانت $(x_B - x_A, y_B - y_A)$ هما مركبتا الشعاع \vec{AB} ، وكان، من ثمَّ، العدد الذي يمثله هو العدد العقدي $z = (x_B - x_A) + i(y_B - y_A) = z_B - z_A$

نتيجة 1

- تساوي شعاعين يُكافئ تساوي العددين العقديين اللذين يمثلانها.
- إذا كان \vec{w} و \vec{w}' شعاعين يمثلانها العددان العقديان z و z' ، وكان λ عدداً حقيقياً، مثل العددان $z + z'$ و λz الشعاعين $\vec{w} + \vec{w}'$ و $\lambda \vec{w}$ بالترتيب.

2.1. العدد العقدي الموافق لمركز الأبعاد المتناسبة

مبرهنة 2

لنتأمل عدداً n من النقاط المثقلة $(A_1; \alpha_1)$ ، $(A_2; \alpha_2)$ ، ...، $(A_n; \alpha_n)$ ، التي تمثلها الأعداد العقدية z_1 ، z_2 ، ...، z_n بالترتيب. نفترض أن $\alpha_1 + \alpha_2 + \dots + \alpha_n \neq 0$. عندئذ يُعطى z_G العدد العقدي المُمثل للنقطة G مركز الأبعاد المتناسبة لهذه النقاط بالعلاقة:

$$z_G = \frac{\alpha_1 z_1 + \alpha_2 z_2 + \dots + \alpha_n z_n}{\alpha_1 + \alpha_2 + \dots + \alpha_n}$$

الإثبات

هذه نتيجة مباشرة من المساواة الشعاعية $(\alpha_1 + \dots + \alpha_n) \vec{OG} = \alpha_1 \vec{OA}_1 + \alpha_2 \vec{OA}_2 + \dots + \alpha_n \vec{OA}_n$.



إن يعطى العدد العقدي z_I الممثل لمنتصف القطعة المستقيمة $[AB]$ بالصيغة

$$z_I = \frac{z_A + z_B}{2}$$

ويعطى العدد العقدي z_G الممثل لمركز ثقل المثلث $[MNP]$ بالصيغة

$$z_G = \frac{z_M + z_N + z_P}{3}$$

مثال

اثبات الوقوع على استقامة واحدة باستعمال الأعداد العقدية

نتأمل معلماً متجانساً $(O; \vec{u}, \vec{v})$ في المستوي العقدي، والنقاط A و B و C التي تمثلها الأعداد العقدية $a = 6 - i$ و $b = -6 + 3i$ و $c = -18 + 7i$ بالترتيب. أثبت وقوع النقاط A و B و C على استقامة واحدة.

الحل

علينا إثبات وجود عدد حقيقي λ يحقق $\vec{AC} = \lambda \vec{AB}$. ولكن الشعاعان \vec{AC} و \vec{AB} يمثلها العددان العقديان

$$Z_{\vec{AC}} = c - a = -24 + 8i \quad \text{و} \quad Z_{\vec{AB}} = b - a = -12 + 4i$$

ونلاحظ أن $Z_{\vec{AC}} = 2Z_{\vec{AB}}$ ، إذن $\vec{AC} = 2\vec{AB}$ ومنه وقوع النقاط A و B و C على استقامة واحدة.

مثال

استعمال معلم متجانس

ليكن MNP مثلثاً ما، والنقاط A و B و C هي منتصفات أضلاعه $[NP]$ و $[PM]$ و $[MN]$ بالترتيب. أثبت أن للمثلثين MNP و ABC مركز النقل نفسه.

الحل

نختار معلماً متجانساً كيفياً. ونرمز بالرموز m و n و p و a و b و c إلى الأعداد العقدية التي تمثل النقاط M و N و P و A و B و C بالترتيب. لما كانت A منتصف $[NP]$ استنتجنا أن $a = \frac{n+p}{2}$ ، ونجد بالمثل $b = \frac{m+p}{2}$ و $c = \frac{n+m}{2}$. الآن، لتكن g العدد العقدي الممثل للنقطة G مركز ثقل المثلث MNP ، وليكن g' العدد العقدي الممثل للنقطة G' مركز ثقل المثلث ABC .

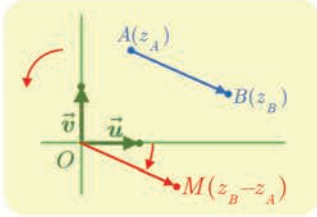
عندئذ من جهة أولى لدينا $g = \frac{1}{3}(m+n+p)$ ، ومن جهة ثانية

$$g' = \frac{1}{3} \left(\frac{n+p}{2} + \frac{p+m}{2} + \frac{m+n}{2} \right) = \frac{1}{3}(m+n+p)$$

إذن $g = g'$ ، فالنقطتان G و G' منطبقتان.

2 استعمال العدد العقدي الممثل لشعاع

1.2. المسافة والزاوية



ليكن \overrightarrow{AB} شعاعاً، ولتكن M النقطة التي تحقق $\overrightarrow{OM} = \overrightarrow{AB}$. نستنتج من تساوي هذين الشعاعين أن:

$$z_M = z_B - z_A$$

ولكن $|z_M| = OM = AB$ إذن

$$(1) \quad AB = |z_B - z_A|$$

وكذلك، في حالة $\overrightarrow{AB} \neq \vec{0}$ يكون $\overrightarrow{OM} \neq \vec{0}$ ، و $\arg(z_M) = (\vec{u}, \overrightarrow{OM})$ ، إذن نستنتج من المساواة $\overrightarrow{OM} = \overrightarrow{AB}$ أن

$$(2) \quad (\vec{u}, \overrightarrow{AB}) = \arg(z_B - z_A)$$

2.2. قياس الزاوية الموجهة

مبرهنة 3

لتكن A و B و C و D أربع نقاط تمثلها الأعداد العقدية z_A و z_B و z_C و z_D . نفترض أن $z_C \neq z_D$ و $z_A \neq z_B$ عندئذ

$$(\overrightarrow{AB}, \overrightarrow{CD}) = \arg\left(\frac{z_D - z_C}{z_B - z_A}\right)$$

الإثبات

استناداً إلى علاقة شال في الزوايا الموجهة لدينا

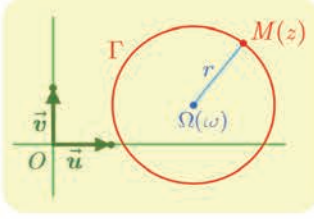
$$\begin{aligned} (\overrightarrow{AB}, \overrightarrow{CD}) &= (\overrightarrow{AB}, \vec{u}) + (\vec{u}, \overrightarrow{CD}) = (\vec{u}, \overrightarrow{CD}) - (\vec{u}, \overrightarrow{AB}) \\ &= \arg(z_D - z_C) - \arg(z_B - z_A) \\ &= \arg\left(\frac{z_D - z_C}{z_B - z_A}\right) \end{aligned}$$

ملاحظة: في الحالة الخاصة الموافقة لثلاث نقاط متباينة M و A و B تمثلها الأعداد العقدية z و a و b

و بالترتيب لدينا:

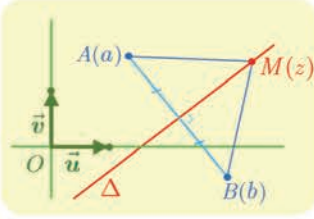
$$(\overrightarrow{MA}, \overrightarrow{MB}) = \arg\left(\frac{z - b}{z - a}\right)$$

3.2. تمثيل بعض المجموعات الخاصة



▪ ليكن r عدداً حقيقياً موجباً تماماً، وليكن ω عدداً عقدياً. عندئذ المجموعة Γ المكوّنة من النقاط $M(z)$ التي يُحقّق العدد العقدي z الذي يمثلها الشرط $|z - \omega| = r$ هي الدائرة التي مركزها النقطة $\Omega(\omega)$ ونصف قطرها r .

في الحقيقة، الشرط $|z - \omega| = r$ يُكافئ $OM = r$.



▪ لتكن A و B نقطتان يمثلهما العددين العقديان a و b حيث $(a \neq b)$. عندئذ المجموعة Δ المكوّنة من النقاط $M(z)$ التي يُحقّق العدد العقدي z الذي يمثلها الشرط $|z - a| = |z - b|$ هي محور القطعة المستقيمة $[AB]$.

في الحقيقة، الشرط $|z - a| = |z - b|$ يُكافئ $MA = MB$.

تكريساً للفهم

❓ ما الفائدة من حساب النسبة $\frac{z_D - z_C}{z_B - z_A}$ في حالة $z_B \neq z_A$ ؟

▪ لأنّ طويلة هذا العدد تمثل نسبة الطولين $\frac{CD}{AB}$.

▪ لأنّ أي زاوية θ له هي قياس للزاوية الموجهة $(\overrightarrow{AB}, \overrightarrow{CD})$.

♦ فإذا كان $\theta = 0$ أو $\theta = \pi$ استنتجنا الارتباط الخطّي للشعاعين \overrightarrow{AB} و \overrightarrow{CD} .

♦ وإذا كان $\theta = \frac{\pi}{2}$ أو $\theta = -\frac{\pi}{2}$ استنتجنا تعامد الشعاعين \overrightarrow{AB} و \overrightarrow{CD} .

استعمال خارج قسمة أعداد عقدية

مثال

لتكن A و B و C و D أربع نقاط تمثلها الأعداد العقدية $a = -2$ و $b = 2$ و $c = -1 + i$ و $d = 1 - 3i$. أثبت أنّ المثلثين ACD و BCD قائمان.

لإثبات تعامد المستقيمين (BC) و (BD) ، يكفي أن نبرهن أنّ $\arg\left(\frac{d-b}{c-b}\right)$ تساوي $\frac{\pi}{2}$



أو $-\frac{\pi}{2}$.

الحل

لنحسب العددين $Z = \frac{d-b}{c-b}$ و $Z' = \frac{d-a}{c-a}$.

▪ نجد أولاً أن

$$Z = \frac{-1-3i}{-3+i} = \frac{(-1-3i)(-3-i)}{10} = i$$

ومن ثم $|Z| = 1$ و $\arg(Z) = \frac{\pi}{2}$. هندسياً هذا يعني أن $DB = CB$ و $\widehat{CBD} = \frac{\pi}{2}$ فالمثلث

CBD متساوي الساقين وقائم في B .

▪ وكذلك نجد

$$Z' = \frac{3-3i}{1+i} = \frac{3(1-i)(1-i)}{2} = -3i$$

ومن ثم $\arg(Z') = -\frac{\pi}{2}$ ، وهذا يعني أن المثلث ACD قائم في A .



① لتكن النقاط A و B و C التي تمثلها الأعداد العقدية:

$$z_C = -\frac{1}{2} - \frac{1}{2}i \text{ و } z_B = 2 + i \text{ و } z_A = -1 + i$$

① وضح النقاط A و B و C في شكل.

② احسب الأعداد العقدية التي تمثل الأشعة \overrightarrow{AB} و \overrightarrow{AC} و \overrightarrow{BC} .

③ احسب أطوال أضلاع المثلث ABC وبيّن إذا كان مثلثاً قائماً في C .

② لتكن النقاط A و B و C و D التي تمثلها الأعداد العقدية:

$$z_D = -3 - i \text{ و } z_C = \frac{1}{2} - \frac{3}{2}i \text{ و } z_B = \frac{7}{2} + i \text{ و } z_A = \frac{3}{2}i$$

① وضح النقاط A و B و C و D في شكل.

② ما طبيعة الرباعي $ABCD$ ؟

③ لتكن النقطتان A و B اللتان تمثلهما الأعداد العقدية: $z_A = 2(1 + i\sqrt{3})$ و $z_B = 2(1 - i\sqrt{3})$.

① أثبت أن A و B تنتميان إلى الدائرة التي مركزها O ونصف قطرها يساوي 4.

② جد العدد العقدي الممثل للنقطة C التي تجعل O مركز ثقل المثلث ABC .

③ ما طبيعة المثلث ABC ؟

④ نتأمل شعاعين \vec{U} و \vec{V} يمثلهما العدديان u و v بالترتيب. نفترض أن $v = iu$ ونضع

$$\vec{AB} = \vec{U} \text{ و } \vec{AC} = \vec{V}. \text{ أثبت أن المثلث } ABC \text{ قائم في } A \text{ ومتساوي الساقين.}$$

⑤ المثلثان ABC و $A'B'C'$ معرّفان بالأعداد العقدية التي تمثل رؤوسهما:

$$c = 2 + i, \quad b = 2 + 3i, \quad a = 1 - i,$$

$$c' = 4 + i, \quad b' = 3 - i, \quad a' = -2 + 3i,$$

① احسب العدد الممثل للشعاع $\overrightarrow{AA'} + \overrightarrow{BB'} + \overrightarrow{CC'}$.

② جد العدد العقدي الممثل للنقطة G مركز ثقل المثلث ABC .

③ أثبت أن G هي مركز ثقل المثلث $A'B'C'$.

⑥ لنكن النقاط A و B و C التي تمثلها الأعداد العقدية:

$$c = 3 + \frac{7}{4}i \quad \text{و} \quad b = 2 - \frac{5}{4}i \quad \text{و} \quad a = 1 + \frac{3}{4}i$$

① وُضِعَ النقاط A و B و C في شكل. ما العلاقات التي تربط الأعداد العقدية المُمثلة للشعاعين \overrightarrow{AB} و \overrightarrow{AC} ؟

② استنتج أن ABC مثلث قائم ومتساوي الساقين.

③ احسب العدد العقدي الممثل للنقطة A' التي تجعل $ABA'C$ مربعاً.

⑦ لنكن النقاط A و B و C و D التي تمثلها الأعداد العقدية:

$$d = -4 - 2i \quad \text{و} \quad c = 4 + 2i \quad \text{و} \quad b = -1 + 7i \quad \text{و} \quad a = 2 - 2i$$

① لنكن Ω النقطة التي يمثلها العدد العقدي $\omega = -1 + 2i$. أثبت وقوع النقاط A و B و C و D على دائرة مركزها Ω ونصف قطرها يساوي 5.

② ليكن e العدد الممثل للنقطة E منتصف $[AB]$. احسب e وبرهن أن $\frac{a-e}{d-e} = \frac{c-e}{a-e}$.

③ ماذا يمثل المستقيم (EA) في المثلث DEC ؟

⑧ لنكن النقطتان A و B اللتان تمثلهما الأعداد العقدية : 1 و $3 + 2i$ بالترتيب. مثل في كل من

الحالتين الآتيتين مجموعة النقاط $M(z)$ التي تحقّق:

$$|z - 1| = |z - 3 - 2i| \quad \text{①}$$

$$|z - 3 - 2i| = 1 \quad \text{②}$$

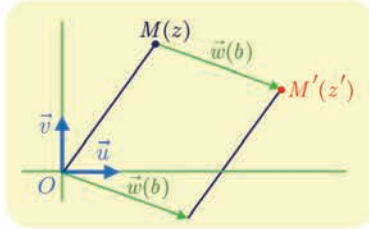
3 الكتابة العقدية للتحويلات الهندسية

3

في هذه الفقرة نزوّد المستوي بمعلم متجانس ومباشر $(O; \vec{u}, \vec{v})$. إذا كان \mathcal{U} تحويلًا يقرب بكل نقطة M يمثلها العدد العقدي z نقطة M' يمثلها العدد العقدي z' . عندئذ يمكننا أن نقرن بالتحويل \mathcal{U} تابعاً معرفاً على \mathbb{C} بالصيغة $f: z \rightarrow z' = f(z)$. وما الكتابة $z' = f(z)$ إلا الصيغة العقدية للتحويل \mathcal{U} .

1.3. الصيغة العقدية للانسحاب

مبرهنة 3



ليكن \vec{w} شعاعاً يمثل العدد العقدي b . عندئذ هناك تكافؤ بين الخاصتين:

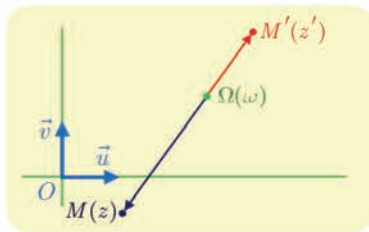
- 1 T هو الانسحاب الذي شعاعه \vec{w} .
- 2 الصيغة العقدية للتحويل T هي $z' = z + b$.

الإثبات

في الحقيقة تكافؤ الخاصّة 1 القول إنّ $\overline{MM'} = \vec{w}$ ، وهذا يعني أنّ $z' - z = b$ أو $z' = z + b$ ، وهذه هي الخاصّة 2.

2.3. الصيغة العقدية للتحاكي

مبرهنة 4



لتكن Ω التي يمثلها العدد العقدي ω ، وليكن k عدداً حقيقياً غير معدوم. عندئذ هناك تكافؤ بين الخاصتين:

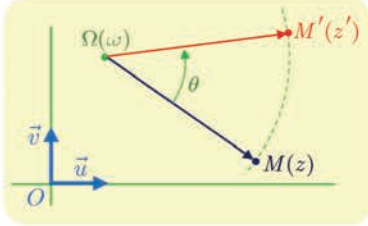
- 1 \mathcal{H} هو التحاكي الذي مركزه Ω ونسبته k .
- 2 الصيغة العقدية للتحويل \mathcal{H} هي $z' - \omega = k(z - \omega)$.

الإثبات

في الحقيقة، تنصّ الخاصّة 1 على أنّ $\mathcal{H}(M) = M'$ وهذا يُكافئ القول إنّ $\overline{\Omega M'} = k \overline{\Omega M}$ ، وهذا يعني أنّ $z' - \omega = k(z - \omega)$ ، وهي الخاصّة 2.

3.3. الصيغة العقدية للدوران

مبرهنة 5



لتكن Ω التي يمثلها العدد العقدي ω ، وليكن θ عدداً حقيقياً. عندئذ هناك تكافؤ بين الخاصتين:


- 1 \mathcal{R} هو الدوران الذي مركزه Ω وزاويته θ .
- 2 الصيغة العقدية للتحويل \mathcal{R} هي $z' - \omega = e^{i\theta}(z - \omega)$.

الإثبات

في الحقيقة، تنص الخاصة 1 على أن $\mathcal{R}(M) = M'$ وهذا يعني أن $\mathcal{R}(\Omega) = \Omega$ وفي حالة $M \neq \Omega$ ، يكافئ هذا القول إن $\Omega M' = \Omega M$ و $(\overrightarrow{\Omega M}, \overrightarrow{\Omega M'}) = \theta$ ، أو

$$\arg\left(\frac{z' - \omega}{z - \omega}\right) = \theta \quad \text{و} \quad \left|\frac{z' - \omega}{z - \omega}\right| = 1$$

وهذا يعني أن الشكل الأسّي للعدد $\frac{z' - \omega}{z - \omega}$ هو $e^{i\theta}$ ، أي $z' - \omega = e^{i\theta}(z - \omega)$ ، وهذه النتيجة تبقى صحيحة في حالة $z = \omega$ لأن هذه تقتضي $z' = \omega$ وتتفق مع $\mathcal{R}(\Omega) = \Omega$ ومنه الخاصة 2.

وبوجه خاص الصيغة العقدية للدوران الذي مركزه O وزاويته θ هي $z \mapsto z' = e^{i\theta}z$ 

تكريساً للفهم

كيف نستعمل الصيغة العقدية لتحويل؟ 

■ إذا كان U تحويلاً معطى، ففي حالة كل نقطة $M(z)$ تفيد الصيغة العقدية في حساب العدد العقدي z' الذي يمثل M' صورة M وفق U .

مثال التحويل \mathcal{H} هو التحاكي الذي مركزه $\Omega(1+i)$ ونسبته $k=3$. إذن الصيغة العقدية لهذا التحاكي هي $z' - (1+i) = 3(z - (1+i))$ أو $z' = 3z - 2 - 2i$. إذن صورة النقطة $A(2-i)$ وفق \mathcal{H} هي A' التي يمثلها العدد العقدي $a' = 3(2-i) - 2 - 2i = 4 - 5i$.

■ إذا ارتبطت النقطتان $M(z)$ و $M'(z')$ بعلاقات مثل:

⊙ $z' = z + b$ كانت M' صورة M بالانسحاب الذي شعاعه ممثل بالعدد العقدي b .

⊙ $z' - \omega = k(z - \omega)$ حيث $k \in \mathbb{R}^*$ كانت M' صورة M وفق التحاكي الذي مركزه $\Omega(\omega)$ ونسبته k .

⊙ $z' - \omega = e^{i\theta}(z - \omega)$ حيث $\theta \in \mathbb{R}$ كانت M' صورة M وفق الدوران الذي مركزه $\Omega(\omega)$ وزاويته θ . وإذا كان $z' = e^{i\theta}z$ كان $\Omega = O$.

؟ حول الشكل المفتاحي: مثلث قائم ومتساوي الساقين.

إذا كانت $A(a)$ و $B(b)$ و $C(c)$ ثلاث نقاط في المستوي، عندئذ يكون ABC قائم الزاوية في A ومتساوي الساقين إذا فقط إذا كانت B صورة C وفق دوران مركزه A وزاويته $\frac{\pi}{2}$ أو $-\frac{\pi}{2}$ وهذا يعني أن $c - a = i(b - a)$ أو $c - a = -i(b - a)$.

؟ حول الشكل المفتاحي: مثلث متساوي الأضلاع.

إذا كانت $A(a)$ و $B(b)$ و $C(c)$ ثلاث نقاط في المستوي، عندئذ يكون ABC مثلثاً متساوي الأضلاع إذا فقط إذا كانت B صورة C وفق دوران مركزه A وزاويته $\frac{\pi}{3}$ أو $-\frac{\pi}{3}$ وهذا يعني أن $c - a = e^{i\pi/3}(b - a)$ أو $c - a = e^{-i\pi/3}(b - a)$.

تَدْرِبْ

① لتكن M النقطة التي يمثلها العدد العقدي $z = 1 + i$. جد العدد العقدي z' المُمثل للنقطة M' صورة M وفق التحويل الموصوف في كل مما يأتي:

- ① T الانسحاب الذي شعاعه $\vec{w} = -2\vec{u} + 3\vec{v}$. ② \mathcal{H} التحاكي الذي مركزه O ونسبته 3.
- ③ \mathcal{R} الدوران الذي مركزه O وزاويته $\frac{\pi}{4}$. ④ S التناظر الذي مركزه $A(1 - 3i)$.
- ⑤ \mathcal{R} الدوران الذي مركزه $A(2 - i)$ وزاويته $\frac{2\pi}{3}$. ⑥ S التناظر المحوري الذي محوره (Ox) .

② فيما يأتي يرتبط العددان العقديان a و b الممثلان للنقطتين A و B بالعلاقة المعطاة. عيّن طبيعة التحويل الهندسي الذي يقرب النقطة B بالنقطة A :

- | | | | |
|-------------------------------------|---|--------------------|---|
| $b = -ia$ | ② | $b = a - 1 + 3i$ | ① |
| $b = 2a$ | ④ | $b = \bar{a}$ | ③ |
| $b - i = e^{i\pi/3}(a - i)$ | ⑥ | $b - 1 = -(a - 1)$ | ⑤ |
| $b + 1 - i = e^{i\pi/4}(a + 1 - i)$ | ⑧ | $b = a + 4 - 3i$ | ⑦ |

③ لتكن النقطتان $G(3 - i\sqrt{3})$ و $H(3 + i\sqrt{3})$. وليكن \mathcal{R} الدوران الذي مركزه O ويحقق $\mathcal{R}(G) = H$. احسب قياس الزاوية $(\overrightarrow{OG}, \overrightarrow{OH})$ ، واستنتج الصيغة العرقية للدوران \mathcal{R} .

فيما يأتي نتأمل النقاط A و B و C و D و M و M' التي تمثلها الأعداد العقدية a و b و c و d و z و z' .

أفكار يجب تمثيلها



- العدد $b - a$ يمثل الشعاع \overrightarrow{AB} .
- توافق كل مساواة شعاعية مساواة بين الأعداد العقدية الموافقة.
- العدد العقدي الموافق لمركز الأبعاد المتناسبة لعدد n من النقاط المثقلة، هو المتوسط المثقل للأعداد العقدية التي تمثل هذه النقاط.
- $AB = |a - b|$ و $(\vec{u}, \overrightarrow{AB}) = \arg(b - a)$.
- في حالة $a \neq b$ و $c \neq d$ تفيد معرفة $\frac{d - c}{b - a}$ في إعطاء معلومتين: أولاً $r = \left| \frac{d - c}{b - a} \right|$ وتعني أن $CD = rAB$ ، وثانياً $\theta = \arg\left(\frac{d - c}{b - a}\right)$ وتعني أن $(\overrightarrow{AB}, \overrightarrow{CD}) = \theta$.

منعكسات يجب امتلاكها



- لإثبات وقوع A و B و C على استقامة واحدة، أثبت وجود عدد حقيقي k يحقق المساواة $c - a = k(b - a)$ أو أن $\arg\left(\frac{c - a}{b - a}\right) \in \{0, \pi\}$ أو أن $\frac{c - a}{b - a}$ عدد حقيقي.
- لإثبات تعامد المستقيمين (AB) و (CD) أثبت أن $\arg\left(\frac{c - d}{b - a}\right) \in \left\{\frac{\pi}{2}, -\frac{\pi}{2}\right\}$ أو أن $\frac{c - d}{b - a}$ تخيلي بحت.

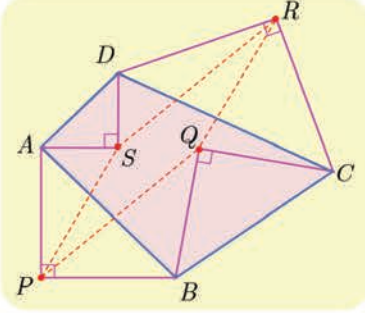
أخطاء يجب تجنبها



- لا تتس تزويد المستوي بمعلم متجانس قبل استعمال الأعداد العقدية.

أنشطة

نشاط 1 متوازي الأضلاع وربيع الدورة



نتأمل في مستو مزود بمعلم متجانس رباعياً محدباً $ABCD$. وننشئ عليه مثلثات قائمة ومتساوية الساقين PAB و QBC و RCD و SDA بحيث

$$(\overrightarrow{QB}, \overrightarrow{QC}) = \frac{\pi}{2} \text{ و } (\overrightarrow{PA}, \overrightarrow{PB}) = -\frac{\pi}{2}$$

$$(\overrightarrow{SD}, \overrightarrow{SA}) = \frac{\pi}{2} \text{ و } (\overrightarrow{RC}, \overrightarrow{RD}) = -\frac{\pi}{2}$$

نهدف إلى استعمال الأعداد العقدية في إثبات أن $PQRS$ متوازي الأضلاع.

لنفترض أن الشكل مرسوم في المستوي الموجّه، وقد زدناه بمعلم متجانس مباشر. ولنرمز a و b و c و d إلى الأعداد العقدية التي تمثل النقاط A و B و C و D ، وكذلك لنرمز p و q و r و s إلى الأعداد العقدية التي تمثل النقاط P و Q و R و S .

① الدوران الذي مركزه P وزاويته $-\frac{\pi}{2}$ ينقل A إلى B . استعمال الصيغة العقدية لتثبت أن

$$p = \frac{1}{2}(a(1+i) + b(1-i))$$

② عبّر بالمثل عن q و r و s بدلالة a و b و c و d .

③ تبيّن أن $p + r = q + s$ ، ثم استنتج المطلوب.

نشاط 2 الجذور التكعيبيّة للواحد. المثلث المتساوي الأضلاع

نهدف في هذه الفقرة إلى تعيين حلول المعادلة $z^3 = 1$ في \mathbb{C} ، ثم استعمال ذلك لإعطاء خاصّة

مميّزة للمثلث متساوي الأضلاع.

① في حالة $z \neq 0$ نرمز بالرّمز r إلى طويّلة z وبالرّمز θ إلى زاويته من المجال $[0, 2\pi[$.

② تبيّن أن الشرط $z^3 = 1$ يقتضي أن يكون $r = 1$ و $3\theta = 2\pi k$ حيث k عدد صحيح.

③ تحقّق أن الشرط $\theta \in [0, 2\pi[$ يقتضي في الحقيقة أن $k \in \{0, 1, 2\}$.

④ استنتج أن مجموعة حلول المعادلة $z^3 = 1$ محتواة في $\mathbb{U}_3 = \{1, e^{2i\pi/3}, e^{4i\pi/3}\}$.

⑤ وبالعكس تحقّق أن كل عنصر من $\mathbb{U}_3 = \{1, e^{2i\pi/3}, e^{4i\pi/3}\}$ هو حلّ للمعادلة $z^3 = 1$.

⑥ مثلّ النقاط $M_0(1)$ و $M_1(e^{2\pi i/3})$ و $M_2(e^{4\pi i/3})$ في المستوي، وتبيّن أنها تؤلّف رؤوس مثلث

متساوي الأضلاع.



نسمي حلول المعادلة $z^3 = 1$ الجذور التكعيبيّة للواحد ونرمز إلى مجموعتها بالرمز U_3 .

وكذلك نرمز إلى $e^{2i\pi/3}$ بالرمز j . لاحظ أنّ $U_3 = \{1, j, j^2\}$.

$$\textcircled{6} \text{ تحقق أنّ } 1 + j + j^2 = 0, \text{ و } \bar{j} = j^2 = e^{-2i\pi/3}.$$

2 نزود المستوي بمعلم متجانس مباشر $(O; \vec{u}, \vec{v})$. ونأمل ثلاث نقاط متباينة A و B و C تمثلها

الأعداد العقديّة a و b و c . نقول إنّ ABC مثلث متساوي الأضلاع مباشر إذا كنا عند قراءة رؤوسه بهذا الترتيب: $A \rightarrow B \rightarrow C \rightarrow A$ ندور في الاتجاه الموجب. وهذا يكافئ القول إنّ A هي صورة C

وفق الدوران الذي مركزه B وزاويته $\frac{\pi}{3}$.

استعمل نتائج الفقرة السابقة لتثبت أنّ ABC مثلث متساوي الأضلاع مباشر إذا وفقط إذا كان

$$a + bj + cj^2 = 0$$

3 نقرن بكل عدد $z \neq 1$ ، النقاط $R(1)$ و $M(z)$ و $M'(\bar{z})$.

1 ما هي قيم z التي تجعل M و M' مختلفتين؟

2 نفترض تحقق الشرط السابق. أثبت أنّ Δ مجموعة النقاط $M(z)$ التي تجعل المثلث RMM'

مثلثاً متساوي الأضلاع مباشر، هي مستقيم محذوفةً منه نقطة.



تمارينات ومسابقات

1 تتأمل النقاط A و B و C التي توافق بالترتيب الأعداد العقدية $a = 8$ و $b = -4 + 4i$ و $c = -4i$ و

$$c = -4i$$

1.a. تحقق أن $b - c = i(a - c)$.

b. استنتج أن المثلث ABC مثلث قائم ومتساوي الساقين.

2 نقرن بكل نقطة $M(z)$ النقطة M' الموافقة للعدد العقدي $z' = e^{i\pi/3}z$.

a. ما التحويل الهندسي الموافق؟

b. احسب الأعداد العقدية a' و b' و c' الموافقة للنقاط A' و B' و C' صور A و B و C وفق هذا التحويل.

3 لتكن P و Q و R منتصفات القطع المستقيمة $[A'B]$ و $[B'C]$ و $[C'A]$ ، ولتكن p و q و r الأعداد العقدية التي توافقها.

a. احسب p و q و r .

b. تحقق أن $r - p = e^{i\pi/3}(q - p)$.

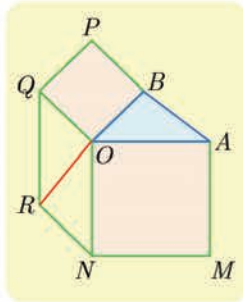
c. استنتج أن المثلث PQR متساوي الأضلاع.

2 تتأمل مثلثاً OAB فيه $(\overrightarrow{OA}, \overrightarrow{OB}) = \alpha$ حيث $\alpha \in]0, \pi[$. نُنشئ خارج هذا المثلث المربعين

$OAMN$ و $OBPQ$ ومتوازي الأضلاع $NOQR$. نهدف في هذا التمرين إلى إثبات أن

المستقيمين (OR) و (AB) متعامدان وأن $OR = AB$ ، وذلك باستعمال الأعداد العقدية.

لنختار معلماً متجانساً مباشراً (O, \vec{u}, \vec{v}) . وليكن a و b العددين العقديين اللذين يمثلان A و B .



1.a. ما هي صور النقطتين B و N وفق الدوران ربع دورة مباشرة حول O ؟

b. نرمز n إلى العدد العقدي الممثل للنقطة N ، و q للعدد العقدي

الموافق للنقطة Q . أثبت أن $n = -ia$ و $q = ib$.

2.a. عبّر عن \overrightarrow{OR} بدلالة \overrightarrow{ON} و \overrightarrow{OQ} .

b. استنتج العدد العقدي r الذي يمثل النقطة R بدلالة a و b .

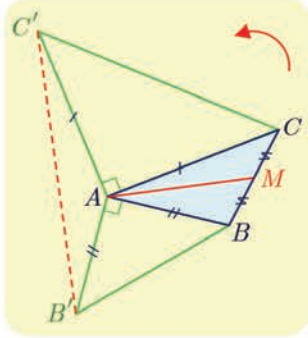
c. ما العدد العقدي الممثل للشعاع \overrightarrow{AB} ؟

d. أثبت إذن أن $OR = AB$ وأن $(\vec{u}, \overrightarrow{OR}) = \frac{\pi}{2} + (\vec{u}, \overrightarrow{AB})$. واستنتج تعامد المستقيمين (OR)

و (AB) .



لنتعلم البحث معاً



3 دراسة شكل

نتأمل في المستوي ABC مثلثاً مباشراً التوجيه كيفياً. لتكن M منتصف $[BC]$ ، وليكن $AB'B$ و ACC' مثلثين قائمين في A ومتساويي الساقين مباشرين. أثبت أن المتوسط (AM) في المثلث ABC ، هو ارتفاع في المثلث $AB'C'$ وأن $B'C' = 2AM$.

نحو الحل

نبدأ باختيار معلم مباشر مناسب. تؤدي النقطة A دوراً أساسياً، لذلك نعتبرها مبدأ لهذا المعلم. ونرمز بالرمزين b و c إلى العددين العقديين اللذين يمثلان النقطتين B و C . احسب بدلالة b و c الأعداد العقدية b' و c' و m المُمثلة للنقاط B' و C' و M بالترتيب.

نهدف إلى إثبات أن $\overrightarrow{B'C'}$ عمودي على \overrightarrow{AM} ، الذي يؤول إلى إثبات أن

$$\frac{B'C'}{AM} = 2 \quad \text{وأن} \quad (\overrightarrow{AM}, \overrightarrow{B'C'}) = -\frac{\pi}{2} \quad \text{أو} \quad (\overrightarrow{AM}, \overrightarrow{B'C'}) = +\frac{\pi}{2}$$

ومنه تأتي فكرة حساب النسبة $\frac{c' - b'}{m - a}$ ، التي تعطي مباشرة جميع المعلومات المطلوبة. احسب هذه النسبة واستنتج الخاصّة المطلوبة.

أنجز الحلّ واكتبه بلغة سليمة.

4 البحث عن مجموعة

نزود المستوي بمعلم متجانس مباشر $(O; \vec{u}, \vec{v})$. نقرن كل نقطة $M(z)$ حيث $z \neq i$ بالنقطة

$$M(z') \quad \text{حيث} \quad z' = \frac{z+2}{z-i}$$

- عيّن Δ مجموعة النقاط M التي يكون عندها z' عدداً حقيقياً.
- عيّن Γ مجموعة النقاط M التي يكون عندها z' عدداً تخيلياً بحتاً.

نحو الحل

التفسير الهندسي: الشرط z' عدد حقيقي يُكافئ القول $\text{Im}(z') = 0$ أو $z' = \bar{z}'$ ، أو $\arg z' \in \{0, \pi\}$

(في حالة $z' \neq 0$). ولأن z' من الشكل $\frac{z-a}{z-b}$ وجدنا من المناسب استعمال الخاصّة الأخيرة.

لنرمز a و b و z إلى الأعداد العقدية التي تمثل النقاط A و B و M . ما الزاوية بين شعاعين

$$\text{التي يقيسها المقدار} \quad \arg\left(\frac{z-a}{z-b}\right) \quad ?$$

لوضع z' بالشكل $\frac{z-a}{z-b}$ ، نكتب $z' = \frac{z-(-2)}{z-i}$ ، ونعرّف النقطتين $A(-2)$ و $B(i)$.

① وضع هاتين النقطتين.

② تحقق أن z' حقيقي إذا وفقط إذا كان $M = B$ أو $(\overrightarrow{MA}, \overrightarrow{MB}) \in \{0, \pi\}$.

③ مثل المجموعة Δ وعين طبيعتها الهندسية. (لا تنس أن $z \neq i$ ومن ثم $M \neq B$).

④ عين بالمثل المجموعة Γ ومثلها هندسياً.

أنجز الحل واكتبه بلغة سليمة.



قُدماً إلى الأمام

5 خاصة مميزة لمنازلي الأضلاع

تمثل الأعداد العقدية a و b و c و d أربع نقاط A و B و C و D . أثبت أن الرباعي $ABCD$ يكون متوازي الأضلاع إذا وفقط إذا كان $a + c = b + d$.

6 حساب النسب المثلثية للزاوية $\frac{3\pi}{8}$.

نتأمل النقطتين A و B اللتين يمثلهما العددان $a = 2$ و $b = 2e^{3i\pi/4}$. وليكن I منتصف $[AB]$.

① ارسم شكلاً مناسباً، وبين طبيعة المثلث OAB .

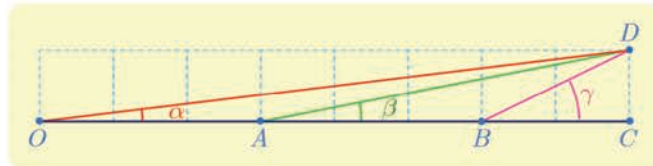
b . استنتج قياساً للزاوية $(\vec{u}, \overrightarrow{OI})$.

② احسب العدد العقدي z_I الممثل للنقطة I بصيغته الجبرية والأسية.

b . استنتج كلاً من $\cos \frac{3\pi}{8}$ و $\sin \frac{3\pi}{8}$.

7 تأمل الشكل واحسب المجموع $\alpha + \beta + \gamma$ ، حيث α و β و γ هي القياسات الأساسية للزوايا

الموجهة $(\overrightarrow{OA}, \overrightarrow{OD})$ ، و $(\overrightarrow{AB}, \overrightarrow{AD})$ و $(\overrightarrow{BC}, \overrightarrow{BD})$ بالترتيب.

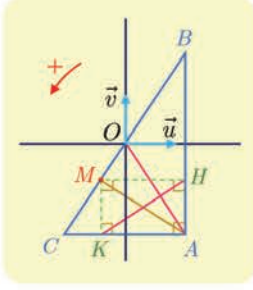


8 نقرن بكل نقطة $M(z)$ من المستوي حيث $z \neq -\frac{1}{2}i$ التي يمثلها العدد العقدي

$z' = \frac{z+2i}{1-2iz}$. لتكن Γ الدائرة التي مركزها O ونصف قطرها 1. أثبت أنه إذا انتمت M إلى

Γ انتمت M' إلى Γ أيضاً. أياكون العكس صحيحاً؟

9 مسألة تعامد



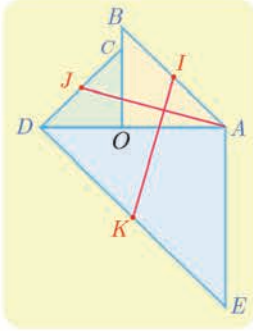
نتأمل في المستوي الموجّه، مثلثاً مباشراً ABC قائماً في A . النقطة M هي المسقط القائم للنقطة A على (BC) بالترتيب، و H و K هما المسقطان القائمان للنقطة M على (AB) وعلى (AC) بالترتيب. نهدف إلى إثبات تعامد المستقيمين (OA) و (HK) .

نختار معلماً متجانساً ومباشراً $(O; \vec{u}, \vec{v})$ بحيث تقع O في منتصف $[BC]$ ويكون \vec{u} عمودياً على (AB) و \vec{v} شعاعاً موجّهاً للمستقيم (AB) . ونرمز a, b, c, h, k, m إلى الأعداد العقدية التي تمثل النقاط A, B, C, H, K, M .

① علّل ما يأتي : $a = \bar{b}$ و $a - m = \overline{h - k}$.

② أثبت أنّ $\arg\left(\frac{a - m}{b}\right) = -\frac{\pi}{2}$ أو $\arg\left(\frac{a - m}{b}\right) = \frac{\pi}{2}$.

b استنتج أنّ $\arg\left(\frac{h - k}{a}\right) = -\frac{\pi}{2}$ أو $\arg\left(\frac{h - k}{a}\right) = \frac{\pi}{2}$ ، ثمّ أثبت المطلوب.

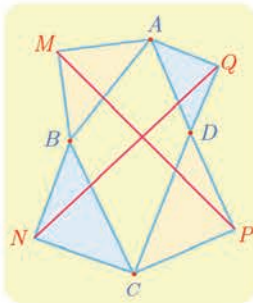


نتأمل في المستوي الموجّه الشكل المجاور. المثلثات OCD و OAB و ADE مثلثات قائمة ومتساوية الساقين ومباشرة. النقاط K و J و I هي منتصفات أوتار هذه المثلثات. نهدف إلى إثبات تعامد المستقيمين (AJ) و (IK) وأنّ $IK = AJ$. نختار معلماً متجانساً مباشراً مبدؤه O . ونرمز a و c إلى العددين العقديين المُمثّلين للنقطتين A و C .

① عبّر بدلالة a و c عن الأعداد العقدية التي تمثل النقاط B و D و E .

b استنتج الأعداد العقدية z_I و z_J و z_K التي تمثل النقاط I و J و K .

② أثبت أنّ $z_K - z_I = i(z_J - a)$. ثمّ استنتج الخواص المطلوبة.



نتأمل في المستوي الموجّه رباعياً محدّباً مباشراً $ABCD$. نُنشئ خارجه النقاط M و N و P و Q التي تجعل المثلثات MBA و NCB و PDC و DQA قائمة في M و N و P و Q بالترتيب ومتساوية الساقين ومباشرة.

أثبت باستعمال الأعداد العقدية أنّ $MP = NQ$ وأنّ المستقيمين (MP)

و (NQ) متعامدان.

12

نتأمل في المستوي الموجّه مثلثاً متساوي الأضلاع مباشراً ABC مركزه النقطة I . D نقطة من داخل القطعة المستقيمة $[BC]$. نُنشئ مثلثين متساوي الأضلاع مباشرين BED و DFC . ونعرّف J و K مركزي المثلثين BED و DFC . نهدف إلى إثبات أنّ المثلث IJK متساوي الأضلاع. نختار معلماً متجانساً مباشراً (B, \vec{u}, \vec{v}) بحيث $\vec{BC} = a\vec{u}$ حيث $a = BC$.

① احسب، بدلالة a ، العددين العقديين z_A و z_I اللذين يمثلان A و I بالترتيب.

② نفترض أنّ $\vec{BD} = t\vec{BC}$ حيث $t \in]0,1[$. احسب بدلالة a و t ، العددين العقديين z_J و z_K اللذين يمثلان J و K بالترتيب.

③ تحقّق أنّ $z_K - z_I = e^{i\pi/3}(z_J - z_I)$ ، واستنتج الخاصّة المرجوّة.

13

نزود المستوي العقدي بمعلم متجانس مباشر $(O; \vec{u}, \vec{v})$. النقاط A و A' و B و B' هي النقاط الموافقة للأعداد العقديّة 1 و -1 و i و $-i$ بالترتيب.

نقرن كل نقطة $M(z)$ مختلفة عن النقاط O و A و A' و B و B' والنقطتين $M_1(z_1)$ و $M_2(z_2)$ بحيث يكون المثلثان BMM_1 و AMM_2 قائمين ومتساويي الساقين بحيث

$$\overrightarrow{(M_1B, M_1M)} = \overrightarrow{(M_2M, M_2A)} = \frac{\pi}{2}$$

① ارسم شكلاً مناسباً.

② a . علّل صحّة المساواتين $z - z_1 = i(i - z_1)$ و $z - z_2 = i(z - z_2) - 1$.

b . عبّر عن z_1 و z_2 بدلالة z .

③ نهدف إلى تعيين النقاط M التي تجعل المثلث OM_1M_2 مثلثاً متساوي الأضلاع.

a . أثبت أنّ الشرط $OM_1 = OM_2$ يكافئ $|z + 1| = |z + i|$ واستنتج Δ مجموعة النقاط

M التي تجعل $OM_1 = OM_2$ ، وارسم Δ على الشكل نفسه.

b . أثبت أنّ الشرط $OM_1 = M_1M_2$ يكافئ $|z + 1|^2 = 2|z|^2$.

c . استنتج Γ مجموعة النقاط M التي تحقّق $OM_1 = M_1M_2$ ، وارسم Γ على الشكل نفسه.

d . استنتج ممّا سبق النقاط M التي تجعل OM_1M_2 مثلثاً متساوي الأضلاع. وحددها على

الشكل.

6 التحليل التوافقي

انطلاقة نشطة



نشاط 1 تعداد القوائم : الأشجار والخانات.

1 مسائل التعداد

كثيراً ما يؤول حلّ بعض مسائل التعداد إلى الإجابة عن السؤال الآتي : لدينا مجموعة E مكونة من n عنصراً. نُعطى عدداً طبيعياً p ، ونهتم بعدد القوائم المكونة من p بنداً مأخوذاً من E . لاحظ أن القائمة تحترم الترتيب، فهناك أول عنصر في القائمة، وهناك ثاني عنصر في القائمة وهكذا، فالقائمة (a, b, c, \dots) مختلفة عن القائمة (a, c, b, \dots) ، وكذلك يمكن للعنصر نفسه أن يظهر مرّات عدّة في بنود القائمة، فمثلاً (a, b, b, \dots) هي أيضاً قائمة.

① إلقاء قطعة نقود. نلقي قطعة نقود ثلاث مرات متتالية، في كلّ مرّة يمكن أن يظهر الوجه H أو القفا T . يمكن تمثيل كل نتيجة للتجربة بكلمة مثل HTT إذا ظهر في المرة الأولى الوجه H ثمّ ظهر القفا T في المرّتين اللاحقتين.

⊙ ما عدد النتائج الممكنة لهذه التجربة ؟

لاحظ أنّه إذا رمزنا إلى المجموعة $\{H, T\}$ بالرمز E ، كان المطلوب هو عدد القوائم المكونة من ثلاثة بنود مأخوذة من E . هنا إذن $p = 3$ و $n = 2$.

② الترتيب. في مباراة للجري يتنافس خمسة متسابقين.

⊙ ما هو عدد النتائج المختلفة الممكنة لهذه المباراة مع افتراض عدم وقوع حالات تساوي في

الترتيب؟

لنسمّ المتسابقين A و B و C و D و E ، ولتكن $\mathcal{E} = \{A, B, C, D, E\}$. إن عدد النتائج الممكنة هو عدد جميع القوائم المكونة من خمسة بنود مختلفة مأخوذة من \mathcal{E} . هنا إذن $n = 5$ و $p = 5$.

③ السحب دون إعادة. يحوي صندوق خمس كرات مرقّمة ① و ② و ③ و ④ و ⑤. نسحب على

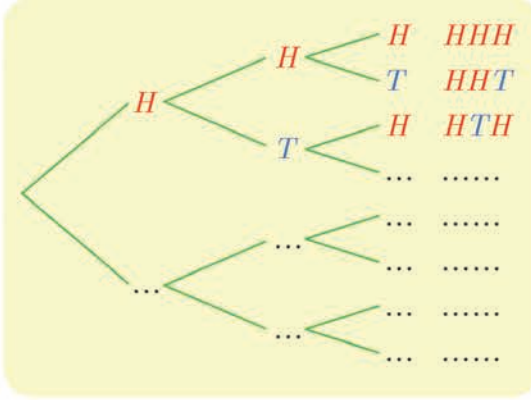
التتالي ثلاث كرات ونسجّل وفق ترتيب السحب أرقام هذه الكرات مثلاً (④, ①, ③).

⊙ ما عدد النتائج الممكنة لهذه العملية؟

إن عدد النتائج الممكنة هو عدد جميع القوائم المكونة من ثلاثة بنود مختلفة-لأنّ الكرة المسحوبة لا

تعود إلى الصندوق- مأخوذة من المجموعة $\mathcal{E} = \{①, ②, ③, ④, ⑤\}$. هنا إذن $n = 5$ و $p = 3$.

2 بعض طرائق التعداد



لنرجع إلى المثال الأول أعلاه.

① استعمال التمثيل الشجري. لتعيين جميع

النتائج الممكنة يُمكن الاستعانة بالشجرة في الشكل المجاور التي يطلب منك إتمامها.

⊙ ما هي النتائج الممكنة؟ وما عددها؟

من السهل تعداد الفروع النهائية لمثل هذه الشجرة. إذا كان كل فرع في المرحلة i يتفرع إلى العدد ذاته n_i من الفروع، كان عدد الفروع النهائية مساوياً لجداء ضرب هذه الأعداد أي $n_1 \times n_2 \times \dots \times n_p$ وهذا ما ينصّ عليه المبدأ الأساسي في العدّ.

② استعمال الخانات. بدلاً من استعمال شجرة يمكننا الاستفادة من تقنية ملء الخانات.

خانة 3	خانة 2	خانة 1
<input type="text"/>	<input type="text"/>	<input type="text"/>

فمثلاً يمكننا عند دراسة المثال المتعلق بإلقاء قطعة النقود القول

إننا نحصل على جميع النتائج الممكنة عن طريق ملء كل واحدة

من الخانات المرقّمة 1 و 2 و 3 بأحد الحرفين H أو T .

⊙ كم خياراً لدينا لملء الخانة الأولى؟ وعند كل واحد من هذه الخيارات، كم خياراً لدينا لملء

الخانة الثانية؟ إذن كم خياراً لدينا لملء الخانتين الأولى والثانية؟ وعند كل واحد من هذه

الخيارات، كم خياراً لدينا لملء الخانة الثالثة؟ استنتج عدد الإمكانيات المختلفة لملء الخانات

الثلاث.

المبدأ الأساسي في العد (تذكرة):

◆ نريد إنشاء قائمة مكونة من p بنداً. نفرض أننا يمكن أن نختار البند i من بين n_i إمكانيّة

معطاة. عندئذ يكون عدد القوائم المختلفة التي يمكننا إنشاءها $n_1 \times n_2 \times \dots \times n_p$.

◆ لنفترض أن إنجاز مهمة يمر بعدد p من المراحل. يمكن إنجاز المرحلة i وفق n_i طريقة

مختلفة. عندئذ يساوي عدد الأساليب المختلفة لإنجاز المهمة كاملة $n_1 \times n_2 \times \dots \times n_p$.

⊙ بالاستفادة مما سبق أجب عن الأسئلة الواردة في الفقرة ①.

⊙ لنكن \mathcal{E} مجموعة الأرقام من 0 إلى 9. ما عدد الأعداد المؤلفة من 4 خانوات التي

يمكنك تكوينها من أرقام المجموعة \mathcal{E} ، والتي خانة مئاتها زوجية؟

1 إنشاء قوائم من عناصر وجموعة

في هذه الفقرة نتأمل مجموعة غير خالية E مكونة من n عنصراً.

1.1. التباديل على مجموعة

نسمي **تباديلاً على المجموعة E** ، كل قائمة مكونة من n بنداً تضم جميع عناصر E .

مثال لنفترض أن $E = \{a, b, c, d\}$. عندئذ يكون كلٌّ من (a, b, c, d) و (a, c, b, d) تباديلاً على E . (لاحظ أن مفهوم القائمة يضم فكرة الترتيب في طبيّاته، فهناك **أول** بندٍ، و**ثاني** بندٍ وهكذا...). يؤول إنشاء تباديل على E إلى ملء أربع خانات مرقّمة، بحيث تحوي كل خانة حرفاً واحداً من E ، وتكون الحروف الواردة في الخانات مختلفة مثلى مثلى.

هناك أربعة خيارات ممكنة لملء الخانة 1، وبيوافق كلاً منها ثلاثة خيارات ممكنة لملء الخانة 2. إذن هناك 4×3 خياراً ممكناً لملء الخانتين 1 و 2، وبيوافق كلاً منها خياران لملء الخانة 3. وعليه نرى أنه يوجد $4 \times 3 \times 2$ خياراً لملء الخانات 1 و 2 و 3، وبالطبع يوافق كلاً من هذه الخيارات خياراً واحداً لملء الخانة 4. إذن عدد تباديل المجموعة E يساوي $4 \times 3 \times 2 \times 1$.

خانة 4	خانة 3	خانة 2	خانة 1
<input type="text"/>	<input type="text"/>	<input type="text"/>	<input type="text"/>

الحالة العامة

تجري معالجة الحالة العامة بالأسلوب نفسه: هناك n خياراً لملء الخانة 1، و $(n-1)$ خياراً لملء الخانة 2، وهكذا... حتى نصل إلى خيار واحد لملء الخانة n . إذن هناك

$$n \times (n-1) \times \dots \times 2 \times 1$$

تباديلاً على المجموعة E .

تعريف 1

يعطى عدد تباديل مجموعة مكونة من n عنصراً ($n \geq 1$) بالصيغة

$$n \times (n-1) \times (n-2) \times \dots \times 2 \times 1$$

نرمز إلى هذا العدد بالرمز $n!$ ونقرؤه « n عاملي»، ونصطلح أن $0! = 1$.

2.1. الترتيب: القوائم دون تكرار

نسمي ترتيباً طوله r من المجموعة E ، كل قائمة دون تكرار طولها r من المجموعة E ، أي كل قائمة مكونة من r بنداً مأخوذاً من عناصر E ، وبنودها مختلفة مثلي مثلي، $(1 \leq r \leq n)$.

مثال لنفترض أن $E = \{a, b, c, d, e\}$. عندئذ يكون كلٌّ من

خانة 1 خانة 2 خانة 3

(a, b, d) و (b, d, e) ترتيباً طوله 3 من المجموعة E . يؤول إنشاء ترتيب طوله 3 من المجموعة E إلى ملء ثلاث خانات مرقمة، بحيث تحوي كل خانة حرفاً واحداً من E ، وتكون الحروف الواردة في الخانات مختلفة مثلي مثلي. بإجراء مناقشة مماثلة لما أجريناه في المثال السابق نجد أن عدد القوائم دون تكرار التي طولها 3 مأخوذة من E يساوي $5 \times 4 \times 3$.

الحالة العامة

تجري معالجة الحالة العامة بالأسلوب نفسه. إذا كانت E مجموعة عدد عناصرها يساوي n . فإن عدد الترتيب التي طول كل منها r من عناصر E ، يساوي

$$n \times (n - 1) \times (n - 2) \times \dots \times (n - r + 1)$$

تعريفه 2

يعطى عدد الترتيب التي طول كل منها r من مجموعة مكونة من n عنصراً $(n \geq r \geq 1)$ بالصيغة

$$n \times (n - 1) \times (n - 2) \times \dots \times (n - r + 1)$$

نرمز إلى هذا العدد بالرمز P_n^r .

3.1. القوائم مع تكرار

لأننا نسمح بتكرار عناصر المجموعة E في بنود القائمة، فعند إنشاء قائمة مكونة من r بنداً، لدينا

خانة 1 خانة 2 خانة r

n خياراً للبند الأول، وكذلك n خياراً للبند الثاني، ...، و n خياراً للبند r . إذن عدد هذه القوائم يساوي n^r . إن n^r هو عدد القوائم مع تكرار التي طولها r ويمكن إنشاؤها من مجموعة عدد عناصرها يساوي n .

تكريباً للفهم

كيف نفسر $n!$ في مسائل التعداد؟ 

▪ إن $n!$ هو عدد الطرائق المختلفة لترتيب عناصر مجموعة مكونة من n عنصراً، أو إنه عدد القوائم المرتبة المؤلفة من n عنصراً.

مثال

ما عدد النتائج المختلفة الممكنة لسباق يضم ستة أحصنة، بافتراض عدم وصول حصانين أو أكثر إلى خط النهاية في اللحظة ذاتها؟ إن أية نتيجة للسباق هي تبديل على مجموعة الأحصنة الستة. إذن هناك $6! = 6 \times 5 \times 4 \times 3 \times 2 \times 1 = 720$ نتيجة مختلفة.

كيف نُجري الحسابات باستعمال العامل $n!$ ؟ 

▪ لاحظ أن

$$5! = 5 \times (4!) = 5 \times 4 \times (3!) = 5 \times 4 \times 3 \times (2!)$$

▪ وبوجه عام في حالة $1 \leq r \leq n$ لدينا

$$\begin{aligned} n! &= n \times (n-1) \times \dots \times (n-r+1) \times (n-r)! \\ &= P_n^r \times (n-r)! \end{aligned}$$

وعليه

$$\frac{n!}{(n-r)!} = n \times (n-1) \times \dots \times (n-r+1) = P_n^r$$

$$\cdot \frac{12!}{9!} = 12 \times 11 \times 10 = 1320 \quad \text{و} \quad \frac{10!}{8!} = 10 \times 9 = 90 \quad \text{فمثلاً}$$

مثال السحب دون إعادة لأربع كرات من صندوق يضم تسع كرات

يحتوي صندوق على تسع كرات مرقمة من 1 إلى 9. نسحب على التوالي أربع كرات دون إعادة ونسجل بالترتيب أرقام الكرات المسحوبة. ما عدد الأعداد المكونة من أربع خانوات التي يمكننا تشكيلها بهذه الطريقة؟

الحل

هناك 9 خيارات لأحاد العدد الناتج، وبعد سحب الكرة التي تحمل هذا الخيار يبقى 8 خيارات لعشرات هذا العدد نحددها بسحب الكرة الثانية، ثم نسحب الكرة الثالثة من بين 7 كرات متبقية لتحديد خانة المئات، وأخيراً نختار خانة الألوف بسحب الكرة الرابعة من بين الكرات الست المتبقية. نستنتج إذن أنه بالإمكان تشكيل $9 \times 8 \times 7 \times 6 = 3024$ عدد مختلف بهذا الأسلوب.

كم كلمة من ثلاثة حروف يمكننا تكوينها انطلاقاً من حروف كلمة SYRIA.

الحل

نتخيل ثلاث خانات علينا ملؤها بحروف كلمة SYRIA التي فيها خمسة حروف مختلفة. لملء الخانة الأولى لدينا خمسة خيارات، ولما كان لا يوجد ما يمنع من تكرار الحروف في الكلمة، فهناك أيضاً خمسة خيارات لملء الخانة الثانية وكذلك هناك خمسة خيارات لملء الخانة الثالثة. في المحصلة هناك $5 \times 5 \times 5 = 125$ كلمة من ثلاثة حروف حروفها مأخوذة من حروف كلمة SYRIA.

تَدْرِبْ

① اختزل المقادير الآتية دون استعمال الآلة الحاسبة:

$$\begin{array}{ccccc} \frac{7! \times 5!}{10!} & \textcircled{5} & \frac{6 \times 4!}{5!} & \textcircled{4} & \frac{6! - 5!}{5!} & \textcircled{3} & \frac{17!}{15!} & \textcircled{2} & \frac{21!}{20!} & \textcircled{1} \\ \frac{6! + 7!}{2!3!4!} & \textcircled{10} & \frac{9!}{6! \times 3!} & \textcircled{9} & \frac{9!}{5! \times 4!} & \textcircled{8} & \frac{6!}{(3!)^2} & \textcircled{7} & \frac{1}{5!} - \frac{42}{7!} & \textcircled{6} \end{array}$$

② اختزل المقادير الآتية:

$$\begin{array}{ccc} \frac{(2n)! - (2n-1)!}{2(n!) - (n-1)!} & \textcircled{3} & \frac{(2n+1)!}{(2n-1)!} & \textcircled{2} & \frac{(n+1)!}{(n-1)!} & \textcircled{1} \\ \frac{(2n)!}{1 \times 3 \times 5 \times \dots \times (2n-1)} & \textcircled{6} & \frac{1}{n!} - \frac{1}{(n+1)!} & \textcircled{5} & \frac{(n-1)!}{n!} - \frac{n!}{(n+1)!} & \textcircled{4} \end{array}$$

③ اكتب جميع تباديل المجموعة $E = \{a, b, c, d\}$.

④ لتكن المجموعة $S = \{1, 2, 5, 8, 9\}$.

- ① كم عدداً مؤلفاً من منزلتين يمكن تشكيله من عناصر المجموعة S ؟
- ② كم عدداً مختلف الأرقام ومؤلفاً من منزلتين يمكن تشكيله من عناصر المجموعة S ؟
- ③ كم عدداً زوجياً مؤلفاً من منزلتين يمكن تشكيله من عناصر المجموعة S ؟
- ⑤ في أحد مراكز الهاتف مهندسان، وأربعة عمال، كم لجنة مختلفة قوامها مهندس واحد وعامل واحد يمكننا تأليفها لمتابعة أعمال الصيانة في المركز؟
- ⑥ يتألف مجلس إدارة نادي رياضي من سبعة أعضاء، بكم طريقة يمكن اختيار رئيس، ونائب للرئيس، وأمين سرّ للنادي؟
- ⑦ اشترك مئة متسابق في سباق للدراجات، يجري فيه توزيع ثلاث ميداليات (ذهبية، فضية، برونزية) كم نتيجة ممكنة لهذا السباق؟ (لا توجد حالات تساوي).

2 التوافيق

1.2. تعريف التوافيق

تعريف 3

لتكن E مجموعة مكونة من n عنصراً وليكن r عدداً طبيعياً يُحقق $0 \leq r \leq n$. نسمي **توافقاً** يضم r عنصراً من E ، كل مجموعة جزئية مؤلفة من r عنصراً من E .

ملاحظة: إن ترتيب العناصر في المجموعة الجزئية غير مهم، فمثلاً $\{0,1\}$ و $\{1,0\}$ تمثلان المجموعة نفسها.

مثال في حالة $E = \{a,b,c\}$ التوافق التي تضم عنصرين ($p = 2$) من E هي $\{a,b\}$ و $\{b,c\}$ و $\{a,c\}$.

ترميز

نرمز إلى عدد التوافيق التي تضم r عنصراً من مجموعة مكونة من n عنصراً ($0 \leq r \leq n$) بالرمز $\binom{n}{r}$ *. فمثلاً استناداً إلى المثال السابق $\binom{3}{2} = 3$.

2.2. عدد التوافيق

مثال لنفترض أن $E = \{a,b,c,d,e\}$ و $r = 3$. إن $\binom{5}{3}$ هو عدد المجموعات الجزئية من E التي كل مؤلف من ثلاثة عناصر. فإذا وضعنا $q = \binom{5}{3}$ أمكننا أن نرمز إلى هذه المجموعات E_1, E_2, \dots, E_q . لاحظ أن كل ترتيب لثلاثة عناصر من E هو تبديل على واحدة وواحدة فقط من المجموعات E_1, E_2, \dots, E_q . فمثلاً الترتيب (e,d,c) هو تبديل على المجموعة الجزئية $\{c,d,e\}$ ، ولتكن E_i ، وهو ليس تبديلاً على أية مجموعة E_j ، ($i \neq j$)، أخرى. لأن E_j ليست مكونة من عناصر E_i ذاتها. ولكن عدد تبديل كل واحدة من المجموعات E_1, E_2, \dots, E_q يساوي $3!$. نستنتج إذن أنه بالإمكان توزيع ترانيب E التي كل منها مكون من ثلاثة عناصر، في q حزمة منفصلة تضم الأولى تبديل E_1 وتضم الثانية تبديل E_2 وتضم الثالثة تبديل E_3 و... وأخيراً تضم الحزمة q تبديل E_q . وعليه يكون عدد ترانيب ثلاثة عناصر من E مساوياً $3! \times q$ ، وهو في الوقت ذاته يساوي

$$P_5^3 = 5 \times 4 \times 3 \quad \text{إذن} \quad q = \binom{5}{3} = \frac{P_5^3}{3!} = \frac{5 \times 4 \times 3}{3 \times 2 \times 1} = 10$$

* هناك ترميز سابق مازال يستعمل في بعض الكتب هو C_n^r ولكننا سنلتزم بالترميز الشائع حالياً.

الحالة العامة

بوجه عام، لإنشاء ترتيب مكوّن من r عنصراً مأخوذاً من مجموعة E عدد عناصرها يساوي n ، نبدأ باختيار مجموعة جزئية E' من E عدد عناصرها يساوي r ، وهناك $\binom{n}{r}$ خياراً مختلفاً، ثم نرتب عناصر E' ، وهناك $r!$ ترتيباً (تبدلياً) مختلفاً ممكناً، إذن استناداً إلى المبدأ الأساسي في العدّ $P_n^r = \binom{n}{r} \times r!$ ، وهكذا نكون قد أثبتنا المبرهنة الآتية:

مبرهنة 1

يعطى عدد توافيق r عنصراً من مجموعة مكوّنة من n عنصراً ($n \geq r \geq 0$)، بالصيغة

$$\binom{n}{r} = \frac{P_n^r}{r!} = \frac{n(n-1)\cdots(n-r+1)}{r!} = \frac{n!}{(n-r)! \cdot r!}$$

تكريساً للفهم

كيف نفسّر $\binom{n}{r}$ في مسائل التعداد؟

▪ إنّ $\binom{n}{r}$ هو عدد الخيارات المختلفة لـ r عنصراً مختلفاً من مجموعة مكونة من n عنصراً.

كيف نحسب بعض القيم البسيطة للمقدار $\binom{n}{r}$ ؟

▪ إنّ $\binom{n}{0}$ هو عدد الأجزاء المكونة من 0 عنصراً في مجموعة مكونة من n عنصراً. فقط المجموعة الخالية تحقّق هذه الشرط! إذن $\binom{n}{0} = 1$.

▪ إنّ $\binom{n}{1}$ هو عدد الأجزاء المكونة من عنصر واحد في مجموعة مكونة من n عنصراً. مثلاً في المجموعة $E = \{u, v, w, x\}$ ، هي المجموعات الجزئية $\{u\}$ و $\{v\}$ و $\{w\}$ و $\{x\}$. هناك مجموعات جزئية وحيدة العنصر بقدر عناصر E . إذن $\binom{n}{1} = n$.

▪ إنّ $\binom{n}{n}$ هو عدد الأجزاء المكونة من n عنصراً في مجموعة مكونة من n عنصراً. فقط المجموعة E بكاملها تحقّق هذه الشرط! إذن $\binom{n}{n} = 1$.

مثال

نتأمّل مجموعة من البطاقات عدد عناصرها 32. فيها ثماني بطاقات حمراء اللون مرقّمة من 1 إلى 8، وثمانية بطاقات زرقاء اللون مرقّمة من 1 إلى 8، وثمانية بطاقات خضراء اللون مرقّمة من 1 إلى 8، وثمانية بطاقات صفراء اللون مرقّمة من 1 إلى 8. نسمي **سحباً** أي مجموعة جزئية مكوّنة من خمس بطاقات من المجموعة.

1 كم سحباً يضمّ تماماً بطاقتين حمراوين؟

2 كم سحباً يضم على الأقل بطاقة واحدة تحمل الرقم 1؟

1 لاصطناع سحب يضمّ تماماً بطاقتين حمراوين، نبدأ بسحب بطاقتين من بين البطاقات الحمراء، ثمّ نسحب ثلاث بطاقات من بين البطاقات الأربع وعشرين الباقية.

- هناك $\binom{8}{2}$ خياراً مختلفاً للبطاقات الحمراء من بين البطاقات الثماني المعطاة.
- ويوافق كل واحد من هذه الخيارات $\binom{24}{3}$ خياراً ممكناً لبقية بطاقات السحب.

إذن العدد المطلوب هو

$$\binom{8}{2} \times \binom{24}{3} = \frac{8 \times 7}{2} \cdot \frac{24 \times 23 \times 22}{3 \times 2} = 56672$$

2 لنرمز بالرمز A إلى مجموعة السحوبات التي يضم كلّ منها بطاقة واحدة على الأقل تحمل الرقم

1. لحساب $\text{card}(A)$ ، أي عدد عناصر A ، من الأسهل حساب عدد عناصر المتممة A^c أي عدد السحوبات التي لا يضم أيّ منها بطاقة تحمل العدد 1. نصطنع سحباً من A^c عن طريق اختيار خمس بطاقات من مجموعة البطاقات التي لا يحمل أي منها العدد 1 وعددها $28 = 32 - 4$. إذن

$$\text{card}(A^c) = \binom{28}{5}$$

أما عدد جميع السحوبات فيساوي $\text{card}(E) = \binom{32}{5}$. إذن عدد السحوبات التي يضم كلّ منها بطاقة

$$\text{واحدة على الأقل تحمل الرقم 1 يساوي } \binom{32}{5} - \binom{28}{5} = 103096.$$



1 اختزل المقادير الآتية واكتبها بصيغة أعداد صحيحة أو كسور غير قابلة للاختزال :

$$\binom{4}{4} \quad \binom{8}{3} \quad \binom{5}{3} \times \binom{6}{4} \quad \binom{7}{5} \quad \binom{12}{8} \quad \binom{6}{2} \quad \binom{10}{1}$$

2 أثبت صحّة المساواة $n \binom{n-1}{r-1} = r \binom{n}{r}$ في حالة $n \geq 2$ و $1 \leq r \leq n$.

3 عين الأعداد الطبيعية n التي تحقّق الشرط المعطى في الحالات الآتية:

$$\binom{10}{3n} = \binom{10}{n+2} \quad 3 \binom{n}{4} = 14 \binom{n}{2} \quad \binom{n}{2} = 36$$

4 نريد تأليف لجنة مكوّنة من أربعة أشخاص مأخوذين من مجموعة تحوي خمسة عشر رجلاً وأربع

عشرة امرأة.

1 كم لجنة مختلفة يمكننا تأليفها؟

2 كم لجنة مختلفة مكوّنة من رجلين وامرأتين يمكننا تأليفها؟

3 خواص عدد التوافيق $\binom{n}{r}$ ، وبنشور ذي الحدين

مبرهنة 2

1 أياً كان العددين الطبيعيين r و n بحيث $0 \leq r \leq n$ كان

$$\binom{n}{r} = \binom{n}{n-r}$$

2 أياً كان العددين الطبيعيين r و n بحيث $1 \leq r < n$ كان

$$\binom{n-1}{r-1} + \binom{n-1}{r} = \binom{n}{r}$$

الإثبات

1 هذه نتيجة مباشرة من المبرهنة 1:

$$\binom{n}{n-r} = \frac{n!}{(n-(n-r))! \cdot (n-r)!} = \frac{n!}{r! \cdot (n-r)!} = \binom{n}{r}$$

2 هنا أيضاً نستفيد من المبرهنة 1:

$$\begin{aligned} \binom{n-1}{r-1} + \binom{n-1}{r} &= \frac{(n-1)!}{(r-1)! \cdot (n-r)!} + \frac{(n-1)!}{r! \cdot (n-1-r)!} \\ &= \frac{r \times (n-1)!}{r \cdot (r-1)! \cdot (n-r)!} + \frac{(n-r) \times (n-1)!}{r! \cdot (n-r) \cdot (n-1-r)!} \\ &= \frac{r \times (n-1)!}{r! \cdot (n-r)!} + \frac{(n-r) \times (n-1)!}{r! \cdot (n-r)!} \\ &= \frac{(r+n-r) \times (n-1)!}{r! \cdot (n-r)!} = \frac{n \cdot (n-1)!}{r! \cdot (n-r)!} \\ &= \frac{n!}{r! \cdot (n-r)!} = \binom{n}{r} \end{aligned}$$

وبهذا يكتمل الإثبات.

مبرهنة 3 (منشور ذي الحدين)

أياً كان العددين العقديين a و b وأياً كان العدد الطبيعي $n \geq 1$ كان

$$(a+b)^n = \binom{n}{0}a^n + \binom{n}{1}a^{n-1}b + \dots + \binom{n}{r}a^{n-r}b^r + \dots + \binom{n}{n-1}ab^{n-1} + \binom{n}{n}b^n$$

الإثبات (يترك إلى قراءة ثانية)

لنجر الإثبات بالتدرج. المساواة محققة في حالة $n = 1$ لأن $(a+b)^1 = \binom{1}{0}a + \binom{1}{1}b$. لنفترض إذن العلاقة صحيحة في حالة $n \geq 1$ ، ولنحسب $(a+b)^{n+1}$. بملاحظة أن

$$(a+b)^{n+1} = (a+b)(a+b)^n = a(a+b)^n + (a+b)^n b$$

نستنتج أن

$$\begin{aligned}
 (a+b)^{n+1} &= (a+b)(a+b)^n = a(a+b)^n + (a+b)^n b \\
 &= a \left(\binom{n}{0} a^n + \binom{n}{1} a^{n-1} b + \dots + \binom{n}{r} a^{n-r} b^r + \dots + \binom{n}{n-1} a b^{n-1} + \binom{n}{n} b^n \right) \\
 &\quad + \left(\binom{n}{0} a^n + \binom{n}{1} a^{n-1} b + \dots + \binom{n}{r-1} a^{n-r+1} b^{r-1} + \dots + \binom{n}{n-1} a b^{n-1} + \binom{n}{n} b^n \right) b \\
 &= \binom{n}{0} a^{n+1} + \binom{n}{1} a^n b + \dots + \binom{n}{r} a^{n-r+1} b^r + \dots + \binom{n}{n} a b^n \\
 &\quad + \binom{n}{0} a^n b + \dots + \binom{n}{r-1} a^{n-r+1} b^r + \dots + \binom{n}{n-1} a b^n + \binom{n}{n} b^{n+1}
 \end{aligned}$$

ولكن في حالة $1 \leq r \leq n$ لدينا $\binom{n}{r-1} + \binom{n}{r} = \binom{n+1}{r}$ وذلك عملاً بالمبرهنة 2، إذن

$$(a+b)^{n+1} = \binom{n+1}{0} a^{n+1} + \binom{n+1}{1} a^n b + \dots + \binom{n+1}{r} a^{n+1-r} b^r + \dots + \binom{n+1}{n} a b^n + \binom{n+1}{n+1} b^{n+1}$$

وأخيراً لأن

$$\binom{n}{n} = \binom{n+1}{n+1} = 1 \quad \text{و} \quad \binom{n}{0} = \binom{n+1}{0} = 1$$

وجدنا

$$(a+b)^{n+1} = \binom{n+1}{0} a^{n+1} + \binom{n+1}{1} a^n b + \dots + \binom{n+1}{r} a^{n+1-r} b^r + \dots + \binom{n+1}{n} a b^n + \binom{n+1}{n+1} b^{n+1}$$

وهو منشور ذي الحدين في حالة $n+1$. وعليه إذا كان منشور ذي الحدين صحيحاً في حالة n كان صحيحاً في حالة $n+1$ ، هو إذن صحيح بوجه عام أيّاً كان العدد الطبيعي الموجب تماماً n .

نتيجة (عدد أجزاء مجموعة)

إن عدد المجموعات الجزئية من مجموعة مكونة من n عنصراً يساوي 2^n .

الإثبات

بوضع $a = b = 1$ في منشور ذي الحدين نجد

$$2^n = \binom{n}{0} + \binom{n}{1} + \dots + \binom{n}{r} + \dots + \binom{n}{n}$$

ولكن إذا كانت E مجموعة مكونة من n عنصراً، كان $\binom{n}{r}$ عدد أجزاء E التي كل منها مكونة من r عنصراً، ومن ثم كان المجموع

$$\binom{n}{0} + \binom{n}{1} + \dots + \dots + \binom{n}{n}$$

مساوياً لعدد جميع أجزاء E .



طريقة ثانية. إذا كُلفنا بإنشاء مجموعة جزئية A من E ، فيمكننا إنجاز هذه المهمة بعدد n من المراحل. في المرحلة الأولى نقرر أنضع العنصر الأول في A أو لا نضعه فيها، وهناك خياران اثنان. وفي المرحلة الثانية نقرر أنضع العنصر الثاني في A أو لا نضعه فيها، وهناك خياران أيضاً، وهكذا حتى نصل إلى المرحلة n حيث نقرر بشأن العنصر n ، وهنا أيضاً لدينا خياران. واستناداً إلى المبدأ الأساسي في العدّ، العدد الكلي للخيارات المتاحة لتكوين A يساوي $2 \times 2 \times \dots \times 2 = 2^n$.

تكريساً للفهم

كيف نثبت صحة الخواص في البرهنة 2 دون حساب؟

- يؤول اختيار جزء F ذي r عنصراً من E إلى اختيار الجزء المتمم $F' = E \setminus F$ المكوّن من $n - r$ عنصراً. إذن هناك العدد نفسه من أجزاء E التي كلّ منها مكوّن من r عنصراً وأجزاء E التي كلّ منها مكوّن من $n - r$ عنصراً. أي $\binom{n}{r} = \binom{n}{n-r}$.
- ليكن a عنصراً من E . بين أجزاء E التي كلّ منها مكوّن من r عنصراً، وعددها $\binom{n}{r}$ جزءاً، هناك نوعان، تلك الأجزاء التي تحوي العنصر a وليكن عددها x ، وتلك التي لا تحوي العنصر a وليكن عددها y . من الواضح أنّ $x + y = \binom{n}{r}$. لنحسب x : يتكوّن كل جزء من r عنصراً بينها العنصر a من $r - 1$ عنصراً مأخوذة من بين عناصر $E \setminus \{a\}$ ، إذن $x = \binom{n-1}{r-1}$. لنحسب أيضاً y : كل جزء مكوّن من r عنصراً ليس بينها a هو جزء مكوّن من r عنصراً مأخوذة من المجموعة $E \setminus \{a\}$ التي عدد عناصرها $n - 1$ ، إذن $y = \binom{n-1}{r}$ ، ومنه $\binom{n-1}{r-1} + \binom{n-1}{r} = \binom{n}{r}$.

كيف نحسب $\binom{n}{r}$ انطلاقاً من مثلث الكرجي-باسكال؟

$r \setminus n$	0	1	2	3	4	5
0	1					
1	1	1				
2	1	2	1			
3	1	3	3	1		
4	1	4	6	4	1	
5	1	5	10	10	5	1

- يفيد المثلث المبين في الشكل المجاور في حساب $\binom{n}{r}$ تدريجياً إذ نستفيد من العلاقة $\binom{n-1}{r-1} + \binom{n-1}{r} = \binom{n}{r}$ في إنشاء الأسطر تدريجياً ثمّ نقرأ $\binom{n}{r}$ عند تقاطع السطر « n » والعمود « r ».

ما صيغة الحد ذي الدليل r في منشور ذي الحدين $(a + b)^n$ ؟

- إنها $T_r = \binom{n}{r} a^{n-r} b^r$ ، والمنشور يساوي مجموع $n + 1$ حدّاً هي T_0 و T_1 و ... و T_n .

مثال استعمال منشور ذي الحدين

انشر كلاً من المقدارين $A = (2x - 1)^5$ و $B = (1 + i)^6$ ، تذكر أن i هو العدد العقدي الذي يحقق $(i^2 = -1)$.

الحل

1 المقدار $2x - 1$ هو مجموع من الشكل $(a + b)$ حيث $a = 2x$ و $b = -1$. نطبق إذن منشور ذي الحدين بعد ملاحظة أن القوى الزوجية للعدد b تساوي 1 والقوى الفردية للعدد b تساوي -1 . إذن

$$(2x - 1)^5 = 2^5 x^5 - \binom{5}{1} 2^4 x^4 + \binom{5}{2} 2^3 x^3 - \binom{5}{3} 2^2 x^2 + \binom{5}{4} 2x - 1$$

$$= 32x^5 - 80x^4 + 80x^3 - 40x^2 + 10x - 1$$

2 ونجد بالمثل

$$(1 + i)^6 = 1 + 6i + 15i^2 + 20i^3 + 15i^4 + 6i^5 + i^6$$

$$= 1 + 6i - 15 - 20i + 15 + 6i - 1 = -8i$$

مثال حساب مجموع

انشر $(1 + 2x)^n$ واستنتج قيمة المجموع

$$S_n = \binom{n}{0} + 2\binom{n}{1} + \dots + 2^r \binom{n}{r} + \dots + 2^n \binom{n}{n}$$

الحل

1 استناداً إلى منشور ذي الحدين لدينا

$$(1 + 2x)^n = 1 + \binom{n}{1}(2x) + \dots + \binom{n}{r}(2x)^r + \dots + \binom{n}{n}(2x)^n$$

2 المجموع S_n المطلوب يوافق الطرف الثاني بعد تعويض $x = 1$ ، ومنه

$$S_n = 1 + 2\binom{n}{1} + \dots + 2^r \binom{n}{r} + \dots + 2^n \binom{n}{n} = (1 + 2)^n = 3^n$$

تَدْرِبْ

1 انشر كلاً من العبارات الآتية:

$$(2x + 1)^6 \quad 3 \quad (1 - x)^5 \quad 2 \quad (2 + x)^4 \quad 1$$

$$(2 - i)^4 \quad 6 \quad (1 + 2i)^3 \quad 5 \quad \left(x + \frac{1}{x}\right)^4 \quad 4$$

2 عيّن في منشور $\left(x + \frac{1}{x}\right)^{10}$ الحدّ الذي يحوي x^2 والحدّ الثابت المستقل عن x .

3 ما الشرط على العدد الطبيعي n كي يحتوي منشور $\left(x^2 + \frac{1}{x}\right)^n$ على حدّ ثابت مستقل عن x .

4 اختزل منشور المقدار $(1 + x)^6 + (1 - x)^6$.

أفكار يجب تمثيلها



■ الفكرة الأولى: ترتيب أشياء في قائمة يؤول إلى ملء خانات مرقمة.

■ مثال يمكن ترتيب الشيين A و B في قائمتين (A, B) و (B, A) .

■ تنفيذ الفكرة الأولى في الإجابة عن أسئلة بسيطة مثل :

■ بكم أسلوب مختلف يمكن ترتيب n شيئاً مختلفاً ؟ الإجابة :

$$n \times (n-1) \times (n-2) \times \dots \times 2 \times 1$$

■ بكم أسلوب مختلف يمكن ترتيب p عنصراً مختلفاً مأخوذة من بين n عنصراً ؟ الإجابة:

$$n \times (n-1) \times (n-2) \times \dots \times (n-p+1)$$

■ ما عدد القوائم المختلفة المكوّنة من p بنداً والتي يمكننا ملؤها من عناصر مجموعة مكوّنة من

n عنصراً عندما يكون التكرار مسموحاً ؟ الإجابة: n^p .

■ بالتعريف: $0! = 1$ و $n! = n \times (n-1) \times (n-2) \times \dots \times 2 \times 1$

$$\binom{n}{r} = \frac{n!}{(n-r)! \cdot r!}$$

■ متى نستعمل التوافيق $\binom{n}{r}$ ؟ عندما يُطلب منا اختيار r عنصراً (دفعة واحدة أي دون ترتيب) من مجموعة مكونة من n عنصراً.

■ مثال عدد الإمكانيات المختلفة لاستعارة خمسة كتب من مكتبة تضم 100 كتاباً يساوي $\binom{100}{5}$.

■ يُعمّم منشور ذي الحدين المتطابقات الشهيرة:

$$(a+b)^3 = a^3 + 3a^2b + 3ab^2 + b^3 \text{ و } (a+b)^2 = a^2 + 2ab + b^2$$

فيكون $(a+b)^n$ مساوياً لمجموع جميع الحدود من النمط $\binom{n}{r} a^r b^{n-r}$ عندما تتحوّل r من 0 إلى n . لاحظ أنه في جميع الحدود يكون مجموع أسّي a و b مساوياً n .

منعكسات يجب امتلاكها.



■ عند حل مسألة تتطلب تعداداً.

■ تخيل طريقة لاصطناع أو إنشاء الأشياء الواجب عدّها.

■ تبيّن إذا كان الترتيب ضرورياً أو مهماً في هذا الإنشاء. فإذا كان الترتيب ضرورياً، ففكر

بأسلوب ملء الخانات، وإذا لم يكن الترتيب مهماً ففكر بالتوافيق، أو بتقنيات أخرى تنفق مع

الحالة المدروسة: أشجار، جداول، مجموعات، ...

أخطاء يجب تجنبها.



■ تنبّه إلى عدم تعداد الشيء نفسه أكثر من مرة.

أنشطة

نشاط 1 أنواع السحب المختلفة

نتأمل صندوقاً يحوي أربع كرات تحمل الأرقام 6 و 7 و 8 و 9.

1 السحب مع الإعادة

نُجري التجربة الآتية:

■ نسحب ثلاث كرات **على التوالي مع الإعادة**، أي إننا نُعيد الكرة المسحوبة إلى الصندوق بعد كل مرة.

■ نُدوّن **بترتيب السحب** أرقام الكرات الثلاث المسحوبة.

إذن نتيجة التجربة هي ثلاثية أو قائمة من ثلاثة بنود مأخوذة من المجموعة $E = \{6, 7, 8, 9\}$. فمثلاً الثلاثية (9, 7, 7) تمثّل سحب الكرة التي تحمل الرقم 9 في السحب الأول والكرة التي تحمل الرقم 7 في السحب الثاني والكرة التي تحمل الرقم 7 في السحب الثالث.

① كم عدد النتائج الممكنة لهذه التجربة ؟

② كم نتيجة ممكنة في كل من الحالات الآتية :

a. الكرة المسحوبة أولاً تحمل الرقم 6، والثانية تحمل الرقم 9 والثالثة تحمل الرقم 7 ؟

b. الكرة المسحوبة أولاً تحمل الرقم 8، والثانية تحمل الرقم 7 ؟

c. الكرة المسحوبة ثانياً تحمل الرقم 9، والمسحوبة ثالثاً تحمل الرقم 8 ؟

d. الكرة المسحوبة ثانياً تحمل الرقم 7 ؟

2 السحب دون إعادة

نُجري التجربة الآتية:

■ نسحب ثلاث كرات **على التوالي دون إعادة**، أي إننا لا نُعيد الكرة المسحوبة إلى الصندوق بعد كل مرة.

■ نُدوّن **بترتيب السحب** أرقام الكرات الثلاث المسحوبة.

هنا أيضاً تكون نتيجة التجربة ثلاثية أو قائمة من ثلاثة بنود مأخوذة من المجموعة $E = \{6, 7, 8, 9\}$ ، ولكن في هذه المرة يجب أن تكون بنود القائمة مختلفة مثلى مثلى. فهي إذن **ترتيب** لثلاثة عناصر مأخوذة من E .

① كم عدد النتائج الممكنة لهذه التجربة ؟

② أجب عن فقرات السؤال ② من الفقرة السابقة، ولكن لهذا النوع من التجارب.

3 السحب في آن معاً

نُجري التجربة الآتية:

▪ نسحب في آن معاً ثلاث كرات من الصندوق.

▪ نُدوّن أرقام الكرات الثلاث المسحوبة.

هنا يمكن تمثيل نتيجة التجربة بمجموعة جزئية مكونة من ثلاثة عناصر مأخوذة من $E = \{6, 7, 8, 9\}$.

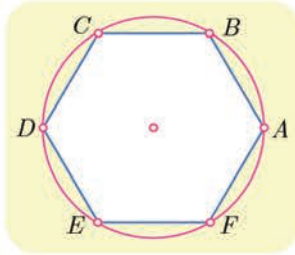
① كم عدد النتائج الممكنة لهذه التجربة ؟

② كم عدد النتائج الممكنة والتي يظهر فيها العدد 7 ؟

③ كم عدد النتائج الممكنة والتي يظهر فيها العددان 8 و 9 ؟

نشاط 2 مثلثات في مسدّس

في الشكل المرسوم جانباً لدينا ست نقاط A و B و C و D و E و F موزعة على دائرة بحيث تشكل رؤوس مسدّس منتظم.



نُجري التجربة الآتية: نصل بين ثلاث نقاط منها لنحصل على مثلث.

① ما عدد المثلثات التي يمكن أن نحصل عليها بهذا الأسلوب؟

② ما عدد المثلثات القائمة التي يمكن أن نحصل عليها بهذا الأسلوب؟

③ ما عدد المثلثات المنفرجة الزاوية التي يمكن أن نحصل عليها بهذا

الأسلوب؟

نشاط 3 منعاً من السرقة

يوجد لبعض أنواع السيارات مذياع ذو قفل رقمي مضاد للسرقة يفتح عند إدخال رمّاز (كود) مكون من عدد ذي أربع خانوات يمكن لأيّ منها أن يأخذ أيّاً من القيم $0, 1, \dots, 9$.

① a. ما هو عدد الرمّازات التي تصلح للقفل؟

ينطلق الإنذار في السيارة إذا لم يجرّ إدخال أيّ خانة صحيحة في مكانها. ما عدد الرمّازات التي تُسبب انطلاق الإنذار.

b. ما هو عدد الرمّازات التي تصلح للقفل والمكوّنة من خانوات مختلفة مثلى مثلى؟

② عند فصل التغذية الكهربائية عن المذياع، يجب على مالك السيارة أن يعيد إدخال الرّماز

الصحيح مجدداً ليتمكن من استعمال المذياع. يتذكر المالك أنّ الرّماز الصحيح مكوّن من

الأرقام 1 و 5 و 9 و 9 ولكنه نسي ترتيبها.

كم رمّازاً مختلفاً يمكن للمالك أن يكوّن من هذه الأرقام؟

نشاط 4 تحويل العبارات المثلثية

1 ماهي المهمة المنشودة؟

نهدف إلى التعبير عن مقادير مثل $\cos^n x$ أو $\sin^n x$ ، أو حتى $\cos^n x \sin^m x$ بصيغة مجموع حدود من الصيغة $b \cos(qx)$ أو $c \sin(qx)$ حيث b و c أعداد حقيقية و n و m و q أعداد طبيعية. فمثلاً رأينا في دراستنا السابقة أن: $\cos^2 x = \frac{1}{2} + \frac{1}{2} \cos 2x$ و $\sin^2 x = \frac{1}{2} - \frac{1}{2} \cos 2x$. تظهر أهمية هذه التحويلات خصوصاً عند حساب التوابع الأصلية، فإذا تمكنا من كتابة التابع $\cos^n x \sin^m x$ بصيغة عبارة خطية لتوابع من النمط $x \mapsto \cos(qx)$ أو $x \mapsto \sin(qx)$ ، صار بإمكاننا حساب تابع أصلي لهذا التابع.

2 شرح الطريقة في مثال

لنسع إلى تحويل عبارة $\sin^4 x$ إلى مجموع حدود من الصيغة $a \cos(qx)$.

$$\blacksquare \text{ نستعمل علاقتي أويلر: } \sin x = \frac{e^{ix} - e^{-ix}}{2i} \text{ أو } \cos x = \frac{e^{ix} + e^{-ix}}{2}$$

$$\sin^4 x = \left(\frac{e^{ix} - e^{-ix}}{2i} \right)^4 = \frac{1}{16} (e^{ix} - e^{-ix})^4$$

■ ثم ننشر $(e^{ix} - e^{-ix})^4$ باستعمال **منشور ذي الحدين**:

$$\sin^4 x = \frac{1}{16} (e^{4ix} - 4e^{3ix}e^{-ix} + 6e^{2ix}e^{-2ix} - 4e^{ix}e^{-3ix} + e^{-4ix})$$

■ نختزل هذه الصيغة باستعمال $e^{ikx}e^{-ik'x} = e^{i(k-k')x}$ ثم نجمع كل حدين e^{ipx} و e^{-ipx} معاً لنجد

$$\sin^4 x = \frac{1}{16} ((e^{4ix} + e^{-4ix}) - 4(e^{2ix} + e^{-2ix}) + 6)$$

■ نستعمل علاقتي أويلر بالشكل $e^{ipx} + e^{-ipx} = 2 \cos px$ أو $e^{ipx} - e^{-ipx} = 2i \sin px$ لنجد

$$\sin^4 x = \frac{1}{16} (2 \cos 4x - 8 \cos 2x + 6) = \frac{1}{8} \cos 4x - \frac{1}{2} \cos 2x + \frac{3}{8}$$

■ فمثلاً لحساب $\int_0^{\pi/2} \sin^4 x dx$ نكتب

$$\int_0^{\pi/2} \sin^4 x dx = \left[\frac{1}{32} \sin 4x - \frac{1}{4} \sin 2x + \frac{3}{8} x \right]_0^{\pi/2} = \frac{3\pi}{16}$$

(تتطلب هذا الفقرة دراية ببحث التكامل.)

3 تطبيق

حول كل عبارة مما يأتي إلى مجموع نسب مثلثية لمضاعفات x :

$$\cos^4 x \quad \textcircled{1} \quad \cos^2 x \sin^2 x \quad \textcircled{2} \quad \sin^5 x \quad \textcircled{3}$$

تمرينات ومسائل

1 أثبت صحة العلاقتين

$$\frac{\binom{n+1}{r+1}}{\binom{n}{r}} = \frac{n+1}{r+1} \quad \text{و} \quad \frac{\binom{n+1}{r}}{\binom{n}{r}} = \frac{n+1}{n+1-r}$$

2 احسب قيمة كل من n و r إذا علمت :

$$2 \cdot \binom{n+1}{r+1} = 5 \cdot \binom{n+1}{r} \quad \text{و} \quad 3 \cdot \binom{n}{r} = 8 \cdot \binom{n}{r-1}$$

3 عيّن n في كل من الحالات الآتية:

$$P_n^5 = 18P_{n-2}^4 \quad \text{②} \quad P_{n+2}^4 = 14P_n^3 \quad \text{①}$$

$$P_n^6 = 12P_{n-1}^5 \quad \text{④} \quad P_n^4 = 10P_{n-1}^3 \quad \text{③}$$

$$P_{n+2}^3 = 6P_{n+2}^1 \quad \text{⑥} \quad P_{n+1}^3 = 2P_{n+2}^2 \quad \text{⑤}$$

$$P_n^2 = 5P_{n-1}^1 \quad \text{⑧} \quad P_{n+2}^3 = 4P_{n+1}^2 \quad \text{⑦}$$

4 يلتقي عشرة أصدقاء في حفل، يصافح كل منهم الأشخاص التسعة الآخرين مرّة واحدة فقط ، فكم عدد المصافحات التي جرت في الحفل ؟ عمّم النتيجة السابقة إلى حالة n صديقاً.

5 في أحد الامتحانات يُطلب من الطالب الإجابة عن سبعة أسئلة من عشرة.

① بكم طريقة يمكن للطالب أن يختار الأسئلة ؟

② بكم طريقة يمكنه الاختيار إذا كانت الأسئلة الأربعة الأولى إجباريّة ؟

6 أراد صف فيه إثنا عشر طالباً وثمانية طالبات تأليف لجنة نشاط للصف مؤلفة من خمسة

أشخاص. بكم لجنة مختلفة يمكن تأليفها في كل من الحالات الآتية:

① اللّجنة مؤلفة من ثلاثة طلاب وطالبتين.

② في اللّجنة طالبتان على الأكثر.

③ في اللّجنة طالبتان على الأقل.

7 احسب أمثال x^3 في منشور $(2+3x)^{15}$.

8 ما أحاد وعشرات العدد 11^{11} ؟

9 ما الحدّ الثابت (الذي لا يتعلّق بالمتحول x) في منشور $(x + \frac{1}{2^3})^{12}$ ؟



لنتعلم البحث معاً

عدد أقطار مضلع محدب

10

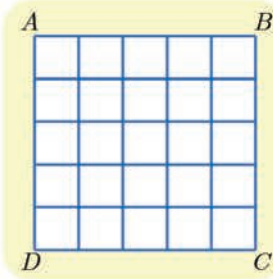
أثبت أن عدد أقطار مضلع محدب عدد رؤوسه n حيث $n \geq 4$ ، يعطى بالعلاقة $\frac{n(n-3)}{2}$.

نحو الحل

نعلم أن القطر في المضلع هو قطعة مستقيمة تصل بين رأسين غير متجاورين. فكم قطعة مستقيمة تصل بين رأسين مختلفين من رؤوس المضلع يمكن أن نرسم؟ ومن بين هذه القطع كم ضلعاً للمضلع تجد؟

أشرح لماذا يمثل المقدار $n - \binom{n}{2}$ عدد الأقطار المطلوب.

أنجز الحل واكتبه بلغة سليمة.



التعداد على شبكة

11

في الشكل المجاور نتأمل شبكة منتظمة مرسومة في مربع $ABCD$. ونرغب بحساب عدد المستطيلات المرسومة في الشكل. علماً أن المربع مستطيل خاص.

نحو الحل

غالباً ما يكون مفيداً، عند حل مسائل التعداد، إيجاد أسلوب عملي يتيح الحصول على الأشياء التي نريد تعدادها، وهذا واحد من هذه الأساليب: تحقق أنه عندما يتقاطع مستقيمان شاقوليان مع مستقيمين أفقيين نحصل على مستطيل.

يجب أن نتيقن من تعداد جميع الأشياء المطلوبة دون استثناء ودون تكرار. لنرمز إذن إلى المستقيمت الشاقولية $(v_0, v_1, v_2, v_3, v_4, v_5)$ بحيث ينطبق (AD) على v_0 و (BC) على v_5 . ولنرمز أيضاً إلى المستقيمت الأفقية $(h_0, h_1, h_2, h_3, h_4, h_5)$ بحيث ينطبق (AB) على h_0 و (DC) على h_5 .

وعلى هذا يمكن تمثيل كل مستطيل بالشكل $(\{h_i, h_j\}, \{v_k, v_\ell\})$ مع $(i \neq j \text{ و } k \neq \ell)$. لاحظ أن الترتيب غير مهم أي إن المستطيل الموافق لـ $(\{h_i, h_j\}, \{v_k, v_\ell\})$ هو نفسه المستطيل الموافق لـ $(\{h_j, h_i\}, \{v_\ell, v_k\})$ أو $(\{h_j, h_i\}, \{v_k, v_\ell\})$. استنتج أن عدد المستطيلات المنشود يساوي عدد أساليب اختيار مستقيمين شاقوليين، ومستقيمين أفقيين.

أنجز الحل واكتبه بلغة سليمة.

في حالة عدد طبيعي n . ادرس كيف تتغير الحدود المتتالية $\binom{n}{r}_{0 \leq r \leq n}$ ، واستنتج أن المساواة $\binom{n}{p} = \binom{n}{q}$ تكافئ $p = q$ أو $p + q = n$.

نحو الحل

لننظر إلى الحدود المتتالية $\binom{n}{r}_{0 \leq r \leq n}$ عند بعض القيم الصغيرة للعدد n . في حالة $n = 4$ نجد $(1, 4, 6, 4, 1)$ وفي حالة $n = 5$ نجد $(1, 5, 10, 10, 5, 1)$. في الحالتين: تتزايد الحدود في البداية ثم تتناقص.

لمقارنة حدين متتاليين نحسب نسبتهم ونقارن هذه النسبة مع الواحد.

$$\textcircled{1} \text{ أثبت أن } \frac{\binom{n}{r+1}}{\binom{n}{r}} = \frac{n-r}{r+1}$$

$\textcircled{2} a$. نفترض أن $n = 2m$. أثبت أن

$$\binom{n}{r+1} > \binom{n}{r} \text{ في حالة } m > r \text{ و } \binom{n}{r+1} < \binom{n}{r} \text{ في حالة } m \leq r$$

$$\text{استنتج أن } \binom{2m}{m} \text{ هو أكبر أعداد التوافيق } \binom{2m}{r}_{0 \leq r \leq 2m}$$

b . نفترض أن $n = 2m + 1$. أثبت أن

$$\binom{n}{r+1} > \binom{n}{r} \text{ في حالة } m > r \text{ و } \binom{n}{r+1} < \binom{n}{r} \text{ في حالة } m < r$$

$$\text{استنتج أن } \binom{2m+1}{m} = \binom{2m+1}{m+1} \text{ هما أكبر أعداد التوافيق } \binom{2m+1}{r}_{0 \leq r \leq 2m+1}$$

لاحظ أن المساواة $\binom{n}{p} = \binom{n}{q}$ تقتضي أن يكون $\binom{n}{p} = \binom{n}{q} = \binom{n-p}{n-p} = \binom{n-q}{n-q}$ ، وأنه في هذه الحالة يكون إثنان من الأعداد $p, q, n-p, n-q$ أصغر من $\frac{n}{2}$ أو يساويانه. ويكونان من ثم متساويين استناداً إلى الفقرة السابقة.

أنجز الحل وكتبه بلغة سليمة

قُدماً إلى الأمام

$\textcircled{13}$ ليكن كثير الحدود $F(x) = (1+ax)^5(1+bx)^4$ حيث a و b عدنان طبيعيان، فإذا علمت أن

أمثال x تساوي 62، فما هي القيم الممكنة للمجموع $a + b$ ؟

$\textcircled{14}$ يريد معلم توزيع $n + 1$ جائزة مختلفة على n تلميذاً وبحيث يحصل كل تلميذ على مكافأة واحدة

على الأقل. ما عدد النتائج المختلفة لهذه العملية ؟

15 لتكن المجموعة $S = \{1, 2, 3, 4, 5\}$ ولدينا مجموعة H من الأعداد التي تتميز بالخصائص التالية: أرقامها مختلفة و مأخوذة من S ، لا يوجد أي عدد منها من مضاعفات العدد 5، كل عدد منها أكبر من 20000 . فما هو عدد عناصر H ؟

16 صندوق يحوي 10 كرات، 6 كرات حمراء و 3 كرات بيضاء و كرة واحدة سوداء. نسحب من الصندوق ثلاث كرات على التوالي مع إعادة الكرة المسحوبة في كل مرة.

- ① كم عدد النتائج المختلفة لهذا السحب ؟
- ② كم عدد النتائج المختلفة التي تحتوي على كرتين اثنتين فقط من اللون نفسه ؟
- ③ كم عدد النتائج المختلفة التي تشتمل على ثلاث كرات مختلفة الألوان ؟
- ④ كم عدد النتائج المختلفة التي تشتمل على ثلاث كرات ليست جميعها من لون واحد ؟
- ⑤ كم عدد النتائج المختلفة التي تشتمل على كرة حمراء واحدة على الأقل ؟
- ⑥ كم عدد النتائج المختلفة التي تشتمل على كرة سوداء واحدة على الأقل ؟

17 صندوق يحوي 10 كرات، 6 كرات حمراء و 3 كرات بيضاء و كرة واحدة سوداء. نسحب من الصندوق ثلاث كرات على التوالي دون إعادة الكرة المسحوبة في كل مرة.

- ① كم عدد النتائج المختلفة لهذا السحب ؟
- ② كم عدد النتائج المختلفة التي تحتوي على كرتين اثنتين فقط من اللون نفسه ؟
- ③ كم عدد النتائج المختلفة التي تشتمل على ثلاث كرات مختلفة الألوان ؟
- ④ كم عدد النتائج المختلفة التي تشتمل على ثلاث كرات ليست جميعها من لون واحد ؟
- ⑤ كم عدد النتائج المختلفة التي تشتمل على كرة حمراء واحدة على الأقل ؟
- ⑥ كم عدد النتائج المختلفة التي تشتمل على كرة سوداء واحدة على الأقل ؟

18 لتكن $S = \{1, 2, 3, \dots, 29, 30\}$. كم عدد المجموعات الجزئية المكوّنة من ثلاثة عناصر من S مجموعها من مضاعفات العدد 3 ؟

19 ليكن العدد المعرّف بالصيغة : $A_n = (2 + \sqrt{3})^n + (2 - \sqrt{3})^n$

- ① تحقّق أنّ A_3 و A_4 هما عدداً طبيعياً.
- ② أثبت أنّ A_n عددٌ طبيعي أيّاً كانت قيمة العدد الطبيعي n .

20

نتأمل مضلعاً محدباً مؤلفاً من n ضلعاً ($n > 4$). نسمي **قطراً** في المضلع كل قطعة مستقيمة تصل بين رأسين غير متتاليين في المضلع. نفترض أننا في الحالة العامة حيث لا تتلاقى أي ثلاثة أقطار في نقطة واحدة إلا إذا كانت هذه النقطة أحد رؤوس المضلع. احسب D_n عدد نقاط تقاطع أقطار المضلع بدلالة n . يمكن البدء بتعيين D_4 و D_5 .

مساعدة: الجواب $n + \binom{n}{4}$.

21

اكتب المقادير الآتية بصيغة عبارات خطية في النسب المثلثية لمضاعفات الزاوية x ، ثم أجب عن السؤال الموافق.

$$\textcircled{1} \quad \cos^3 x, \text{ واستنتج قيمة } \int_0^{\pi/2} \cos^3 x \, dx$$

$$\textcircled{2} \quad \sin^3 x, \text{ واستنتج قيمة } \lim_{x \rightarrow 0} \frac{\sin 3x - 3 \sin x}{\tan^3 x}$$

$$\textcircled{3} \quad \sin^4 x, \text{ واستنتج قيمة } \int_0^{\pi/2} \sin^4 x \, dx$$

$$\textcircled{4} \quad \cos x \sin^4 x, \text{ واحسب } F(x) = \int_0^x \cos t \sin^4 t \, dt \text{ بطريقتين.}$$

7 الاحتمالات

انطلاقة نشطة



الهدف من هذه الانطلاقة التذكير بما درسناه سابقاً.

- لتكن a_1 أو a_2 أو ... أو a_n النتائج الممكنة لتجربة عشوائية ما، فتكوّن مجموعة هذه النتائج $\Omega = \{a_1, a_2, \dots, a_n\}$ **فضاء العينة** الموافق لهذه التجربة. نسمي كل مجموعة جزئية من Ω **حدثاً**. وكذلك نسمي الحدث المؤلف من جميع النتائج الممكنة للتجربة أي Ω **الحدث الأكيد**. وأخيراً نسمي **الحدث المستحيل** الحدث الذي لا يحتوي على أية نتيجة ويقابله المجموعة الخالية: $\emptyset = \{\}$.

مثال في تجربة إلقاء حجر نرد عادي لدينا $\Omega = \{1, 2, 3, 4, 5, 6\}$. الحدث A الموافق للحصول على نتيجة أكبر أو تساوي 4 هو المجموعة $\{4, 5, 6\}$. فالحصول على أية نتيجة من بين 4 و 5 و 6 يعني تحقق الحدث A .

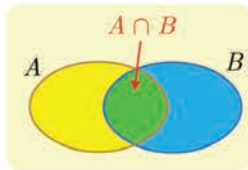
- ونسمي كل مجموعة جزئية مكونة من عنصر واحد (مثل $\{a_1\}$) **حدثاً بسيطاً**. نقرن بكل نتيجة $\{a_i\}$ (حدث بسيط) من نتائج التجربة عدداً p_i ، يحقق $0 \leq p_i \leq 1$ يُمثّل احتمال الحصول على هذه النتيجة. ونكتب $\mathbb{P}(a_i) = p_i$. فنعرّف بذلك ما يسمى **قانون احتمال** التجربة العشوائية. ويكون لدينا: $p_1 + p_2 + \dots + p_n = 1$.
- وهكذا، في تجربة عشوائية، يكون احتمال وقوع حدث A ، الذي نرمز إليه $\mathbb{P}(A)$ مساوياً لمجموع احتمالات وقوع كل الأحداث البسيطة التي يتألف منها. ففي المثال السابق $\mathbb{P}(A) = \mathbb{P}(4) + \mathbb{P}(5) + \mathbb{P}(6)$. فيكون $\mathbb{P}(\Omega) = 1$ أما الحدث المستحيل \emptyset فاحتمال وقوعه يساوي 0.
- نقول إن الأحداث البسيطة متساوية الاحتمال، أو إن نتائج التجربة متساوية الاحتمال، إذا كان $\mathbb{P}(a_i) = \mathbb{P}(a_j)$ أيًا كان i و j . وإذا كان العدد الكلي لهذه الأحداث البسيطة مساوياً n كان $\mathbb{P}(a_i) = \frac{1}{n}$ ، وكان احتمال الحدث A مساوياً عدد عناصر A مقسوماً على عدد عناصر Ω .

$$\mathbb{P}(A) = \frac{\text{عدد عناصر } A}{\text{عدد عناصر } \Omega} = \frac{n(A)}{n(\Omega)}$$

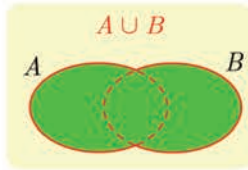
- أن تكون نتائج تجربة متساوية الاحتمال هو افتراض، يُمليه علينا النصّ انطلاقاً من عبارات مثل إلقاء حجر نرد **مثالي**، أو **غير منحاز**، أو إلقاء قطعة نقود **متوازنة**، أو أن **نختار عشوائياً** شيئاً من بين عدد n من الأشياء، لأنّ هذا يعني أننا لا نفضل أحد هذه الأشياء على الأشياء الأخرى. ولكن في هذه الحالة يجب أن نأخذ فضاء العينة مكوناً من هذه الأشياء التي عددها n .

مثال لنأمل صندوقاً يحتوي على خمس كرات، اثنتان بيضاوان وثلاث سود. نسحب عشوائياً كرة ونسجّل لونها. فإذا أخذنا الفضاء العينة $\Omega = \{W_1, W_2, B_1, B_2, B_3\}$ كان احتمال أي حدث بسيط مساوياً $\frac{1}{5}$. ولكن إذا أخذنا فضاء العينة $\Omega' = \{W, B\}$ دلالة على اللونين فقط، فعندئذ لا تعود الأحداث البسيطة متساوية الاحتمال: $\mathbb{P}(W) = \frac{2}{5}$ و $\mathbb{P}(B) = \frac{3}{5}$.

- **الحدث المُعاكس A'** هو الحدث الذي يقع عندما **لا يقع الحدث A** ، أي مجموعة نتائج التجربة التي لا تنتمي إلى المجموعة A . ويكون $\mathbb{P}(A) + \mathbb{P}(A') = 1$.



- الحدث « B و A » هو الحدث الذي يقع عندما **يقع الحدثان A و B في آن معاً**. وهذا الحدث يوافق المجموعة الجزئية $A \cap B$ ، أي مجموعة نتائج التجربة التي تنتمي إلى كل من المجموعتين A و B . وعندما يكون $A \cap B = \emptyset$ نقول إنّ الحدثين A و B **منفصلان**.



- أما الحدث « A أو B » فهو الحدث الذي يقع عندما **يقع أحد الحدثين A أو B على الأقل**. وهذا الحدث يوافق المجموعة الجزئية $A \cup B$ ، أي مجموعة نتائج التجربة التي تنتمي إلى أيٍّ من المجموعتين A أو B أو إلى كليهما.

ترتبط احتمالات الأحداث A و B و $A \cap B$ و $A \cup B$ بالعلاقة المهمة الآتية:

$$\mathbb{P}(A \cup B) = \mathbb{P}(A) + \mathbb{P}(B) - \mathbb{P}(A \cap B)$$

- **مثال** يدرس 30% من طلاب صف اللّغة الفرنسية (F)، ويدرّس 40% منهم اللّغة الروسية (R)، ويدرّس 60% منهم دروس إحدى هاتين اللغتين على الأقل. فما احتمال أن يتابع طالب دروس اللغتين في آن معاً؟ هنا $\mathbb{P}(F) = 0.3$ و $\mathbb{P}(R) = 0.4$ و $\mathbb{P}(F \cup R) = 0.6$ ، إذن

$$\mathbb{P}(F \cap R) = 0.3 + 0.4 - 0.6 = 0.1$$

- نقول إنّ الحدثين A و B **متنافيان** إذا كانا منفصلين وعندها $\mathbb{P}(A \cap B) = 0$ و $\mathbb{P}(A \cup B) = \mathbb{P}(A) + \mathbb{P}(B)$

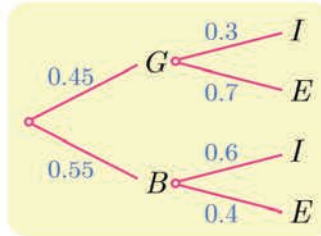
1 الاحتمالات المشروطة (تذكرة)

1.1. الاحتمال المشروط

مثال في مدرسة 45% من التلاميذ إناث (G)، و 55% منهم ذكور (B). ومن بين التلميذات هناك 30% مقيمات في المدينة السكنية في المدرسة (I)، و 70% خارجيات مقيمات في منازلهن مع عائلتهن (E). أما بين التلاميذ الذكور فهناك 60% منهم مقيمون في المدينة السكنية (I) و 40% خارجيون (E). نختار عشوائياً بطاقة تعريف أحد تلاميذ المدرسة ونسجل النتيجة التي نحصل عليها والتي يمكن أن تكون واحدة مما يأتي:

- « تلميذة مقيمة في المدينة السكنية » و « تلميذة غير مقيمة في المدينة السكنية »
 « تلميذ مقيم في المدينة السكنية » و « تلميذ غير مقيم في المدينة السكنية ».

يمكننا تمثيل هذا الوضع تمثيلاً بيانياً كما في الشكل الآتي الذي نسميه تمثيلاً شجرياً:



لاحظ أن مجموع الاحتمالات المكتوبة على الفروع الصادرة من العقدة نفسها يساوي 1، وهي خاصة صحيحة عموماً، وتُعرف باسم قانون العُقَد.

يمثل الطريق $E \text{ } | \text{ } G$ 0.7×0.45 الحدث « تعود البطاقة المسحوبة إلى تلميذة غير مقيمة في المدينة السكنية » وهو الحدث $G \cap E$ فما هو احتمال هذا الحدث ؟

إذا كان N عدد تلاميذ المدرسة، كان عدد التلميذات $0.45 \times N$ ولأن 70% من هؤلاء غير مقيمات في المدينة السكنية كان عدد هؤلاء التلميذات $0.45 \times N \times 0.7$ ، ولما كان سحب البطاقة يجري عشوائياً (أي إن احتمال سحب إحداها يساوي احتمال سحب الأخرى) استنتجنا أن احتمال $G \cap E$ يساوي 0.45×0.7 . لاحظ أن هذا الاحتمال يساوي جداء ضرب الأعداد المكتوبة على كل فرع من الطريق.

إن العدد المكتوب على الفرع G 0.45 يساوي احتمال أن تكون البطاقة المسحوبة عائدة لتلميذة $\mathbb{P}(G)$ ، أما العدد المكتوب على الفرع $E \text{ } | \text{ } G$ 0.7 فيمثل احتمال أن تكون البطاقة عائدة لغير مقيم في المدينة السكنية علماً أنها تعود لتلميذة أي احتمال وقوع E علماً أن G قد وقع، وهو الاحتمال المشروط $\mathbb{P}(E|G)$ ، الذي درسناه سابقاً. إذن $\mathbb{P}(G \cap E) = \mathbb{P}(G) \times \mathbb{P}(E|G) = 0.45 \times 0.7$. لننتدكر معاً:

تعريف 1



ليكن B حدثاً يُحَقَّق $\mathbb{P}(B) \neq 0$ ، ولنفترض أننا نعلم أنه قد وقع، عندئذٍ نُعرِّف الاحتمال المشروط لوقوع حدث A علماً أنّ B قد وقع، (أو احتمال A مشروطاً بالحدث B)، بالصيغة

$$\mathbb{P}(A|B) = \frac{\mathbb{P}(A \cap B)}{\mathbb{P}(B)}$$

وتكتب هذه المساواة بالصيغة المفيدة أيضاً $\mathbb{P}(A \cap B) = \mathbb{P}(A|B) \cdot \mathbb{P}(B)$.

2.1. الاستقلال الاحتمالي لحدثين

تعريف 2



إذا كان A و B حدثين في تجربة احتمالية، عندئذٍ نقول إن A و B مستقلان احتمالياً إذا وفقط إذا كان $\mathbb{P}(A \cap B) = \mathbb{P}(A) \times \mathbb{P}(B)$.

3.1. التمثيل الشجري للتجارب الاحتمالية المركبة

نعلم أنه إذا كان A_1 و A_2 حدثين منفصلين أو متنافيين (أي $A_1 \cap A_2 = \emptyset$) كان

$$\mathbb{P}(A_1 \cup A_2) = \mathbb{P}(A_1) + \mathbb{P}(A_2)$$

يمكن تعميم هذه الخاصة بسهولة إلى اجتماع n من الأحداث المتنافية مثني مثني كما يأتي:

مبرهنة 1



ليكن A حدثاً ولنفترض أنه يساوي اجتماع أحداث **منفصلة مثني مثني** A_1 و A_2 و ... و A_n ، عندئذٍ

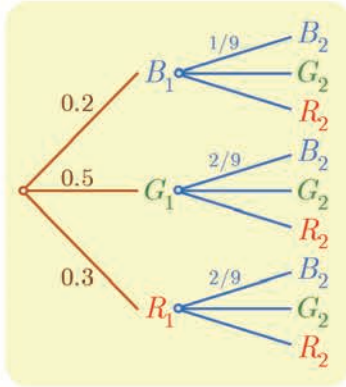
$$\mathbb{P}(A) = \mathbb{P}(A_1) + \mathbb{P}(A_2) + \dots + \mathbb{P}(A_n)$$

مثال نتأمل صندوقاً يحتوي على عشر كرات : كرتان زرقاوان (B) وخمس كرات خضراء (G) وثلاث كرات حمراء (R). نسحب عشوائياً وعلى التتالي كرتين دون إعادة، ونسجل النتيجة التي نحصل عليها. نهدف إلى حساب احتمال الحدث B_2 الموافق لسحب كرة زرقاء في المرة الثانية.

نلاحظ أنّ التجربة تجري على مرحلتين:

المرحلة الأولى ممثلة بالفروع البنية الثلاثة في الشجرة، وهي توافق الأحداث B_1 « سحب كرة زرقاء في المرة الأولى » و G_1 « سحب كرة خضراء في المرة الأولى » و R_1 « سحب كرة حمراء في المرة الأولى ». ولدينا

$$\mathbb{P}(R_1) = 0.3 \quad \text{و} \quad \mathbb{P}(G_1) = 0.5 \quad \text{و} \quad \mathbb{P}(B_1) = 0.2$$



المرحلة الثانية ممثلة بالفروع الزرقاء اللون في الشجرة وهي تبين جميع الإمكانيات. لنضع أنفسنا عند العقدة B_1 . إن الاحتمال الواجب كتابته على الفرع $B_1 \rightarrow B_2$ هو احتمال أن نسحب كرة زرقاء في المرة الثانية علماً أننا سحبنا كرة زرقاء في المرة الأولى، أي $\mathbb{P}(B_2|B_1)$. نجد $\mathbb{P}(B_2|B_1) = \frac{1}{9}$. ويجرى حساب الاحتمالات على بقية الفروع بالمثل.

لنتأمل المسار $B_1 \rightarrow B_2$ إنه يقود إلى الحدث $B_1 \cap B_2$. إذن

$$\mathbb{P}(B_1 \cap B_2) = \mathbb{P}(B_1) \times \mathbb{P}(B_2|B_1) = 0.2 \times \frac{1}{9} = \frac{1}{45}$$

ونجد بالمماثلة أن

$$\mathbb{P}(G_1 \cap B_2) = \mathbb{P}(G_1) \times \mathbb{P}(B_2|G_1) = 0.5 \times \frac{2}{9} = \frac{1}{9}$$

$$\mathbb{P}(R_1 \cap B_2) = \mathbb{P}(R_1) \times \mathbb{P}(B_2|R_1) = 0.3 \times \frac{2}{9} = \frac{1}{15}$$

ولكننا نحصل على الحدث B_2 عن طريق أتباع المسارات $B_1 \rightarrow B_2$ و $G_1 \rightarrow B_2$ و $R_1 \rightarrow B_2$ ، وهي توافق أحداثاً متنافية، إذن

$$\mathbb{P}(B_2) = \mathbb{P}(B_1 \cap B_2) + \mathbb{P}(G_1 \cap B_2) + \mathbb{P}(R_1 \cap B_2) = \frac{1}{45} + \frac{1}{9} + \frac{1}{15} = \frac{1}{5}$$

4.1. القواعد العامة في حالة التمثيل الشجري لتجربة

- توافق كل عقدة حالة من حالات التجربة.
- قانون العقد: مجموع جميع الاحتمالات المكتوبة على الفروع الصادرة من العقدة يساوي 1.
- يمثل مسار تام بدءاً من جذر الشجرة إلى نهاية طرف نهائي فيها، الحدث الموافق لتقاطع جميع الأحداث التي يمر بها المسار، وعادة تُطابق بين المسار والحدث الذي يمثله.

▪ إن احتمال مسار يساوي جداء ضرب الاحتمالات المسجلة على الفروع التي تكوّن هذا المسار .

▪ احتمال حدث B يساوي مجموع احتمالات المسارات التي تقود إلى B .

الصياغة الرياضياتية لهذه الخاصة الأخيرة هي كما يأتي:

مبرهنة 2

لنفترض أن فضاء العينة Ω هو اجتماع أحداث A_1 و A_2 و ... و A_n متنافية متني متني. عندئذ يمكن حساب احتمال أي حدث B بالصيغة

$$\mathbb{P}(B) = \mathbb{P}(A_1)\mathbb{P}(B|A_1) + \mathbb{P}(A_2)\mathbb{P}(B|A_2) + \dots + \mathbb{P}(A_n)\mathbb{P}(B|A_n)$$

الإثبات

في الحقيقة، هذا ناتج من كون الأحداث $A_1 \cap B, A_2 \cap B, \dots, A_n \cap B$ متنافية واجتماعها يساوي B ، إذن

$$\mathbb{P}(B) = \mathbb{P}(A_1 \cap B) + \mathbb{P}(A_2 \cap B) + \dots + \mathbb{P}(A_n \cap B)$$

ولكن $\mathbb{P}(A_k \cap B) = \mathbb{P}(A_k)\mathbb{P}(B|A_k)$ وذلك مهما كان العدد k من المجموعة $\{1, 2, \dots, n\}$. إذن احتمال الحدث B يساوي مجموع احتمالات المسارات $A_k \rightarrow B$ التي تؤدي إلى B . وهو المطلوب إثباته.

تكريساً للفهم

كيف ننشئ مخططاً شجرياً لتجربة عشوائية؟ 

▪ كما فعلنا في حالة المثال الذي درسناه سابقاً. تُمثّل كل عقدة حالة من حالات التجربة، وعند كل منها نعرّف احتمالات الانتقال إلى الحالات اللاحقة. على فرع A منطلق من الجذر نسجّل $\mathbb{P}(A)$ احتمال وقوع A ، وعلى فرع AB صادر من A ، وعلى فرع B صادر من A ، نسجّل $\mathbb{P}(B|A)$ وعلى فرع BC صادر من B ، وعلى فرع C صادر من B ، نسجّل $\mathbb{P}(C|A \cap B)$ ، وهكذا.

▪ ليس من الضروري دوماً إنشاء الشجرة كاملة، ففي الكثير من الحالات تكون لدينا معرفة سابقة بالمسارات التي تقود إلى الحدث الذي نرغب بحساب احتمال وقوعه. ففي المثال السابق كنا نعرف أننا نحصل على كرة زرقاء في السحب الثاني بعد اتباع أحد المسارات الثلاثة الآتية



اختيار صندوق ثم كرة

مثال

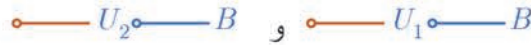
يحتوي صندوق U_1 على كرة سوداء وكرتين بيضاوين، ويحتوي صندوق U_2 على كرتين سوداوين وكرتين بيضاوين وكرة حمراء واحدة. نختار عشوائياً أحد الصندوقين، ونسحب منه عشوائياً كرة. نسمي الحدث B الموافقة لسحب كرة سوداء.

1 احسب $\mathbb{P}(B)$.

2 لقد سحبنا كرة سوداء اللون. ما احتمال أن نكون قد سحبناها من الصندوق U_1 ؟

الحل

1 هذه تجربة مركبة، نختار أولاً صندوقاً، ثم نختار منه كرة. يمكننا إنشاء تمثيل شجري لهذه التجربة، ولكن من غير الضروري إنشاء هذا التمثيل بالكامل، إذ ينتج الحدث B من المسارين



ولكن $\mathbb{P}(U_1) = \mathbb{P}(U_2) = \frac{1}{2}$ و $\mathbb{P}(B|U_1) = \frac{1}{3}$ لأن الصندوق الأول يحوي ثلاث كرات واحدة منها فقط سوداء، و $\mathbb{P}(B|U_2) = \frac{2}{5}$. إذن

$$\mathbb{P}(B) = \frac{1}{2} \times \frac{1}{3} + \frac{1}{2} \times \frac{2}{5} = \frac{11}{30}$$

2 لقد جرى فعلاً سحب كرة سوداء، إذن وقع الحدث B ، ويمكننا صياغة السؤال المطروح كما يأتي: ما احتمال أن يكون U_1 قد اختير علماً أن B قد وقع؟ فالاحتمال المطلوب هو إذن $\mathbb{P}(U_1|B)$. تعريفاً لدينا

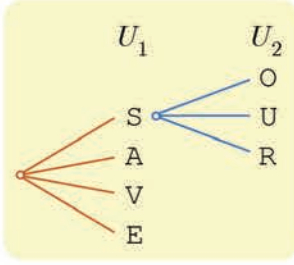
$$\mathbb{P}(U_1|B) = \frac{\mathbb{P}(U_1 \cap B)}{\mathbb{P}(B)} = \frac{\mathbb{P}(U_1)\mathbb{P}(B|U_1)}{\mathbb{P}(B)} = \frac{\frac{1}{2} \times \frac{1}{3}}{\frac{11}{30}} = \frac{5}{11}$$

5.1. التمثيل الشجري والتجارب المستقلة احتمالياً

مثال

لنتأمل التجربة المركبة الآتية: يحتوي الصندوق U_1 على حروف كلمة SAVE ويحتوي الصندوق U_2 على حروف كلمة OUR وأخيراً يحتوي الصندوق U_3 على حروف كلمة SOULS. نسحب عشوائياً حرفاً من الصندوق U_1 ، ثم نسحب كذلك عشوائياً حرفاً من الصندوق U_2 ثم حرفاً من الصندوق U_3 . نُسجل الحروف التي نحصل عليها بالترتيب، ونقبل (هذا إذن افتراض) أن سحب حرف من صندوق مستقل عن كل نتائج السحب السابقة.

ما احتمال وقوع الحدث : «الحصول على كلمة SOS» ؟



- يمكن البدء بإنشاء المخطط الشجري. الفرع S — يمثل الحدث S الموافق لسحب الحرف S من الصندوق U_1 . وانطلاقاً من العقدة S هناك ثلاث فروع لاحقة ممكنة وكذلك الأمر بالنسبة إلى بقية العقد A و V و E .

- وانطلاقاً من العقدة O الموافقة لسحب الحرف O من U_2 ، هناك أربعة فروع ممكنة توافق سحب أحد الحروف S و O و L من U_3 ، وكذلك الأمر بالنسبة إلى العقدين الآخرين U و R .

- يجب أن نسجل على الفرع O — S احتمال الحدث «سحب الحرف O من U_2 علماً أن S قد وقع». واستناداً إلى الفرض لا يتعلّق هذا الاحتمال بالحدث S ، فاحتمال وقوعه هو نفسه احتمال «سحب الحرف O من U_2 » وذلك بقطع النظر عن وقوع الحدث S ، فهذا الاحتمال يساوي $\frac{1}{3}$.

- تنطبق هذه المناقشة على جميع فروع الشجرة، ولكن من غير الضروري إنشاءها، فالحدث

«الحصول على كلمة SOS» يوافق المسار الوحيد S — O — S $\frac{2}{5}$ $\frac{1}{3}$ $\frac{1}{4}$ S $\frac{1}{4}$ ومن ثمّ احتمال

$$\mathbb{P}(SOS) = \frac{1}{4} \times \frac{1}{3} \times \frac{2}{5} = \frac{1}{30}$$

هذا الحدث يساوي

يمكننا النظر إلى نتيجة هذه التجربة المركّبة بصفحتها ناجمة عن توالي ثلاث تجارب بسيطة: الأولى هي سحب حرف من U_1 والثانية هي سحب حرف من U_2 والثالثة هي سحب حرف من U_3 . ولقد افترضنا أنّ هذه التجارب الثلاث مستقلة احتمالياً، أي إنّ نتيجة السحب في أحدها لا تتأثر ولا تؤثر في نتائج التجارب الأخرى. في مثل هذه الحالة تأخذ نتيجة التجربة المركّبة الشكل (A_1, A_2, A_3) حيث A_1 هي نتيجة التجربة الأولى و A_2 هي نتيجة التجربة الثانية و A_3 هي نتيجة التجربة الثالثة ويكون

$$\mathbb{P}(A_1, A_2, A_3) = \mathbb{P}(A_1) \times \mathbb{P}(A_2) \times \mathbb{P}(A_3)$$

وقد رمزنا $\mathbb{P}(A_k)$ إلى احتمال الحصول على النتيجة A_k في التجربة رقم k . وبالطبع يمكن تعميم هذه المناقشة على أي عدد منه من التجارب المستقلة احتمالياً.



لعلّ أبسط مثال على تجارب مركّبة مكوّنة من عدد من التجارب البسيطة المستقلة احتمالياً هي تلك التجارب المركّبة القائمة على **تكرار تجارب بسيطة متماثلة** عدداً من المرات، مثل تجربة **تكرار** إلقاء قطعة نقود عدداً p من المرات، أو تجربة **تكرار** إلقاء حجر نرد عدداً من المرات، وهكذا.

تكريساً للفهم

كيف نعرف بوجود استقلال احتمالي؟ 

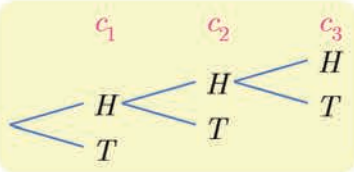
تعلم أن دراسة التجارب العشوائية الحقيقية تجري انطلاقاً من نماذج نظرية مُعدّة سابقاً. وعندئذ يكون الاستقلال الاحتمالي لبعض الأحداث من ضمن **افتراضات هذا النموذج**، ويجب أن يُنصّ عليه صراحة عند طرح السؤال. ولكن هناك بعض الحالات المرجعية التي جرت العادة أن يكون فيها هذا الافتراض ضمناً. مثلاً

- تكرار إلقاء حجر نرد أو قطعة نقود عدداً من المرات. نتيجة كل مرة لا تتأثر بنتائج المرات الأخرى.
- إلقاء عدد من قطع النقود أو أحجار النرد.
- السحب من صناديق مختلفة.
- تكرار السحب من الصندوق نفسه مع الإعادة.

مثال إلقاء ثلاث قطع من النقود

نتأمل ثلاث قطع من النقود نرّمز إليها c_1 و c_2 و c_3 . القطعة c_1 متوازنة أما c_2 و c_3 فهما متماثلتان ولكنهما غير متوازنتين. كلٌّ من احتمال ظهور H أو احتمال ظهور T في حالة القطعة c_1 يساوي $\frac{1}{2}$. أما في حالة القطعتين c_2 و c_3 فإن احتمال ظهور H يساوي $\frac{3}{5}$ واحتمال ظهور T يساوي $\frac{2}{5}$. نُلقِي قطع النقود الثلاث ونسجّل النتائج التي نحصل عليها بصيغة ثلاثيات (e_1, e_2, e_3) . نقبل أن النتيجة التي تظهرها إحدى القطع مستقلة عن نتائج القطع الأخرى. ما احتمال وقوع الحدث A : «الحصول على H مرة واحدة فقط».

الحل



يمكننا إنشاء التمثيل الشجري الموافق للتجربة، وقد بدأنا به في الشكل المجاور، ولكن من غير المفيد إنشاءه كاملاً. من الواضح أن هناك ثلاثة مسارات و فقط ثلاثة تحقق الحدث A . هي

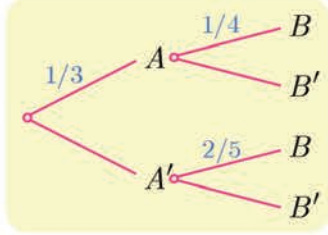
$$\text{---}T\text{---}T\text{---}H \text{ و } \text{---}T\text{---}H\text{---}T \text{ و } \text{---}H\text{---}T\text{---}T$$

ولما كانت الأحداث: «ظهور H على c_1 » و «ظهور T على c_2 » و «ظهور T على c_3 » مستقلة احتمالياً، استنتجنا أن $\mathbb{P}(HTT) = \frac{1}{2} \times \frac{2}{5} \times \frac{2}{5} = \frac{2}{25}$ ، ونجد بالمثل أن $\mathbb{P}(THT) = \frac{1}{2} \times \frac{3}{5} \times \frac{2}{5} = \frac{3}{25}$ و $\mathbb{P}(TTH) = \frac{1}{2} \times \frac{2}{5} \times \frac{3}{5} = \frac{3}{25}$ ، إذن $\mathbb{P}(A) = \frac{8}{25}$.

تَدْرِبْ

① يحتوي صندوق على عشرين كرة سبع منها ببيضاوات اللون. نسحب منه ثلاث كرات دفعة واحدة. ما احتمال أن تكون الكرات الثلاث ببيضاوات ؟

② نملاً عشوائياً كل خانة من الخانات الأربع الآتية بأحد العددين +1 أو -1. احسب احتمال أن يكون المجموع مساوياً للصفر. وكذلك احتمال ألا يظهر العدد ذاته في خانتين متجاورتين.



③ استأداً إلى التمثيل الشجري المبين في الشكل المجاور. عيّن الاحتمالات $\mathbb{P}(A')$ و $\mathbb{P}(B|A)$ و $\mathbb{P}(B'|A')$. واستنتج قيمة كل من $\mathbb{P}(A \cap B)$ و $\mathbb{P}(A \cap B')$ و $\mathbb{P}(A' \cap B)$ و $\mathbb{P}(A' \cap B')$

④ أجب عن الأسئلة الآتية:

- إذا كان $\mathbb{P}(A) = \frac{1}{2}$ و $\mathbb{P}(B) = \frac{1}{4}$ و $\mathbb{P}(A \cap B) = \frac{1}{10}$ فاحسب $\mathbb{P}(B|A)$ و $\mathbb{P}(A|B)$.
- إذا كان $\mathbb{P}(A) = \frac{1}{2}$ و $\mathbb{P}(B) = \frac{1}{3}$ و $\mathbb{P}(A \cup B) = \frac{2}{3}$ فاحسب $\mathbb{P}(B|A)$ و $\mathbb{P}(A|B)$.
- إذا كان $\mathbb{P}(A) = \frac{1}{3}$ و $\mathbb{P}(B|A) = \frac{1}{4}$ و $\mathbb{P}(B|A') = \frac{4}{5}$ فاحسب $\mathbb{P}(B)$.
- إذا كان $\mathbb{P}(A) = \frac{1}{2}$ و $\mathbb{P}(B) = \frac{3}{4}$ و $\mathbb{P}(A \cap B) = \frac{2}{5}$ فاحسب $\mathbb{P}(B|A)$ و $\mathbb{P}(A|B)$. واحسب أيضاً $\mathbb{P}(A' \cap B')$ واستنتج $\mathbb{P}(B'|A')$.

⑤ يضم مصنع ورشتين A و B لتصنيع المصابيح الكهربائية. عندما ورد طلب لعدد من المصابيح قدره 2000 مصباح، صنّعت الورشة A منها 1200 مصباحاً وصنّعت البقية الورشة B . هناك نسبة 4% من مصابيح الورشة A معطوبة، في حين تكون نسبة 3% من مصابيح الورشة B معطوبة. نسحب عشوائياً مصباحاً من الطلب. نرّمز بالرمز A إلى الحدث «المصباح مصنوع في الورشة A » وبالرمز B إلى الحدث «المصباح مصنوع في الورشة B » وبالرمز D إلى الحدث «المصباح معطوب».

① أعط تمثيلاً شجرياً للتجربة.

② احسب احتمال أن يكون المصباح معطوباً.

③ إذا كان المصباح معطوباً فما احتمال أن يكون مصنوعاً في الورشة A .

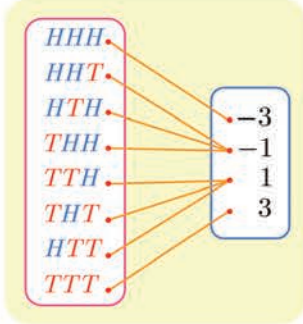
⑥ في مدرستنا يمارس 30% من الطلاب لعبة كرة المضرب. ونعلم أنّ مدرستنا تضم نسبة 60% من الذكور، وأنّ 55% من هؤلاء لا يلعبون لعبة كرة المضرب. ما احتمال أن تكون طالبة مختارة عشوائياً من بين طالبات المدرسة من بين اللاتي لا يمارسن لعبة كرة المضرب؟

2 المتحولات العشوائية

1.2. تعريف

من الشائع ربط كل نتيجة في تجربة عشوائية بعدد حقيقي. ومفهوم المتحول العشوائي هو الصياغة الاحتمالية لهذه الحالة.

مثال



نلقي ثلاث قطع نقود متوازنة مرقمة 1 و 2 و 3. ونسجل الوجه الظاهر لكل قطعة. نختار مجموعة النتائج الممكنة Ω فضاء العينة لهذه التجربة. لنتخيل لعبة تقضي بربح ليرة واحدة كلما ظهر الوجه T وبخسارة ليرة كلما ظهر الوجه H . يُسمّى التابع X الذي يقرب بكل نتيجة الربح (موجباً كان أو سالباً)، متحولاً عشوائياً على Ω .

تعريف 3

ليكن Ω فضاء العينة لتجربة عشوائية. يُسمّى متحولاً عشوائياً كل تابع معرف على Ω ويأخذ قيمه في \mathbb{R} .

2.2. قانون الاحتمال، التوقع، التباين

مثال

لنرجع إلى المثال السابق، ولنبحث عن احتمال الحدث «ربح ليرة واحدة» الذي نرمز إليه بالرمز $(X = 1)$. يقع هذا الحدث عندما تكون نتيجة التجربة واحدة من النتائج TTH أو THT أو HTT إذن $(X = 1)$ هو الحدث $A = \{HTT, THT, TTH\}$ من Ω . ومنه $\mathbb{P}(A) = \frac{3}{8}$. إذن احتمال $(X = 1)$ ، الذي نرمز إليه بالرمز $\mathbb{P}(X = 1)$ ، يساوي $\frac{3}{8}$. يمثّل الجدول الآتي قانون احتمال X .

x	-3	-1	1	3
$\mathbb{P}(X = x)$	$\frac{1}{8}$	$\frac{3}{8}$	$\frac{3}{8}$	$\frac{1}{8}$

المتحول العشوائي ليس متحولاً بل هو تابع! وفي نظرية الاحتمالات تكون قيم هذا التابع أعداداً. نستخدم عادةً الرموز X, Y, Z, \dots للدلالة على المتحولات العشوائية.

بوجه عام، إذا كان X متحولاً عشوائياً معرفاً على فضاء العينة Ω لتجربة عشوائية. وإذا رمزنا بالرمز I إلى مجموعة قيم X : $I = \{x_1, x_2, \dots, x_m\}$ وبالرمز p'_i إلى احتمال الحدث «يأخذ X القيمة x_i » الذي نعبر عنه بالصيغة $(X = x_i)$. ويبرهن أن $p'_1 + p'_2 + \dots + p'_m = 1$.

تعريف 4

ليكن X متحولاً عشوائياً مجموعة قيمه $I = \{x_1, x_2, \dots, x_m\}$ ، قانون احتمال المتحول العشوائي X هو التابع المعرف على I ويقرب بكل x_i من I العدد p'_i . $\mathbb{P}(X = x_i)$.

نمثل هذا القانون بجدول من الشكل الآتي :

x	x_1	x_2	\dots	x_m
$\mathbb{P}(X = x)$	p'_1	p'_2	\dots	p'_m

تعريف 5

ليكن X متحولاً عشوائياً مجموعة قيمه $I = \{x_1, x_2, \dots, x_m\}$ ، وليكن $\mathbb{P}(X = x_i) = p'_i$.

- التوقع الرياضي للمتحول العشوائي X هو

$$\mathbb{E}(X) = x_1 p'_1 + \dots + x_m p'_m = \sum_{i=1}^m x_i p'_i$$

- تباين المتحول العشوائي X هو

$$\mathbb{V}(X) = (x_1 - \mathbb{E}(X))^2 p'_1 + \dots + (x_m - \mathbb{E}(X))^2 p'_m = \sum_{i=1}^m (x_i - \mathbb{E}(X))^2 p'_i$$

- الانحراف المعياري للمتحول العشوائي X هو $\sigma(X) = \sqrt{\mathbb{V}(X)}$.

خاصة

يُحسب تباين المتحول العشوائي X أيضاً بالصيغة المكافئة

$$\mathbb{V}(X) = (x_1^2 p'_1 + \dots + x_m^2 p'_m) - (\mathbb{E}(X))^2 = \sum_{i=1}^m x_i^2 p'_i - (\mathbb{E}(X))^2$$


في الحقيقة، يكفي أن ننشر التربيع :

$$(x_i - \mathbb{E}(X))^2 = x_i^2 - 2x_i \mathbb{E}(X) + (\mathbb{E}(X))^2$$

ثم نضرب الطرفين بالاحتمال p'_i ونجمع جميع المساويات الناتجة.

تكريساً للفهم

ليكن X متحولاً عشوائياً.

كيف نحسب $\mathbb{P}(X = x_i)$ ؟ 

- الصيغة $(X = x_i)$ لا تعبر عن مساواة، ولكنها رمز يستعمل في الاحتمالات للدلالة على الحدث: « قيمة X تساوي x_i ».
- لحساب $\mathbb{P}(X = x_i)$ نبحث عن المجموعة الجزئية A من Ω ، (فضاء العينة للتجربة العشوائية)، التي تحتوي على النتائج التي صورتها وفق X هي x_i . فالحدث A هو $(X = x_i)$ نفسه، وعندها $\mathbb{P}(A) = \mathbb{P}(X = x_i)$.

مثال

لتكن $\Omega = \{a_1, a_2, a_3, a_4, a_5\}$ وليكن X المتحول العشوائي المعرف على Ω كما يأتي :

$$X(a_1) = -3 \text{ و } X(a_2) = 0 \text{ و } X(a_3) = -3 \text{ و } X(a_4) = 0 \text{ و } X(a_5) = 1$$

إن مجموعة قيم X هي $I = \{-3, 0, 1\}$. لحساب $\mathbb{P}(X = 0)$. نلاحظ أن النتائج التي صورة كل منها وفق X تساوي 0 هي a_2 و a_4 . إذن $(X = 0) = \{a_2, a_4\}$. فإذا كانت نتائج Ω متساوية الاحتمال كان $\mathbb{P}(X = 0) = \frac{2}{5}$.

أوجد علاقة بين التوقع الرياضي وأمل الربح في لعبة ما ؟ 

- إن التوقع الرياضي كائنٌ رياضيّ وليس مقدار الربح المتوقع في لعبة ما. يمكننا تخيل لاعبين يلعبان بحظوظ متساوية ولكن الأول يربح والثاني يخسر إذا لعبا مرة واحدة. ما يمكن قوله هو أنه إذا تكررت اللعبة عدداً كبيراً من المرات، فإن أمل الربح يصبح قريباً من التوقع الرياضي.

حساب توقع متحول عشوائي

مثال

تقضي لعبة إلقاء حجر نرد مثاليّ بربح ليرتين إذا أظهر النرد الرقم 1، وبربح ليرة واحدة إذا أظهر الرقم 2، وبخسارة ليرة واحدة في الحالات الأخرى. ما هو التوقع الرياضي للمتحول العشوائي الموافق لهذه اللعبة ؟

الحل

مجموعة النتائج الممكنة في اللعبة هي $\Omega = \{1, 2, 3, 4, 5, 6\}$ ، وهذه النتائج متساوية الاحتمال لأن النرد مثالي. المتحول العشوائي X معرف على Ω وفق:

$$X(1) = 2 \text{ و } X(2) = 1 \text{ و } X(3) = X(4) = X(5) = X(6) = -1$$

لحساب توقع X علينا تعيين قانونه الاحتمالي. الحدث $(X = 1)$ ليس إلا المجموعة الجزئية $\{2\}$ من Ω وهي حدث بسيط «ظهور 2»، وعليه $\mathbb{P}(X = 1) = \frac{1}{6}$. كذلك $\mathbb{P}(X = 2) = \frac{1}{6}$. الحدث $(X = -1)$ يمثل المجموعة الجزئية $B = \{3, 4, 5, 6\}$ من Ω ، إذن $\mathbb{P}(X = -1) = \frac{4}{6}$. ومنه

x	1	2	-1
$\mathbb{P}(X = x)$	$\frac{1}{6}$	$\frac{1}{6}$	$\frac{4}{6}$

ومنه

$$\mathbb{E}(X) = 2 \times \frac{1}{6} + 1 \times \frac{1}{6} + (-1) \times \frac{4}{6} = -\frac{1}{6}$$

ولما كان التوقع سالباً. نضمن أنه إذا لعب اللاعب عدداً كبيراً من المرات فهو سيخسر.

تَدْرِبْ

- ① نلقي حجر نرد متوازن وجوهه مرقمة من 1 إلى 6. نحصل على درجة واحدة إذا ظهر الوجه 1، ونحصل على ست درجات إذا ظهر الوجه 6، ونخسر درجتين في بقية الحالات. ليكن X المتحول العشوائي الذي يمثل الدرجة التي نحصل عليها. اكتب القانون الاحتمالي للمتحول العشوائي X ، واحسب كلاً من $\mathbb{E}(X)$ و $\mathbb{V}(X)$.
- ② يحتوي صندوق على خمس كرات: ثلاث كرات سوداء اللون، وكرتان بيضاوان. نسحب عشوائياً وفي آن معاً كرتين من الصندوق. ونسمي X المتحول العشوائي الذي يقرن بكل نتيجة سحب عدد الكرات البيضاء المسحوبة. عين مجموعة قيم X ، واكتب قانونه الاحتمالي، واحسب توقعه وتباينه.
- ③ أعد السؤال السابق بافتراض أن السحب يجري على التوالي ودون إعادة.
- ④ يحتوي صندوق على خمس كرات: اثنتان تحملان الرقم 1 واثنتان تحملان الرقم 2 وواحدة تحمل الرقم 3. نسحب عشوائياً وفي آن معاً كرتين من الصندوق. ونسمي X المتحول العشوائي الذي يقرن بكل نتيجة سحب مجموع أرقام الكرتين المسحوبتين. عين مجموعة قيم X ، واكتب قانونه الاحتمالي، واحسب توقعه وتباينه.
- ⑤ أعد السؤال السابق بافتراض أن السحب يجري على التوالي ودون إعادة.
- ⑥ نلقي حجر نرد متوازن مرتين متتاليتين ونسجل رقمي الوجهين الظاهرين. ليكن X المتحول العشوائي الذي يقرن بكل نتيجة للتجربة مجموع رقمي الوجهين الظاهرين. اكتب القانون الاحتمالي للمتحول العشوائي X واحسب توقعه وتباينه وانحرافه المعياري.

3 الاستقلال الاحتمالي لهتحوّلين عشوائيين

1.3. تعريف القانون الاحتمالي لزوج من المتحوّلات العشوائية

مثال

لنتأمّل التجربة الآتية: لدينا صندوق يحتوي على ثلاث كرات واحدة حمراء تحمل الرقم 1 واثنان زرقاوان تحملان الرقمين 2 و 3. نسحب من الصندوق عشوائياً كرتين على التوالي مع الإعادة. ولتكن Ω مجموعة النتائج الممكنة لهذه التجربة.

▪ نعرّف على Ω المتحوّل العشوائي X الذي يقرن بكلّ نتيجة للتجربة عدد الكرات الزرقاء المسحوبة. إذن يأخذ X قيمه في المجموعة $I = \{0, 1, 2\}$.

▪ ونعرّف على Ω أيضاً المتحوّل العشوائي Y الذي يقرن بكلّ نتيجة للتجربة مجموع رقمي الكرتين المسحوبتين. يأخذ Y قيمه في المجموعة $J = \{2, 3, 4, 5, 6\}$. فمثلاً، إذا كانت نتيجة السحب (2,1) أي سحبنا في المرة الأولى الكرة التي تحمل الرقم 2 وفي المرة الثانية الكرة التي تحمل الرقم 1 أخذ X القيمة $x_1 = 1$ وأخذ Y القيمة $y_3 = 1 + 2 = 3$.

إنّ تعريف قانون الزوج (X, Y) يعني إعطاء احتمالات جميع الأحداث $(X = x_i) \cap (Y = y_j)$ ، حيث x_i من I و y_j من J ، أي $p_{i,j} = \mathbb{P}((X = x_i) \cap (Y = y_j))$. عادة نعرض هذه الاحتمالات في جدول ذي مدخلين: فنكتب في العمود القيم x_i التي يأخذها X ، وفي السطر القيم y_j التي يأخذها Y ، ونضع في الخانة الواقعة عند تقاطع السطر x_i والعمود y_j العدد $p_{i,j}$ الذي يمثّل احتمال وقوع الحدث $(X = x_i) \cap (Y = y_j)$.

فمثلاً الحدث $(Y = 2)$ يقع فقط، و فقط إذا، جرى سحب الكرة التي تحمل الرقم 1 في المرة الأولى والكرة ذاتها في المرة الثانية، إذن

$$(X = 0) \cap (Y = 2) = \{(1, 1)\}, \quad (X = 1) \cap (Y = 2) = \emptyset, \quad (X = 2) \cap (Y = 2) = \emptyset$$

$$\text{وعليه } p_{2,2} = 0 \text{ و } p_{1,2} = 0 \text{ و } p_{0,2} = \frac{1}{9}$$

X \ Y	2	3	4	5	6
0	$\frac{1}{9}$	0	0	0	0
1	0	$\frac{2}{9}$	$\frac{2}{9}$	0	0
2	0	0	$\frac{1}{9}$	$\frac{2}{9}$	$\frac{1}{9}$

أمّا الحدث $(X = 2) \cap (Y = 4)$ فهو يوافق سحب كرتين زرقاوين مجموع رقميهما يساوي 4 فهو إذن الحدث $\{(2, 2)\}$ واحتمال وقوعه يساوي $p_{2,4} = \frac{1}{9}$. وإذا تأمّلنا الحدث $(X = 1) \cap (Y = 4)$ فهو يوافق سحب كرتين إحداهما زرقاء اللون والثانية حمراء اللون ومجموع رقميهما يساوي 4 إذن $(X = 1) \cap (Y = 4) = \{(1, 3), (3, 1)\}$

وعليه $p_{1,4} = \frac{2}{9}$. وهكذا نحصل على قانون الزوج (X, Y) ممثلاً في الجدول المجاور.

تعريف 6



ليكن X و Y متحولين عشوائيين معرفين على فضاء العينة ذاته Ω . يأخذ X القيم x_1 و x_2 و \dots و x_n ، ويأخذ Y القيم y_1 و y_2 و \dots و y_m . إن تعريف قانون الزوج (X, Y) هو إعطاء الاحتمال $p_{i,j}$ ، لكل حدث $((X = x_i) \cap (Y = y_j))$.

2.3. الاستقلال الاحتمالي لتحولين X و Y

تعريف 7



نقول إن المتحولين العشوائيين X و Y **مستقلان احتمالياً** إذا كان الحدتان $(X = x_i)$ و $(Y = y_j)$ مستقلين احتمالياً أي كان i و j . هذا يعني أنه مهما كان i و j كان

$$\mathbb{P}((X = x_i) \cap (Y = y_j)) = \mathbb{P}(X = x_i) \times \mathbb{P}(Y = y_j)$$

أي $p_{i,j} = p_i \times p'_j$ حيث $p_i = \mathbb{P}(X = x_i)$ و $p'_j = \mathbb{P}(Y = y_j)$.

تكريساً للفهم



كيف يمكننا الحصول على قانون كل من X و Y انطلاقاً من قانون الزوج (X, Y) ؟

■ لتأمل المثال السابق، عند جمع عناصر السطر الثاني مثلاً نحصل على $\frac{4}{9}$ وهو احتمال $(X = 1)$ لأن هذا المجموع يساوي، في الحقيقة، مجموع احتمالات الأحداث

$$((X = 1) \cap B_2, (X = 1) \cap B_3, \dots, (X = 1) \cap B_6)$$

حيث $B_k = (Y = k)$ ولكن الأحداث B_2, B_3, \dots, B_6 تؤلف تجزئة للفضاء Ω بأحداث منفصلة متتى متتى، ومن ثم إذا استفدنا من المبرهنة 1 استنتجنا أن $\mathbb{P}(X = 1)$ يساوي مجموع احتمالات الأحداث $((X = 1) \cap B_k)$. وهكذا نحصل على قيم $p_i = \mathbb{P}(X = x_i)$ عن طريق جمع عناصر الأسطر. ونحصل على قيم $p'_j = \mathbb{P}(Y = y_j)$ بجمع عناصر الأعمدة. ويمكننا أن نكتب هذين القانونين على هامش الجدول السابق. لذلك نسميهما القانونين الهامشيين.

$X \backslash Y$	$y_2 = 2$	$y_3 = 3$	$y_4 = 4$	$y_5 = 5$	$y_6 = 6$	$\mathbb{P}(X = x_i)$	
$x_0 = 0$	$\frac{1}{9}$	0	0	0	0	$\frac{1}{9}$	p_0
$x_1 = 1$	0	$\frac{2}{9}$	$\frac{2}{9}$	0	0	$\frac{4}{9}$	p_1
$x_2 = 2$	0	0	$\frac{1}{9}$	$\frac{2}{9}$	$\frac{1}{9}$	$\frac{4}{9}$	p_2
$\mathbb{P}(Y = y_j)$	$\frac{1}{9}$	$\frac{2}{9}$	$\frac{3}{9}$	$\frac{2}{9}$	$\frac{1}{9}$	1	
	p'_2	p'_3	p'_4	p'_5	p'_6		

- ولكن عموماً، لا يمكننا استنتاج قانون الزوج (X, Y) انطلاقاً من قانوني X و Y . هذا ممكن فقط في حالة كون X و Y مستقلين.

🔍 كيف يمكننا معرفة إذا كان متحولان عشوائيان مستقلين احتمالياً؟

بمقارنة الجداء $p_i \times p'_j$ بالمقدار $p_{i,j}$. فبعد إنشاء الجدول الذي يعطي قانون الاحتمال للزوج (X, Y) ، نتممه بإضافة العمود الذي يعطي قانون X والسطر الذي يعطي قانون Y ، ثم ننتبين أيسوي العدد المسجل في خانة (x_i, y_j) جداء الضرب $p_i \times p'_j$ أو لا يساويه.

- فإذا تحققت المساواة عند كل i و j ، كان المتحولان X و Y مستقلين احتمالياً.
- وإذا لم تتحقق المساواة عند واحد على الأقل من الأزواج (i, j) كان المتحولان X و Y غير مستقلين احتمالياً.

فمثلاً في حالة المثال السابق $p_0 \times p_2 = \frac{1}{81} \neq \frac{1}{9} = p_{0,2}$ فالمتحولان X و Y ليسا مستقلين احتمالياً.



$X \backslash Y$	0	1	2	قانون X
0	$\frac{1}{20}$	$\frac{1}{8}$	$\frac{1}{8}$	
1	$\frac{17}{60}$	$\frac{3}{8}$	$\frac{1}{24}$	
قانون Y				

- ① نجد في الجدول المجاور القانون الاحتمالي لزوج (X, Y) من المتحوّلات العشوائية، أكمله وبيّن إذا كان المتحولان العشوائيان X و Y مستقلين احتمالياً.

$X \backslash Y$	0	1	2	قانون X
0				0.4
1			0.04	
2				0.4
قانون Y	0.3			

- ② أكمل الجدول المجاور الذي يمثّل القانون الاحتمالي لزوج من المتحوّلات العشوائية (X, Y) ، علماً أنّ المتحولين العشوائيين X و Y مستقلان احتمالياً.

- ③ نلقي حجري نرد متوازنين. ليكن X المتحوّل العشوائي الذي يمثّل مجموع رقمي الوجهين الظاهرين، وليكن Y المتحوّل العشوائي الذي يمثّل أصغر هذين الرقمين. اكتب الجدول الذي يمثّل القانون الاحتمالي للزوج (X, Y) ، واستنتج القانون الاحتمالي لكل من X و Y ، واحسب توقع وتباين كل من X و Y . أياكون X و Y مستقلين احتمالياً؟

4 المتحولات العشوائية الحدانية

1.4 التجارب البرنولية

عندما نهتم في تجربة عشوائية ما فقط بوقوع حدث محدّد بعينه S نطلق على هذه التجربة اسم

اختبار برنولي (نسبة إلى يعقوب برنولي (Jacob Bernoulli)).

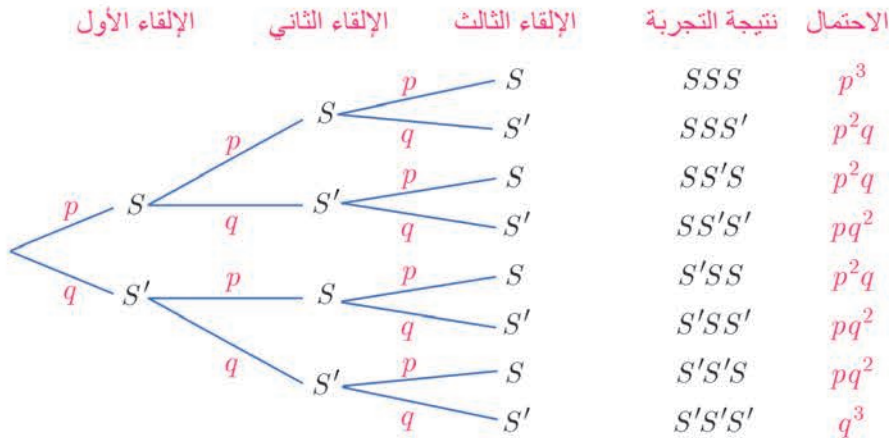
مثال

نلقي حجر نرد ونهتم **فقط** بوقوع الحدث S الآتي «ظهور العدد 6». نختار إذن المجموعة $\Omega = \{S, S'\}$ فضاءً للعينة، حيث S' هو الحدث «عدم ظهور العدد 6».

وعندما نُجري عدداً n من الاختبارات البرنولية، كل واحد منها يجري في الشروط نفسها وبحيث لا تتأثر نتيجة أحدها سواء كانت S أو S' بنتائج الاختبارات التي سبقت، نقول إننا أمام **تجربة برنولية**.

مثال

نلقي حجر نرد متوازن ثلاث مرات على التوالي ونهتم في كل مرة **فقط** بوقوع الحدث S الآتي «ظهور العدد 6». إذن $\mathbb{P}(S) = \frac{1}{6}$ و $\mathbb{P}(S') = \frac{5}{6}$. لنضع $p = \frac{1}{6}$ و $q = \frac{5}{6}$. ولنتأمل التمثيل الشجري الموافق لهذه التجربة.



نتائج التجربة كلمات مكوّنة من ثلاثة حروف مأخوذة من المجموعة $\{S, S'\}$. ولقد وضعنا احتمال الحصول على أي منها باتباع قواعد التمثيل الشجري. لاحظ أنّ لجميع هذه الاحتمالات صيغة من الشكل $p^k q^{3-k}$ حيث يمثل العدد k عدد الحروف S في كل كلمة تمثّل نتيجة لتجربة.

- لنرمز بالرمز X إلى المتحول العشوائي الذي يقرن بكل نتيجة للتجربة عدد الحروف S في الكلمة التي تمثل هذه النتيجة. لنحسب مثلاً $\mathbb{P}(X = 2)$ إن $(X = 2)$ هو الحدث $\{SSS', SS'S, S'SS\}$ ومنه

$$\mathbb{P}(X = 2) = \mathbb{P}(SSS') + \mathbb{P}(SS'S) + \mathbb{P}(S'SS) = 3p^2q$$

لاحظ أن 3 هو عدد النتائج التي تُحقَّق $(X = 2)$ وأن $\binom{3}{2} = 3$. يمكن تعليل ذلك بملاحظة أن نتيجة تُحقَّق $(X = 2)$ هي كلمة تحتوي على الحرف S في موقعين وعلى S' في الموقع الثالث. وللحصول على كلمة كهذه علينا ملء ثلاث خانات مرقمة فنختار اثنتين منها لوضع الحرف S فيهما فكم خياراً ممكناً لمجموعة جزئية ذات عنصرين يمكننا أن نختار من مجموعة تحوي ثلاثة عناصر؟ لدينا تحديداً $\binom{3}{2} = 3$ خياراً ممكناً. إذن $\mathbb{P}(X = 2) = \binom{3}{2}p^2q = \binom{n}{k}p^kq^{n-k}$ حيث $k = 2$ و $n = 3$.

2.4. القانون الحدائي

- لتناوّل تجربة برنولية مؤلفة من تكرار n اختبار برنولي. يمكن تمثيل نتيجة هذه التجربة بكلمة مؤلفة من n حرفاً مأخوذ كل منها من المجموعة $\{S, S'\}$. لنرمز p إلى احتمال وقوع الحدث S ، و q إلى احتمال الحدث المتمم S' . إذن $q = 1 - p$.

إذا احتوت الكلمة (القائمة) على k حرف S ، ومن ثمّ على $n - k$ حرف S' ، فإن احتمال النتيجة المُمثّلة بهذه الكلمة يساوي p^kq^{n-k} .

- لنرمز بالرمز X إلى المتحول العشوائي الذي يقرن بكلّ نتيجة عدد الحروف S في الكلمة التي تمثل هذه النتيجة. يأخذ X قيمه في المجموعة $\{0, 1, 2, \dots, n\}$.

لنحسب احتمال الحدث $(X = k)$. إن نتائج التجربة التي تُحقَّق هذا الحدث هي النتائج التي يمكن تمثيل كل منها بكلمة تحوي k حرف S و $n - k$ حرف S' . للحصول على كلمة من هذا النوع يمكننا ترقيم n خانة ثمّ نختار منها k خانة لوضع الحرف S فيها، (ووضع S' في بقية الخانات). هناك $\binom{n}{k}$ كلمة ممكنة، فهناك إذن $\binom{n}{k}$ نتيجة ممكنة في الحدث $(X = k)$. واحتمال كل واحد من هذه الأحداث البسيطة يساوي p^kq^{n-k} . إذن

$$\mathbb{P}(X = k) = \binom{n}{k}p^kq^{n-k}, \quad k = 0, 1, \dots, n$$

تعريفه 8



نقول إن المتحول العشوائي X يتبع قانوناً حدانياً بوسيطين n و p عندما يتحقق الشرطان الآتيان:

- X يأخذ قيمه في المجموعة $\{0, 1, \dots, n\}$.
 - وأياً كان العدد الطبيعي k حيث $0 \leq k \leq n$ كان $\mathbb{P}(X = k) = \binom{n}{k} p^k q^{n-k}$.
- نرمز عادة إلى هذا القانون بالرمز $\mathcal{B}(n, p)$.

تثبت لنا المناقشة التي سبقت التعريف السابق صحة المبرهنة الآتية :

مبرهنة 3



في تجربة برنولية مؤلفة من تكرار عدد n من الاختبارات البرنولية المستقلة احتمالياً والمتماثلة، يتبع المتحول العشوائي، الذي يحصي عدد المرات التي يقع فيها حدث مُستهدف S احتمال وقوعه p على مدى n اختبار، قانوناً حدانياً وسيطاه n و p أي $\mathcal{B}(n, p)$.

مبرهنة 4



ليكن X متحولاً عشوائياً يتبع قانوناً حدانياً وسيطيه n و p ، عندئذ يعطى توقع X وتباينه بالصيغتين :

$$\mathbb{E}(X) = np \quad \text{و} \quad \mathbb{V}(X) = np(1 - p)$$

الإثبات (ترك لقراءة ثانية)

لاحظ أولاً أنه إذا وضعنا كالعادة $q = 1 - p$ كان لدينا

$$\begin{aligned} \mathbb{E}(X) &= 0 \times \mathbb{P}(X = 0) + 1 \times \mathbb{P}(X = 1) + \dots + k \times \mathbb{P}(X = k) + \dots + n \times \mathbb{P}(X = n) \\ &= 0 + \binom{n}{1} p q^{n-1} + \dots + k \binom{n}{k} p^k q^{n-k} + \dots + n \binom{n}{n} p^n \end{aligned}$$

ولكن في حالة $1 \leq k \leq n$ لدينا

$$k \binom{n}{k} = k \times \frac{n!}{k!(n-k)!} = n \frac{(n-1)!}{(k-1)!((n-1)-(k-1))!} = n \binom{n-1}{k-1}$$

إذن

$$\begin{aligned} \mathbb{E}(X) &= n \binom{n-1}{0} p q^{n-1} + \dots + n \binom{n-1}{k-1} p^k q^{n-k} + \dots + n \binom{n-1}{n-1} p^n \\ &= np \left(\binom{n-1}{0} p^0 q^{n-1} + \dots + \binom{n-1}{k-1} p^{k-1} q^{(n-1)-(k-1)} + \dots + \binom{n-1}{n-1} p^{n-1} q^0 \right) \\ &= np \times (p + q)^{n-1} = np \end{aligned}$$

ويمكن بالمثل إثبات الجزء المتعلق بالتباين.

تكريساً للفهم

أمثلة على تجارب برنولية؟ 

- تجربة إلقاء حجر نرد، أو قطعة نقود عدداً من المرات.
- السحب المتتالي مع الإعادة. لتأمل مثلاً صندوقاً يحتوي على مئة كرة؛ عشر كرات بيضاوات، وثلاثين كرة خضراء، وأربعين كرة حمراء، وعشرين كرة صفراء. نُجري ثلاث عمليات سحب لكرة من الصندوق مع الإعادة. ونهتم فقط بالحدث S : «سحب كرة بيضاء».
- النموذج النظري لهذه التجربة هو تجربة برنولي، فهي تكرار لثلاث اختبارات برنولية مستقلة احتمالياً ومتماثلة. يتمثل الاختبار الواحد بسحب كرة وتبيان كونها بيضاء اللون.
- إلقاء عدد من قطع النقود (أو أحجار النرد) المرقمة المتماثلة في آن معاً. النموذج النظري هنا أيضاً تجربة برنولي، إذ نقبل أنه يمكن الحصول عند الإلقاء في آن معاً على النتيجة ذاتها التي نحصل عليها بتكرار اختبارات برنولية مستقلة احتمالياً ومتماثلة. الاختبار البرنولي في هذه الحالة هو إلقاء قطعة واحدة.

متى نستعمل القانون الحداني؟ 

- في كل مرة نواجه فيها مسألة حساب احتمال تحقق حدث S عدداً k من المرات، عند تكرار اختبار عشوائي على نحو مستقل احتمالياً عدداً n من المرات.

مثال **إلقاء عدد من قطع النقود في آن معاً**

نلقي خمس قطع نقود متوازنة في آن معاً. ما احتمال الحصول على الوجه H ثلاث مرات فقط؟

الحل

كما ذكرنا سابقاً، تكافئ هذه التجربة إلقاء قطعة النقود ذاتها خمس مرات متتالية، ولما كانت قطع النقود متوازنة كان احتمال الحصول على الوجه H مساوياً $\frac{1}{2}$ وعليه فإن احتمال الحصول على الوجه H

$$\text{خمس مرات بالتحديد يساوي } \frac{5}{16} = \binom{5}{3} \left(\frac{1}{2}\right)^3 \left(1 - \frac{1}{2}\right)^2 \text{ هنا } n = 5 \text{ و } k = 3 \text{ و } p = \frac{1}{2}.$$

مثال **المرور بالحدث المتمم**

نلقي ست مرات حجر نرد مثالي. وليكن A الحدث «الحصول مرتين على الأقل على 5 أو 6».

فما احتمال وقوع الحدث A ؟

هنا أيضاً لدينا نموذج تجربة برنولية، الاختبار البرنولي هو إلقاء حجر نرد، إذ يتحقق "النجاح" S عند ظهور 5 أو 6. ولأن حجر النرد مثالي لدينا $\mathbb{P}(S) = p = \frac{2}{6} = \frac{1}{3}$. أما المتحول العشوائي X الذي يعطي عدد النجاحات في هذه التجربة فهو يتبع قانوناً برنولياً وسيطاه $n = 6$ و $p = \frac{1}{3}$. عندما يحتوي تعريف حدث A على صيغة من النمط "على الأقل"، فغالباً ما يكون من المفضل حساب احتمال الحدث المتمم A' . هنا الحدث A' هو اجتماع الأحداث «عدم الحصول على 5 أو 6» و«الحصول على 5 أو 6 مرة واحدة فقط» فهو إذن اجتماع الحدثين المنفصلين $(X = 0)$ و $(X = 1)$. ولكن

$$\mathbb{P}(X = 0) = \binom{6}{0} \left(\frac{1}{3}\right)^0 \left(\frac{2}{3}\right)^6 = \left(\frac{2}{3}\right)^6$$

$$\mathbb{P}(X = 1) = \binom{6}{1} \left(\frac{1}{3}\right)^1 \left(\frac{2}{3}\right)^5 = 6 \times \frac{1}{3} \times \left(\frac{2}{3}\right)^5 = 2 \left(\frac{2}{3}\right)^5$$

إذن

$$\mathbb{P}(A') = \left(\frac{2}{3}\right)^6 + 2 \left(\frac{2}{3}\right)^5 = \left(2 + \frac{2}{3}\right) \left(\frac{2}{3}\right)^5 = \frac{256}{729}$$

$$\mathbb{P}(A) = 1 - \mathbb{P}(A') = \frac{473}{729} \text{ وعليه}$$



① يحتوي صندوق على كرات حمراء وكرات بيضاء. عدد الكرات الحمراء يساوي ثلاثة أضعاف عدد الكرات البيضاء.

① نسحب عشوائياً كرة. ما احتمال أن تكون حمراء اللون؟

② نسحب من الصندوق ثلاث كرات على التوالي ومع الإعادة. ونعرف X المتحول العشوائي الذي يدل على عدد الكرات الحمراء المسحوبة أثناء عمليات السحب الثلاث. ما القانون الاحتمالي للمتحول العشوائي X .

② تُلقى حجر نرد متوازن ست مرات متتالية. ما احتمال الحصول على العدد 6 ثلاث مرات فقط ثلاث مرات؟

③ تُلقى حجر نرد متوازن ثماني مرات متتالية. ليكن A الحدث: «الحصول على عدد زوجي ثلاث مرات على الأقل». ما احتمال A ؟

④ يتواجه لاعبان A و B في لعبة كرة المضرب في مباراة مكونة من تسعة أدوار. يكسب A الدور الواحد باحتمال يساوي 0.6. يربح المباراة اللاعب الذي يكسب أكبر عدد من الأدوار. ما احتمال أن يربح B المباراة؟

أفكار يجب تمثيلها



- في حالة $\mathbb{P}(B) \neq 0$ ، يرتبط الاحتمال المشروط « A علماً B »، الذي نرسم إليه $\mathbb{P}(A|B)$ والاحتمالين $\mathbb{P}(A \cap B)$ و $\mathbb{P}(B)$ بالعلاقة: $\mathbb{P}(A \cap B) = \mathbb{P}(A|B) \times \mathbb{P}(B)$.
- يُعبّر عن الاستقلال الاحتمالي لحدثين A و B بالعلاقة $\mathbb{P}(A \cap B) = \mathbb{P}(A) \times \mathbb{P}(B)$.
- في حالة تمثيل شجري لتجربة عشوائية:
 - يُعبّر مسار كامل عن تقاطع جميع الأحداث التي يمرّ بها المسار.
 - يعطي جداء ضرب الاحتمالات المكتوبة على مسار احتمال الحدث التي يمثله المسار.
 - إذا حققت عدة مسارات الحدث A كان مجموع احتمالاتها مساوياً احتمال الحدث A .
 - إذا كانت التجربة مؤلفة من تتابع تجارب بسيطة مستقلة، يكفي أن نكتب على الفرع C — B احتمال وقوع C أي $\mathbb{P}(C)$.
- يؤوّل الاستقلال الاحتمالي لمتحولين عشوائيين X و Y إلى الاستقلال الاحتمالي لجميع الأحداث $(X = x_i)$ و $(Y = y_j)$. ولتحديد ذلك نُنشئ جدول القانون الاحتمالي للزوج (X, Y)

منعكسات يجب امتلاكها



- عند حساب احتمال حدث من النمط « A و B » يمكن استعمال عدد من الصيغ:
 - $\mathbb{P}(A \cap B) = \mathbb{P}(A|B) \times \mathbb{P}(B)$ في حالة $\mathbb{P}(B) \neq 0$.
 - $\mathbb{P}(A \cap B) = \mathbb{P}(B|A) \times \mathbb{P}(A)$ في حالة $\mathbb{P}(A) \neq 0$.
 - $\mathbb{P}(A \cap B) = \mathbb{P}(A) \times \mathbb{P}(B)$ في حالة كون الحدثين A و B مستقلين احتمالياً.
- ليس من الضروري دوماً إنشاء كامل التمثيل الشجري لتجربة احتمالية مركبة، يمكننا الاكتفاء بإنشاء المسارات التي تهتمنا.
- تحقّق من حساباتك، ففي حالة التمثيل الشجري، مجموع الاحتمالات على جميع الفروع الصادرة من عقدة يساوي الواحد.

أخطاء يجب تجنبها



- لا تكتب $\mathbb{P}(A \cup B) = \mathbb{P}(A) + \mathbb{P}(B)$ ، قبل أن تتيقّن أنّ الحدثين A و B متافيان أو منفصلان أي $A \cap B = \emptyset$
- إن المساواة $\mathbb{P}(A \cap B) = \mathbb{P}(A) \cdot \mathbb{P}(B)$ صحيحة فقط إذا كان الحدثان A و B مستقلين احتمالياً ومن ثمّ لا يمكن استعمالها إلا بعد التيقّن من كون الحدثين A و B مستقلين احتمالياً.

أنشطة

نشاط 1 إنشاء واستعمال التمثيل الشجري

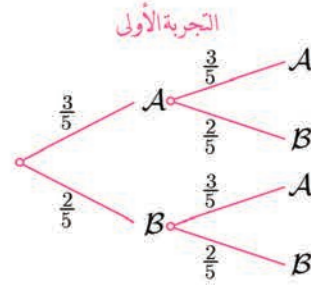
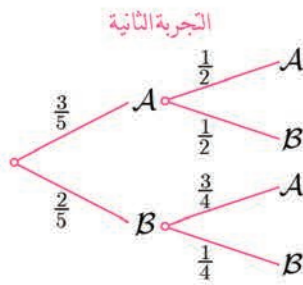
1 السحب مع الإعادة وبدونها

يحتوي صندوق على ثلاثة حروف A وحرفين اثنين B .

التجربة الأولى. نسحب عشوائياً حرفاً من الصندوق ونسجل النتيجة ثم نُعيده إلى الصندوق ونسحب حرفاً ثانياً ونسجل النتيجة.

التجربة الثانية. نسحب عشوائياً وعلى التتالي حرفين من الصندوق واحداً إثر الآخر دون إعادة ونسجل النتيجة بترتيب السحب.

اشرح التمثيلين الشجريين الآتيين:

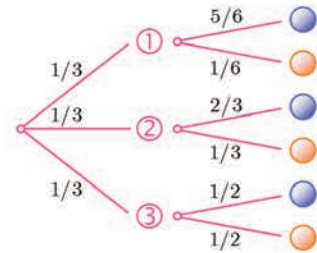
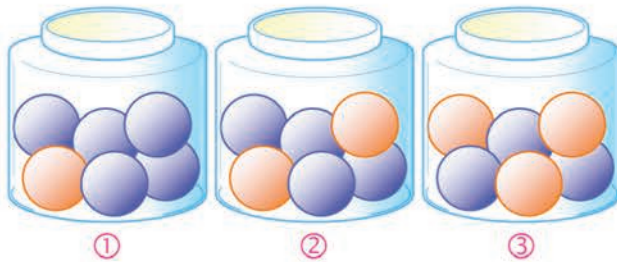


ما احتمال الحصول على AA في التجربة الأولى؟ وماذا يساوي احتمال هذا الحدث في التجربة الثانية؟

2 اختيار صندوق ثم سحب كرة

تتألف التجربة من مرحلتين، نختار عشوائياً واحداً من الصناديق الثلاثة المبينة في الشكل، ثم نختار منه كرة. ولقد أنشأنا التمثيل الشجري الموافق لهذه التجربة. اشرح هذا الإنشاء ثم أعط احتمال الحدث: «سحب كرة زرقاء اللون». وإذا كانت نتيجة السحب كرة زرقاء فما احتمال أن تكون مسحوبة من

الصندوق ②؟



نشاط 2 فحص الأمراض

يُصيبُ مرضٌ نسبة 10% من السكان. يُتيح اختبارٌ اكتشاف إذا كان شخصٌ مصاباً بهذا المرض. يجب أن تكون نتيجة الاختبار إيجابية في حال كون الشخص مصاباً. ولكن احتمال أن تكون النتيجة إيجابية مع كون الشخص الخاضع للاختبار غير مصاب بالمرض يساوي 0.008. أما احتمال أن تكون نتيجة الاختبار سلبية على الرغم من كون الشخص الخاضع للاختبار مصاباً فيساوي 0.02.

لنرمز بالرمز M إلى الحدث «الشخص مصاب بالمرض»، وبالرمز T إلى الحدث «نتيجة الاختبار إيجابية». نختار شخصاً عشوائياً.

- ① أنشئ تمثيلاً شجرياً مُحدداً عليه الاحتمالات المعطاة في النص.
- ② احسب احتمال أن يكون الشخص غير مصاب بالمرض ومع ذلك نتيجة اختبار إيجابية.
- ③ احسب احتمال أن تكون نتيجة الاختبار سلبية ومع ذلك الشخص مصاب بالمرض.
- ④ استنتج احتمال أن يكون الاختبار **موثقاً**، أي احتمال أن يعطي الاختبار نتيجة إيجابية في حالة شخص مصاب بالمرض ونتيجة سلبية في حالة شخص غير مصاب بالمرض.
- ⑤ أجب عن الأسئلة السابقة ذاتها بافتراض أن المرض يصيب نسبة 30% من السكان.
- ⑥ عمّم النتائج السابقة بافتراض أن احتمال الإصابة بالمرض يساوي p .

نشاط 3 متحوّلات عشوائية واحتمالات مشروطة

ليكن X المتحوّل العشوائي الذي يمثل عدد زبائن محطة لتوزيع الوقود في فترة خمس دقائق. نفترض أن عدد الزبائن هذا لا يتجاوز 2. أما القانون الاحتمالي للمتحوّل العشوائي X فهو كما يأتي:

k	0	1	2
$\mathbb{P}(X = k)$	0.1	0.5	0.4

يشترى كلُّ زبون إما البنزين أو المازوت. احتمال أن يشتري الزبون البنزين يساوي 0.4 واحتمال أن يشتري المازوت 0.6. إنَّ ما يشتريه الزبون مستقلّ عمّا يشتريه الزبائن الآخرون وعن عدد الزبائن. لنرمز بالرمز C_k إلى الحدث $(X = k)$ تسهيلاً للكتابة، ولنرمز بالرمز E إلى الحدث «في خمس دقائق يشتري زبونٌ، وزبون واحد فقط، البنزين». استعن بتمثيل شجري أو بأي أسلوب آخر في الإجابة عن الأسئلة الآتية:

- a ① احسب $\mathbb{P}(C_1 \cap E)$.
- b علّل لماذا $\mathbb{P}(E|C_2) = 0.48$ ، واستنتج $\mathbb{P}(C_2 \cap E)$.
- c استنتج مما سبق قيمة $\mathbb{P}(E)$.

② ليكن Y المتحول العشوائي الذي يعطي عدد الزبائن الذين يشتررون البنزين في خمس دقائق.

a. ما هي القيم التي يأخذها Y ؟

b. اكتب القانون الاحتمالي للمتحول العشوائي Y .

c. اكتب في جدول القانون الاحتمالي للزوج (X, Y) .

d. أياكون المتحولان العشوائيان X و Y مستقلين احتمالياً ؟

نشاط 4 التوازن الصبغي

نتأمل مورثة تحمل أليلين A و a . نقول إن نبتة متماثلة الألائل عندما تحتوي على الأليلين ذاتهما على زوجين من الصبغيات المتوافقة، فتكون صيغتها الوراثية عندئذ AA أو aa ، ونقول إن النبتة متخالفة الألائل عندما تكون صيغتها الوراثية Aa . تتكاثر بعض النباتات (الترمس مثلاً) بالإلقاح الذاتي، يحدث الأمر بالنسبة إلى الخلف وكأن الإلقاح جرى بين نبتتين من الصيغة الوراثية ذاتها حيث يجري اختيار الألائل عشوائياً. نهدف إلى دراسة خلف نبتة متخالفة الألائل بالإلقاح الذاتي.

① الجيل الأول

بالإلقاح الذاتي تُعطي نبتة من الصيغة AA نبتة من الصيغة ذاتها، وكذلك تعطي نبتة من الصيغة aa نبتة من الصيغة ذاتها.

اكتب احتمالات أن يكون الجيل الأول لنبتة صيغتها الوراثية Aa نبتة صيغتها الوراثية AA أو aa أو Aa .

② أجيال متلاحقة

نبدأ من نبتة متخالفة الألائل (من النمط Aa في الجيل 0)، ونكوّن أجيالاً لاحقة بالتكاثر الذاتي. سنستعمل الرموز الآتية:

▪ الحدث $(AA)_n$: «للنبتة في الجيل رقم n الصيغة الجينية AA ».

▪ الحدث $(Aa)_n$: «للنبتة في الجيل رقم n الصيغة الجينية Aa ».

▪ الحدث $(aa)_n$: «للنبتة في الجيل رقم n الصيغة الجينية aa ».

نُرمز لنرمز x_n و y_n و z_n إلى احتمالات الأحداث $(AA)_n$ و $(Aa)_n$ و $(aa)_n$ بالترتيب.

- ① ما قيمة كلٍّ من x_0 و y_0 و z_0 ؟
- ② احسب كلاً من x_1 و y_1 و z_1 .
- ③ اكتب قيمة كلٍّ من $\mathbb{P}((AA)_{n+1}|(AA)_n)$ و $\mathbb{P}((AA)_{n+1}|(Aa)_n)$ و $\mathbb{P}((Aa)_{n+1}|(Aa)_n)$. ثمَّ استعمل هذه النتائج لتثبت أنه مهما كانت قيمة n كان
- $$y_{n+1} = \frac{1}{2}y_n \text{ و } x_{n+1} = x_n + \frac{1}{4}y_n$$
- وأعطِ عبارة z_{n+1} .

③ دراسة المتتاليات $(x_n)_{n \geq 0}$ و $(y_n)_{n \geq 0}$ و $(z_n)_{n \geq 0}$

- ① احسب قيم x_n و y_n و z_n في حالة $0 \leq n \leq 10$ ، يمكن استعمال الآلة الحاسبة. ماذا يمكنك القول بشأن المتتاليات الثلاث ؟
- ② ما طبيعة المتتالية $(y_n)_{n \geq 0}$ ؟ عبّر عن y_n بدلالة n .
- ③ نعرّف $t_n = x_n + \frac{1}{2}y_n$ ، احسب t_{n+1} بدلالة t_n . ما طبيعة المتتالية $(t_n)_{n \geq 0}$ ؟ عبّر عن t_n بدلالة n . ثمَّ استنتج قيمة x_n بدلالة n .
- ④ احسب نهاية كلٍّ من المتتاليات $(x_n)_{n \geq 0}$ و $(y_n)_{n \geq 0}$ و $(z_n)_{n \geq 0}$.



تمرينات ومسابئلة



1 يحتوي صندوق على خمس كرات. ثلاث كرات سوداء اللون وتحمل الأرقام 1 و 2 و 3 وكرتان حمراوان تحملان الأرقام 1 و 2. نسحب عشوائياً وفي آن معاً كرتين من هذا الصندوق. يتكوّن فضاء العينة إذن من مجموعة المجموعات الجزئية المؤلفة من عنصرين والمأخوذة من بين خمسة عناصر.

① ما احتمال الحدث A : «للكرتين المسحوبتين اللون ذاته» ؟

② ما احتمال الحدث B : «مجموع رقمي الكرتين المسحوبتين يساوي 3» ؟

③ ما احتمال الحدث B علماً أنّ A قد وقع ؟

2 نلقي حجر نرد متوازن مرة واحدة، ونتأمل الحدث A : «العدد الظاهر زوجي» والحدث B : «العدد الظاهر أولي». أياكون هذان الحدثان مستقلين احتمالياً ؟

3 تتألف عائلة من أربعة أطفال. نقبل أنه عند كل ولادة احتمال ولادة طفل ذكر يساوي احتمال ولادة طفلة أنثى. ونفترض أن الولادات المتتالية هي أحداث مستقلة احتمالياً. نرمز A و B و C إلى الأحداث:

A : «للأطفال الأربعة الجنس نفسه»،

B : «هناك طفلان ذكران وطفلتان»،

C : «الطفل الثالث أنثى»،

① احسب احتمال وقوع كل من الأحداث A و B و C .

② احسب $\mathbb{P}(A \cap C)$ ثم $\mathbb{P}(C|A)$. أياكون الحدثان A و C مستقلين احتمالياً ؟

③ احسب $\mathbb{P}(B \cap C)$ ثم $\mathbb{P}(C|B)$. أياكون الحدثان B و C مستقلين احتمالياً ؟

4 يحتوي صندوق على أربع كرات زرقاء، وثلاث كرات خضراء وواحدة صفراء. نسحب عشوائياً وفي آن معاً ثلاث كرات من الصندوق. ليكن X المتحول العشوائي الذي يمثل عدد الألوان المختلفة بين الكرات المسحوبة.

① ما هي مجموعة القيم التي يأخذها X ؟

② احسب كلاً من $\mathbb{P}(X = 1)$ و $\mathbb{P}(X = 3)$.

③ استنتج قيمة $\mathbb{P}(X = 2)$.

④ احسب توقع X وانحرافه المعياري.



لنتعلم البحث معاً

5 احتمال مشروط

تبين دراسة إحصائية أجريت على جماعة من الرياضيين أنه أثناء فترة المسابقة يكون احتمال أن يعطي اختبار تعاطي المنشطات نتيجة إيجابية عند إخضاع أحد الرياضيين له مساوياً 0.02 . ويمكن لتناول بعض أدوية الرشح أن يؤثر في نتيجة الاختبار السابق. يتناول 25% من الرياضيين في الجماعة أدوية الرشح في الشتاء. وبين هؤلاء يكون احتمال أن يعطي اختبار تعاطي المنشطات نتيجة إيجابية مساوياً 0.05 . ليكن M الحدث: «الرياضي يستعمل دواء الرشح»، وليكن D الحدث: «نتيجة اختبار تعاطي المنشطات إيجابية». يجري اختيار أحد الرياضيين من الجماعة عشوائياً احسب احتمال كل من الحدثين:

- «الرياضي يستعمل دواء الرشح ونتيجة اختبار تعاطيه المنشطات إيجابية»،
- «الرياضي يعطي عند اختبار تعاطيه المنشطات نتيجة إيجابية علماً أنه لا يستعمل دواء الرشح».

نحو الحل

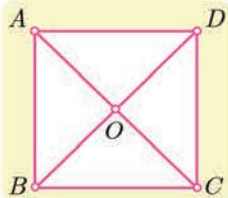
لنبدأ بترجمة معطيات المسألة وأسئلتها إلى لغة الأحداث والاحتمالات. فضاء العينة هو جماعة الرياضيين والأحداث البسيطة (اختيار أحد الرياضيين) متساوية الاحتمال. نصّ المسألة يعطي $P(D)$ و $P(M)$ فما هما؟ يعطي النصّ أيضاً الاحتمال المشروط $P(D|M)$ فما هو؟ أما الاحتمالان المطلوبان فهما $P(M \cap D)$ و $P(D|M')$.

نستطيع حساب $P(M \cap D)$ بسهولة لأننا نعرف كلاً من $P(D|M)$ و $P(M)$ ، لنفعل ذلك. لحساب $P(D|M')$ نرجع إلى التعريف.

① احسب $P(M' \cap D)$ انطلاقاً من $P(M \cap D)$ و $P(D)$.

② احسب $P(M')$ واستنتج المطلوب.

أنجز الحلّ واكتبه بلغة سليمة.



6 جوال عشوائي

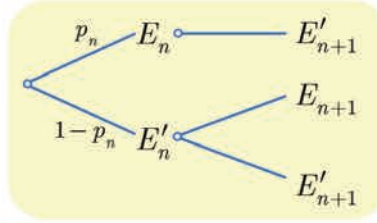
نتأمل مربعاً $ABCD$ مركزه O . تقفز جزيئة بأسلوب عشوائي من إحدى هذه النقاط الخمس إلى نقطة أخرى وفق القواعد الآتية :

- إذا كانت الجزيئة عند أحد رؤوس المربع فإنها تقفز إلى أحد الرأسين المجاورين أو إلى مركز المربع باحتمال يساوي $\frac{1}{3}$. (فمثلاً من A يمكنها أن تنتقل إلى B أو D أو O).
- وإذا كانت الجزيئة في O فإنها تقفز إلى أيّ من الرؤوس A ، B ، C ، D باحتمال يساوي $\frac{1}{4}$.

في البدء كانت الجزئية في A . في حالة $n \geq 1$ ، نرمز بالرمز E_n إلى الحدث: «الجزئية في O بعد القفزة رقم n »، وليكن $p_n = \mathbb{P}(E_n)$ ، (إذن $p_1 = \frac{1}{3}$). يطلب إيجاد علاقة تفيد في حساب p_{n+1} انطلاقاً من p_n ، ثم حساب p_n بدلالة n .

نحو الحل

الاحتمال p_{n+1} هو احتمال أن تقفز الجزئية إلى O في القفزة رقم $n+1$. أوجد صلة بين الحدثين E_n و E_{n+1} ؟ إذا كانت الجزئية في O بعد القفزة رقم n فهل يمكنها أن تقفز إلى O بعد القفزة رقم $n+1$ ؟



إذن وقوع E_{n+1} مشروط بعدم وقوع الحدث E_n ، (أي بوقوع E'_n)، إذن يمكننا إنشاء التمثيل الشجري المبين جانباً:

- ① علّل الاحتمالات المكتوبة.
- ② لماذا لا يوجد لإفرع واحد بعد E_n ؟
- ③ ما الاحتمال الذي يجب كتابته على الفرع $E'_n \rightarrow E_{n+1}$ ؟
- ④ أثبت أن $p_{n+1} = \frac{1}{3}(1 - p_n)$.

ليكن α حل المعادلة $x = \frac{1}{3}(1 - x)$ ، نضع $t_n = p_n - \alpha$. أثبت أن المتتالية $(t_n)_{n \geq 1}$ متتالية هندسية، عيّن أساسها وحدها الأول، ثم استنتج p_n بدلالة n واحسب $\lim_{n \rightarrow \infty} p_n$.

أنجز الحل واكتبه بلغة سليمة.

7 استعمال منحولين عشوائيين

يتطلب إنجاز مهمة مرحلتين A و B على التوالي. تستغرق المرحلة الأولى عدداً عشوائياً من الأيام X_A يُعطى قانونه الاحتمالي بالجدول الآتي:

x	1	2	3
$\mathbb{P}(X_A = x)$	0.2	0.5	0.3

وتستغرق المرحلة الثانية عدداً عشوائياً من الأيام X_B يُعطى قانونه الاحتمالي بالجدول الآتي:

x	1	2	3	4
$\mathbb{P}(X_B = x)$	0.2	0.3	0.4	0.1

المنحولان العشوائيان X_B و X_A مستقلان احتمالياً. نرمز بالرمز E إلى الحدث: «يستغرق إنجاز المهمة ثلاثة أيام أو أقل».

يستغرق إنجاز المهمة زمناً عشوائياً يساوي $X_A + X_B$. والمطلوب هو حساب احتمال الحدث

$$E = (X_A + X_B \leq 3)$$

① اكتب الحدث E بصيغة اجتماع أحداث منفصلة من النمط $(X_A = p) \cap (X_B = q)$

② بيّن كيف يفيد الاستقلال الاحتمالي في حساب احتمال كل من الأحداث السابقة.

③ استنتج احتمال الحدث E .

أنجز الحل واكتبه بلغة سليمة.



قُدماً إلى الأمام

8

يضم ناد رياضي 80 سباحاً، و 95 لاعب قو، و 125 لاعب جمباز. يمارس كل رياضي لعبة

واحدة فقط.

① نطلب من ثلاثة لاعبين نختارهم عشوائياً ملء استبانة. احسب احتمال وقوع الحدثين الآتيين:

a. الحدث A : «يمارس اللاعبون الثلاثة ألعاب القو».

b. الحدث B : «يمارس اللاعبون الثلاثة الرياضة ذاتها».

② نسبة الفتيات بين الذين يمارسون السباحة تساوي 45% وبين الذين يمارسون ألعاب القو

20%، وهي تساوي 68% بين الذين يمارسون لعبة الجمباز.

a. نختار عشوائياً أحد أعضاء النادي. احسب p_1 : احتمال أن يكون فتاة تمارس إحدى ألعاب

القو. احسب أيضاً p_2 : احتمال أن يكون فتاة.

b. نختار عشوائياً فتاة من أعضاء النادي. احسب p_3 احتمال أن تكون لاعبة جمباز.

9

يحتوي صندوق على خمس كرات حمراء وخمس كرات خضراء. نسحب عشوائياً وفي آن معاً

ثلاث كرات. نتأمل المتحول العشوائي X الذي يأخذ القيمة 5 إذا كانت نتيجة السحب: ثلاث

كرات حمراء (الحدث R_3)، ويأخذ القيمة 3 إذا كانت نتيجة السحب: كرتان حمراوان وكرة

خضراء (الحدث R_2)، وأخيراً يأخذ القيمة 0 في بقية الحالات.

① احسب $\mathbb{P}(R_2)$ و $\mathbb{P}(R_3)$.

② عيّن القانون الاحتمالي للمتحوّل العشوائي X واحسب توقّعه الرياضي وتباينه.

10

لدينا صندوق يحتوي على كرتين حمراوين وثلاث كرات زرقاء. نكرّر عملية سحب عشوائي لكرة

من الصندوق دون إعادة حتّى لا يتبقى في الصندوق إلا كرات من اللون ذاته. ليكن X المتحوّل

العشوائي الذي يمثّل عدد مرّات السحب اللاّزمة. عيّن مجموعة القيم التي يأخذها X ، وعيّن قانون

X ، واحسب توقّعه الرياضي.

11

تُلقي حجري نرد متوازنين ونرمز بالرمز S إلى مجموع النقاط التي نحصل عليها. ليكن X المتحول العشوائي الذي يمثل باقي قسمة S على 2، وليكن Y المتحول العشوائي الذي يمثل باقي قسمة S على 4.

① عيّن القانون الاحتمالي للمتحول العشوائي S .

② عيّن القانونين الاحتماليين للمتحولين العشوائيين X و Y .

③ عيّن القانون الاحتمالي للزوج (X, Y) .

④ أياكون المتحولان العشوائيان X و Y مستقلين احتمالياً؟

12 طائرات ذات محركين وأخرى ذات أربعة محركات

يجري تزويد طائرات ذات محركين وطائرات ذات أربعة محركات بالنوع ذاته من المحركات. إن احتمال حدوث عطل في أحد هذه المحركات يساوي p وهو عدد موجب وأصغر تماماً من 1. نفترض أن الأعطال التي يمكن أن تصيب المحركات مستقلة عن بعضها. ليكن X المتحول العشوائي الذي يساوي عدد المحركات التي يصيبها عطل على طائرة ذات محركين، وليكن Y المتحول العشوائي الذي يساوي عدد المحركات التي يصيبها عطل على طائرة ذات أربعة محركات.

① عيّن القيم التي يأخذها X ، وقانونه الاحتمالي.

② عيّن القيم التي يأخذها Y ، وقانونه الاحتمالي.

③ يمكن لطائرة أن تتابع طيرانها إلى نقطة الوصول إذا كان نصف عدد محركاتها على الأقل غير معطل. احسب p_2 احتمال أن تتابع طائرة ثنائية المحرك طيرانها، واحسب p_4 احتمال أن تتابع طائرة رباعية المحرك طيرانها.

④ تحقق أن $p_2 - p_4 = p^2(1-p)(3p-1)$ ، وبين تبعاً لقيم p أي نوع من الطائرات يعطي وثوقية أكبر.

13 متتاليات واحتمالات

① ليكن a عدداً حقيقياً. نتأمل المتتالية $(u_n)_{n \geq 1}$ المعرفة بشرط البدء $u_1 = a$ والعلاقة

$$u_{n+1} = \frac{4}{10} - \frac{3}{10}u_n$$

a . لنكن $(v_n)_{n \geq 1}$ المتتالية المعرفة بالصيغة $v_n = 13u_n - 4$. أثبت أن $(v_n)_{n \geq 1}$ متتالية

هندسية، وعيّن أساسها، ثم عبّر عن v_n بدلالة n .

b . استنتج صيغة u_n بدلالة n و a . ثم احسب $\lim_{n \rightarrow \infty} u_n$.

② غالباً ما ينسى مدرّس الرياضيات مفتاح غرفة الصّف. أياً كان العدد n ، ($n \geq 1$)، نرّمز بالرمز E_n إلى الحدث: «نسي المدرّس مفتاح غرفة الصّف في اليوم n ». لنضع

$$q_n = \mathbb{P}(E'_n) \text{ و } p_n = \mathbb{P}(E_n)$$

نفترض أنّه إذا نسي المدرس المفتاح في اليوم n ، فإنّ احتمال أن ينساه في اليوم التالي يساوي $\frac{1}{10}$ ، وإذا لم ينس المدرّس المفتاح في اليوم n ، فإنّ احتمال أن ينساه في اليوم التالي يساوي $\frac{4}{10}$.

$$a. \text{ أثبت أنّه في حالة } n \geq 1 \text{ لدينا } p_{n+1} = \frac{1}{10} p_n + \frac{4}{10} q_n$$

b. استنتج صيغة p_{n+1} بدلالة p_n ، ثمّ استفد من ① لتحسب p_n بدلالة n و p_1 . أتعلق نهاية المتتالية $(p_n)_{n \geq 1}$ بقيمة p_1 ؟

14 تُكرّر عشر مرّات تجربة إلقاء قطعتي نقود متوازنتين، ونسجل في كلّ مرّة الوجهين الظاهريين. احسب احتمال كل من الحدثين A : «الحصول ثلاث مرّات على وجهين H و B : «الحصول على وجهين H مرّة على الأقل».

15 نتأمّل حجر نرد متوازن فيه أربعة وجوه ملوّنة بالأسود، ووجهان ملوّنان بالأحمر. نلقي هذا الحجر خمس مرّات على التوالي.

① ما احتمال أن يظهر وجه أحمر مرّة على الأقل عند آخر إلقاء لحجر النرد؟

② ما احتمال أن يظهر وجه أحمر أوّل مرّة على الأقل؟

③ ما قانون المتحوّل العشوائي X الذي يعدّ عدد الوجوه السوداء اللون التي نحصل عليها؟

16 نتأمّل صندوقاً يحتوي على ثلاث كرات سوداء وأربع كرات حمراء. نسحب عشوائياً كرة من الصندوق نسجّل لونها ونعيدها إلى الصندوق ثمّ نضاعف عدد الكرات من لونها في الصندوق. وبعدئذ نسحب مجدداً كرة من الصندوق. لنرمز بالرمز R_2 إلى الحدث: «الكرة المسحوبة في المرّة الثانية حمراء اللون»، وليكن R_1 الحدث: «الكرة المسحوبة في المرّة الأولى حمراء اللون».

① أعط تمثيلاً شجرياً للتجربة.

② احسب احتمال الحدث R_2 .

③ إذا كانت الكرة المسحوبة في المرّة الثانية حمراء اللون فما احتمال أن تكون الكرة المسحوبة في المرّة الأولى سوداء اللون؟

التجربة الأولى. نتأمل صندوقاً يحتوي على كرتين سوداوين وأربع كرات حمراء. نسحب عشوائياً من

الصندوق ثلاث كرات في آن معاً. ليكن Y عدد الكرات الحمراء المسحوبة.

- ① ما هي مجموعة القيم التي يأخذها Y ؟
- ② احسب القانون الاحتمالي للمتحوّل العشوائي Y .
- ③ احسب التوقع الرياضي للمتحوّل العشوائي Y وتباينه.

التجربة الثانية. نتأمل صندوقاً يحتوي على كرتين سوداوين وأربع كرات حمراء. نسحب عشوائياً كرة

من الصندوق نسجّل لونها ونعيدها إلى الصندوق ثم نضاعف عدد الكرات من لونها في الصندوق. وبعدها نسحب من الصندوق ثلاث كرات في آن معاً. ليكن X عدد الكرات الحمراء المسحوبة في المرة الثانية. نرمز بالرمز R_1 إلى الحدث: «الكرة المسحوبة في المرة الأولى حمراء اللون».

- ① ما هي مجموعة القيم التي يأخذها X ؟
- ② احسب القانون الاحتمالي للمتحوّل العشوائي X .
- ③ احسب التوقع الرياضي للمتحوّل العشوائي X وتباينه.



تحاول سعاد إدخال الود في حلقات تلقّيتها، تُكرّر سعاد التجربة عدداً من

المرات. عندما تنجح سعاد في إدخال حلقة يصبح احتمال نجاحها في إدخال الحلقة اللاحقة $\frac{1}{3}$ ، وعندما تفشل في إدخال حلقة يصبح احتمال

فشلها في إدخال الحلقة اللاحقة $\frac{4}{5}$. نفترض أنّ احتمال نجاح سعاد في إدخال الحلقة في المرة

الأولى يساوي احتمال فشلها. نتأمل، أيّاً كان العدد الطبيعي الموجب تماماً n ، الحدثين الآتيين:

A_n : «نجحت سعاد في إدخال الحلقة عند الرمية n ».

B_n : «فشلت سعاد في إدخال الحلقة عند الرمية n ».

ونعرّف $p_n = \mathbb{P}(A_n)$.

① عيّن p_1 وبرهن أنّ $p_2 = \frac{4}{15}$.

② أثبت أنه أيّاً كانت $n \geq 2$ كان $p_n = \frac{2}{15}p_{n-1} + \frac{1}{5}$.

③ نعرّف في حالة $n \geq 1$ المقدار u_n بالعلاقة $u_n = p_n - \frac{3}{13}$ أثبت أنّ المتتالية $(u_n)_{n \geq 1}$

متتالية هندسيّة وعيّن حدّها الأول u_1 وأساسها q .

④ استنتج قيمة u_n ثمّ p_n بدلالة n ، ثمّ احسب $\lim_{n \rightarrow \infty} p_n$.

اختبارات عامّة

اختبار 1

(30 درجة لكل سؤال)

أولاً أجب عن الأسئلة الآتية:

السؤال الأول. احسب كلاً مما يأتي :

$$\int_0^{\ln 2} e^x (1 - e^x)^3 dx \quad \textcircled{2}$$

$$\lim_{x \rightarrow +\infty} \left(x \ln \left(1 + \frac{1}{x} \right) \right) \quad \textcircled{1}$$

السؤال الثاني. حلّ في \mathbb{R} المعادلة : $9^x - 3^{x+1} + 2 = 0$.

السؤال الثالث. $ABCD$ رباعي وجوه، مركز ثقله G ، I منتصف $[AD]$ ، J منتصف $[BC]$. أثبت أنّ النقاط I و J و G تقع على استقامة واحدة .

السؤال الرابع. في معلم متجانس $(O; \vec{i}, \vec{j}, \vec{k})$ لدينا النقطة $A(2, -1, 0)$ ، والمستوي \mathcal{P} الذي معادلته $2x + y - 2z + 9 = 0$ ، اكتب معادلة الكرة التي مركزها A ، وتمس المستوي \mathcal{P} .

(70 درجة لكل تمرين)

ثانياً حلّ التمرينات الآتية:

التمرين الأول. أثبت أنّ $\ln x \leq x - 1$ ، أيّاً يكن $x > 0$. باختيار $x = e^{1/3}$ و $x = e^{-1/3}$ ، احصر e .

التمرين الثاني. أثبت أنّ المتتالية $(u_n)_{n \geq 0}$ المعرفة تدريجياً بالعلاقات: $u_0 = 0$ و $u_{n+1} = \sqrt{1 + u_n^2}$ متزايدة تماماً.

التمرين الثالث. احسب قيمة r إذا علمت أنّ $\frac{1}{\binom{4}{r}} = \frac{1}{\binom{5}{r}} + \frac{1}{\binom{6}{r}}$.

التمرين الرابع. حل في \mathbb{C} المعادلة: $z^2 - (1 + 2i)z + 3 + 3i = 0$.

(100 درجة لكل مسألة)

ثالثاً حلّ المسألتين الآتيتين:

المسألة الأولى. ليكن C الخط البياني للتابع f المعرّف على $]0, +\infty[$ وفق

$$f(x) = 2x - 1 + \ln \left(\frac{x}{1+x} \right)$$

1. أثبت أنّ المستقيم $\Delta: y = 2x - 1$ مقارب للخط C ، وادرس الوضع النسبي لـ C و Δ .

2. ادرس التابع f ، وعين المقارب الشاقولي لـ C ، وارسم كل مقارب وجدته، ثمّ ارسم C .

3. أثبت أنّ المعادلة $f(x) = 0$ تقبل حلاً وحيداً α ، واحصره في مجال طوله 0.5.

المسألة الثانية. يحوي صندوق 6 بطاقات مرقمة بالأرقام 1, 2, 3, 4, 5, 6، نسحب منه عشوائياً بطاقتين

على التتالي دون إعادة، ليكن X المتحوّل العشوائي الذي يدل على أصغر رقمي البطاقتين المسحوبتين.

1. عيّن مجموعة قيم المتحوّل العشوائي X ، واكتب جدول قانونه الإحتمالي.

2. احسب التوقع الرياضي $\mathbb{E}(X)$ ، والتباين $\mathbb{V}(X)$.

اختبار 2

(30 درجة لكل سؤال)

أولاً أجب عن الأسئلة الآتية:

السؤال الأول. ليكن (C) الخط البياني للتابع f المعرف على $]0, +\infty[$ وفق:

$$f(x) = \frac{x^3 + 4 - 4 \cos x}{x^2}$$

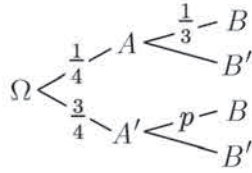
1 أوجد $\lim_{x \rightarrow 0^+} f(x)$.

2 أثبت أن المستقيم $\Delta: y = x$ مقارب للخط (C) .

السؤال الثاني. نعرف المتتالية $(u_n)_{n \geq 0}$ كما يأتي: $u_0 = 1$, $u_{n+1} = \sqrt{12 + u_n}$.

1 أثبت أن $0 \leq u_n \leq 4$ أي أن العدد الطبيعي n .

2 أثبت أن المتتالية $(u_n)_{n \geq 0}$ متزايدة.



السؤال الثالث. ليكن A و B حدثين مرتبطين بتجربة عشوائية معروضة

بالمخطط الشجري المجاور. كيف نختار قيمة p حتى يكون الحدثان

A و B مستقلين احتمالياً؟

السؤال الرابع. نتأمل في الفضاء المنسوب إلى معلم متجانس $(O; \vec{i}, \vec{j}, \vec{k})$, النقاط $A(1, 5, 4)$,

و $B(10, 4, 3)$ و $C(4, 3, 5)$ و $D(0, 4, 5)$.

1 بين أن النقاط A و B و C ليست على استقامة واحدة.

2 بين أن النقاط A و B و C و D تقع في مستوٍ واحد.

3 استنتج أن النقطة D هي مركز الأبعاد المتناسبة للنقاط المثقلة (A, α) و (B, β) و (C, γ)

حيث α و β و γ أعداد حقيقية يطلب تعيينها.

(70 درجة لكل تمرين)

ثانياً حلّ التمرينات الآتية:

التمرين الأول. أوجد نهاية التابع f المعين بالعلاقة $f(x) = \frac{3x + 4}{x + 1}$ عند $+\infty$, ثم أعط عدداً حقيقياً

α يحقق الشرط: إذا كان $x > \alpha$ كان $f(x) \in]2.9, 3.1[$.

التمرين الثاني. أثبت أنه أيّاً كانت x من $] -1, +\infty[$ كان $\frac{x}{1+x} \leq \ln(x+1)$

التمرين الثالث.

1 حلّ في مجموعة الأعداد العقدية \mathbb{C} المعادلة ذات المجهول z التالية:

$$z^2 - 2(1 - \sqrt{3})z + 8 = 0 \quad (\text{لاحظ أن: } (1 + \sqrt{3})^2 = 4 + 2\sqrt{3})$$

② في المستوي المنسوب إلى معلم متجانس $(O; \vec{i}, \vec{j})$ لتكن النقطتان A و B الممثلتان بالعددين

العقديين $z_A = (\sqrt{3} + 1) + (\sqrt{3} - 1)i$ و $z_B = \overline{z_A}$ بين أن $\frac{z_A}{z_B} = e^{\frac{\pi}{6}i}$ واستنتج زاوية العدد

العقدي z_A ثم استنتج $\cos \frac{\pi}{12}$ و $\sin \frac{\pi}{12}$.

التمرين الرابع. نريد تأليف لجنة مكونة من (مديرو نائب مدير و أمين سر) من مجموعة تضم خمسة أشخاص. بكم طريقة يمكن اختيار هذه اللجنة علماً بأن في المجموعة شخصين متخصصين لا يجتمعان في اللجنة ذاتها.

ثالثاً حل المسألتين الآتيتين: (100 درجة لكل مسألة)

المسألة الأولى. ليكن (C) الخط البياني للتابع f المعرف على \mathbb{R} وفق $f(x) = (x + 1)^2 \cdot e^{-x}$

① ادرس تغيرات التابع f ونظم جدولاً بها، واستنتج المقارب الموازي لمحور الفواصل وادرس وضع (C) بالنسبة إليه.

② ارسم كل مقارب وجدته، ثم ارسم (C) .

③ بين أن للمعادلة $f(x) = 2$ حلّ وحيد α وأن هذه الحل ينتمي إلى المجال $[-2, -1]$ واستنتج

أن $\alpha = -1 - \sqrt{2}e^{\frac{\alpha}{2}}$ تحقق المعادلة

④ احسب مساحة السطح المحصور بين (C) ومحور الفواصل والمستقيمين $x = 0$ و $x = 1$.

⑤ استنتج مجموعة تعريف التابع $g(x) = \ln(f(x))$ ثم حلّ المعادلة $g(x) = -x$.

المسألة الثانية. لدينا n صندوقاً u_1, u_2, \dots, u_n حيث u_1 يحوي ثلاث كرات زرقاء وكرة واحدة حمراء. وكلّ

صندوق من الصناديق الباقية يحوي كرتين زرقاوين وكرة واحدة حمراء. نسحب كرة من الصندوق

u_1 ثم نضعها في الصندوق u_2 ثم نسحب كرة من الصندوق u_2 ونضعها في الصندوق u_3

وهكذا...، نسحب كرة من الصندوق u_{n-1} ونضعها في الصندوق u_n .

يرمز R_k إلى الحدث (الكرة المسحوبة من الصندوق u_k حمراء).

1. احسب $\mathbb{P}(R_1)$.

2. أثبت أن $\mathbb{P}(R_2) = \frac{1}{4}\mathbb{P}(R_1) + \frac{1}{4}$.

3. أثبت أن $\mathbb{P}(R_k) = \frac{1}{4}\mathbb{P}(R_{k-1}) + \frac{1}{4}$ في حالة $2 \leq k \leq n$.

4. نعرّف $x_k = \mathbb{P}(R_k) - \frac{1}{3}$.

① أثبت أن المتتالية $(x_k)_{k \geq 1}$ هندسية. عيّن أساسها وحدّها الأول.

② اكتب x_k بدلالة k واستنتج $\mathbb{P}(R_k)$ بدلالة k .

اختبار 3

(30 درجة لكل سؤال)

أولاً أجب عن الأسئلة الآتية:

السؤال الأول. أثبت أن للمعادلة $x^3 + x + 1 = 0$ حلاً وحيداً α في \mathbb{R} ثم بين أن $\alpha \in]-1, 0[$.

السؤال الثاني. حل المعادلة التفاضلية $2y' + y = 1$ ، ثم عيّن حلّها f الذي يحقق $f(-1) = 2$.

السؤال الثالث. ليكن التابع f المعرّف بالصيغة $f(x) = \sqrt{x^2 + 2x + 3} - |x|$. احسب النهايتين:

$$\lim_{x \rightarrow +\infty} f(x) \quad \text{①} \quad \lim_{x \rightarrow -\infty} f(x) \quad \text{②}$$

السؤال الرابع. يحوي صندوق ثلاث كرات سوداء وخمس كرات بيضاء، عند سحب كرة سوداء يخسر اللاعب نقطة واحدة، وعند سحب كرة بيضاء ينال نقطتين. يسحب اللاعب كرتين على التوالي دون إعادة. ما احتمال أن يحصل اللاعب نقطة واحدة فقط؟

(70 درجة لكل تمرين)

ثانياً حلّ التمرينات الآتية:

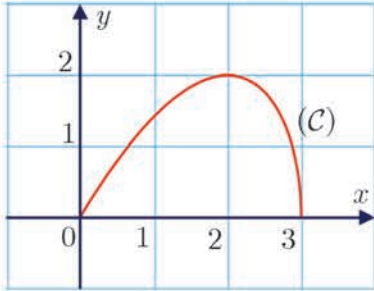
التمرين الأول. لتكن المتالتين $(u_n)_{n \geq 1}$ و $(v_n)_{n \geq 1}$ المعرّفتان كما يأتي

$$v_n = u_n + \frac{1}{4n} \quad \text{و} \quad u_n = \frac{1}{n+1} + \frac{1}{n+2} + \dots + \frac{1}{2n}$$

أثبت أن هاتين المتالتين متجاورتان.

التمرين الثاني. في الشكل المجاور (C) هو الخطّ البياني للتابع f المعرف على المجال $[0, 3]$

بالصيغة: $f(x) = x\sqrt{3-x}$. عندما يدور (C) دورة كاملة حول محور الفواصل يوّد مجسماً دورانياً S .



① ما طبيعة مقطع هذا المجسم بمستوي عمودي على محور

الفواصل ويمرّ بالنقطة $I(x, 0)$ في حالة $x \in]0, 3[$ ؟

② عيّن $A(x)$ ، مساحة هذا المقطع بدلالة x ، ثم استنتج V

حجم المجسم S .

التمرين الثالث. في المستوي المنسوب إلى معلم متجانس $(O; \vec{i}, \vec{j})$ ، لدينا النقاط A و B و C التي

$$z_C = 3\sqrt{3} + i \quad \text{و} \quad z_B = \sqrt{3} - i \quad \text{و} \quad z_A = \sqrt{3} + i$$

① اكتب العدد العقدي $\frac{z_C - z_A}{z_B - z_A}$ بالشكل الجبري ثم بالشكل الأسّي واستنتج طبيعة المثلث ABC .

② عيّن (\mathcal{E}) مجموعة النقاط $M \neq B$ التي تجعل $\frac{z_M - z_C}{z_M - z_B}$ تخيلياً بحتاً.

③ عيّن (\mathcal{F}) مجموعة النقاط $M \neq B$ التي تجعل $\frac{z_M - z_C}{z_M - z_B}$ حقيقياً.

التمرين الرابع. في الفضاء المنسوب إلى معلم متجانس $(O, \vec{i}, \vec{j}, \vec{k})$ لدينا النقاط $A(1, 0, -1)$ و $B(2, 2, 3)$ و $C(3, 1, -2)$ و $D(-4, 2, 1)$.

- ① أثبت أن المثلث ABC قائم واحسب مساحته.
 - ② أثبت أن الشعاع $\vec{n}(2, -3, 1)$ ناظم على المستوى (ABC) واستنتج معادلة المستوى (ABC) .
 - ③ احسب بُعد النقطة D عن المستوى (ABC) ثم احسب حجم رباعي الوجوه $DABC$.
- ثالثاً حلّ المسألتين الآتيتين:

(100 درجة لكل مسألة)

المسألة الأولى. ليكن (C) الخطّ البياني للتابع f المعرّف على $]0, e[\cup]e, +\infty[$ وفق

$$f(x) = \frac{1}{x(1 - \ln x)}$$

- ① ادرس تغيرات التابع f ونظّم جدولاً بها واستنتج ما للخط (C) من مقاربات موازية للمحورين الإحداثيين. وعيّن قيمته الحدية مبيناً نوعها.
- ② ارسم ما وجدته من مستقيمات مقارنة ثم ارسم (C) .
- ③ احسب مساحة السطح المحصور بين (C) ومحور الفواصل والمستقيمين $x = \frac{1}{e}$ و $x = \frac{1}{e^2}$.

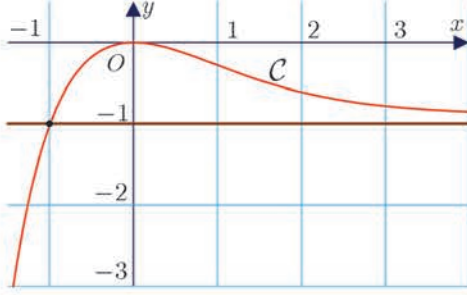
المسألة الثانية. يواجه حارس مرمى عدداً من ضربات الجزاء. إذا صدّ ضربة الجزاء n فإنّ احتمال أن يصدّ ضربة الجزاء $n + 1$ يساوي 0.8، وإذا لم يصدّ ضربة الجزاء n فإنّ احتمال أن يصدّ ضربة الجزاء $n + 1$ يساوي 0.6. نفترض أنّ احتمال أن يصدّ أول ضربة جزاء يساوي 0.7. ليكن A_n الحدث « يصدّ حارس المرمى ضربة الجزاء n ».

1. احسب $\mathbb{P}(A_2|A_1)$ و $\mathbb{P}(A_2|A_1')$.
 2. استنتج أنّ $\mathbb{P}(A_2) = 0.74$.
 3. نعرّف $p_n = \mathbb{P}(A_n)$:
- ① برهن أنّ $p_{n+1} = (0.2)p_n + 0.6$
 - ② لنعرّف المتتالية $(u_n)_{n \geq 1}$ بالصيغة $u_n = p_n - 0.75$ بيّن أنّ $(u_n)_{n \geq 1}$ متتالية هندسيّة أساسها 0.2. استنتج عبارة p_n بدلالة n ثم احسب $\lim_{n \rightarrow +\infty} p_n$.

اختبار 4

أولاً أجب عن الأسئلة الآتية:

(40 درجة لكل سؤال)



السؤال الأول. في الشكل المجاور خط بياني C لدالة f ، ومن خلال قراءة بيانية للشكل أجب عن الأسئلة التالية:

① ما معادلة المستقيم المقارب للخط C ؟ وما الوضع

النسبي للخط C مع هذا المقارب؟

② يقبل f قيمة حدية محلياً. عيّن نوعها.

③ في حالة عدد حقيقي k ، عيّن بدلالة k عدد حلول

المعادلة k .

السؤال الثاني. لتكن المجموعة $S = \{2, 3, 5, 6, 7, 9\}$.

① ما عدد الأعداد المكوّنة من ثلاث خانوات مختلفة متنى متنى وأرقامها مأخوذة من S ؟

② ما عدد الأعداد المؤلفة من ثلاث خانوات مختلفة وأرقامها مأخوذة من S وكل عدد منها من

مضاعفات العدد 5 وأصغر من 500؟

السؤال الثالث. في لمعلم متجانس $(O, \vec{i}, \vec{j}, \vec{k})$ لدينا النقاط $A(3, -2, 2)$ و $B(6, 1, 5)$ و $C(6, -2, -1)$

و $D(0, 4, -1)$. بيّن مع التعليل صحّة أو خطأ كل من المقولات الآتية:

① المثلث ABC قائم

② المستقيم (AD) عمودي على المستوي (ABC) .

③ حجم رباعي الوجوه $DABC$ يساوي $V = 81$.

(70 درجة لكل تمرين)

ثانياً حل التمرينات الآتية:

التمرين الأول. ليكن التابع f المعرّف على \mathbb{R} وفق $f(x) = x \cdot e^{-x}$ والمطلوب:

① احسب $\int_0^{\ln 3} f(x) dx$

② أثبت أنّ التابع $y = f(x)$ هو حل للمعادلة التفاضلية $y' + y = e^{-x}$.

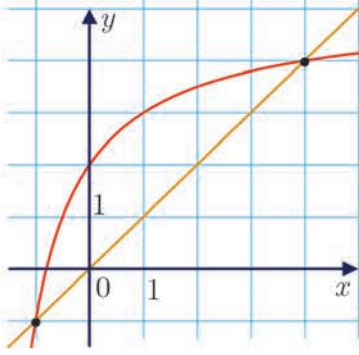
التمرين الثاني. المستقيمان L و L' معرّفان وسيطياً وفق

$$L' : \begin{cases} x = 4 - 5s \\ y = 3 - 2s \\ z = -1 + 2s \end{cases} : s \in \mathbb{R} \quad \text{و} \quad L : \begin{cases} x = -1 \\ y = 1 - t \\ z = 1 - 2t \end{cases} : t \in \mathbb{R}$$

① أثبت أنّ L و L' متقاطعان في نقطة يطلب تعيين إحداثياتها.

② أوجد معادلة المستوي المحدد بالمستقيمين L و L'

التمرين الثالث.



نعرف المتتالية $(u_n)_{n \geq 0}$ كما يأتي $u_0 = \frac{1}{2}$ و $u_{n+1} = \frac{5u_n + 4}{u_n + 2}$

❶ باستعمال الرسم، مثل على محور الفواصل ودون حساب الحدود

• u_0, u_1, u_2, u_3

❷ ضع تخميناً حول اطراد المتتالية $(u_n)_{n \geq 0}$ وتقاربها.

❸ نعرف المتتالية $(v_n)_{n \geq 0}$ بالعلاقة $v_n = \frac{u_n - 4}{u_n + 1}$

1. بين أن $(v_n)_{n \geq 0}$ متتالية هندسية، وعين أساسها وحدها الأول.

2. اكتب عبارة v_n بدلالة n ثم استنتج عبارة u_n بدلالة n ، وعين نهاية المتتالية u_n .

التمرين الرابع. نتأمل النقاط A و B و C و D الممثلة للأعداد العقدية: $a = -1$ و $b = 2 + i\sqrt{3}$

و $c = 2 - i\sqrt{3}$ و $d = 3$ بالترتيب. والمطلوب :

❶ ارسم النقاط A و B و C و D ، ثم احسب AB و BC و AC واستنتج طبيعة المثلث ABC .

❷ عين $\arg \frac{a-c}{d-c}$ واستنتج طبيعة المثلث DAC .

❸ أثبت أن D هو مركز الأبعاد المتناسبة للنقاط $(A, -1)$ و $(B, 2)$ و $(C, 2)$.

ثالثاً حل المسألتين الآتيتين: (100 درجة لكل مسألة)

المسألة الأولى. أولاً : ليكن C_f الخط البياني للتابع f المعرف على $]0, +\infty[$ وفق :

$$f(x) = x(\ln x)^2$$

❶ أثبت $f(x) = 4(\sqrt{x} \ln \sqrt{x})^2$

❷ ادرس تغيرات التابع f ونظم جدولاً بها.

ثانياً : ليكن C_g الخط البياني للتابع g المعرف على $]0, +\infty[$ وفق : $g(x) = -2x \ln x$. أثبت أنه

عند $x > 0$ يكون $f(x) - g(x) = xf'(x)$ واستنتج الوضع النسبي للخطين C_f و C_g .

ثالثاً : ليكن x_0 من $]0, +\infty[$.

❶ بين أن معادلة المماس T للمنحني C_f في النقطة التي فاصلتها x_0 هي $y = xf'(x_0) + g(x_0)$

❷ ادرس تقاطع المماس T مع محور الترتيب، ثم استنتج طريقة لإنشاء المماس للمنحني C_f عند

النقطة التي فاصلتها x_0 .

المسألة الثانية. نتأمل صندوقين. يحتوي الصندوق الأول على (3) كرات مرقمة بالأعداد 1 , 2 , 3 ، ويحتوي الصندوق الثاني (4) كرات مرقمة بالأعداد 2 , 3 , 4 , 5 . نسحب عشوائياً كرة من الصندوق الأول ثم نسحب كرة من الصندوق الثاني والمطلوب:

- ① اكتب فضاء العينة المرتبط بهذا الاختبار .
- ② ليكن A الحدث «إحدى الكرتين المسحوبتين على الأقل تحمل رقم (3)»
وليكن B الحدث «مجموع رقمي الكرتين المسحوبتين أكبر تماماً من (5)»
هل الحدثان A و B مستقلان احتمالياً؟ علل إجابتك.
- ③ نعرف متحولاً عشوائياً X يدل على مجموع رقمي الكرتين المسحوبتين. اكتب مجموعة قيم X واكتب جدول قانونه الاحتمالي ثم احسب توقعه الرياضي وتباينه.

* * * * *

انتهى الكتاب

مسرد المصطلحات العلمية

الانكليزية	العربية
Conditional probability	الاحتمال المشروط
Independent events	أحداث مستقلة احتمالياً
Polar coordinates	إحداثيات قطبية
Height	ارتفاع (مئث)
Complex numbers	أعداد عقدية (مركبة)
Binomial coefficients	أمثال ذي الحدين
Standard deviation	الانحراف المعياري
Translation	انسحاب
Variance	التباين
Permutation	تبديل (على مجموعة)
Derangement	تبديل تام (تخالفي)
Random experiment	تجربة عشوائية
Bernoulli random experiment	تجربة عشوائية برنولية
Dilation-Homothety	تحاكي
Combinatorics	تحليل توافق
Arrangement	ترتيب (على مجموعة)
Similarity	تشابه
Covariance	التغاير
Frequency	تكرار
Parametric representation	تمثيل وسيطي
Axial symmetry	تناظر محوري
Central symmetry	تناظر مركزي
Combinations	التوافيق
Expectation	التوقع الرياضي
Scalar product	الجداء السلمي
Imaginary part	الجزء التخيلي
Real part	الجزء الحقيقي
System of linear equations	جملة معادلات خطية
Sine	جيب

الانكليزية	العربية
Cosine	جيب التمام (تجيب)
Event	حدث
Simple event	حدث بسيط
Circle	دائرة
Rotation	دوران
Tetrahedron (regular)	رباعي الوجوه (المنتظم)
Argument (of a complex number)	زاوية (عدد عقدي)
Acute angle	زاوية حادة
Right angle	زاوية قائمة
Obtuse angle	زاوية منفرجة
Oriented angle	زاوية موجهة
Vector	شعاع
Collinear vectors	شعاعان مرتبطان خطياً
Exponential form	الشكل الأسّي لعدد عقدي
Trigonometric form	الشكل المثلثاتي لعدد عقدي
Module (of a complex number)	طويلة (عدد عقدي)
Factorial	عاملي
Affix of a point or a vector in the plane	عدد عقدي ممثل لنقطة أو شعاع في المستوي
Sample space	فضاء العينة
Probability law	قانون احتمال
Measure	قياس (زاوية)
Principal measure	قياس أساسي (زاوي)
Sphere	كرة
Random variable	متحول (متغير) عشوائي
Binomial random variable	متحول عشوائي حداني
Independent random variables	متحوّلات عشوائية مستقلة احتماليّاً
Equilateral triangle	متساوي الأضلاع (مثلث)
Isosceles triangle	متساوي الساقين (مثلث)
Orthogonal	متعامدان (مستقيمان، مستويان، مستقيم ومستو)
Concurrent	منقاطعان (مستقيمان، مستويان، مستقيم ومستو)
Concurrent	متلاقية (مستقيمات)

الانكليزية	العربية
Parallelogram	متوازي الأضلاع
Parallelepiped	متوازي السطوح
Parallel	متوازيان (مستقيمان، مستويان، مستقيم ومستو)
Median	متوسط (مثلث)
Mean value	المتوسط الحسابي
Triangle	مثلث
Axis of symmetry	محور تناظر
Cone	مخروط
Conjugate (of a complex number)	مرافق (عدد عقدي)
Square	مربع
Barycenter	مركز الأبعاد المتناسبة
Centroid-Center of gravity	مركز الثقل
Center of symmetry	مركز تناظر
Area	مساحة
Line	مستقيم
Plane	مستو
Orthogonal projection	مسقط قائم
Coordinate system	معلم
Cube	مكعب
Midpoint	منتصف (قطعة مستقيمة)
Biased, unbiased	منحاز، غير منحاز
Ratio	نسبة (التحاكي)
Symmetric	نظيرة (نقطة)
Norm	نظيم، طول (شعاع)
Weighted points	نقاط مُثَقَّلة
Orthocenter	نقطة تلاقي الارتفاعات